

Материалы
 для подготовки к тестированию по истории 7 класс М-5 (профильный уровень)
 по теме «Западная Европа и Россия во второй половине XVI-XVII веках».

Тема	Содержание
«Под рукой» российского государя: вхождение Украины в состав России.	Западнорусские земли в составе Речи Посполитой. Восстание Богдана Хмельницкого. Переяславская рада. Вхождение Украины в состав России.
Русская православная церковь в XVII веке. Реформа патриарха Никона и Раскол.	Церковь после Смуты. Реформа патриарха Никона. Церковный собор 1666-1667 годов. Протопоп Аввакум. Старообрядческое движение.
Русские путешественники и первопроходцы XVII века.	Первые походы в Сибирь. С.Дежнев. Походы на Дальний Восток. Освоение Сибири.
Золотой век Испании. Война за независимость Нидерландов. Расцвет и упадок Голландской республики.	Политическое устройство Испании. Особенности социально-экономического развития. Держава Филиппа II и упадок Испании. Предпосылки войны за независимость в Нидерландах. Война за независимость. Образование Соединенных провинций Нидерландов. Голландская республика в первой половине XVII века.
Англия под властью Тюдоров.	Англия при первых Тюдорах. Внутренняя и внешняя политика королевы Елизаветы.
Франция в эпоху Ренессанса и гугенотских войн.	Франция в XVI веке. Франциск I. Предпосылки гугенотских войн. Гугенотские войны. Правление Генриха IV.
Франция во времена кардиналов и «короля солнце».	Франция при Ришелье. Мазарини и Фронда. Государство Людовика XIV.
Международные отношения во второй половине XVI-XVII веков.	Международные отношения в конце XVI века. Тридцатилетняя война. Англо-голландские войны. Войны Людовика XIV. Крест против полумесяца
Культурная жизнь России в XVI веке.	Особенности развития культуры России в XVI веке. Начало книгопечатания. Публицистика. Светская литература. Архитектура и изобразительное искусство.
Культура России в XVII веке.	Влияние европейской культуры на русскую. Образование и научные знания. Литература. Архитектура и живопись. Театр.

Понятия: Публицистика, шатровый стиль, регалии, эпос, старообрядчество, Раскол, протопоп, парсуна, коч, гезы, гугеноты, джентри, рантье, революция.

Персоналии: Б. Хмельницкий, И.Мазепа, патриарх Никон, протопоп Аввакум, С.Дежнев, В.Поярков, Е.Хабаров, И.Федоров, А.Чохов, С.Ушаков, С.Полоцкий, Филипп II, герцог Альба, Елизавета I, Карл I, О.Кромвель, кардинал Ришелье, Людовик XIV.

Даты: 1564г, 1648г, 1649-1653гг, 1653г, 1654г, 1562-1594гг, 1566-1609гг, 1572г, 1588г, 1618-1648гг, 1649г, 1653г, 1683г, 1688-1689гг.

Материал для подготовки:

1. Лекции.

2. В.В.Носков, Т.П.Андреевская Всеобщая история 7 класс Москва «Вентана-Граф» 2014 г.

3. **История России 7 класс.** Под редакцией А.В.Торкунова Москва «Просвещение», 2017г. Часть 2.

Банк заданий

Задание №1

Гетманом Войска Запорожского после смерти Богдана Хмельницкого был избран

Выберите один из 4 вариантов ответа:

1)	Андрей Хмельницкий
2)	Иван Выговский
3)	Иван Милославский
4)	Иван Хованский

Задание №2

И.М. Брюховецкий- это

Выберите один из 4 вариантов ответа:

1)	московский дворянин, представитель древнего московского рода
2)	гетман Правобережной Украины
3)	гетман Левобережной Украины
4)	польский чиновник, который провел перепись населения в Речи Посполитой.

Задание №3

Первые сведения о Японии в России были получены от казачьего атамана, путешественника

Выберите один из 4 вариантов ответа:

1)	Василия Пояркова
2)	Курбата Иванова
3)	Андрея Курбского
4)	Владимира Атласова

Задание №4

Кто возглавил армию повстанцев в войне Нидерландов с Испанией

Выберите один из 4 вариантов ответа:

1)	герцог Альба
2)	Филипп II
3)	Вильгельм Оранский
4)	Карл V

Задание №5

Командующий испанской армией, посланный в Нидерланды для подавления мятежа и получивший права диктатора

Выберите один из 4 вариантов ответа:

1)	Филипп II
2)	Вильгельм Оранский
3)	Карл V
4)	Герцог Альба

Задание №6

"Королем-Солнцем" называли

Выберите один из 4 вариантов ответа:

1)	английского короля Карла I
2)	французского короля Генриха IV
3)	шведского короля Карла XII
4)	французского короля Людовика XIV

Задание №7

В Англии окончательно протестантская церковь была провозглашена государственной в период правления:

Выберите один из 4 вариантов ответа:

1)	Филиппа II
2)	Марии Стюарт
3)	Елизаветы I Тюдор
4)	Генриха VIII Тюдора

Задание №8

В ходе религиозных войн во Франции на трон вступила новая королевская династия

Выберите один из 4 вариантов ответа:

1)	Валуа
2)	Бурбонов
3)	Тюдоров
4)	Капетингов

Задание №9

Укажите народное выступление, ставшее одним из самых крупных восстаний, вызванных церковными реформами

Выберите один из 4 вариантов ответа:

1)	восстание под руководством С.Разина
2)	восстание в Соловецком монастыре
3)	восстание под руководством Хлопка
4)	Медный бунт

Задание №10

Протопоп Аввакум был автором произведения

Выберите один из 4 вариантов ответа:

1)	"Житие"
2)	"Суд над Никоном"
3)	"Шемякин суд"
4)	"Путешествие по Сибири"

Задание №11

К церковной реформе, проведенной в 1653-1654 годах относится

Выберите один из 4 вариантов ответа:

1)	введение богослужения на латинском языке
2)	исправление икон и церковных книг по греческому образцу
3)	отмена почитания икон в церквях
4)	исправление книг по древнерусским образцам

Задание №12

Массовое движение протеста против реформ Никона принимало такие формы, как

Выберите один из 4 вариантов ответа:

1)	мирные протесты
2)	обращение к народу
3)	написание воззваний к папе римскому
4)	самосожжения и голодные смерти

Задание №13

Какие идеи отстаивали монахи в ходе восстания в Соловецком монастыре в 1668-1676 годах?

Выберите один из 4 вариантов ответа:

1)	отмена обета послушания в монастыре
2)	выступление за старую веру
3)	введение права монахов покидать монастырь по собственному желанию
4)	отказ от монастырского землевладения

Задание №14

Назовите географический объект, названный именем первопроходца, путешественника, казачьего атамана Семена Дежнева

Выберите один из 4 вариантов ответа:

1)	пролив между Африкой и Аравийским полуостровом
2)	пролив между Северной и Южной Америками
3)	мыс, крайняя северо-восточная оконечность Азии
4)	пролив между Азией и Северной Америкой

Задание №15

В XVI веке правители Англии активно стремились завоевать

Выберите один из 4 вариантов ответа:

1)		Нидерланды
2)		Ирландию
3)		Нормандию
4)		Индию

Задание №16

Огораживания земель проводились в XVI веке

Выберите один из 4 вариантов ответа:

1)		во Франции
2)		в Южной Италии
3)		в Нидерландах
4)		в Англии

Задание №17

В 1566 году в Нидерландах вспыхнуло народное восстание, направленное против:

Выберите один из 4 вариантов ответа:

1)		французского короля и протестантской церкви
2)		испанского короля и католической церкви
3)		английского короля и пуритан
4)		Венецианского дожа и католиков

Задание №18

В XVI веке Нидерланды находились под властью

Выберите один из 4 вариантов ответа:

1)		Испании
2)		Франции
3)		Англии
4)		России

Задание №19

Какое событие вошло в историю под названием " Варфоломеевская ночь " ?

Выберите один из 4 вариантов ответа:

1)		переход вождя Генриха Наваррского в католицизм
2)		расправа над участниками восстания Жаке́рия
3)		массовое убийство гугенотов в Париже и других городах
4)		казнь пуританских проповедников в Лондоне

Задание №20

Как называется сочинение Ерофея Хабарова, составленное по итогам его путешествий ?

Выберите один из 4 вариантов ответа:

1)	" Полная карта Сибири"
2)	"Обзор картографических сведений Азии"
3)	" Чертеж реки Амуру"
4)	" Путешествие к далеким берегам"

Задание №21

Основание какого населенного пункта связано с экспедицией под руководством Семена Дежнева

Выберите один из 4 вариантов ответа:

1)	Анадырский острог
2)	город Мурманск
3)	город Сургут
4)	Мангазея

Задание №22

Самой густонаселенной страной Европы в Новое время была

Выберите один из 4 вариантов ответа:

1)	Англия
2)	Германия
3)	Франция
4)	Нидерланды

Задание №23

Какие религиозные позиции отстаивал протопоп Аввакум в своих проповедях?

Выберите один из 4 вариантов ответа:

1)	необходимость прощения всех еретиков и противников его взглядов
2)	следование церковным уставам и постановлениям Стоглавого собора
3)	обращение к книгам и сочинениям папы римского
4)	взятие за образец греческих книг и канонов

Задание №24

Огромный флот, известный под названием "непобедимая армада", принадлежал

Выберите один из 4 вариантов ответа:

1)	Португалии
2)	Франции
3)	Испании
4)	Англии

Задание №25

За успехи в борьбе за господство на морях Англию стали называть:

Выберите один из 4 вариантов ответа:

1)	Новым светом
2)	"владычицей морей"
3)	"оплотом католицизма"
4)	"империей, где никогда не заходит солнце"

Задание №26

Война, получившая название Тридцатилетней, велась между

Выберите один из 4 вариантов ответа:

1)	Англией и Испанией
2)	Швецией и северными странами Европы
3)	Англией и Францией из-за колоний в Индии
4)	странами Европы, объединенными в две коалиции

Задание №27

Основы новых отношений между государствами Европы были заложены

Выберите один из 4 вариантов ответа:

1)	Аугсбургским религиозным миром
2)	Вестфальским миром
3)	Нантским эдиктом
4)	Биллем о правах

Задание №28

Что из перечисленного входило в церковную реформу

Выберите один из 4 вариантов ответа:

1)	введение троеперстного крестного знамения
2)	введение двоеперстного крестного знамения
3)	ведение богослужения на латинском языке
4)	отказ от почитания икон

Задание №29

Как называлась государственная структура, созданная в Москве для управления территориями Левобережной Украины

Выберите один из 4 вариантов ответа:

1)	коллегия Украины
2)	совет гетманов
3)	Малороссийский приказ
4)	Московская рада

Задание №30

Как называлось привилегированное сословие- землевладельцы, дворяне- в Речи Посполитой

Выберите один из 4 вариантов ответа:

1)	казаки
2)	рядовые
3)	шляхта
4)	голытьба

Задание №31

Противники реформы Никона, сторонники протопопа Аввакума- это

Выберите один из 4 вариантов ответа:

1)	антиниконианцы
2)	аввакумцы
3)	старообрядцы
4)	протестанты

Задание №32

Многие города в Сибири были основаны переселенцами: чернососными крестьянами, ремесленниками, вольными поселенцами. Как называлась категория населения, которых в Сибирь специально отправляло правительство для покорения этой территории?

Выберите один из 4 вариантов ответа:

1)	дьяки и подьячие
2)	казаки и воеводы
3)	владельческие крестьяне
4)	посессионные рабочие

Задание №33

Последователи протестантизма во Франции назывались

Выберите один из 4 вариантов ответа:

1)	пуританами
2)	храмовниками
3)	гуситами
4)	гугенотами

Задание №34

Соглашение, достигнутое на основе взаимных уступок:

Выберите один из 4 вариантов ответа:

1)	протестантизм
2)	компромисс
3)	гарант
4)	эдикт

Задание №35

Договор об объединении государств- это.....

Запишите ответ:

1)

Ответ:

Задание №36

Нищие нидерландские дворяне- это.....

Запишите ответ:

1)

Ответ:

Задание №37

Из какого документа приведен отрывок?

Чтобы не дать никакого повода к смутам и распрям среди наших подданных, мы позволили и позволяем исповедующим так называемую реформированную религию жить и обитать во всех городах и местах нашего королевства.... без преследований, притеснений и принуждений делать что-либо в деле религии противное их совести.

Выберите один из 4 вариантов ответа:

1)

из Аугсбургского религиозного мира

2)

из воззвания Мартина Лютера

3)

из устава ордена иезуитов

4)

из Нантского эдикта

Задание №38

Кто является автором документа, из которого приведен отрывок?

Все политики согласны в том, что ежели народ буде пребывать в достатке, то станет невозможно держать его в правилах его обязанностей.....

Его можно сравнить с мулом, привычным к поклаже. От продолжительного отдыха он портится больше, чем от работы. Но работа эта должна быть соразмерна силе этого животного. Также следует поступать и с народом....

Выберите один из 4 вариантов ответа:

1)

Томас Мюнцер

2)

Джон Локк

3)

Томас Мор

4)

Ришелье

Задание №39

Особенно тяжелое положение украинского крестьянства в первой половине XVII века заключалось в том, что

1)

крестьяне подвергались тройному гнету- феодальному, национальному и религиозному

2)

крестьяне должны были выбирать хозяев исключительно из украинских землевладельцев

3)

крестьяне работали на землях, которые принадлежали Османской империи

4)

польские и литовские магнаты использовали в устной речи украинский язык, но вся документация велась на польском языке

Задание №40

Особенность Брестской церковной унии 1596 года состояла в том, что

Выберите один из 4 вариантов ответа:

1)	на территории Украины сохранялось равноправие Православной и Католической церквей
2)	православные епископы Киевской митрополии признавали подчинение папе римскому
3)	богослужение на территории Украины велось на латинском языке
4)	Киевская митрополия отказалась от всех православных обрядов

Задание №41

Решение Земского собора принять в подданство российского государя Украину означало также намерение

Выберите один из 4 вариантов ответа:

1)	вести войну против Речи Посполитой
2)	предоставить украинским крестьянам земли в Центральной России
3)	заключить дружественный союз с Османской империей
4)	продолжить участие в Тридцатилетней войне

Задание №42

Условием договора казаков с Алексеем Михайловичем и решения Переяславской Рады было (-а-)

Выберите один из 4 вариантов ответа:

1)	сохранение права гетмана Украины вступать в дипломатические отношения с другими государствами, кроме определенных стран
2)	вхождение всей территории Украины в состав России
3)	переселение польских крестьян с территории Украины
4)	отмена гетманства на Украине

Задание №43

Почему положение реестровых казаков было более привилегированным, чем других категорий казачества?

Выберите один из 4 вариантов ответа:

1)	реестровые казаки получали жалованье за участие в военных действиях
2)	реестровые казаки участвовали в заседаниях парламента и имели право избирать короля
3)	реестровые казаки освобождались от участия в военных действиях
4)	реестровые казаки получали награды за родовитые фамилии

Задание №44

Гражданская война на территории Украины во второй половине XVII века привела к

Выберите один из 4 вариантов ответа:

1)		переходу всей Украины под покровительство Османской империи
2)		расколу Украины на части по линии Днепра
3)		договору о принятии решения гетманами и радой только единогласным голосованием
4)		переходу всей территории Украины под власть Речи Посполитой

Задание №45

Согласно Андрусовскому перемирию Правобережная Украина

Выберите один из 4 вариантов ответа:

1)		управлялась Россией и Речью Посполитой
2)		получала полную независимость
3)		оставалась под контролем Речи Посполитой
4)		передавалась под власть Османской империи

Задание №46

Причина начала революции в Нидерландах- преследования против

Выберите один из 4 вариантов ответа:

1)		мусульман
2)		католиков
3)		православных
4)		протестантов

Задание №47

Непобедимая армада была направлена в 1588 году

Выберите один из 4 вариантов ответа:

1)		испанцами для покорения Англии
2)		Римом для разгрома германских протестантских князей
3)		английской королевой Елизаветой I для набегов на испанские порты
4)		турками-османами для взятия Вены

Задание №48

В начале Нового времени Нидерланды отличались от других стран Европы тем, что

Выберите один из 4 вариантов ответа:

1)		в стране существовала абсолютная монархия
2)		отдельные провинции имели свои армии
3)		страна находилась в зависимости от власти английского короля
4)		провинции Нидерландов имели свои парламенты- Провинциальные штаты

Задание №49

Как сложилась судьба противника Никона протопопа Аввакума

Выберите один из 4 вариантов ответа:

1)	Аввакум был выслан из России
2)	Аввакум был казнен, его сожгли по царскому указу
3)	Аввакум заплатил огромный штраф и лишился своего состояния
4)	Аввакум был отправлен в отдаленный монастырь, где и закончил свои дни

Задание №50

Как поступил патриарх Никон после конфликта с царем Алексеем Михайловичем, когда государь перестал посещать богослужения и приглашать патриарха на государственные приемы?

Выберите один из 4 вариантов ответа:

1)	Никон захвати царский престол
2)	Никон отлучил Алексея Михайловича от власти
3)	Никон проклял государя
4)	Никон сложил полномочия патриарха и удалился в монастырь

Задание №51

Как решил судьбу Никона церковный собор 1666-1667 годов?

Выберите один из 4 вариантов ответа:

1)	собор принял реформы, предложенные Никоном, но осудил патриарха
2)	собор отверг реформы и осудил патриарха
3)	собор возвратил Никону патриарший престол
4)	собор канонизировал Никона как святого

Задание №52

Итогом Тридцатилетней войны стало

Выберите один из 4 вариантов ответа:

1)	утверждение католической церкви во всей Европе
2)	прекращение религиозных войн в Европе
3)	усиление власти династии Габсбургов
4)	объединение Германии

Задание №53

Установите соответствие между событиями и датами

Укажите соответствие для всех 4 вариантов ответа:

1)	Церковная реформа в России	1)	1668-1676 гг
2)	Поход В.Д.Пояркова с якутскими служилыми и "охочими людьми" на Амур	2)	1596 г
3)	Заключение Брестской унии	3)	1653-1655 гг
4)	Соловецкое восстание	4)	1643-1646 гг

Задание №54

Установите соответствие между событиями и датами			
Укажите соответствие для всех 4 вариантов ответа:			
1)		подписание Андрусовского перемирия	1) 1648 г
2)		поражение польских войск от казаков Богдана Хмельницкого под Желтыми водами	2) 1653 г
3)		Переяславская рада	3) 1654 г
4)		Земский собор, постановивший принять Украину в подданство России	4) 1667 г
Задание №55			
Установите соответствие между терминами и их значением. К каждой позиции первого столбца подберите соответствующую ей позицию из второго столбца.			
Укажите соответствие для всех 3 вариантов ответа:			
1)		парламент	1) протестантский проповедник, наставник общины
2)		регент	2) сословно-представительный орган
3)		пастор	3) чиновник, занимающийся сбором налогов
			4) временный правитель при несовершеннолетнем короле
Задание №56			
Установите соответствие между терминами и их значением. К каждой позиции первого столбца подберите соответствующую ей позицию из второго столбца.			
Укажите соответствие для всех 3 вариантов ответа:			
1)		штатгальтер	1) последователь одного из течений протестантизма
2)		регент	2) глава государства в Республике Соединенных провинций
3)		кальвинист	3) военачальник
			4) правитель государства при малолетнем монархе
Задание №57			
Установите соответствие между событиями и участниками этих событий: к каждой позиции первого столбца подберите соответствующую позицию из второго столбца.			
Укажите соответствие для всех 4 вариантов ответа:			
1)		церковный раскол	1) братья Лихуды
2)		создание Славяно-греко-латинской академии	2) Симеон Полоцкий
3)		созыв Переяславской рады	3) патриарх Филарет
4)		осада Симбирска	4) патриарх Никон
			5) Богдан Хмельницкий
			6) воевода Борятинский

Задание №58

Установите соответствие между событиями и участниками этих событий: к каждой позиции первого столбца подберите соответствующую позицию из второго столбца.

Укажите соответствие для всех 4 вариантов ответа:

1)		церковный раскол	1)	Б.Хмельницкий
2)		национально-освободительное движение на Украине	2)	П.Бекетов
3)		Чигиринские походы	3)	протопоп Аввакум
4)		основание Якутска	4)	Г.Ромодановский
			5)	братья Лихуды
			6)	патриарх Гермоген

Задание №59

Установите соответствие между русскими первооткрывателями XVII века и датами их открытий:

Укажите соответствие для всех 4 вариантов ответа:

1)		П.Бекетов	1)	1696-1697 гг
2)		И.Москвитин	2)	1628-1632 гг
3)		В.Поярков	3)	1639-1640 гг
4)		В.Атласов	4)	1643-1646 гг

Задание №60

Установите соответствие между русскими первооткрывателями XVII века и датами их открытий:

Укажите соответствие для всех 4 вариантов ответа:

1)		Е.Хабаров	1)	1639-1640 гг
2)		С.Дежнев	2)	1649-1651 гг
3)		И.Стадухин	3)	1649-1653 гг
4)		И.Москвитин	4)	1648 г

Задание №61

Соотнесите имя русского первопроходца и его деятельность.

Укажите соответствие для всех 4 вариантов ответа:

1)		С.Дежнев	1)	Исследование Сибири. Основание городов Чита, Нерчинск, Якутск.
2)		И.Стадухин	2)	Исследование Северной и Восточной Сибири. Участие в открытии Колымы. Первым из европейцев прошел весь Берингов пролив.
3)		В.Атласов	3)	Первооткрыватель реки Колыма. Исследование Чукотского полуострова. Первым зашел на север Камчатки.
4)		П.Бекетов	4)	Исследование Камчатки. Сбор подробных сведений о климате, животном и растительном мире Камчатки.

Задание №62

Соотнесите имя русского первопроходца и его деятельность.

Укажите соответствие для всех 4 вариантов ответа:

1)	Е.Хабаров	1)	Первым из европейцев вышел к Охотскому морю. Открытие и исследование побережья Охотского моря на протяжении 1300 км, Удской губы, Сахалинского залива, Амурского лимана, устья Амура и острова Сахалин.
2)	И.Москвитин	2)	Исследование Сибири. Основание городов Чита, Нерчинск, Якутск.
3)	В.Поярков	3)	Совершил поход по Амуру от впадения в него реки Урки до самых низовий. В результате его экспедиции приамурское коренное население приняло русское подданство.
4)	П.Бекетов	4)	Исследование Сибири и Дальнего Востока. Открытие реки Зeya и Зейской равнины. Сбор ценных сведений о природе и населении Приамурья.

Задание №63

Установите соответствие между событиями и датами, когда они произошли

Укажите соответствие для всех 4 вариантов ответа:

1)	1566-1609 годы	1)	Тридцатилетняя война в Европе
2)	1618-1648 годы	2)	Революция в Нидерландах
3)	1648-1654 годы	3)	Русско-польская война
4)	1654-1667 годы	4)	Национально-освободительное движение на Украине

Задание №64

Установите соответствие между событиями и датами, когда они произошли

Укажите соответствие для всех 4 вариантов ответа:

1)	1572 г	1)	Переяславская Рада
2)	1598 г	2)	Сокрушительное поражение османской армии под Веной
3)	1654 г	3)	Принятие Нантского эдикта
4)	1683 г	4)	"Варфоломеевская ночь"

Задание №65

Какие из названных мер испанских правителей вызывали недовольство населения Нидерландов? Назовите два верных положения.

Выберите несколько из 5 вариантов ответа:

1)		упразднение провинциальных и Генеральных штатов (парламентов)
2)		преследование сторонников протестантизма
3)		запреты на торговлю с Англией и испанскими колониями
4)		уравнение в правах католиков и протестантов
5)		начало огораживаний в Нидерландах

Задание №66

С какими двумя из названных правителей отождествляется расцвет абсолютизма в европейских странах?

Выберите несколько из 5 вариантов ответа:

1)		король Франции Генрих IV
2)		королева Англии Елизавета I
3)		король Франции Людовик XIV
4)		королева Испании Изабелла
5)		король Англии Яков I

Задание №67

К результатам Тридцатилетней войны относится

Выберите несколько из 5 вариантов ответа:

1)		усиление позиций Франции в Европе
2)		ослабление испанских и австрийских Габсбургов
3)		создание условий для объединения германских земель
4)		утрата Швецией ряда территорий на Балтике
5)		получение Россией Правобережной Украины

Задание №68

Какие два из названных событий относятся к религиозным войнам во Франции в XVI веке?

Выберите несколько из 5 вариантов ответа:

1)		поход Непобедимой армады
2)		подписание Аугсбургского мира
3)		Варфоломеевская ночь
4)		издание Генрихом IV Нантского эдикта
5)		деятельность Долгого парламента

Задание №69

Что из названного предусматривал изданный королем Франции Генрихом IV в 1598 году Нантский эдикт? Укажите два верных положения.

Выберите несколько из 5 вариантов ответа:

1)		сохранение за католицизмом роли государственной религии
2)		полное равноправие католиков и гугенотов
3)		свобода вероисповедания для гугенотов
4)		изгнание гугенотов из Франции
5)		секуляризация церковных земель католической церкви

Задание №70

Что послужило причинами церковного раскола? Выберите два правильных ответа.

Выберите несколько из 5 вариантов ответа:

1)		закрепощение крестьян
2)		проникновение в Россию протестанства из европейских стран
3)		исправление религиозных книг
4)		изменение церковных обрядов
5)		ослабление царской власти

Задание №71

Найдите в приведенном списке два имени, связанные с церковным расколом, и запишите цифры, под которыми они указаны.

Выберите несколько из 5 вариантов ответа:

1)		патриарх Иов
2)		патриарх Никон
3)		Сергий Радонежский
4)		протопоп Аввакум
5)		митрополит Филипп

Задание №72

Найдите в приведенном ниже списке два имени землепроходцев XVII века

Выберите несколько из 5 вариантов ответа:

1)		Е.Хабаров
2)		В.Беринг
3)		С.Дежнев
4)		А.Никитин
5)		Б.Хмельницкий

Задание №73

Расположите события в хронологической последовательности

Укажите порядок следования всех 6 вариантов ответа:

1)		Деятельность церковного собора, осудившего патриарха Никона
2)		Переяславская рада
3)		Битва под Пилявцами
4)		Проведение церковной реформы в России
5)		Экспедиция В.Д.Пояркова на Амур
6)		Заключение Андрусовского перемирия между Россией и Речью Посполитой

Задание №74

Расположите события в хронологической последовательности

Укажите порядок следования всех 6 вариантов ответа:

1)	Заклучение Нантского эдикта
2)	Гибель Непобедимой армады
3)	Варфоломеевская ночь во Франции
4)	Заклучение Утрехтской унии
5)	Смерть кардинала Ришелье
6)	Признание независимости Голландской республики

Задание №75

Рассмотрите схему и выполните задание.

Укажите век, когда была совершена первая русская экспедиция по маршруту, изображённому на схеме.

Ответ запишите цифрами в порядке возрастания без пробелов.



Запишите число:

1)

Ответ:

Задание №76

Рассмотрите схему и выполните задание

Укажите цифру, которой в схеме обозначена экспедиция под руководством Василия Пояркова в легенде.



Запишите число:

1)

Ответ:

Задание №77

Рассмотрите схему и выполните задание

Выберите три правильных утверждения из шести предложенных



Выберите несколько из 6 вариантов ответа:

1)	<input type="checkbox"/>	Изображенная экспедиция была совершена в XV веке
2)	<input type="checkbox"/>	Руководителем этой экспедиции был С.И.Дежнев
3)	<input type="checkbox"/>	Это маршрут экспедиции В.И.Беринга
4)	<input type="checkbox"/>	Изображенная экспедиция была совершена в XVII веке
5)	<input type="checkbox"/>	В результате этой экспедиции был основан Магадан
6)	<input type="checkbox"/>	Благодаря этой экспедиции на карте появился Анадырский острог

Задание №78

Рассмотрите схему и выполните задание

Выберите три правильных утверждения из шести предложенных



Выберите несколько из 6 вариантов ответа:

1)	На карте обозначен маршрут экспедиции П.Бекетова
2)	Фамилией русского землепроходца, чей маршрут обозначен на карте, назван город в России
3)	Представленная экспедиция была совершена в XVII веке
4)	Землепроходец, возглавивший этот поход, раздобыл первые сведения о Японии
5)	На карте представлен маршрут похода Ермака Тимофеевича
6)	Землепроходец, чей маршрут обозначен на карте, участвовал в столкновении с маньчжурами

Задание №79

Укажите человека, изображенного на картинке



Выберите один из 4 вариантов ответа:

1)		патриарх Филарет
2)		патриарх Никон
3)		протопоп Аввакум
4)		патриарх Игнатий

Задание №80

Выберите человека, изображенного на картинке



Выберите один из 4 вариантов ответа:

1)		Лжедмитрий II
2)		Б.Хмельницкий
3)		Василий Шуйский
4)		И.Выговский

Задание №81

Рассмотрите изображение и выполните задание

Напишите фамилию человека, которого вы видите на картинке

Ответ запишите со строчной буквы.



Запишите ответ:

1)

Ответ:

Задание №82

Рассмотрите изображение и выполните задание

Назовите имя человека, изображенного на картинке

Ответ запишите со строчной буквы.




Запишите ответ:

1)

Ответ:

Задание №83

Укажите изображения, на которых представлены объекты, построенные в том же веке, когда произошло событие, которому посвящена марка. Ответ запишите цифрами в порядке возрастания.



Запишите число:


1)

Ответ:

Задание №84

Укажите изображения, на которых представлены объекты, построенные в том же веке, когда произошло изображенное событие. *Ответ запишите цифрами в порядке возрастания.*





Запишите число:

1)

Ответ:

Задание №85

Укажите два события, которые произошли во время правления изображенного царя.
Ответ запишите цифрами в порядке возрастания без пробелов.



Запишите число:

1)

Ответ:

Задание №86


Укажите два события, которые произошли во время правления изображенного царя.
Ответ запишите цифрами в порядке возрастания без пробелов.



1



2



3



4

Запишите число:

1)

Ответ:

Задание №87

Рассмотрите изображение и выполните задание.

Отметьте три утверждения, относящиеся к этой картинке



Выберите несколько из 6 вариантов ответа:

1)	Это изображение памятника В.Д.Пояркову
2)	Он разгромил тысячный отряд, напавших на него маньчжур
3)	Этот первопроходец собрал первые сведения о Японии
4)	Он положил начало заселению русскими людьми территории по реке Амур
5)	Этот человек возглавил поход, благодаря которому впервые русские вышли к побережью Тихого океана
6)	Это изображение памятника Е.П.Хабарову

Задание №88

Рассмотрите картину и выберите три утверждения, относящиеся к ней.



Выберите несколько из 6 вариантов ответа:

1)	Автором этой картины является В.И. Суриков
2)	Здесь представлены события Смутного времени
3)	Эта картина имеет название " Боярыня Морозова"
4)	Итогом события, изображенного на картине, стала русско- польская война 1654-1667 годов
5)	Это событие относится к церковному расколу середины XVII века
6)	Женщина, изображенная на картине, готовилась к покушению на царя

Задание №89

Письменное задание №1, проверяется и оценивается учителем в 2 балла.

Для продолжения тестирования наберите 1.

Запишите число:

1)	Ответ:	
----	--------	--

Задание №90

Письменное задание №2, проверяется и оценивается учителем в 3 балла.

Для продолжения тестирования наберите 1.

Запишите число:

1)	Ответ:	
----	--------	--

Задания части С.

Задание №1.

Прочитайте текст и ответьте на вопросы.

Русский промышленник и предприниматель, торговал пушниной в Мангазее, потом перебрался в верховья Лены, где с 1632 занимался скупкой пушнины. В 1639 открыл на реке Кут соляные источники и построил варницу, а затем способствовал развитию там земледелия. В 1649-53 годах с отрядом охотчих людей совершил поход по Амуру от впадения в него реки Урки до самых низовий. В результате его экспедиции приамурское коренное население приняло русское подданство. Часто действовал силой, чем оставил по себе худую славу у коренного населения. Хабаров составил "Чертеж по реке Амуру". Именем этого первопроходца названы город и железнодорожная станция на Дальнем Востоке названы.

1. Назовите первопроходца, о котором идет речь в тексте?

2. Применяя материал текста и знания, полученные на уроке, напишите какие действия, предпринятые этим человеком, явились следствием заселения Приамурья русскими людьми? (Укажите не менее двух фактов).

Критерии оценивания

Верно указан один любой элемент ответа 1

Верно указаны два любые элемента ответа 2

Верно указаны три элемента ответа 3

Ответ неверный 0

Максимальный балл 3

Задание №2.

Прочитайте отрывок текста и выполните задание.

В конце XVI в. началось освоение Сибири. Уже в 1639 г. землепроходцы вышли к Охотскому морю, а к концу XVII в. вся Сибирь (за исключением Камчатки и Чукотки) стала российским владением.

Назовите три условия, которые позволили немногочисленной российской администрации, казакам, купцам и крестьянам овладеть огромной территорией без долгих и кровопролитных войн.

Критерии оценивания

Верно указан один любой элемент ответа 1

Верно указаны два любые элемента ответа 2

Верно указаны три элемента ответа 3

Ответ неверный 0

Максимальный балл 3