

Материалы  
для подготовки к тесту по истории 7 класс М-3  
по теме «Россия и Европа в начале XVII в».  
профильный уровень

Тема	Содержание
Внешнеполитические связи России с Европой и Азией в кон. XVI- нач. XVII в.в.	Европа и Россия накануне Тридцатилетней войны, Россия и Речь Посполитая, взаимоотношения России, взаимоотношения России с Османской империей, Персией.
Переломный момент российской истории	Гибель царевича Дмитрия (версии случившегося), пресечение династии Рюриковичей, альтернативы развития России в начале XVII века.
Смута в Российском государстве.	Причины Смутного времени в России, Лжедмитрий I, боярский заговор, правление Василия Шуйского, восстание под предводительством И.И.Болотникова, Лжедмитрий II, польско-шведская интервенция, распад Тушинского правительства, Семибоярщина, первое ополчение, второе ополчение, освобождение Москвы от польских интервентов, воцарение династии Романовых.
Экономическое развитие России в I пол. XVII в.	Последствия Смуты, развитие сельского хозяйства, промышленности в XVII века, торговля, проведение денежной реформы в России, торговые взаимоотношения России с Европой.

**Понятия:**

Шляхта, смута, самозванство, интервенция, гражданская война, семибоярщина, специализация, мануфактура, всероссийский рынок

**Персоналии:**

Б. Годунов, Хлопко Косолап, Лжедмитрий I, Лжедмитрий II, В. Шуйский, И. Болотников, П. Ляпунов, К.Минин, Д. Пожарский, И. Сусанин, Филарет, М. Романов. . Д.Трубецкой, И.Заруцкий, М.Скопин- Шуйский

**Даты:** 1591г, 1598 г,1598-1605 гг,1603 г, 1605-1606 гг, 1606-1607 гг, 1606-1610 гг, 1611 г, 1611-1612 гг, 26 октября 1612 г, 1613 г, 1653 г, 1654 г, 1667 г.

Для того, чтобы получить допуск к тесту учащийся должен выполнить следующие виды работ:

- оформление лекционной тетради;
- работа с документом;
- картографический практикум (контурная карта);
- понятийный диктант;
- выступление на семинарском занятии;
- конспект для подготовки к семинарскому занятию.

Выполнение каждого вида работ подтверждается отметкой учителя в зачётном листе и допуском к итоговому тесту.

Семинарское занятие планируется в форме интеллектуальной игры «Брейн- ринг».

**Материал для подготовки:**

1. **История России 7 класс** Под редакцией А.В.Торкунова Москва «Просвещение», 2017г. Часть 2. §13-17
2. **В.Н.Козляков «Герои Смуты»**
3. **«Полководцы Ивана Грозного и Смутного времени» под ред. Н.А.Копылова**

#### Задание №1

Крымский хан Казы-Гирей вторгся в Россию и осадил Москву в

Выберите один из 4 вариантов ответа:

- |    |           |
|----|-----------|
| 1) | 1550 году |
| 2) | 1581 году |
| 3) | 1591 году |
| 4) | 1618 году |

#### Задание №2

Беспошлинная торговля между Россией и Персией была установлена в

Выберите один из 4 вариантов ответа:

- |    |           |
|----|-----------|
| 1) | 1590 году |
| 2) | 1594 году |
| 3) | 1605 году |
| 4) | 1606 году |

#### Задание №3

Отметьте даты правления Бориса Годунова

Выберите один из 4 вариантов ответа:

- |    |              |
|----|--------------|
| 1) | 1582-1585 гг |
| 2) | 1586-1600 гг |
| 3) | 1601-1606 гг |
| 4) | 1598-1606 гг |

#### Задание №4

Укажите даты правления Василия Шуйского

Выберите один из 4 вариантов ответа:

- |    |              |
|----|--------------|
| 1) | 1598-1605 гг |
| 2) | 1605-1606 гг |
| 3) | 1606-1610 гг |
| 4) | 1610-1624 гг |

#### Задание №5

Первое ополчение для изгнания польских интервентов было организовано	
Выберите один из 4 вариантов ответа:	
1)	в 1611 году
2)	в 1612 году
3)	в 1615 году
4)	в 1616 году

<b>Задание №6</b>	
Второе ополчение под руководством К.Минина и Д.Пожарского действовало с	
Выберите один из 4 вариантов ответа:	
1)	1609- 1610 год
2)	1611- 1612 год
3)	1612- 1613 год
4)	1616- 1618 год

<b>Задание №7</b>	
Михаил Романов был избран на русский престол в	
Выберите один из 4 вариантов ответа:	
1)	1612 году
2)	1613 году
3)	1614 году
4)	1618 году

<b>Задание №8</b>	
Москва полностью была освобождена от польских интервентов	
Выберите один из 4 вариантов ответа:	
1)	21 февраля 1610 года
2)	22 августа 1612 года
3)	4 ноября 1612 года
4)	1 января 1613 года

<b>Задание №9</b>	
Денежная реформа, призванная увеличить доходы царской казны была проведена в	
Выберите один из 4 вариантов ответа:	
1)	1605 году
2)	1612 году
3)	1634 году
4)	1654 году

### Задание №10

Новоторговый устав был принят в

Выберите один из 4 вариантов ответа:

1)	1612 году
2)	1634 году
3)	1654 году
4)	1667 году

### Задание №11

Смутным временем в России называют :

Выберите один из 4 вариантов ответа:

1)	конец XVI века
2)	конец XVI — начало XVII века
3)	начало XVII века
4)	первую половину XVII века

### Задание №12

Укажите даты Тридцатилетней войны в Европы

Выберите один из 4 вариантов ответа:

1)	1618-1648 гг
2)	1605-1635 гг
3)	1598-1628 гг
4)	1700-1730 гг

### Задание №13

Война между Османской империей и Священной Римской империей была с

Выберите один из 4 вариантов ответа:

1)	1593-1606 гг
2)	1597 -1600 гг
3)	1601-1613 гг
4)	1612-1615 гг

### Задание №14

Расположите события в хронологической последовательности

Укажите порядок следования всех 5 вариантов ответа:

1)	Семибоярщина
----	--------------

2)	Изгнание поляков с Кремля вторым ополчением
3)	Восстание под предводительством И.И. Болотникова
4)	Убийство Лжедмитрия II
5)	Избрание царем Михаила Романова

### Задание №15

Установите хронологическую последовательность событий

Укажите порядок следования всех 5 вариантов ответа:

1)	Пресечение династии Рюриковичей
2)	Смерть царевича Дмитрия в Угличе
3)	Первое ополчение
4)	Воцарение Василия Шуйского
5)	Восстание Хлопка Косолапа

### Задание №16

Ради заключения союза с этой страной Борис Годунов хотел породниться с представителями династии

Выберите один из 4 вариантов ответа:

1)	Дании
2)	Англии
3)	Швеции
4)	Испании

### Задание №17

Своей целью борьбу с реформацией в XVI веке провозгласила

Выберите один из 4 вариантов ответа:

1)	Голландия
2)	Англия
3)	Германия
4)	Испания

### Задание №18

Назовите служилое сословие, защищавшее южные рубежи Русского государства

Выберите один из 4 вариантов ответа:

1)	крестьяне
2)	холопы
3)	казаки
4)	шляхтичи

### Задание №19

Государство, захватившее территорию Византии и ставшее грозным соперником России на ее южных рубежах

Выберите один из 4 вариантов ответа:

1)	Османская империя
2)	Китайская империя
3)	Франция
4)	Германская империя

### Задание №20

Торговые пути, связывающие Россию с Персией проходили через

Выберите один из 4 вариантов ответа:

1)	Белое море
2)	реку Неву
3)	реку Одер
4)	Каспийское море

### Задание №21

Казачество, охранявшее южные русские земли собиралось в районе реки

Выберите один из 4 вариантов ответа:

1)	Нева
2)	Волга
3)	Дон
4)	Эльба

### Задание №22

Правитель Персии подарил Борису Годунову

Выберите один из 4 вариантов ответа:

1)	шапку Владимира Мономаха
2)	свитки из библиотеки Александра Македонского
3)	золотой трон
4)	четки

### Задание №23

Назовите города, которые были центром восстания Ивана Болотникова

Выберите один из 4 вариантов ответа:

1)	Казань, Астрахань
2)	Тула, Калуга
3)	Владивосток, Ялта

4)	Рязань, Нижний Новгород
----	-------------------------

#### Задание №24

Борис Годунов стал царем, потому что

Выберите один из 4 вариантов ответа:

1)	получил престол по наследству
2)	получил ярлык в Золотой Орде
3)	был избран на Земском соборе
4)	был назван в завещании Ивана IV как наследник престола

#### Задание №25

Иван Болотников, возглавивший восстание в 1606-1607 годах по социальному положению был

Выберите один из 4 вариантов ответа:

1)	дворянином
2)	военным холопом
3)	ремесленником
4)	монахом

#### Задание №26

Городом, который в течении 20 месяцев оборонялся от польских войск в 1609-1610 годах был

Выберите один из 4 вариантов ответа:

1)	Псков
2)	Новгород
3)	Смоленск
4)	Рига

#### Задание №27

Михаилу Романову в момент его избрания на престол было

Выберите один из 4 вариантов ответа:

1)	16 лет
2)	20 лет
3)	45 лет
4)	50 лет

#### Задание №28

Назовите династию промышленников-предпринимателей, которые основали первые мануфактуры в начале XVII века

Выберите один из 4 вариантов ответа:

1)	Плещеевы
2)	Филатовы
3)	Романовы
4)	Строгановы

#### Задание №29

Последним правителем из династии Рюриковичей был

Выберите один из 4 вариантов ответа:

1)	Иван Грозный
2)	царевич Дмитрий
3)	Федор Иоаннович
4)	Борис Годунов

#### Задание №30

Василий Шуйский в 1607 году, чтобы угодить высшим слоям российского общества, увеличил срок сыска беглых крестьян:

Выберите один из 4 вариантов ответа:

1)	до 12 месяцев
2)	до 5 лет
3)	до 10 лет
4)	до 15 лет

#### Задание №31

Кузьма Минин обратился к нижегородцам с призывом

Выберите один из 4 вариантов ответа:

1)	Признать польского королевича Владислава
2)	Восстановить на престоле Василия Шуйского
3)	Объявить царем Дмитрия Пожарского
4)	Начать сбор средств создания ополчения для обороны Москвы

#### Задание №32

Важнейшие хозяйственные районы по производству льна- это

Выберите один из 4 вариантов ответа:

1)	Псковские и Смоленские земли
2)	Прикаспийский район
3)	северные земли, район Архангельска
4)	Запорожская Сечь



### Задание №33

Городом, через который в XVII веке велась торговля с другими странами, был город-порт

Выберите один из 4 вариантов ответа:

1)	Санкт-Петербург
2)	Москва
3)	Архангельск
4)	Новгород

### Задание №34

Со странами Востока Россия вела торговлю через город

Выберите один из 4 вариантов ответа:

1)	Новгород
2)	Архангельск
3)	Астрахань
4)	Псков

### Задание №35

К районам пушного промысла относились

Выберите один из 4 вариантов ответа:

1)	северные районы страны
2)	земли Южного Поволжья
3)	Псковские и Смоленские земли
4)	территории вблизи побережья Азовского моря

### Задание №36

Название предприятия, основанного на разделении труда и применении ручной ремесленной техники, возникновение которого в России относится к XVII веку

Ответ запишите со строчной буквы в именительном падеже, единственном числе.

### Задание №37

Крупное земледельческое хозяйство, специализирующееся на выращивании каких-либо сельскохозяйственных культур- это

Ответ запишите со строчной буквы в именительном падеже, единственном числе.

### Задание №38

Начало XVII века вошло в историю России под названием

Ответ запишите со строчной буквы в именительном падеже без пробелов.

#### Задание №39

После свержения Василия Шуйского власть в стране оказалась в руках боярского правительства, называемого

Ответ запишите со строчной буквы в именительном падеже, единственном числе без пробелов.

#### Задание №40

Вооружённое вмешательство одного или нескольких государств в дела страны называется

*Ответ вводить строчными буквами в ед.ч., им. п.*

*Пример: монархия*

#### Задание №41

Вооруженная борьба за власть между различными группами и слоями населения внутри какой-либо страны называется

*Ответ вводить строчными буквами в ед.ч., им. п. без пробелов*

*Пример: смутное время*

#### Задание №42

К кому относятся слова историка В.О. Ключевского?

Он был только испечен в польской печке, а заквашен в Москве

Выберите один из 4 вариантов ответа:

- |    |                     |
|----|---------------------|
| 1) | к Борису Годунову   |
| 2) | к Василию Шуйскому  |
| 3) | к Лжедмитрию I      |
| 4) | к Федору Иоанновичу |

#### Задание №43

К кому относятся слова историка В.О. Ключевского?

На престоле московских государей он был небывалым явлением..... Он совершенно изменил чопорный порядок жизни старых московских государей и их тяжелое, угнетательное отношение к людям..... со всеми обращался просто, обходительно, не по- царски.....

Выберите один из 4 вариантов ответа:

1)	к Борису Годунову
2)	к Василию Шуйском
3)	к Лжедмитрию I
4)	к Федору Ивановичу

#### Задание №44

Прозвище " тушинский вор" было дано

Выберите один из 4 вариантов ответа:

1)	Борису Годунову
2)	Василию Шуйскому
3)	Лжедмитрию I
4)	Лжедмитрию II

#### Задание №45

Участником первого ополчения был

Выберите один из 4 вариантов ответа:

1)	К.Минин
2)	П.Ляпунов
3)	М.Скопин-Шуйский
4)	И.Сусанин

#### Задание №46

Участником второго ополчения был

Выберите один из 4 вариантов ответа:

1)	П.Ляпунов
2)	К.Минин
3)	М.Скопин-Шуйский
4)	И.Сусанин

#### Задание №47

Правитель Крымского ханства, вторгшийся в русские земли в 1591 году и разбитый под Москвой

Выберите один из 4 вариантов ответа:

1)	Девлет-Гирей
2)	Казы-Гирей
3)	хан Батый
4)	Чингисхан

#### Задание №48

Русским правителем России рубежа XVI-XVII веков, при котором заметно усилилась дипломатическая активность государства был

Выберите один из 4 вариантов ответа:

1)	Василий Шуйский
2)	Борис Годунов
3)	Василий III
4)	Михаил Романов

#### Задание №49

Самозванец Григорий Отрепьев выдавал себя за

Выберите один из 4 вариантов ответа:

1)	царевича Дмитрия
2)	Ивана IV
3)	польского королевича Владислава
4)	Бориса Годунова

#### Задание №50

Отказался признать царем самозванца Григория Отрепьева

Выберите один из 4 вариантов ответа:

1)	патриарх Иов
2)	патриарх Никон
3)	государь Федор Иоаннович
4)	царь Борис Годунов

#### Задание №51

Настоящее имя самозванца Лжедмитрия I

Выберите один из 4 вариантов ответа:

1)	Федор Годунов
2)	Иван Федоров
3)	Петр Мстиславец
4)	Григорий Отрепьев

#### Задание №52

Народный герой, который завел поляков в непроходимые болота, сам погиб, но и истребил отряд врагов

Выберите один из 4 вариантов ответа:

1)	Андрей Курбский
2)	Иван Сусанин
3)	Иван Болотников

4)	Денис Давыдов
----	---------------

#### Задание №53

Второе ополчение, возникшее в Нижнем Новгороде возглавил

Выберите один из 4 вариантов ответа:

1)	В.И.Шуйский
2)	Д.М.Пожарский
3)	А.В.Черкасский
4)	М.И.Романов

#### Задание №54

Избранный на престол Михаил Романов приходился сыном

Выберите один из 4 вариантов ответа:

1)	Ивану Грозному
2)	патриарху Филарету
3)	патриарху Гермогену
4)	Борису Годунову

#### Задание №55

Правительство, которое вошло в историю под названием Семибоярщина возглавил

Выберите один из 4 вариантов ответа:

1)	Ф.И.Мстиславский
2)	Н.И.Оболенский
3)	Д.И.Давыдов
4)	В.И.Шуйский

#### Задание №56

В народе "тушинскими перелетами" называли

Выберите один из 4 вариантов ответа:

1)	почтовое сообщение между Москвой и селом Тушино
2)	продвижение войск под предводительством И.Болотникова
3)	первые полеты воздушного шара в России
4)	переходы бояр из одного лагеря к другому за более высокими наградами и чинами

#### Задание №57

Война, в которой соотечественники воюют друг против друга, называется

Выберите один из 4 вариантов ответа:

1)	Отечественная
----	---------------

2)	освободительная
3)	затяжная
4)	гражданская

#### Задание №58

Слово в русском языке, означающее раздор, беспорядок, возмущение умов называется

Выберите один из 4 вариантов ответа:

1)	распря
2)	смута
3)	ссора
4)	восстание

#### Задание №59

О каком историческом деятеле рассказывает автор "Нового Летописца"?

«В то же время приела \_\_\_\_\_ к Москве ко князю Василью Васильевичу Голицыну да к брату своему Захарью и ко всем своим советником Олешку Пешкова, чтоб царя Василья з государства ссадить. Той же Захарей да Федор Хомутов на Лобно место выехаша и з своими советники завопиша на Лобном месте, чтоб отставить царя Василья»

Выберите один из 4 вариантов ответа:

1)	Ф.Мстиславский
2)	К.Минин
3)	П.Ляпунов
4)	И.Заруцкий

#### Задание №60

О ком идёт речь в книге В.Н.Козлякова "Герои Смуты".

" Рязанский строптивец не сразу разорвал с Боярской думой; более того, он еще долго (даже во времена организации земского ополчения) показывал, что готов служить королевичу Владиславу. Для начала он в ультимативной форме требовал от Боярской думы подтвердить, что договор о королевиче будет выполняться. Иначе он отказывался «на Резани» кормить московских нахлебников, отправлять доходы и хлеб в столицу, причем призывал последовать его примеру и другие города.

Выберите один из 4 вариантов ответа:

1)	Д.Трубецкой
2)	И.Пожарский
3)	К.Минин

4)	П.Ляпунов
----	-----------

### Задание №61

О каком историческом деятеле идёт речь?

«Родом из Тарнополя \_\_\_\_\_, будучи ребенком, был взят в орду. Там он и научился хорошо понимать татарский язык, а когда подрос, ушел к донским казакам и прятался у них много лет».

Выберите один из 4 вариантов ответа:

1)	И.Болотников
2)	И.Заруцкий
3)	П.Ляпунов
4)	К.Минин

### Задание №62

В каком году происходили события, о которых рассказывает автор «Нового летописца»: «У Заруцкого же с казаками бысть з бояры и з дворяны непрямая мысль: хотяху на Московское государство посадити Воренка Калужского, Маринкина сына»

Выберите один из 4 вариантов ответа:

1)	1605 г.
2)	1611 г.
3)	1607 г.
4)	1613 г.

### Задание №63

О каком правителе идёт речь в отрывке из книги В.Н.Козлякова "Герои Смуты"?

"В новолетие 1 сентября 1611 года во многих концах страны уже знали о падении Смоленска и Новгорода и о расправе воевод под Москвой, закончившейся гибелью Прокофия Ляпунова и, как говорили, исходом после этого чуть ли не половины земского войска. Большинству казалось, что остался только один выход: смириться и подчиниться неизбежному приходу в столицу нового правителя — \_\_\_\_\_, которому уже присягнули на верность. Его по-прежнему поддерживала Боярская дума в Москве, добивавшаяся от короля Сигизмунда III подтверждения, что тот непременно даст своего сына на пустующий царский трон.

Выберите один из 4 вариантов ответа:

1)	Карл Филипп
2)	Григорий Отрепьев
3)	Вор Сидорка
4)	Владислав

#### Задание №64

Причиной Смутного времени было

Выберите один из 4 вариантов ответа:

1)	хозяйственный кризис
2)	ослабление феодального гнета
3)	злоупотребления баскаков
4)	ликвидация патриаршества

#### Задание №65

Причиной Смутного времени было

Выберите один из 4 вариантов ответа:

1)	пресечение династии Рюриковичей
2)	захват Москвы поляками
3)	введение судебника Ивана IV
4)	последствия монголо-татарского нашествия

#### Задание №66

Одной из первых мер Лжедмитрия I, после его восшествия на русский престол было

Выберите один из 4 вариантов ответа:

1)	увеличение окладов служилым людям
2)	освобождение крестьян от крепостной зависимости
3)	отмена Юрьева дня
4)	отвоевание Новгорода у шведов

#### Задание №67

Польские интервенты боярами были запущены в Москву, потому что

Выберите один из 4 вариантов ответа:

1)	Василий Шуйский не справлялся со своими обязанностями
2)	Москве угрожал ее захват шведами
3)	в Москве вспыхнуло народное восстание
4)	Москве угрожал ее захват Лжедмитрием II



### Задание №68

Решающую роль в освобождении Москвы и страны от польских интервентов сыграл

Выберите один из 4 вариантов ответа:

1)	сильный мороз
2)	призыв "Семибоярщины"
3)	патриотический подъем населения
4)	отказ гетмана Ходкевича идти на Москву

### Задание №69

Воцарение династии Романовых означало

Выберите один из 4 вариантов ответа:

1)	начало нового этапа Гражданской войны
2)	окончание Смутного времени
3)	завершение феодальной раздробленности
4)	начало боярского правления

### Задание №70

Одно из условий предложенного Речью Посполитой России договора 1600 года

Выберите один из 4 вариантов ответа:

1)	уравнивание в правах российского дворянства с польской и литовской шляхтой
2)	запрет службы литовских дворян на территории России
3)	запрет исповедования православия на территории России
4)	введение единой религии на объединенной территории Речи Посполитой и России-православия

### Задание №71

Россия не приняла такое положение договора о военном союзе с Речью Посполитой, как

Выберите один из 4 вариантов ответа:

1)	совместные военные выступления
2)	торговые отношения со странами Востока
3)	уравнивание в правах польской шляхты и российского дворянства
4)	свободное проповедование католицизма в России

### Задание №72

Причина экономических трудностей России в начале XVII века

Выберите один из 4 вариантов ответа:

1)	голод, неурожайные годы
----	-------------------------

2)	переизбыток продукции на рынке
3)	прекращение торговли с Англией
4)	развитие активных торговых связей с Японией

#### **Задание №73**

К экономическим последствиям Смуты относится

Выберите один из 4 вариантов ответа:

1)	налаживание экономического обмена между Европой и Россией
2)	организация внутренней торговли без таможенных пошлин
3)	разорение многих районов страны
4)	активизация сельского хозяйства, увеличение урожайности

#### **Задание №74**

К новым явлениям развития сельского хозяйства в начале XVII века относится

Выберите один из 4 вариантов ответа:

1)	развитие пахотного земледелия
2)	специализация отдельных районов страны
3)	появление и распространение новой техники
4)	активное применение наемного труда

#### **Задание №75**

Особенность российской мануфактуры XVII века заключалась в том, что

Выберите один из 4 вариантов ответа:

1)	мануфактуры выпускали продукцию для сбыта на западноевропейских рынках
2)	мануфактуры чаще всего работали на государство
3)	мануфактуры производили только ювелирные изделия
4)	мануфактурами владели только иностранцы

#### **Задание №76**

Складывание всероссийского рынка в XVII веке означало

Выберите один из 4 вариантов ответа:

1)	сохранение экономической раздробленности различных районов страны
2)	необходимость продавать на рынках одну продукцию одной страны
3)	усиление хозяйственных связей между различными районами страны
4)	ориентацию торговли исключительно на внешние рынки

#### **Задание №77**

Формирование всероссийского рынка в XVII веке характеризует

Выберите один из 4 вариантов ответа:

1)	возникновение всероссийских торговых ярмарок
2)	ориентация торговли на вкусы Западной Европы
3)	развитие натурального хозяйства
4)	передача всех видов ярмарок в собственность государства

#### Задание №78

Особенность Новоторгового устава в отношении права торговли иностранных купцов России заключалась в том, что

Выберите один из 4 вариантов ответа:

1)	иностранным купцам разрешили беспошлинно торговать в России
2)	иностранным купцам разрешили объединяться в гильдии для торговли в России
3)	иностранцы должны были продавать оптом свои товары в пограничных городах России
4)	иностранным купцам предоставили привилегии и льготы

#### Задание №79

К новым явлениям развития ремесла XVII века относится

Выберите один из 4 вариантов ответа:

1)	специализация ремесла в различных районах страны
2)	возникновение гончарного искусства
3)	создание семейных ремесленных мастерских
4)	создание крупных фабрик и заводов по производству ремесленных изделий

#### Задание №80

Прочтите отрывок из книги Е.В.Пчёлова "Романовы.История великой династии" .  
Используя отрывок и знания по истории выберите 3 правильных суждения.

"В наследство Михаилу Фёдоровичу досталось разгромленное и опустошённое государство, и на его плечи легли заботы по его восстановлению. Новому государю удалось закончить войны с Речью Посполитой и Швецией, подавить очаги внутренней Смуты. Он правил, опираясь на широкую поддержку «всей земли»: в первые десять лет царствования Земские соборы заседали почти непрерывно. После возвращения из плена большую роль в государственном управлении начал играть его отец – патриарх Филарет. Сам царь был «кротким и крови нежелательным», «добр, тих, смирен... всех любил, всех миловал и щедрил».

Выберите несколько из 6 вариантов ответа:

1)	Михаил Фёдорович приходился внучатым племянником царице Анастасии , жене Ивана Грозного
2)	патриарх Филарет, о котором говорится в отрывке во время Смуты находился в плену у шведов
3)	Война с речью Посполитой закончилась подписанием Столбовского мира
4)	Автор указывает на решающую роль Земских соборов в начале царствования

	Михаила
5)	Характеризуя нового царя, автор говорит о его твёрдом и волевом характере
6)	автор указывает на тяжёлые последствия Смуты для хозяйства страны

### Задание №81

Прочтите отрывок из книги Н.М.Карамзина "История государства Российского"  
Используя отрывок и знания по истории, выберите 3 верных суждения.

"Не там, где Борис стерегся опасности, внезапная опасность явилась; не потомки Рюриковы, не Князья и Вельможи, им гонимые, – не дети и друзья их, вооруженные местию, умыслили свергнуть его с Царства: сие дело умыслил и совершил презренный бродяга, именем младенца, давно лежавшего в могиле... Беглый дьяк задумал грубой ложью низвергнуть монарха и сесть на его престол в державе, где венценосец считался земным богом. Чем, кроме действия непостижимой судьбы, кроме воли провидения, можно изъяснить не только успех. но и саму мысль подобного предприятия? Это может показаться безумием, но безумец избрал надёжный путь к цели-Литву!"

Выберите несколько из 6 вариантов ответа:

1)	Автор под младенцем подразумевает младшего сына Ивана Грозного царевича Дмитрия
2)	Говоря о "грубой лжи", автор имеет ввиду попытку "презренного бродяги" выдать себя за царского сына
3)	автор утверждает, что главную роль в свержении Бориса сыграли аристократы
4)	автор сочувственно относится к замыслам самозванца
5)	Литва, о которой идёт речь в отрывке. на тот момент была самостоятельным государством
6)	дьяк, о котором идёт речь в отрывке, был сбежавшим монахом Григорием Отрепьевым

### Задание №82

Установите соответствие между именами исторических деятелей и характеристиками их деятельности

Укажите соответствие для всех 4 вариантов ответа:

1)	князь, возглавивший Второе ополчение	1)	Иов
2)	патриарх, выступивший против приглашения польского королевича на престол	2)	И.Заруцкий
3)	рязанский дворянин, глава Первого ополчения	3)	П.Ляпунов
4)	казачий атаман, глава Первого ополчения	4)	Д.Пожарский

### Задание №83

Установите соответствие между именами исторических деятелей и характеристиками их деятельности

Укажите соответствие для всех 4 вариантов ответа:

1)	нижегородский староста, организовавший Второе ополчение	1)	П.Ляпунов
2)	глава Первого ополчения, казачий атаман	2)	Филарет
3)	патриарх в Тушинском лагере Лжедмитрия II	3)	К.Минин
4)	глава Первого ополчения, рязанский дворянин	4)	И.Заруцкий

#### Задание №84

Установите соответствие между историческими понятиями и определениями

Укажите соответствие для всех 4 вариантов ответа:

1)	Самозванство	1)	Войско, создаваемое в помощь армии на добровольных началах
2)	Юрьев день	2)	Незаконное присвоение себе чужого имени, звания с целью обмана
3)	Вотчина	3)	Земельное владение, передаваемое по наследству
4)	Народное ополчение	4)	Право перехода крестьян от одного помещика к другому в определенный срок

#### Задание №85

Установите соответствие между историческими понятиями и определениями.

Укажите соответствие для всех 4 вариантов ответа:

1)	"Смутное время"	1)	Сословно-представительный орган власти в России в XVI-XVII веках
2)	Интервенция	2)	Правительство бояр во время Смуты
3)	Семибоярщина	3)	Вмешательство одной или нескольких стран во внутренние дела другого государства
4)	Земский собор	4)	Полоса мятежей, беспорядков, ослабление власти, вторжение иностранцев в начале XVII века в Московском государстве

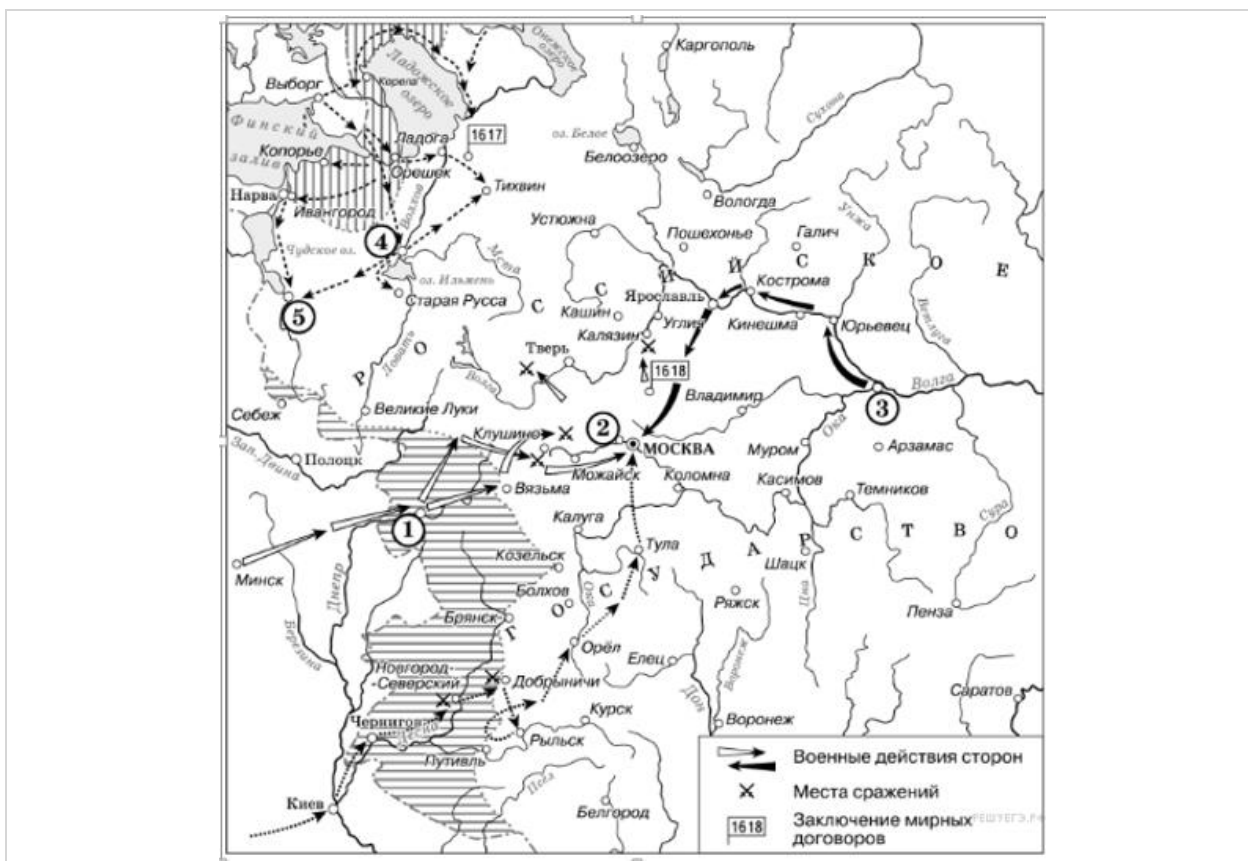
#### Задание №86

Установите соответствие между событиями и датами

Укажите соответствие для всех 5 вариантов ответа:			
1)	1598-1605 гг	1)	оборона Смоленска
2)	1605-1606 гг	2)	период " Семибоящины"
3)	1606-1607 гг	3)	царствование Бориса Годунова
4)	1609-1611 гг	4)	царствование Лжедмитрия I
5)	1610-1612 гг	5)	восстание под предводительством И.Болотникова

<b>Задание №87</b>			
Установите соответствие между событиями и датами			
Укажите соответствие для всех 5 вариантов ответа:			
1)	1598 г	1)	избрание царем Михаила Романова
2)	1603 г	2)	пресечение династии Рюриковичей
3)	1609 г	3)	начало вторжения войск интервентов в Россию
4)	1612 г	4)	изгнание поляков из Москвы Вторым ополчением
5)	1613 г	5)	восстание под предводительством Хлопка Косолапа

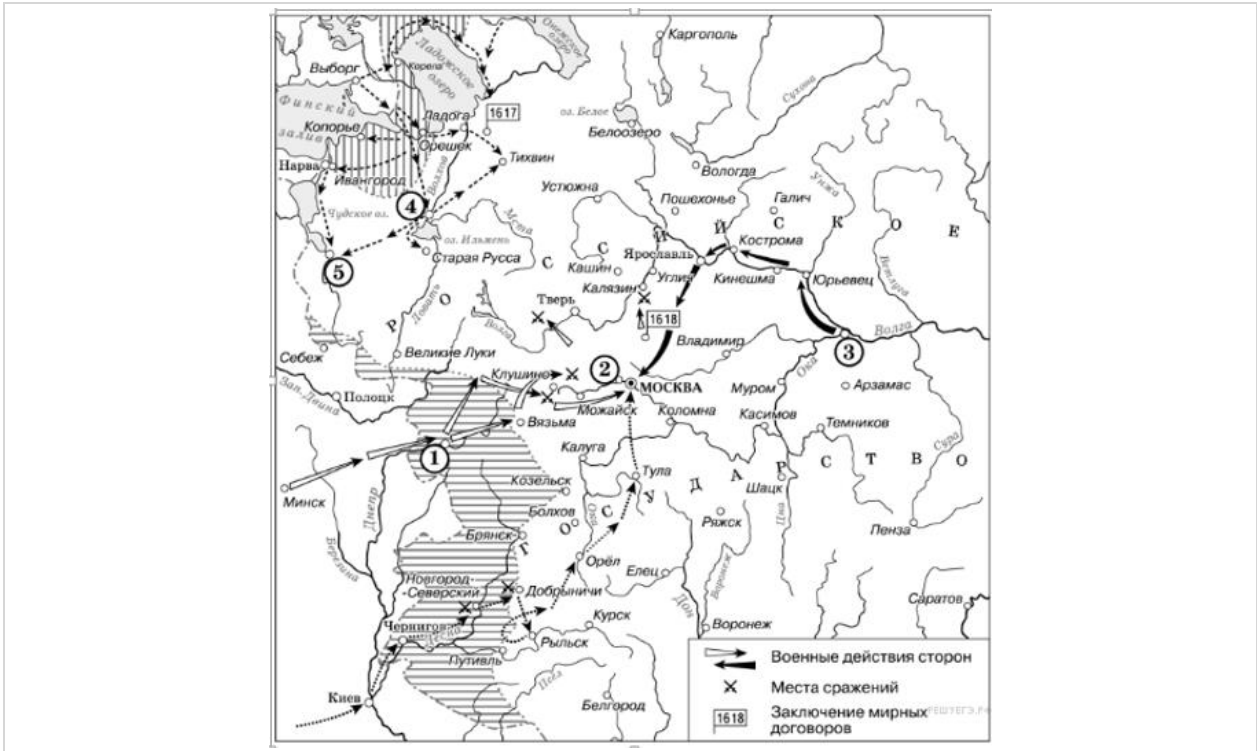
<b>Задание №88</b>	
Напишите название периода русской истории, события которого изображены на схеме.	
Ответ запишите со строчной буквы.	



### Задание №89

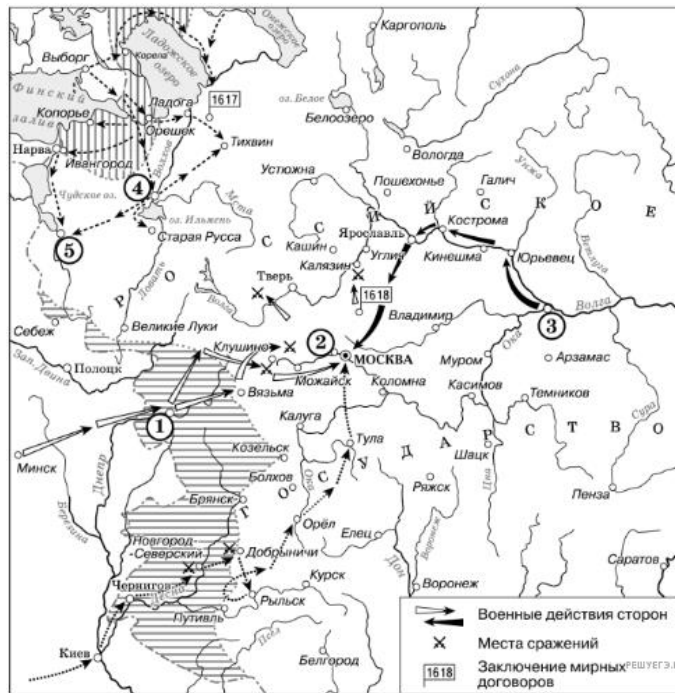
Напишите прозвище самозванца, которое он получил из-за того, что расположил свой лагерь в подмосковном селе, обозначенном цифрой «2».

Ответ запишите со строчной буквы без пробелов и запятых.



### Задание №90

Какие суждения, относящиеся к данной схеме, являются верными? Выберите три суждения из шести предложенных. Запишите в таблицу цифры, под которыми они указаны.



Выберите несколько из 6 вариантов ответа:

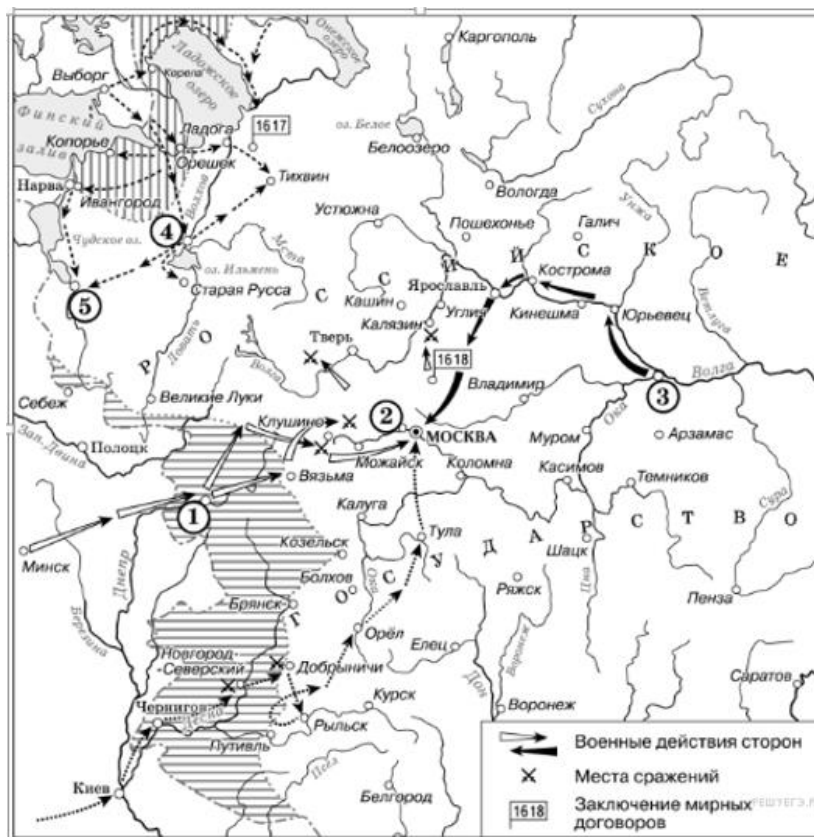
- 1) Участниками событий, изображённых на схеме, были К. Булавин и протопоп Аввакум.



2)	Староста посада обратился с призывом к сбору средств на борьбу с интервентами в городе, обозначенном на схеме цифрой «4».
3)	Следствием событий, изображённых на схеме, стала утрата Россией заштрихованных на схеме территорий
4)	Одной из причин событий, изображённых на схеме, стало пресечение царствующей династии Рюриковичей
5)	Поход на Москву, обозначенный на схеме точечными стрелками, возглавлял самозванец, известный как Григорий Отрепьев.
6)	Древний русский город, обозначенный на схеме цифрой «1», отбил все попытки интервентов захватить его.

### Задание №91

Какие суждения, относящиеся к данной схеме, являются верными? Выберите три суждения из шести предложенных.



Выберите несколько из 6 вариантов ответа:

1)	Участниками событий, изображённых на схеме, были М. Скуратов и А. Курбский
2)	Староста посада обратился с призывом к сбору средств на борьбу с интервентами в городе, обозначенном на схеме цифрой «4».

3)	Следствием событий, изображённых на схеме, стала утрата Россией заштрихованных на схеме территорий.
4)	Одной из причин событий, изображённых на схеме, стало пресечение царствующей династии Рюриковичей.
5)	Поход на Москву, обозначенный на схеме точечными стрелками, возглавлял самозванец, известный как Григорий Отрепьев.
6)	Древний русский город, обозначенный на схеме цифрой «1», отбил все попытки интервентов захватить его

### Задание №92

Рассмотрите изображение и ,привлекая знания истории, выберите 3 верных ответа



Выберите несколько из 6 вариантов ответа:

1)	На данной картине представлены события, связанные с деятельностью Второго ополчения
2)	По окончании событий, представленных на картине, на престол взошёл В.Шуйский
3)	Сбор ополчения, с деятельностью которого связаны события, изображённые на картине, начался в Рязани
4)	Для организации этого ополчения народ сдавал деньги и ценности
5)	Героем представленных событий был П.Ляпунов
6)	Героям указанных событий в 1818 г. поставлен памятник на Красной площади в Москве.

### Задание №93

Рассмотрите изображение и ,привлекая знания истории, выберите 3 верных ответа



Выберите несколько из 6 вариантов ответа:

- |    |   |
|----|---|
| 1) | На данном изображении представлены руководители Второго земского ополчения                    |
| 2) | В результате событий, связанных с этими личностями, Россия приобрела вход к Балтийскому морю. |
| 3) | Скульптурная композиция, представленная на изображении была создана в XVIIвеке                |
| 4) | События, герои которых представлены на изображении, относятся к Смутному времени              |
| 5) | Изображённые люди руководили освобождением Москвы от войск Тушинского вора                    |
| 6) | Один из изображённых людей был из дворян, другой- из посадских людей.                         |

#### Задание №94

Какое событие отражено на картине?




Выберите один из 4 вариантов ответа:

- |    |                                     |
|----|-------------------------------------|
| 1) | Лжедмитрий 1 принимает католичество |
|----|-------------------------------------|

2)	послы Сигизмунда III выдвигают предложение о воцарении Владислава
3)	Скопин-Шуйский приглашает шведский отряд Делагарди
4)	Лжедмитрий II обещает полякам отдать земли под Смоленском

### Задание №95

Перед вами картина Сергея Иванова. В Смутное время. Каково её второе название?



Выберите один из 4 вариантов ответа:

1)	Восстание Хлопка
2)	Лагерь самозванца
3)	Болотников идёт
4)	Тушинский вор

### Задание №96

Письменное задание №1, проверяется и оценивается учителем в 2 балла.

Для продолжения тестирования наберите 1.

### Задание №97

Письменное задание №2, проверяется и оценивается учителем в 2 балла.

Для продолжения тестирования наберите 1.

## Часть С

### 1. Из сочинения историка.

«Смутное время было закончено с большими территориальными потерями для Руси. Смоленск был утрачен на долгие десятилетия, западная и значительная часть восточной Карелии захвачены шведами. Для восстановления утраченных в годы Смуты международных позиций Россия на протяжении всего века вела войны как с европейскими государствами (Речью Посполитой, Швецией), так и со странами Востока (Крымским ханством и Турцией), что во многом способствовало усилению западного влияния на внутреннюю жизнь страны.

Россия уже была одной из самых больших стран мира, но всё ещё отставала по темпам развития экономики от западноевропейских стран. Осознание необходимости изменений в жизни страны подталкивало к изучению и внедрению лучших сторон европейского опыта. На русскую службу начали приглашаться иностранные специалисты. Они были необходимы для того, чтобы помочь использовать европейский опыт, как при подготовке к войнам, так и для организации производства. Так, на основе западноевропейских образцов при Алексее Михайловиче был принят первый в русской армии воинский устав. Организовать в Москве производство оружия (пушечный завод) и построить первый русский военный корабль «Орёл» помогали голландские специалисты. Уже в середине века в Москве проживало около 1,5 тысяч западноевропейцев. Иностранцы в Москве жили по своим обычаям, для чего была создана Немецкая слобода — «Кукуй»».

**Укажите век, к которому относятся описанные в отрывке события. Назовите династию русских царей, один из представителей которой упомянут в данном отрывке.**

## **2. Из исторического очерка:**

«Кандидатура представителя семьи Романовых устраивала разные слои населения и даже классы общества. Для боярства Романовы были свои — выходцы из одного из самых знатных боярских родов страны. Их считали своими и те, кто был близок к опричному двору... но и пострадавшие не чувствовали себя чуждыми этому семейству; среди его членов встречались казненные и опальные в годы опричнины, сам Филарет оказался в сеннике при бывшем опричнике Борисе Годунове. Наконец, Романовы пользовались большой популярностью среди казачества, с ним связывались многие иллюзии, и длительное пребывание Филарета в Тушине... заставляло и бывших тушинцев не опасаться за свою судьбу при новом правительстве. Поскольку Филарет возглавил в своё время делегацию, которая пригласила на русский трон Владислава, то и сторонники польского королевича не беспокоились за своё будущее при Романовых.

**Почему предпочтение было отдано Романовым? Укажите не менее трёх аргументов.**