

Материалы  
для подготовки к тесту по истории 7 класс М-3(базовый уровень)  
по теме «Россия и Европа в начале XVII в».

Тема	Содержание
Внешнеполитические связи России с Европой и Азией в кон. XVI- нач. XVII в.в.	Европа и Россия накануне Тридцатилетней войны, Россия и Речь Посполитая, взаимоотношения России, взаимоотношения России с Османской империей, Персией.
Смута в Российском государстве.	Причины Смутного времени в России, Лжедмитрий I, боярский заговор, правление Василия Шуйского, восстание под предводительством И.И.Болотникова, Лжедмитрий II, польско-шведская интервенция, распад Тушинского правительства, Семибоярщина, первое ополчение, второе ополчение, освобождение Москвы от польских интервентов, воцарение династии Романовых.
Экономическое развитие России в 1 пол. XVII в.	Последствия Смуты, развитие сельского хозяйства, промышленности в XVII века, торговля, проведение денежной реформы в России, торговые взаимоотношения России с Европой.
Переломный момент российской истории	Гибель царевича Дмитрия (версии случившегося), пресечение династии Рюриковичей, альтернативы развития России в начале XVII века.

**Понятия:**

Шляхта, смута, самозванство, гетман, семибоярщина, специализация, мануфактура, всероссийский рынок, плантация.

**Персоналии:**

Б. Годунов, Хлопко Косолап, Лжедмитрий I, Лжедмитрий II, В. Шуйский, И. Болотников, П. Ляпунов, К.Минин, Д. Пожарский, И. Сусанин, Филарет, М. Романов.

**Даты:** 1591г, 1598 г, 1598-1605 гг, 1603 г, 1605-1606 гг, 1606-1607 гг, 1606-1610 гг, 1611 г, 1611-1612 гг, 26 октября 1612 г, 1613 г, 1653 г, 1654 г, 1667 г.

**Материал для подготовки:**

Семинар «Личности эпохи Смуты».

1. «Богоизбранный царь» Борис Годунов.
2. Самозванство: Лжедмитрий I и Лжедмитрий II.
3. Царствование «боярского царя» Василия Шуйского.
4. К.Минин и Д.Пожарский- освободители земли Русской.

Цель: охарактеризовать роль личности в истории на примере исторических деятелей периода Смуты.

Семинарское занятие предполагает устное обсуждение заявленных вопросов на основе конспекта, который ученик составляет самостоятельно на основе изучения дополнительной литературы.

При подготовке к **1 вопросу** необходимо отметить обстоятельства, которые помогли прийти к власти Борису Годунову. Охарактеризовать его внутреннюю и внешнюю политику, отразить влияние политики причины Смутного времени, коснуться черт его характера.

При подготовке **ко 2 вопросу** необходимо написать о способах, с помощью которых самозванцы пытались прийти к власти. Осветить внутреннюю политику Лжедмитрия I, период двоевластия, который сложился во время правления Василия Шуйского в Москве и Богдана Шкловского в Тушино.

При подготовке **к 3 вопросу** стоит составить исторический портрет Василия Шуйского. Написать о мерах, проводимых этим царем во внутренней политике России. Обязательно упомянуть о категориях населения России, которые поддерживали его. Понять, почему он был низложен с престола.

При подготовке **к 4 вопросу** необходимо кратко коснуться биографии каждого. Затем последовательно охарактеризовать их шаги, способствующие освобождению нашего государства от польских интервентов.

**Материал для подготовки:**

**История России 7 класс** под редакцией А.В.Торкунова Москва «Просвещение», 2017 г. Часть 2.

**Дополнительные источники:**

<http://ru.wikipedia.org/wiki/Портал:История>.

Банк заданий

<b>Задание №1</b>		
В народе "тушинскими перелетами" называли		
Выберите один из 4 вариантов ответа:		
1)		почтовое сообщение между Москвой и селом Тушино
2)		продвижение войск под предводительством И.Болотникова
3)		первые полеты воздушного шара в России
4)		переходы бояр из одного лагеря к другому за более высокими наградами и чинами
<b>Задание №2</b>		
Война, в которой соотечественники воюют друг против друга, называется		
Выберите один из 4 вариантов ответа:		
1)		отечественная
2)		освободительная
3)		затяжная
4)		гражданская
<b>Задание №3</b>		
Крымский хан Казы-Гирей вторгся в Россию и осадил Москву в		
Выберите один из 4 вариантов ответа:		
1)		1550 году

2)		1581 году
3)		1591 году
4)		1618 году

#### Задание №4

Беспошлинная торговля между Россией и Персией была установлена в

Выберите один из 4 вариантов ответа:

1)		1590 году
2)		1594 году
3)		1605 году
4)		1606 году

#### Задание №5

Отметьте даты правления Бориса Годунова

Выберите один из 4 вариантов ответа:

1)		1582-1585 гг
2)		1586-1600 гг
3)		1601-1606 гг
4)		1598-1606 гг

#### Задание №6

Укажите даты правления Василия Шуйского

Выберите один из 4 вариантов ответа:

1)		1598-1605 гг
2)		1605-1606 гг
3)		1606-1610 гг
4)		1610-1624 гг

#### Задание №7

Первое ополчение для изгнания польских интервентов было организовано

Выберите один из 4 вариантов ответа:

1)		в 1611 году
2)		в 1612 году
3)		в 1615 году
4)		в 1616 году

#### Задание №8

Второе ополчение под руководством К.Минина и Д.Пожарского действовало с

Выберите один из 4 вариантов ответа:

1)		1609- 1610 год
2)		1611- 1612 год
3)		1612- 1613 год
4)		1616- 1618 год

### Задание №9

Михаил Романов был избран на русский престол в

Выберите один из 4 вариантов ответа:

1)		1612 году
2)		1613 году
3)		1614 году
4)		1618 году

### Задание №10

Смутным временем в России называют :

Выберите один из 4 вариантов ответа:

1)		конец XVI века
2)		конец XVI — начало XVII века
3)		начало XVII века
4)		первую половину XVII века

### Задание №11

Укажите даты Тридцатилетней войны в Европы

Выберите один из 4 вариантов ответа:

1)		1618-1648 гг
2)		1605-1635 гг
3)		1598-1628 гг
4)		1700-1730 гг

### Задание №12

Война между Османской империей и Священной Римской империей была с

Выберите один из 4 вариантов ответа:

1)		1593-1606 гг
2)		1597 -1600 гг
3)		1601-1613 гг

4)		1612-1615 гг
----	--	--------------

### Задание №13

Ради заключения союза с этой страной Борис Годунов хотел породниться с представителями династии

Выберите один из 4 вариантов ответа:

1)		Дании
2)		Англии
3)		Швеции
4)		Испании

### Задание №14

Назовите служилое сословие, защищавшее южные рубежи Русского государства

Выберите один из 4 вариантов ответа:

1)		крестьяне
2)		холопы
3)		казаки
4)		шляхтичи

### Задание №15

Торговые пути, связывающие Россию с Персией проходили через

Выберите один из 4 вариантов ответа:

1)		Белое море
2)		реку Неву
3)		реку Одер
4)		Каспийское море

### Задание №16

Казачество, охранявшее южные русские земли собиралось в районе реки

Выберите один из 4 вариантов ответа:

1)		Нева
2)		Волга
3)		Дон
4)		Эльба

### Задание №17

Правитель Персии подарил Борису Годунову

Выберите один из 4 вариантов ответа:

1)		шапку Владимира Мономаха
----	--	--------------------------

2)		свитки из библиотеки Александра Македонского
3)		золотой трон
4)		четки

### Задание №18

Назовите города, которые были центром восстания Ивана Болотникова

Выберите один из 4 вариантов ответа:

1)		Казань, Астрахань
2)		Тула, Калуга
3)		Владивосток, Ялта
4)		Рязань, Нижний Новгород

### Задание №19

Борис Годунов стал царем, потому что

Выберите один из 4 вариантов ответа:

1)		получил престол по наследству
2)		получил ярлык в Золотой Орде
3)		был избран на Земском соборе
4)		был назван в завещании Ивана IV как наследник престола

### Задание №20

Иван Болотников, возглавивший восстание в 1606-1607 годах по социальному положению был

Выберите один из 4 вариантов ответа:

1)		дворянином
2)		военным холопом
3)		ремесленником
4)		монахом

### Задание №21

Городом, который в течении 20 месяцев оборонялся от польских войск в 1609-1610 годах был

Выберите один из 4 вариантов ответа:

1)		Псков
2)		Новгород
3)		Смоленск
4)		Рига

### Задание №22

Последним правителем из династии Рюриковичей был

Выберите один из 4 вариантов ответа:

1)	Иван Грозный
2)	царевич Дмитрий
3)	Федор Иоаннович
4)	Борис Годунов

### Задание №23

Василий Шуйский в 1607 году, чтобы угодить высшим слоям российского общества, увеличил срок сыска беглых крестьян:

Выберите один из 4 вариантов ответа:

1)	до 12 месяцев
2)	до 5 лет
3)	до 10 лет
4)	до 15 лет

### Задание №24

Кузьма Минин обратился к нижегородцам с призывом

Выберите один из 4 вариантов ответа:

1)	Признать польского королевича Владислава
2)	Восстановить на престоле Василия Шуйского
3)	Объявить царем Дмитрия Пожарского
4)	Начать сбор средств создания ополчения для обороны Москвы

### Задание №25

Важнейшие хозяйственные районы по производству льна- это

Выберите один из 4 вариантов ответа:

1)	Псковские и Смоленские земли
2)	Прикаспийский район
3)	северные земли, район Архангельска
4)	Запорожская Сечь

### Задание №26

Городом, через который в XVII веке велась торговля с другими странами, был город-порт

Выберите один из 4 вариантов ответа:

1)	Санкт-Петербург
2)	Москва
3)	Архангельск
4)	Новгород

### Задание №27

Со странами Востока Россия вела торговлю через город

Выберите один из 4 вариантов ответа:

1)		Новгород
2)		Архангельск
3)		Астрахань
4)		Псков

### Задание №28

К районам пушного промысла относились

Выберите один из 4 вариантов ответа:

1)		северные районы страны
2)		земли Южного Поволжья
3)		Псковские и Смоленские земли
4)		территории вблизи побережья Азовского моря

### Задание №29

Название предприятия, основанного на разделении труда и применении ручной ремесленной техники, возникновение которого в России относится к XVII веку  
Ответ запишите со строчной буквы в именительном падеже, единственном числе.

Запишите ответ:

1)	Ответ:	
----	--------	--

### Задание №30

После свержения Василия Шуйского власть в стране оказалась в руках боярского правительства, называемого

Запишите ответ:

1)	Ответ:	
----	--------	--

### Задание №31

К кому относятся слова историка В.О. Ключевского?

На престоле московских государей он был небывалым явлением..... Он совершенно изменил чопорный порядок жизни старых московских государей и их тяжелое, угнетательное отношение к людям..... со всеми обращался просто, обходительно, не по- царски.....

Выберите один из 4 вариантов ответа:

1)		к Борису Годунову
----	--	-------------------



2)		к Василию Шуйском
3)		к Лжедмитрию I
4)		к Федору Ивановичу

### Задание №32

Прозвище " тушинский вор" было дано

Выберите один из 4 вариантов ответа:

1)		Борису Годунову
2)		Василию Шуйскому
3)		Лжедмитрию I
4)		Лжедмитрию II

### Задание №33

Участником первого ополчения был

Выберите один из 4 вариантов ответа:

1)		К.Минин
2)		П.Ляпунов
3)		М.Скопин-Шуйский
4)		И.Сусанин

### Задание №34

Участником второго ополчения был

Выберите один из 4 вариантов ответа:

1)		П.Ляпунов
2)		К.Минин
3)		М.Скопин-Шуйский
4)		И.Сусанин

### Задание №35

Назовите русского правителя рубежа XVI-XVII веков, при котором заметно усилилась дипломатическая активность государства

Выберите один из 4 вариантов ответа:

1)		Василий Шуйский
2)		Борис Годунов
3)		Василий III
4)		Федор Иоаннович

### Задание №36

Самозванец Григорий Отрепьев выдавал себя за

Выберите один из 4 вариантов ответа:

1)		царевича Дмитрия
2)		Ивана IV

3)		польского королевича Владислава
4)		Бориса Годунова

### Задание №37

Настоящее имя самозванца Лжедмитрия I

Выберите один из 4 вариантов ответа:

1)		Федор Годунов
2)		Иван Федоров
3)		Петр Мстиславец
4)		Григорий Отрепьев

### Задание №38

Народный герой, который завел поляков в непроходимые болота, сам погиб, но и истребил отряд врагов

Выберите один из 4 вариантов ответа:

1)		Андрей Курбский
2)		Иван Сусанин
3)		Иван Болотников
4)		Денис Давыдов

### Задание №39

Второе ополчение, возникшее в Нижнем Новгороде возглавил

Выберите один из 4 вариантов ответа:

1)		В.И.Шуйский
2)		Д.М.Пожарский
3)		А.В.Черкасский
4)		М.И.Романов

### Задание №40

Правительство, которое вошло в историю под названием Семибоярщина возглавил

Выберите один из 4 вариантов ответа:

1)		Ф.И.Мстиславский
2)		Н.И.Оболенский
3)		Д.И.Давыдов
4)		В.И.Шуйский

### Задание №41

Причиной Смутного времени было (-л, ла)

Выберите один из 4 вариантов ответа:

1)		пресечение династии Рюриковичей
2)		захват Москвы поляками

3)		введение судебника Ивана IV
4)		последствия монголо-татарского нашествия
<b>Задание №42</b>		
Польские интервенты боярами были запущены в Москву, потому что		
Выберите один из 4 вариантов ответа:		
1)		Василий Шуйский не справлялся со своими обязанностями
2)		Москве угрожал ее захват шведами
3)		в Москве могло вспыхнуть народное восстание
4)		Москве угрожал ее захват Лжедмитрием II
<b>Задание №43</b>		
Решающую роль в освобождении Москвы и страны от польских интервентов сыграл		
Выберите один из 4 вариантов ответа:		
1)		сильный мороз
2)		призыв "Семибоярщины"
3)		патриотический подъем населения
4)		отказ гетмана Ходкевича идти на Москву
<b>Задание №44</b>		
Воцарение династии Романовых означало		
Выберите один из 4 вариантов ответа:		
1)		начало нового этапа Гражданской войны
2)		окончание Смутного времени
3)		завершение феодальной раздробленности
4)		начало боярского правления
<b>Задание №45</b>		
Одно из условий предложенного Речью Посполитой России договора 1600 года		
Выберите один из 4 вариантов ответа:		
1)		уравнивание в правах российского дворянства с польской и литовской шляхтой
2)		запрет службы литовских дворян на территории России
3)		запрет исповедования православия на территории России
4)		введение единой религии на объединенной территории Речи Посполитой и России- православия
<b>Задание №46</b>		
Россия не приняла такое положение договора о военном союзе с Речью Посполитой, как		
Выберите один из 4 вариантов ответа:		
1)		совместные военные выступления

2)		торговые отношения со странами Востока
3)		уравнивание в правах польской шляхты и российского дворянства
4)		свободное проповедование католицизма в России

#### Задание №47

К новым явлениям развития сельского хозяйства в начале XVII века относится

Выберите один из 4 вариантов ответа:

1)		развитие пахотного земледелия
2)		специализация отдельных районов страны
3)		появление и распространение новой техники
4)		активное применение наемного труда

#### Задание №48

Складывание всероссийского рынка в XVII веке означало

Выберите один из 4 вариантов ответа:

1)		сохранение экономической раздробленности различных районов страны
2)		необходимость продавать на рынках одну продукцию одной страны
3)		усиление хозяйственных связей между различными районами страны
4)		ориентацию торговли исключительно на внешние рынки

#### Задание №49

Установите соответствие между именами исторических деятелей и характеристиками их деятельности

Укажите соответствие для всех 4 вариантов ответа:

1)		князь, возглавивший Второе ополчение	1)	Иов
2)		патриарх, выступивший против приглашения польского королевича на престол	2)	И.Заруцкий
3)		рязанский дворянин, глава Первого ополчения	3)	П.Ляпунов
4)		казачий атаман, глава Первого ополчения	4)	Д.Пожарский

#### Задание №50

Установите соответствие между именами исторических деятелей и характеристиками их деятельности

Укажите соответствие для всех 4 вариантов ответа:

1)	нижегородский староста, организовавший Второе ополчение	1)	П.Ляпунов
2)	глава Первого ополчения, казачий атаман	2)	Филарет
3)	патриарх в Тушинском лагере Лжедмитрия II	3)	К.Минин
4)	глава Первого ополчения, рязанский дворянин	4)	И.Заруцкий

### Задание №51

Установите соответствие между историческими понятиями и определениями

Укажите соответствие для всех 4 вариантов ответа:

1)	Самозванство	1)	Войско, создаваемое в помощь армии на добровольных началах
2)	Юрьев день	2)	Незаконное присвоение себе чужого имени, звания с целью обмана
3)	Вотчина	3)	Земельное владение, передаваемое по наследству
4)	Народное ополчение	4)	Право перехода крестьян от одного помещика к другому в определенный срок

### Задание №52

Установите соответствие между историческими понятиями и определениями.

Укажите соответствие для всех 4 вариантов ответа:

1)	"Смутное время"	1)	Сословно-представительный орган власти в России в XVI-XVII веках
2)	Интервенция	2)	Правительство бояр во время Смуты
3)	Семибоярщина	3)	Вмешательство одной или нескольких стран во внутренние дела другого государства
4)	Земский собор	4)	Полоса мятежей, беспорядков, ослабление власти, вторжение иностранцев в начале XVII века в Московском государстве

### Задание №53

Установите соответствие между событиями и датами

Укажите соответствие для всех 5 вариантов ответа:

1)		1598-1605 гг	1)	оборона Смоленска
2)		1605-1606 гг	2)	период " Семибоярщины"
3)		1606-1607 гг	3)	царствование Бориса Годунова
4)		1609-1611 гг	4)	царствование Лжедмитрия I
5)		1610-1612 гг	5)	восстание под предводительством И.Болотникова

#### **Задание №54**

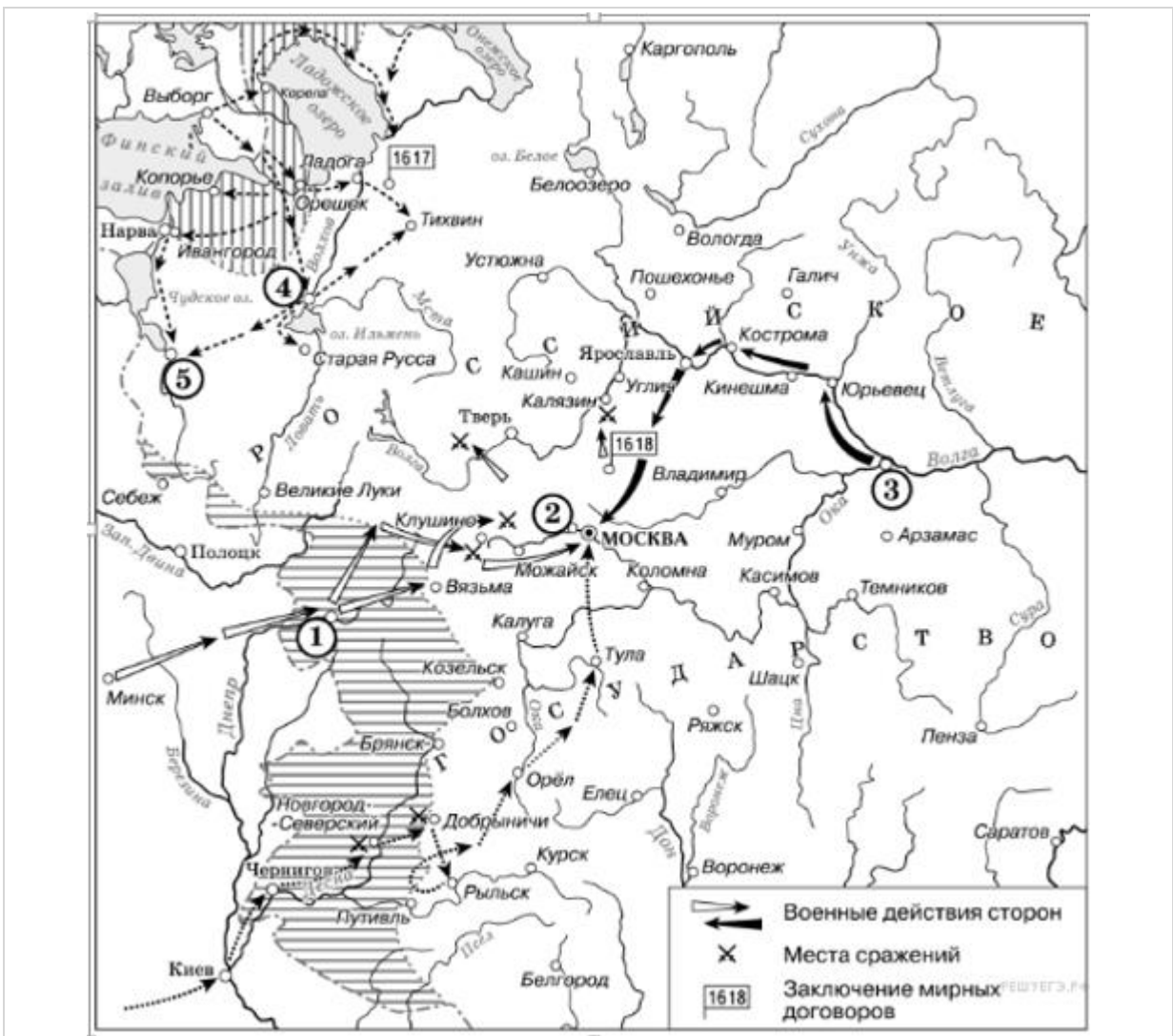
Установите соответствие между событиями и датами

Укажите соответствие для всех 5 вариантов ответа:

1)		1598 г	1)	избрание царем Михаила Романова
2)		1603 г	2)	пресечение династии Рюриковичей
3)		1609 г	3)	начало вторжения войск интервентов в Россию
4)		1612 г	4)	изгнание поляков из Москвы Вторым ополчением
5)		1613 г	5)	восстание под предводительством Хлопка Косолапа

#### **Задание №55**

Напишите название периода русской истории, события которого изображены на схеме.

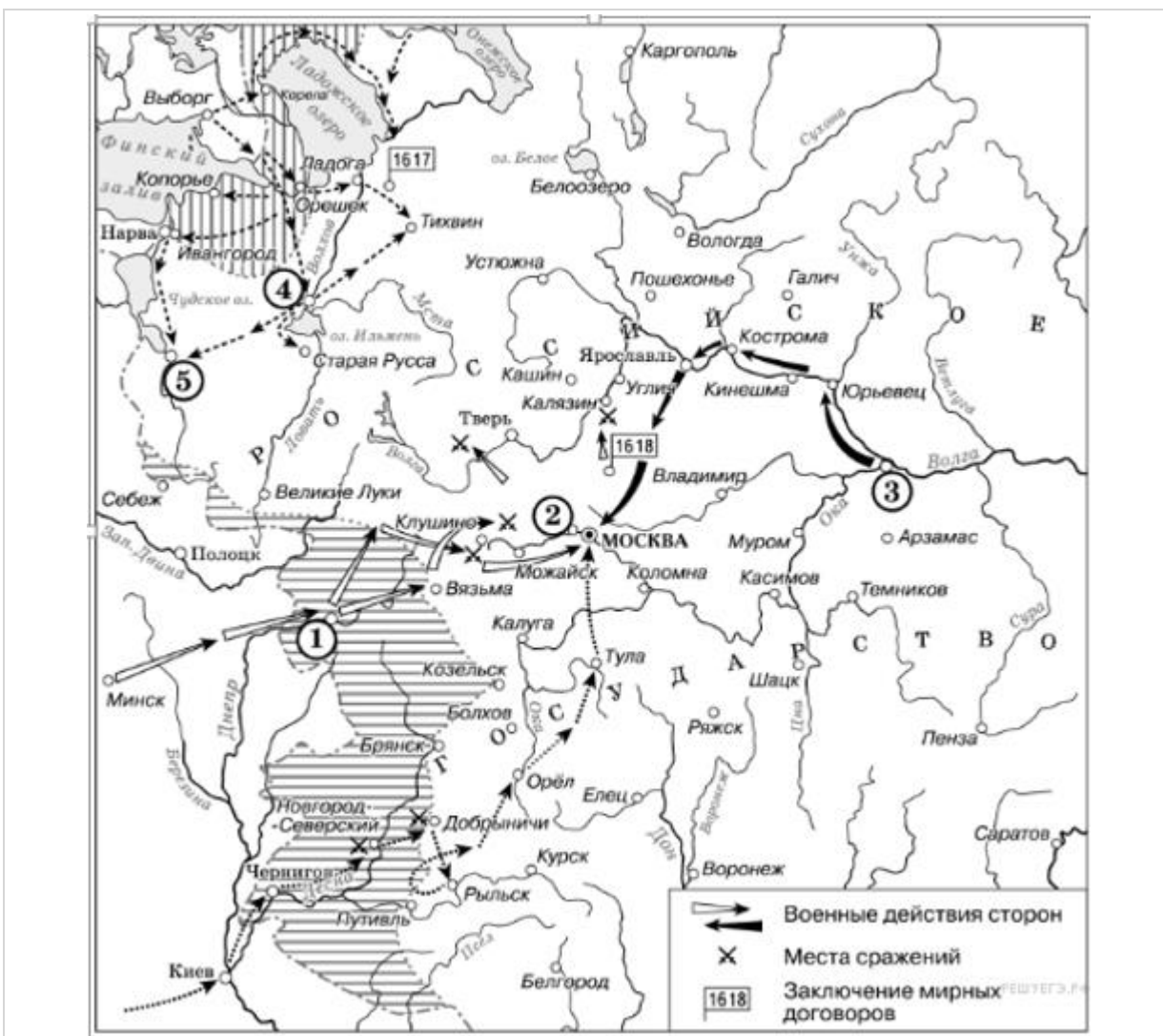


Запишите ответ:

1) Ответ:

### Задание №56

Напишите прозвище самозванца, которое он получил из-за того, что расположил свой лагерь в подмосковном селе, обозначенном цифрой «2».



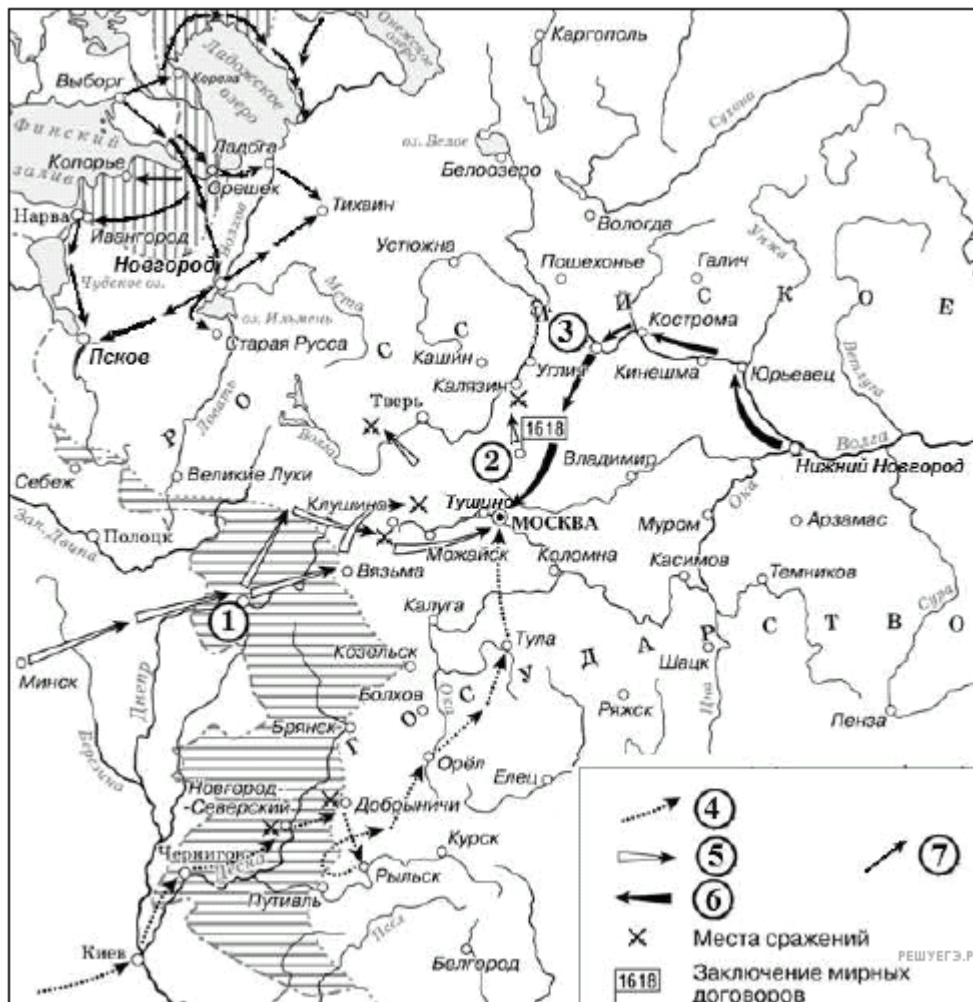
Запишите ответ:

1) Ответ:

### Задание №57

Какие суждения, относящиеся к данной схеме, являются верными? Выберите три суждения из шести предложенных.

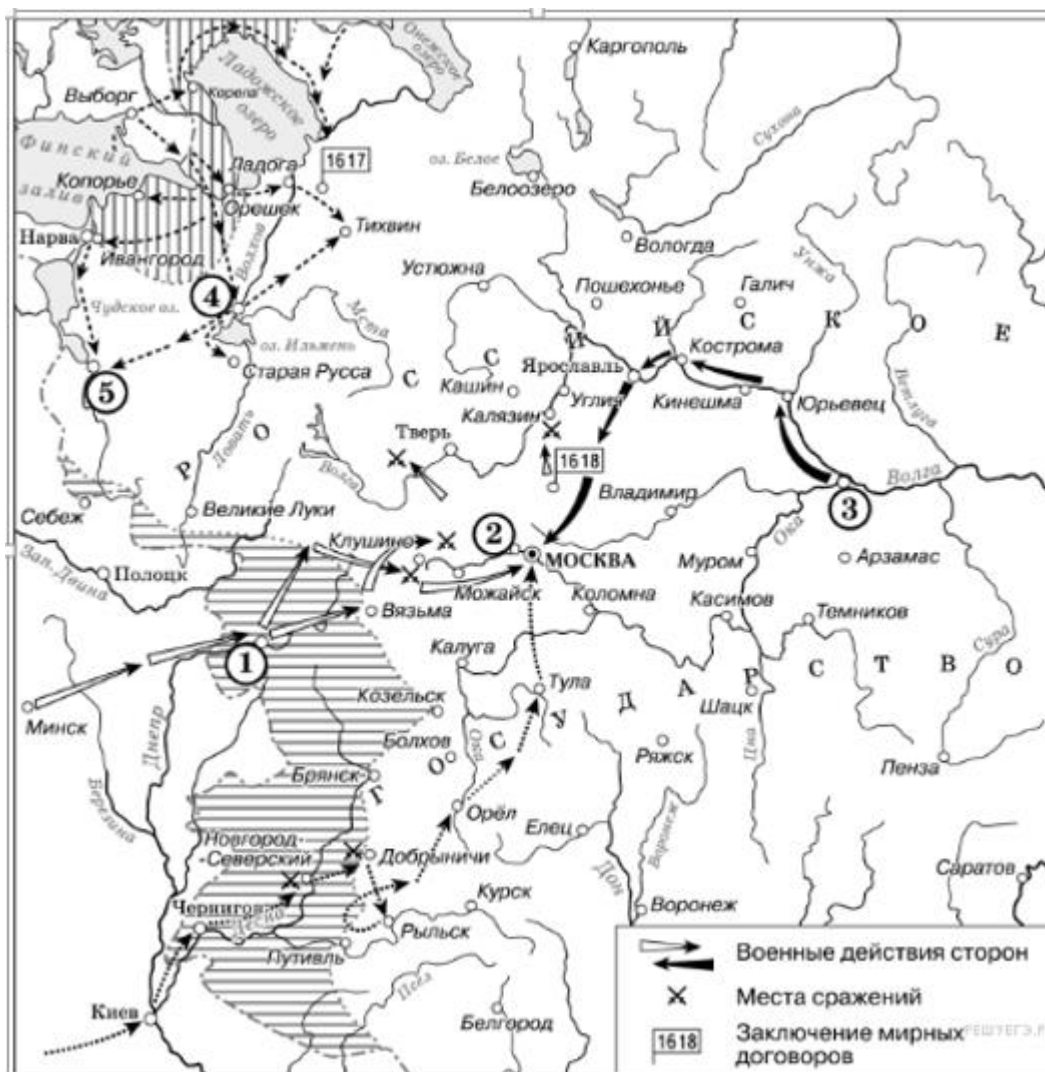




Выберите несколько из 6 вариантов ответа:

1)	Самозванец, действия войск которого обозначены стрелками, подписанными в легенде схемы цифрой «4», получил прозвище «Тушинский вор».
2)	Город, обозначенный на схеме цифрой «1», в ходе событий, которым посвящена схема, был захвачен неприятелем после более чем 20-месячной осады.
3)	Цифрой «2» на схеме обозначено село Деулино.
4)	Действиями войск, обозначенных стрелками, подписанными в легенде схемы цифрой «7», в период, которому посвящена схема, командовал Карл XII.
5)	Одним из руководителей похода, обозначенного стрелками, подписанными в легенде схемы цифрой «6», был М. В. Скопин-Шуйский.
6)	Территории, заштрихованные на схеме, были потеряны Россией в результате обозначенных событий, но полностью возвращены в течение следующих полутора столетий.

Какие суждения, относящиеся к данной схеме, являются верными? Выберите три суждения из шести предложенных.



Выберите несколько из 6 вариантов ответа:

1)	Участниками событий, изображённых на схеме, были М. Скуратов и А. Курбский
2)	Староста посада обратился с призывом к сбору средств на борьбу с интервентами в городе, обозначенном на схеме цифрой «4».
3)	Следствием событий, изображённых на схеме, стала утрата Россией заштрихованных на схеме территорий.
4)	Одной из причин событий, изображённых на схеме, стало пресечение царствующей династии Рюриковичей.
5)	Поход на Москву, обозначенный на схеме точечными стрелками, возглавлял самозванец, известный как Григорий Отрепьев.
6)	Древний русский город, обозначенный на схеме цифрой «1», отбил все попытки интервентов захватить его

### Задание №59

Расположите события в хронологической последовательности

Укажите порядок следования всех 5 вариантов ответа:

1)		Семибоярщина
2)		Изгнание поляков с Кремля вторым ополчением
3)		Восстание под предводительством И.И. Болотникова
4)		Убийство Лжедмитрия II
5)		Избрание царем Михаила Романова

### Задание №60

Установите хронологическую последовательность событий

Укажите порядок следования всех 5 вариантов ответа:

1)		Пресечение династии Рюриковичей
2)		Смерть царевича Дмитрия в Угличе
3)		Первое ополчение
4)		Воцарение Василия Шуйского
5)		Восстание Хлопко Косолапа

### Задание №61

Рассмотрите изображение и выполните задание.

Напишите имя и фамилию человека, изображенного на иллюстрации.



Запишите ответ:

1)

Ответ:

### Задание №62

Рассмотрите изображение и выполните задание.  
Напишите имя и фамилию человека, изображенного на иллюстрации.



Запишите ответ:

1)

Ответ:

### Задание №63

Рассмотрите изображение и выполните задание.

Какие утверждения, относящиеся к картине, являются верными.

Выберите три из шести предложенных.



Выберите несколько из 6 вариантов ответа:

1)	Автор данной картины С.Иванов
2)	На картине изображено изгнание поляков из Кремля
3)	Данное событие происходило в 1606-1607 годах
4)	На картине изображено наступление войск Второго ополчения против польских интервентов
5)	Автор данной картины Э.Лиснер
6)	Картина называется Битва войск Ивана Болотникова с царской армией

#### Задание №64

Рассмотрите изображение и выполните задание.

Какие утверждения, относящиеся к картине, являются верными.

Выберите три из шести предложенных.



Выберите несколько из 6 вариантов ответа:

1)	Это картина Эрнста Лиснера Изгнание поляков из Кремля
2)	Данное изображение относится к 1611 году
3)	На иллюстрации изображено войско Ивана Болотникова, осаждающее Москву
4)	Автор данной картины М. Верещагин
5)	Изображенные события произошли в 1612 году
6)	В честь событий, запечатленных на иллюстрации в России отмечается день народного единства

### Задание №65

Какие три исторических деятеля были участниками событий Смуты?

Выберите несколько из 6 вариантов ответа:

1)	Андрей Курбский
2)	Иван Болотников
3)	Федор Ртищев
4)	Прокопий Ляпунов
5)	Александр Меншиков
6)	Дмитрий Трубецкой

### Задание №66

Какие три исторических деятеля были участниками событий Смуты?

Выберите несколько из 6 вариантов ответа:

1)	Василий Шуйский
2)	Малюта Скуратов

3)		Дмитрий Шуйский
4)		патриарх Никон
5)		Алексей Адашев
6)		Иван Болотников

### Задание №67

Назовите положения, отражающие причины Смуты

Выберите несколько из 6 вариантов ответа:

1)		кризис феодально-крепостнической системы
2)		опричнина Ивана Грозного, показавшая обществу его бесправие перед произволом царской власти
3)		наличие дворянской оппозиции
4)		стремление различных социальных групп улучшить свое сословное положение
5)		представление народа, что власть в стране должна принадлежать только "природному" царю, принадлежавшему к династии Рюриковичей
6)		стремление царя укрепить самодержавную власть

### Задание №68

Назовите черты, характеризующие последствия Смуты

Выберите несколько из 6 вариантов ответа:

1)		экономическая разруха и обнищание народа
2)		повышение международного авторитета России
3)		воцарение новой династии Романовых
4)		временное усиление роли сословно-представительных органов власти- Боярской Думы и Земского собора
5)		отмена крепостного права
6)		усиление позиций служилого дворянства

### Задание №69

Письменное задание

## Часть С

### 1. Из сочинения историка.

«Смутное время было закончено с большими территориальными потерями для Руси. Смоленск был утрачен на долгие десятилетия, западная и значительная часть восточной Карелии захвачены шведами. Для восстановления утраченных в годы Смуты международных позиций Россия на протяжении всего века вела войны как с европейскими государствами



(Речью Посполитой, Швецией), так и со странами Востока (Крымским ханством и Турцией), что во многом способствовало усилению западного влияния на внутреннюю жизнь страны.

Россия уже была одной из самых больших стран мира, но всё ещё отставала по темпам развития экономики от западноевропейских стран. Осознание необходимости изменений в жизни страны подталкивало к изучению и внедрению лучших сторон европейского опыта. На русскую службу начали приглашаться иностранные специалисты. Они были необходимы для того, чтобы помочь использовать европейский опыт, как при подготовке к войнам, так и для организации производства. Так, на основе западноевропейских образцов при Алексее Михайловиче был принят первый в русской армии воинский устав. Организовать в Москве производство оружия (пушечный завод) и построить первый русский военный корабль «Орёл» помогали голландские специалисты. Уже в середине века в Москве проживало около 1,5 тысяч западноевропейцев. Иностранцы в Москве жили по своим обычаям, для чего была создана Немецкая слобода — «Кукуй»».

**Укажите век, к которому относятся описанные в отрывке события. Назовите династию русских царей, один из представителей которой упомянут в данном отрывке.**

**Критерии оценивания:**

Правильный ответ: 2 балла

## **2. Из исторического очерка:**

«Кандидатура представителя семьи Романовых устраивала разные слои населения и даже классы общества. Для боярства Романовы были свои — выходцы из одного из самых знатных боярских родов страны. Их считали своими и те, кто был близок к опричному двору... но и пострадавшие не чувствовали себя чуждыми этому семейству; среди его членов встречались казненные и опальные в годы опричнины, сам Филарет оказался в сеннике при бывшем опричнике Борисе Годунове. Наконец, Романовы пользовались большой популярностью среди казачества, с ним связывались многие иллюзии, и длительное пребывание Филарета в Тушине... заставляло и бывших тушинцев не опасаться за свою судьбу при новом правительстве. Поскольку Филарет возглавил в своё время делегацию, которая пригласила на русский трон Владислава, то и сторонники польского королевича не беспокоились за своё будущее при Романовых.

**Почему предпочтение было отдано Романовым? Укажите не менее трёх аргументов.**

**Критерии оценивания:**

Ответ на 1 вопрос -1 балл

Ответ на 2 вопроса- 2 балла

Ответ на 3 вопроса- 3 балла