

Материалы
для подготовки к тесту по истории 6 класс М-4 (профильный уровень)
по теме «Русские земли и европейское средневековье в XIII-XIV вв».

Тема	Содержание
От феодальной раздробленности к формированию национальных государств: сословно-представительная монархия.	Англия при нормандских королях, Плантагенетах. Рождение английского парламента. Процесс создания централизованного государства во Франции. Генеральные штаты во Франции. Формирование сословной монархии и укрепление королевской власти.
Монгольская экспансия: причины, ход, результаты.	Сердце Центральной Азии - Монголия. Образование, расцвет и распад империи Чингисхана. Образование Золотой Орды. Народы и религия Золотой Орды. Экономика. Ордынское владычество на Руси и повинности русского населения. Борьба Руси с монголами и последствия монгольского владычества для нее.
Русские земли в борьбе с натиском Запада и Востока.	Поход хана Батыя на Северо-Восточную Русь, нашествие монголо-татар на Южную Русь. Походы шведов и крестоносцев на земли Прибалтики. Князь Александр Ярославович. Невская битва. Ледовое побоище. Историческое значение побед русских воинов над шведскими и немецкими рыцарями.
Литовское государство и Русь. Золотая Орда.	Особенности образования Литовского государства. Устройство Литовско-Русского государства. Формирование русской, украинской, белорусской народностей. Союз Литвы и Польши.

Понятия: Графство, шериф, хартия, сословно- представительная монархия, абсолютная монархия, парламент, Генеральные штаты, кортес, ярлык, выход, ополченцы, агрессия, владычество, уния, курултай, нойоны, хан, баскаки.

Персоналии: Генрих III, Симон де Монфор, Филипп IV Красивый, Карл VII, Фердинанд II, Изабелла I, Чингисхан, хан Батый, Александр Ярославович, Миндовг, Гедимин, Ольгерд, Витовт, Ягайло.

Даты: 1086 г, 1215 г, 1265 г, 1302 г, 1479 г, 1492 г, 1223 г, 1237 г, 1237-1238 гг, 1240-1242 гг, 1240 г, 1242 г, 1385 г, 1410 г.

Материал для подготовки:

История России 6 класс. Часть 1. Под редакцией А.В. Торкунова Москва «Просвещение», 2017 г.

Л.В. Искровская, С.Е. Федоров, Ю.В. Гурьянова

История Средних веков Москва Вентана-Граф 2014.

- оформить лекционную тетрадь;
- работа с документом;
- картографический практикум (контурная карта);
- понятийный диктант;
- выступление на семинарском занятии;
- конспект для подготовки к семинарскому занятию.

Выполнение каждого вида работ подтверждается отметкой учителя в зачётном листе и допуском к итоговому тесту.

Семинар: «Кризис российской цивилизации».

План

1. Последствия ордынского вторжения на Русь.
2. Примеры героизма русских людей в борьбе с монголо-татарскими захватчиками.
3. Русь в кольце врагов.
4. Национальные герои русской истории: Александр Невский.

Семинарское занятие предполагает устное обсуждение заявленных вопросов на основе конспекта, который ученик составляет самостоятельно на основе изучения дополнительной литературы.

При подготовке к **1 вопросу важно** перечислить все последствия, которые имела Россия от монголо-татарского вторжения.

При подготовке к **2 вопросу** надо отметить примеры героизма и непримиримости по отношению к врагу обычных людей (подвиг Евпатия Коловрата, жителей города Козельска).

При подготовке к **3 вопросу** необходимо написать о угрозе Руси со стороны Запада, о важности побед русского войска над крестоносцами.

При подготовке к **4 вопросу надо** дать характеристику деятельности Александра Невского как полководца и исторического деятеля, указать значение его деятельности в истории России.

Литература для

подготовки к семинару:

История России 7 класс. Под редакцией А.В.Торкунова Москва «Просвещение», 2017г. Часть 2.

Ключевский В.О. Курс русской истории. Т. III. Ч. 3. М., 2008.

Н.И. Костомаров. Русская история в жизнеописаниях ее главнейших деятелей. Глава 8.

Александр Невский. <http://www.magister.msk.ru/library/history/kostomar/kostom07.htm>

Дополнительные источники:

АЛЕКСАНДР НЕВСКИЙ- <http://kremlion.ru/praviteli/nevskiy>

<http://ru.wikipedia.org/wiki/Портал:История>.

Кинофильм Александр Невский 1938 г.

Банк заданий.

Задание №1

Нашествие Батые на Русь произошло в

Выберите один из 4 вариантов ответа:

1)	1147 году
2)	1237 году
3)	1382 году
4)	1410 году

Задание №2

Победы русского войска под руководством Александра Невского относятся к

Выберите один из 4 вариантов ответа:

1)	XI веку
2)	XII веку
3)	X веку
4)	XIII веку

Задание №3

Какое событие произошло раньше других?

Выберите один из 4 вариантов ответа:

1)	сражение на Чудском озере
2)	захват монголами Киева
3)	битва на реке Калке
4)	провозглашение Чингисхана верховным правителем Монгольского государства

Задание №4

Укажите событие, которое было позже всех других

Выберите один из 4 вариантов ответа:

1)	Грюнвальдская битва
2)	Вторжение хана Батыя в Рязанские земли
3)	Битва на реке Калке
4)	Битва на реке Сити

Задание №5

Невская битва произошла

Выберите один из 4 вариантов ответа:

1)	15 июля 1240 года
2)	5 апреля 1242 года
3)	11 августа 1378 года
4)	8 сентября 1380 года

Задание №6

Парламент в Англии впервые был создан в

Выберите один из 4 вариантов ответа:

1)	1215 году
2)	1265 году
3)	1296 году
4)	1302 году

Задание №7

Во Франции Генеральные штаты впервые были созваны в

Выберите один из 4 вариантов ответа:

1)	1215 году
2)	1265 году
3)	1302 году
4)	1315 году

Задание №8

" Книга Страшного суда" была составлена в Англии в

Выберите один из 4 вариантов ответа:

1)		1086 году
2)		1099 году
3)		1215 году
4)		1265 году

Задание №9

Первая встреча русских войск с монголами произошла в битве на реке Калке в

Выберите один из 4 вариантов ответа:

1)		1206 г.
2)		1211 г.
3)		1223 г.
4)		1240 г.

Задание №10

Битва между литовскими, польскими, русскими войсками и Тевтонским орденом в 1410 году состоялась

Выберите один из 4 вариантов ответа:

1)		на льду Чудского озера
2)		на поле Куликовом
3)		на реке Угре
4)		при Грюнвальде

Задание №11

Первое сражение русских войск с монголами произошло на реке

Выберите один из 4 вариантов ответа:

1)		Каме
2)		Калке
3)		Непрядве
4)		Волге

Задание №12

Сараем называли

Выберите один из 4 вариантов ответа:

1)		город- столицу Золотой Орды
2)		место сбора дани
3)		хозяйственную постройку в княжеском дворе
4)		совет при золотоордынском хане

Задание №13

" Я уже здесь и пленяю землю твою"- такой вызов послал новгородскому князю командир шведского отряда, высадившегося

1)		на берегу Ладожского озера
2)		в устье Невы
3)		на реке Калке
4)		на реке Сити

Задание №14

Хан Батый принял решение " повернуть морды коней на юг", не дойдя до города

Выберите один из 4 вариантов ответа:

1)	Рязани
2)	Новгорода
3)	Киева
4)	Козельска

Задание №15

" Злым городом" хан Батый назвал

Выберите один из 4 вариантов ответа:

1)	Киев
2)	Новгород
3)	Козельск
4)	Волынь

Задание №16

Город, жители которого отчаянно сопротивлялись войскам Батыя в течение семи недель, - это

Выберите один из 4 вариантов ответа:

1)	Москва
2)	Владимир
3)	Суздаль
4)	Козельск

Задание №17

Единственным не захваченным монголами городом Руси в период с 1237 по 1242 год был

Выберите один из 4 вариантов ответа:

1)	Владимир
2)	Киев
3)	Великий Новгород
4)	Торжок

Задание №18

Название столицы Золотой Орды в переводе означает

Выберите один из 4 вариантов ответа:

1)	большой город
2)	крепость
3)	дворец
4)	торговая площадь

Задание №19

Русские земли с середины XIII века были

Выберите один из 4 вариантов ответа:

1)		в составе Золотой Орды
2)		улусом Золотой Орды
3)		вассалами Золотой Орды
4)		отдельным ханством Золотой Орды

Задание №20

Сражение с войском Батыя, в котором погиб князь Юрий Всеволодович, произошло на реке

Выберите один из 4 вариантов ответа:

1)		Сити
2)		Москве-реке
3)		Дону
4)		Волге

Задание №21

Союзником русских в битве на реке Калке были

Выберите один из 4 вариантов ответа:

1)		печенеги
2)		половцы
3)		византийцы
4)		варяги

Задание №22

Парламент в Англии делился на палату лордов и палату

Выберите один из 4 вариантов ответа:

1)		конгресса
2)		чиновников
3)		общин
4)		духовенства

Задание №23

Первым русским княжеством, разорённым Батыевым войском, было княжество

Выберите один из 4 вариантов ответа:

1)		Новгородское
2)		Рязанское
3)		Киевское
4)		Владимирское

Задание №24

Какой город стал центром русских земель в конце XIII в. и резиденцией митрополита Киевского и всея Руси?

Выберите один из 4 вариантов ответа:		
1)		Киев
2)		Владимир
3)		Москва
4)		Рязань

Задание №25		
Александр Невский стал сражаться против немцев и шведов, потому что		
Выберите один из 4 вариантов ответа:		
1)		Александра пригласило в Новгород вече
2)		Александр сумел объединить войска всех княжеств Руси и повести на битвы
3)		Александр захватил новгородский престол и возглавил городское ополчение
4)		Александра назначило княжичем вече Новгорода, которое имело право предоставить этот титул любому челооку

Задание №26		
Во время завоеваний Батя русские княжества		
Выберите один из 4 вариантов ответа:		
1)		объединялись для организации совместной помощи друг другу
2)		просили помощи у папы римского
3)		мало поддерживали друг друга из-за раздробленности
4)		не оказывали сопротивления войскам Батя

Задание №27		
С именем дружинника Гаврилы Олексича связано сражение		
Выберите один из 4 вариантов ответа:		
1)		на реке Неве
2)		на Чудском озере
3)		на реке Сити
4)		на реке Воже

Задание №28		
С именем воеводы Дмитрия связана оборона		
Выберите один из 4 вариантов ответа:		
1)		Владимира
2)		Новгорода
3)		Козельска
4)		Киева

Задание №29		
--------------------	--	--

Владимирский князь Юрий Всеволодович встретил врага

Выберите один из 4 вариантов ответа:

- | | |
|----|-----------------|
| 1) | на реке Сити |
| 2) | на реке Москве |
| 3) | у Рязани |
| 4) | у реки Непрядвы |

Задание №30

Во главе Литовско-Русского государства в момент его основания находился князь

Выберите один из 4 вариантов ответа:

- | | |
|----|---------|
| 1) | Гедимин |
| 2) | Миндовг |
| 3) | Ольгерд |
| 4) | Ягайло |

Задание №31

"Королем Литвы и Руси" называли князя

Выберите один из 4 вариантов ответа:

- | | |
|----|----------|
| 1) | Гедимина |
| 2) | Войшелка |
| 3) | Миндовга |
| 4) | Ягайло |

Задание №32

Великим Литовское государство стало именоваться в правление князя

Выберите один из 4 вариантов ответа:

- | | |
|----|----------|
| 1) | Ольгерда |
| 2) | Войшелка |
| 3) | Гедимина |
| 4) | Витовта |

Задание №33

Поход 1237 года на Русь возглавил хан

Выберите один из 4 вариантов ответа:

- | | |
|----|-----------|
| 1) | Чингисхан |
| 2) | Батый |
| 3) | Едигей |
| 4) | Темучин |

Задание №34

Имя Александра Невского связано с победой

Выберите один из 4 вариантов ответа:		
1)		на Чудском озере
2)		на Онежском озере
3)		на Ладожском озере
4)		на озере Ильмень

Задание №35		
Оборону Рязани в декабре 1237 года возглавил		
Выберите один из 4 вариантов ответа:		
1)		Евпатий Коловрат
2)		Юрий Всеволодович
3)		Александр Ярославич
4)		Владимир Серпуховский

Задание №36		
Первый английский парламент в Англии был созван		
Выберите один из 4 вариантов ответа:		
1)		бароном Симоном де Монфором
2)		королем Генрихом III
3)		королем Вильгельмом I
4)		королем Ричардом II

Задание №37		
Представитель Золотой Орды, следящий за сбором дани и выполнением ханских повелений назывался		
Выберите один из 4 вариантов ответа:		
1)		наместник
2)		посадник
3)		баскак
4)		темник

Задание №38		
Ярлыком в XIII веке называли		
Выберите один из 4 вариантов ответа:		
1)		часть монгольского войска
2)		боевой порядок немецких рыцарей
3)		ханскую грамоту на право княжения
4)		поборы с покоренных народов

Задание №39		
" Свиньей"- называли		

Выберите один из 4 вариантов ответа:		
1)		ордынский выход
2)		городские укрепления
3)		построение монгольской конницы
4)		боевой порядок построения немецких рыцарей

Задание №40		
Съезд монгольской знати		
Выберите один из 4 вариантов ответа:		
1)		сейм
2)		диван
3)		вече
4)		курултай

Задание №41		
В начале XIII века во главе монгольских племен стоял		
Выберите один из 4 вариантов ответа:		
1)		конунг
2)		нойон
3)		ярл
4)		князь

Задание №42		
Во Франции парламент назывался		
Выберите один из 4 вариантов ответа:		
1)		Генеральные штаты
2)		Рейхстаг
3)		Риксдаг
4)		Кортес

Задание №43		
Кортесом в Испании называли		
Выберите один из 4 вариантов ответа:		
1)		правителя государства
2)		орган представительства сословий
3)		личную гвардию Испанского короля
4)		отвоевание христианскими народами того, что принадлежало мусульманам

Задание №44		
--------------------	--	--

Прочтите отрывок из источника и укажите век, когда произошли описанные события.
 «И пришли немцы к Чудскому озеру, и встретил их Александр и изготовился к бою, и пошли они друг против друга, и покрылось озеро Чудское множеством тех и других воинов. Отец Александра, Ярослав, прислал ему на помощь младшего брата Андрея с большою дружиною. Да и у князя Александра было много храбрых воинов. Так и мужи Александра исполнились духа ратного, ведь были сердца их, как сердца львов, и воскликнули: «О княже наш славный! Ныне пришло нам время положить головы свои за тебя». Была же тогда суббота, и, когда взошло солнце, сошлись противники. И была сеча жестокая, и стоял треск от ломающихся копий и звон от ударов мечей, и казалось, что двинулось замёрзшее озеро, и не было видно льда, ибо покрылось оно кровью».

Выберите один из 4 вариантов ответа:

1)	XII век
2)	XIII век
3)	XIV век
4)	XV век

Задание №45

Прочтите отрывок из сочинения историка и укажите князя, о котором идёт речь.
 «Этот князь дал сражение меченосцам на льду Чудского озера, убил у них четыреста рыцарей, взял в плен пятьдесят и истребил много чуди. Эта битва названа Ледовым побоищем. Он торжественно вошёл в Новгород, ведя за собой скованных пленников. Гроссмейстер боялся, что князь подступит к самой Риге, и обратился за помощью к Дании. Новгородский князь, довольный избавлением Пскова, заключил мир, по которому немцы отказались от некоторых владений».

Выберите один из 4 вариантов ответа:

1)	Юрий Долгорукий
2)	Александр Невский
3)	Иван Калита
4)	Дмитрий Донской

Задание №46

В результате похода Батыя на Русь

Выберите один из 4 вариантов ответа:

1)	русские земли вновь объединились под властью киевских князей
2)	границы монгольской державы достигли берегов Адриатического моря
3)	русские земли были разорены
4)	на Руси начался период феодальной раздробленности

Задание №47

Причина победы монгольского войска на реке Калке

Выберите один из 4 вариантов ответа:

1)	несогласованность действий русских и половецких войск
2)	наличие у монголов огнестрельного оружия
3)	снижение уровня воды в реке из-за засушливого лета
4)	отказ русских князей прийти на помощь половцам

Задание №48

Одним из последствий монгольского нашествия на Русь было

Выберите один из 4 вариантов ответа:

1)	начало распространения христианства
2)	установление зависимости русских земель от ордынских ханов
3)	начало распада русских земель на отдельные княжества
4)	экономический подъем Руси

Задание №49

Причиной крестовых походов на Русь в XII-XIII веках было

Выберите один из 4 вариантов ответа:

1)	освобождение Новгородской и Псковской земель от монголов
2)	завоевание новых земель и распространение католицизма
3)	знакомство жителей Руси с передовыми методами ведения хозяйства
4)	восстановление торгового пути "из варяг в греки"

Задание №50

Результатом битв на Неве и Чудском озере было

Выберите один из 4 вариантов ответа:

1)	захват Русью всего побережья Балтийского моря
2)	положено начало объединению русских земель
3)	остановлено наступление монголов
4)	предотвращено распространение католицизма в русских землях

Задание №51

К причинам завоевательных походов шведов на русские земли относится

Выберите один из 4 вариантов ответа:

1)	стремление захватить богатые земли Новгорода и окрестностей
2)	желание шведов покорить монголов, для чего нужно было пройти через новгородские земли
3)	необходимость отбиваться от постоянных набегов новгородцев на шведские территории
4)	стремление шведов переселить своих крестьян на земли Новгорода, а также Владимиро-Суздальского княжества

Задание №52

К результатам побед Александра Невского на Неве и Чудском озере относится

Выберите один из 4 вариантов ответа:

1)	разгром войск хана Батыея
2)	укрепление обороноспособности северо- западных границ
3)	начало распада Руси на самостоятельные земли
4)	разгром Ливонского ордена

Задание №53

В результате заключения унии между Литвой и Польшей

Выберите один из 4 вариантов ответа:

1)	ухудшилось положение православного населения
2)	возрос приток переселенцев из Северо-Восточной Руси в Литву
3)	ослабла обороноспособность Литвы и Польши
4)	ухудшились отношения между Литвой и Польшей

Задание №54

В 1240 году князь Александр Невский был изгнан из Новгорода потому что

Выберите один из 4 вариантов ответа:

1)	новгородцы были недовольны покровительством, которое он оказывал ростовщикам
2)	новгородцы выполнили требование хана Батыея
3)	князь не смог противостоять нашествию немецких рыцарей на Новгородскую землю
4)	новгородские бояре опасались усиления княжеской власти

Задание №55

Что способствовало победе новгородского войска в Ледовом побоище

Выберите один из 4 вариантов ответа:

1)	умелое использование русскими способа засады
2)	преимущество в профессионализме русского войска
3)	более совершенное вооружение русских воинов
4)	отсутствие у противника конницы

Задание №56

Отметьте отрицательное последствие монгольских завоеваний.

Выберите один из 4 вариантов ответа:

1)	распространение изучения иностранных языков
2)	создание регулярной почтовой службы
3)	хозяйственное разорение регионов
4)	проникновение элементов европейского быта в жизнь монгольской знати

Задание №57

Одна из причин успеха завоевательного похода Батыея на Русь

Выберите один из 4 вариантов ответа:

1)	раздробленность Русских земель
2)	нежелание горожан защищать свои города
3)	организация совместного войска Батыея и европейских правителей
4)	помощь Батыею со стороны папы римского

Задание №58

Как сложилась судьба Новгорода во время похода Батя на Северо-Восток Руси?

Выберите один из 4 вариантов ответа:

1)	Новгород был захвачен войском Батя за пять дней
2)	Новгород героически оборонялся семь недель, но вынужден был сдаться
3)	Батый принял решение не идти на Новгород
4)	Новгородское ополчение разгромило войско Батя

Задание №59

Отметьте положительное последствие монгольских завоеваний.

Выберите один из 4 вариантов ответа:

1)	исчезновение городов
2)	сокращение населения
3)	знакомство с культурными достижениями Китая в странах Европы
4)	обложение данью значительной части завоёванного населения

Задание №60

Установите соответствие между определениями и терминами.

Укажите соответствие для всех 3 вариантов ответа:

1)	вассальная зависимость Руси от хана Золотой орды	1)	выход
2)	сбор князем дани	2)	полюдье
3)	ежегодный платеж Орде	3)	иго

Задание №61

Установите соответствие между историческими терминами и их определениями.

Укажите соответствие для всех 3 вариантов ответа:

1)	съезд ордынской знати	1)	баскак
2)	земля, подвластная хану Золотой Орды	2)	курултай
3)	ордынский сборщик дани в русских княжествах	3)	улус

Задание №62

Установите соответствие между сражением и фактом, относящимся к нему

Укажите соответствие для всех 3 вариантов ответа:

1)	ранение военачальника Биргера	1)	сражение на Чудском озере
2)	участие в сражении тяжёлой рыцарской конницы	2)	сражение на реке Неве
3)	отсутствие единого командования в русском войске	3)	сражение на реке Калке

Задание №63

Установите соответствие между событием и датой.

Укажите соответствие для всех 4 вариантов ответа:

1)		военный поход внука Чингисхана к берегам Адриатического моря	1)	1211 г.
2)		смерть Чингисхана	2)	1220 г.
3)		основание столицы Монгольского государства	3)	1227 г.
4)		военный поход монголов на империю Цзинь	4)	1241 г.

Задание №64

Установите соответствие между местами сражений и фактами, относящимся к ним

Укажите соответствие для всех 3 вариантов ответа:

1)		бегство половцев с места сражения	1)	сражение на Чудском озере
2)		построение войск противника клином (свиньёй)	2)	сражение на реке Неве
3)		внезапное нападение на суда противника	3)	сражение на реке Калке

Задание №65

Установите соответствие между именами правителей и событиями, с ними связанными.

Укажите соответствие для всех 4 вариантов ответа:

1)		Чингисхан	1)	поход на русские княжества
2)		Даниил Романович	2)	образование Монгольского государства
3)		Батый	3)	битва на реке Калке
4)		Мунке	4)	перепись населения на покорённых территориях

Задание №66

Установите соответствие между событиями и датами.

Укажите соответствие для всех 4 вариантов ответа:

1)		первая встреча русских войск с монголами	1)	1206 г.
2)		основание Монгольского государства	2)	1211 г.
3)		завоевание монголами империи Цзинь	3)	1223 г.
4)		смерть Чингисхана	4)	1227 г.

Задание №67

Установите соответствие между событиями и датами.

Укажите соответствие для всех 4 вариантов ответа:

1)		захват войском Батыя Киева	1)	1223 г.
2)		битва на реке Калке	2)	1237 г.
3)		захват Рязани войсками Батыя	3)	1238 г.
4)		битва на реке Сити	4)	1240 г.

Задание №68

Установите соответствия между событиями и датами.

Укажите соответствие для всех 4 вариантов ответа:

1)		Ледовое побоище	1)	1219 г.
2)		Невская битва	2)	1240 г.
3)		основание крепости Ревель	3)	1242 г.
4)		смерть Александра Невского	4)	1263 г.

Задание №69

Установите соответствие между правителями и событиями, в которых они участвовали.

Укажите соответствие для всех 4 вариантов ответа:

1)		Мстислав Удалой	1)	первая перепись населения в завоеванных землях
2)		Чингисхан	2)	битва на реке Калке
3)		Батый	3)	основание Монгольского государства
4)		Мунке	4)	поход на русские княжества

Задание №70

Назовите ТРИ термина, связанные с зависимостью русских земель от монголо- татар

Выберите несколько из 6 вариантов ответа:

1)		дань
2)		посадник
3)		ярлык
4)		полюдьё
5)		баскак
6)		удел

Задание №71

Назовите ТРИ события, относящихся к вторжению монголо- татар на Русь

Выберите несколько из 6 вариантов ответа:

1)		нападение на Рязань
2)		захват Пскова
3)		Оборона Киева под руководством Димитра
4)		Невская битва
5)		образование Генеральных штатов
6)		битва на р. Сить

Задание №72

Какие три из перечисленных событий связаны с нашествием шведских и немецких рыцарей на Русь

Выберите несколько из 5 вариантов ответа:

1)	основание города Риги
2)	победа Ярослава Всеволодовича под Юрьевом
3)	освобождение Александром Невским города Изборска
4)	битва на Чудском озере
5)	основание города Звенигород

Задание №73

Какие три из перечисленных событий относятся к вторжению монголов на Русь

Выберите несколько из 5 вариантов ответа:

1)	вторжение в Рязанскую землю
2)	захват Пскова
3)	защита Киева под руководством воеводы Димитра
4)	сражение на реке Неве
5)	мужественное сопротивление Козельска

Задание №74

Выберите из списка ТРИ отрицательных последствия ордынского владычества.

Выберите несколько из 6 вариантов ответа:

1)	выплата дани Орде
2)	заимствование новых слов из других языков
3)	организация почтовой связи
4)	захват в плен жителей русских городов
5)	исчезновение некоторых видов ремесел
6)	появление знати монгольского происхождения

Задание №75

Выберите из списка ТРИ особенности завоевательной политики монголов.

Выберите несколько из 4 вариантов ответа:

1)	монголы использовали китайскую военную технику
2)	монголы начали завоевательные походы, когда в войске Чингисхана было около тысячи человек
3)	монгольская конница отличалась значительной маневренностью
4)	завоеватели действовали исключительно жестоко по отношению к покорённому поселению

Задание №76

О каком герое рассказывает рязанский народный эпос XIII в.? "И начали сечь без милости,

и смешались все полки татарские. И бил их ...так нещадно, что и мечи притуплялись, и брал он мечи татарские, и сёк ими. Почудилось татарам, что мёртвые восстали..."
Ответ: со строчной буквы, в ед.ч без пробелов пример: александрневский

Запишите ответ:

1)

Ответ:

Задание №77

Прочтите текст и напишите название описанной битвы.

"Князь же <имя> приготовился к бою, и пошли они друг против друга, и покрылось <географическое название> множеством тех и других воинов. Отец <имя>, Ярослав, прислал ему на помощь младшего брата Андрея с большою дружиною. Так и мужи <имя>, исполнились духа ратного, ведь были сердца их как сердца львов, и воскликнули: "О княже наш славный! Ныне пришло нам время положить головы свои за тебя". Князь же <имя> воздел руки к небу и сказал: "Суди меня. Боже, рассуди спор мой с народом неправедным и помоги мне". Была же тогда суббота, и когда взошло солнце, сошлись противники. И была сеча жестокая, и стоял треск от ломающихся копий и звон от ударов мечей, и казалось, что двинулось замерзшее озеро, и не было видно льда, ибо покрылось оно кровью».

Запишите ответ:

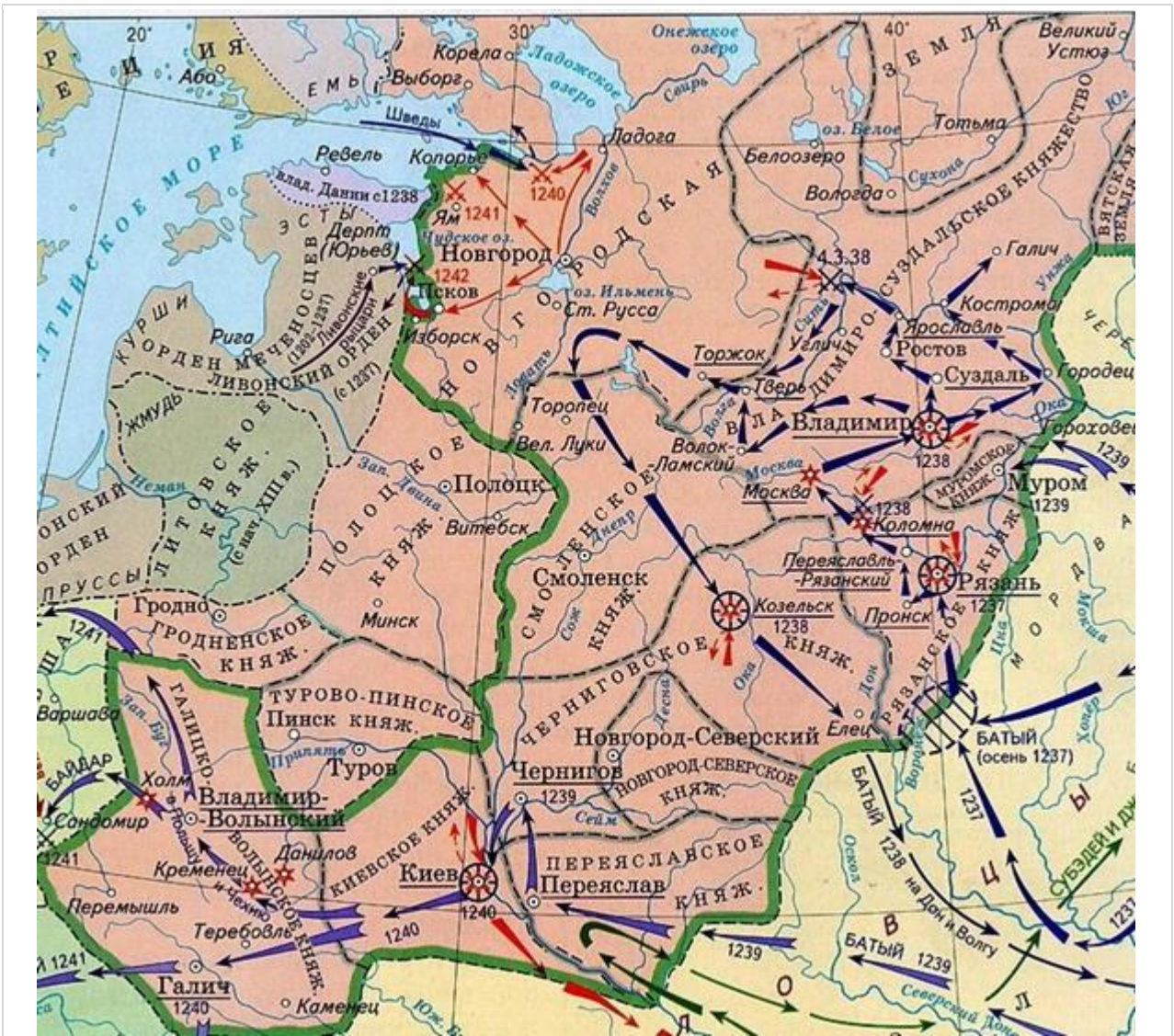
1)

Ответ:

Задание №78

Рассмотрите схему и выполните задание.

Напишите имя полководца, осуществившего поход, обозначенный на схеме стрелками.



Запишите ответ:

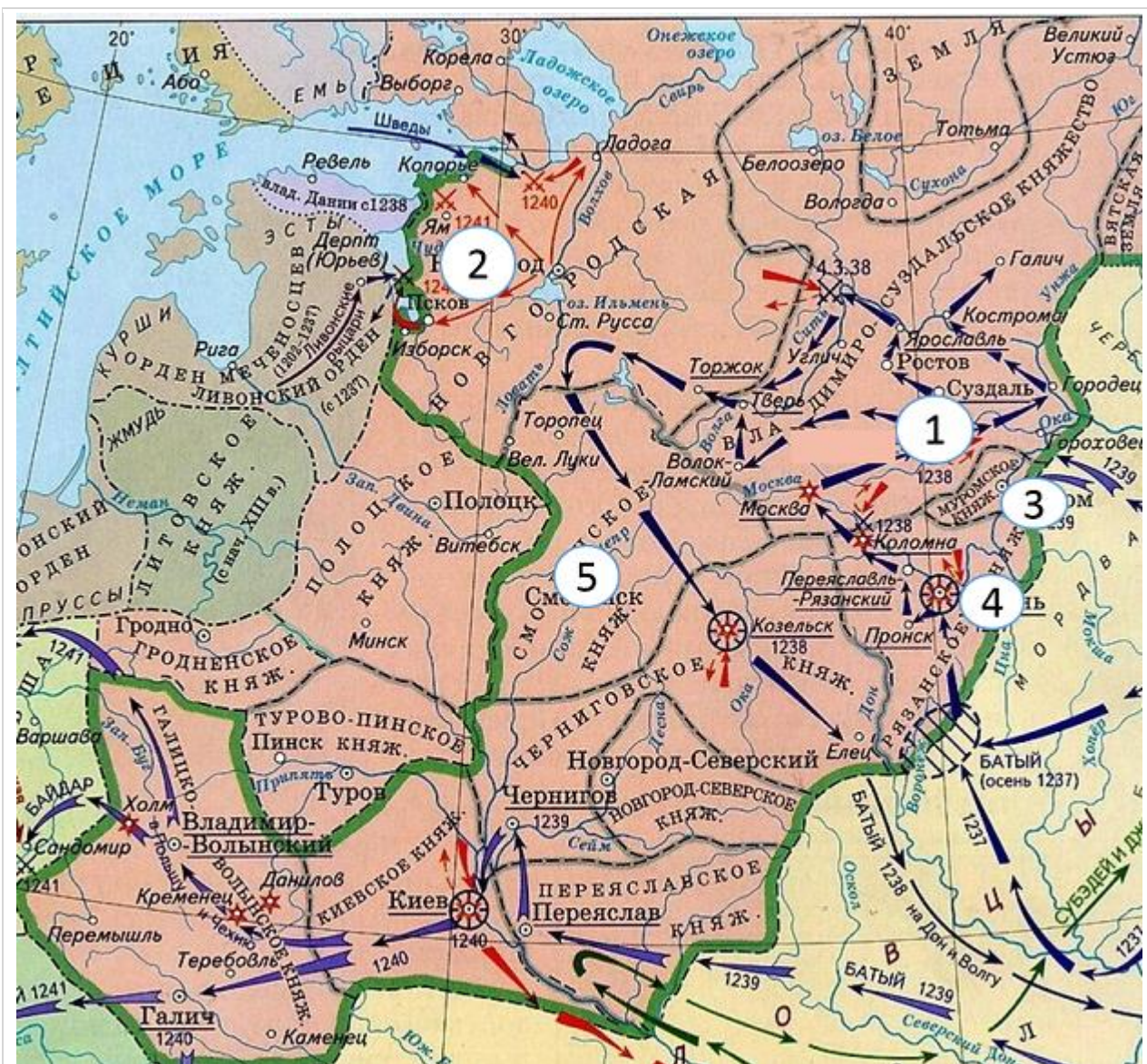
1)

Ответ:

Задание №79

Рассмотрите схему и выполните задание.

Напишите название города, обозначенного на схеме цифрой «1».



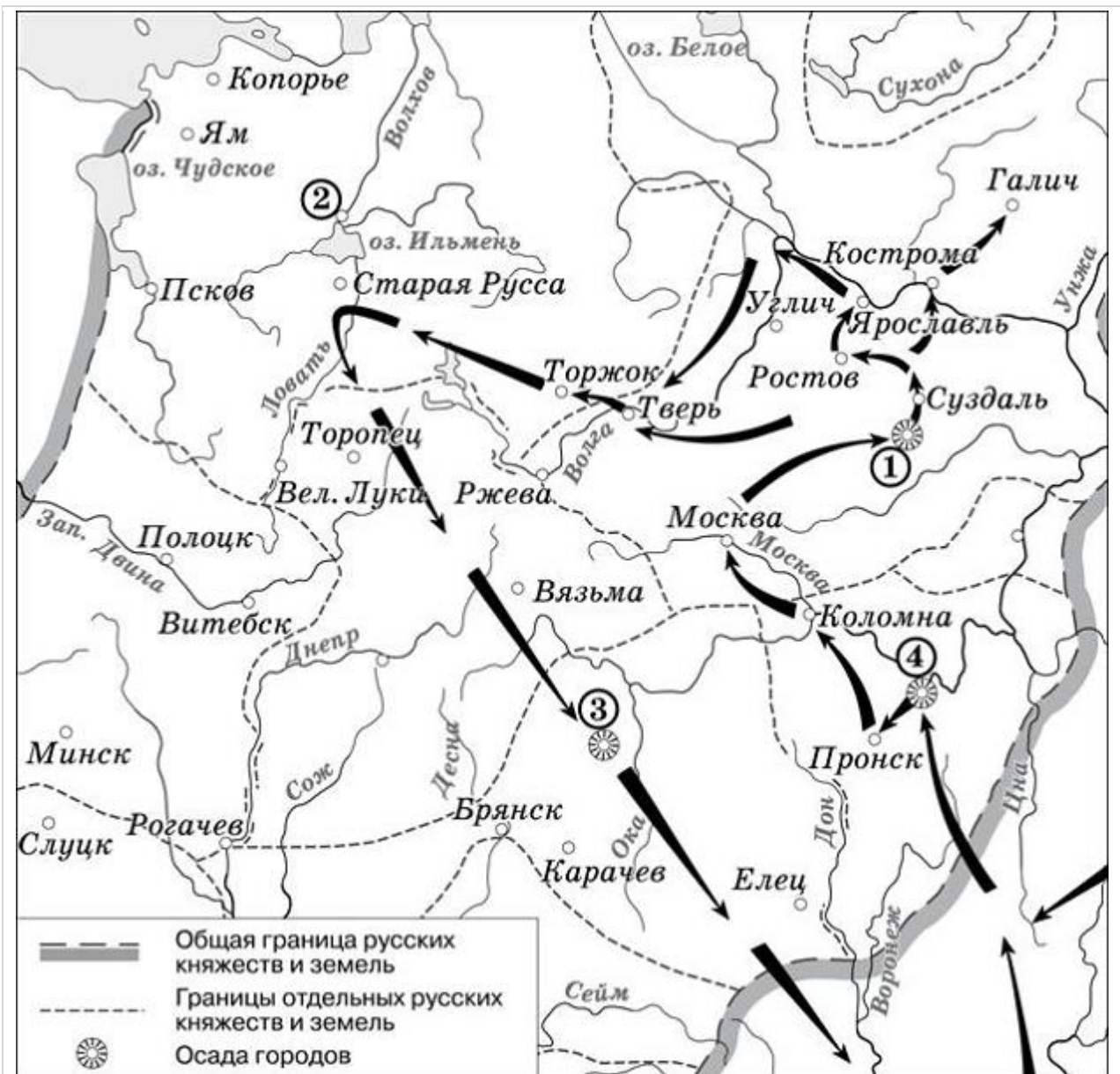
Запишите ответ:

1)

Ответ:

Задание №80

Какой цифрой на схеме обозначен город, прославившийся героическим сопротивлением захватчикам в течение семи недель в ходе событий, обозначенных на схеме стрелками?



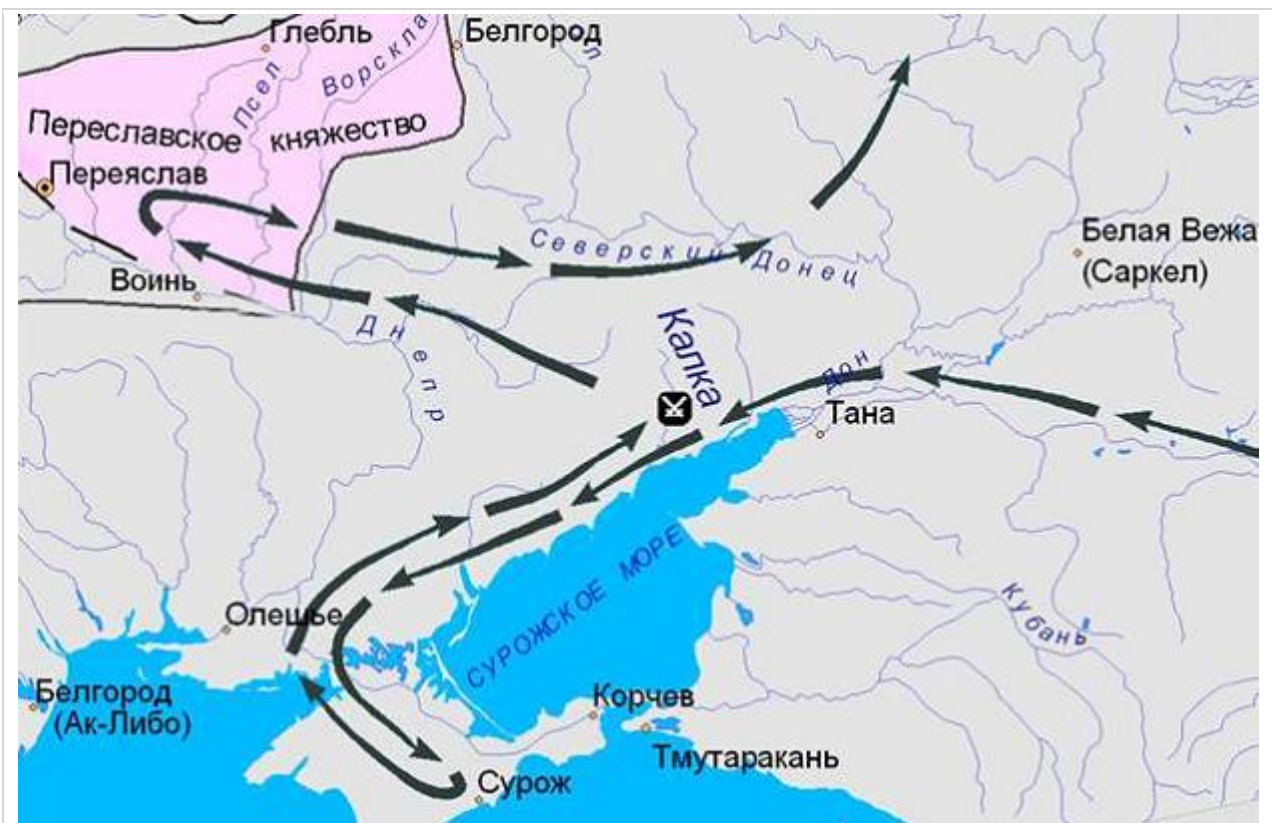
Выберите один из 4 вариантов ответа:

1)	1
2)	2
3)	3
4)	4

Задание №81

Рассмотрите схему и выполните задание.

Укажите год, когда произошли события, обозначенные на схеме стрелками.



Выберите один из 4 вариантов ответа:

1)	1036 г.
2)	1185 г.
3)	1223 г.
4)	1238 г.

Задание №82

Рассмотрите схему и выполните задание.

Назовите монгольского военачальника, к деятельности которого относится военный поход по маршруту, представленному на схеме.



Выберите один из 4 вариантов ответа:

1)	Чингисхан
2)	Батый
3)	Биргер
4)	Мстислав Удалой

Задание №83

Рассмотрите схему и выполните задание.

Назовите военачальника, к деятельности которого относится военный поход по маршруту, обозначенному сиреневыми стрелками



Выберите один из 4 вариантов ответа:

1)	Биргер
2)	Чингисхан
3)	Александр Невский
4)	Батый

Задание №84

Рассмотрите схему и определите, в каком году произошла эта битва



Выберите один из 4 вариантов ответа:

1)		1223 г.
2)		1242 г.
3)		1237 г.
4)		1211 г.

Задание №85

Рассмотрите схему и отметьте её участника



Выберите один из 4 вариантов ответа:

1)	Гедимин
2)	Даниил Романович Галицкий
3)	воевода Димитр
4)	Гаврило Олексич

Задание №86

1. Какие суждения, относящиеся к событиям, обозначенным на схеме, являются верными? Выберите три суждения из шести предложенных.



Выберите несколько из 6 вариантов ответа:

1)		в битве, обозначенной на схеме цифрой 1, сражались морские флоты;
2)		полководец, осуществивший обозначенные на карте походы, являлся приглашенным князем в Новгороде
3)		союзником иноземных захватчиков, разгромленных в ходе обозначенных на карте походов, являлся хан Батый;
4)		полководец, осуществивший обозначенные на карте походы, являлся сыном великого князя владимирского;
5)		благодаря успешности походов, обозначенных на карте, полководец стал единоличным правителем в Новгороде
6)		в результате походов, обозначенных на карте, было остановлено продвижение крестоносцев на восток.

Задание №87

1. Какие суждения, относящиеся к событиям, обозначенным на схеме, являются верными? Выберите три суждения из шести предложенных.



Выберите несколько из 6 вариантов ответа:

1)	завоеватели вторгались в пределы русских земель летом;
2)	города, захваченные завоевателями, не выдержали осады более недели;
3)	походы, обозначенные на схеме, длились в общей сложности около 5 лет;
4)	одним из последствий событий, обозначенных на схеме, было начало раздробленности Древнерусского государства;
5)	полководец, чьи походы обозначены на схеме, основал государство;
6)	в результате событий, обозначенных на схеме, русские земли попали в зависимость от Ливонского ордена.

Задание №88

Напишите имя и фамилию князя, изображенного на иллюстрации.
 Ответ напишите со строчной буквы и без пробелов.



Запишите ответ:

1)

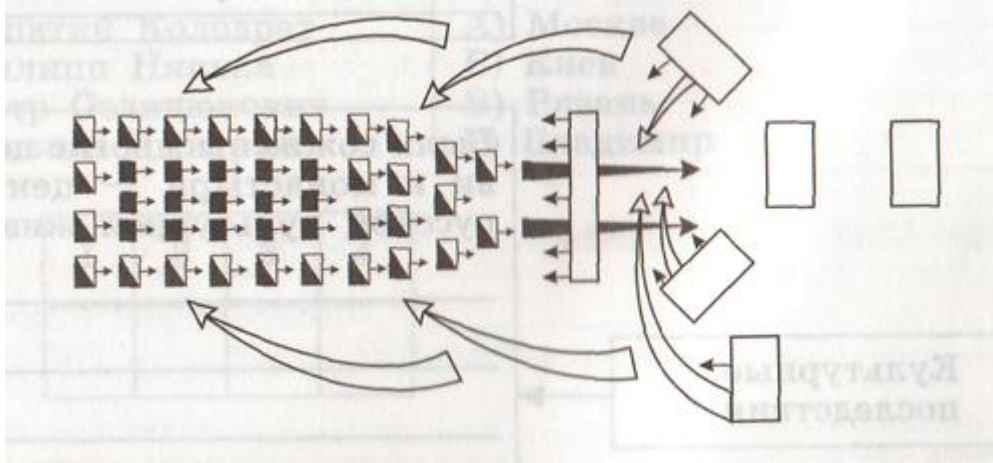
Ответ:

Задание №89

Рассмотрите схему и выполните задание.

Напишите название битвы, изображенной на схеме.

Ответ запишите со строчной буквы без пробелов, например грюнвальдскаябитва.



Запишите ответ:

1)

Ответ:

Задание №90

Рассмотрите иллюстрацию и выполните задание.

Укажите имя исторической личности, изображённой на рельефе.




Выберите один из 4 вариантов ответа:

1)	Батый
2)	Чингисхан
3)	Субудай- багатур
4)	Мамай

Задание №91

Рассмотрите иллюстрацию и выполните задание.

Укажите историческое событие, которое легло в основу представленной иллюстрации.



Выберите один из 4 вариантов ответа:

1)	поход князя Святослава Игоревича на хазар
2)	битва на реке Калке
3)	взятие Владимира войсками хана Батые
4)	Ледовое побоище

Задание №92

Рассмотрите иллюстрацию и выполните задание.
Укажите, кто изображён на картине С.В. Иванова.



Выберите один из 4 вариантов ответа:

1)	монгольские военачальники
2)	монгольские купцы
3)	баскаки
4)	половцы

Часть С

Задание 1. Прочтите документ и выполните задания к нему:

«Александр поспешил напасть на врагов в шестом часу дня, и была сеча великая с римлянами, и перебил их князь великое множество, а на лице самого короля оставил след острого копья своего».

- 1. Назовите полное имя князя, о котором идёт речь в документе.*
- 2. В каком году произошло сражение?*
- 3. Какой город защищал князь?*

Критерии оценивания

Верно указан один любой элемент ответа 1
Верно указаны два любые элемента ответа 2
Верно указаны три элемента ответа 3
Ответ неверный 0

Максимальный балл 3

Задание 2. Прочтите документ и выполните задания к нему:

Из исторического произведения

Одним из следствий - нашествий стало отделение юго-восточных русских земель от северо-- западных и включение их в состав молодого Литовского княжества, получившего чуть позже

официальное название Великого княжества Литовского и Русского. Толчком к объединению русских и литовских земель стала борьба с внешней опасностью.

С запада и северо-запада этим землям угрожали Орден меченосцев и Тевтонский орден (в 1237 г. номинально объединились в Ливонский орден), с востока Орда. Практически вся начальная история нового балто-славянского государства тяжелейшая борьба на два фронта против Ордена и против Орды. Заключив союзный договор с <князь>, русско-литовские войска разбили крестоносцев Тевтонского ордена. Литовский князь Миндовиг нанес также два поражения отрядам ордынцев при их попытке проникнуть в пределы Литвы.

Назовите имя князя, с которым литовский князь Миндовиг заключил союзный договор. Укажите век, к которому относятся события, описанные в тексте.

В первом абзаце отрывка найдите и запишите предложение, положения которого раскрываются в тексте. Укажите не менее двух фактов, подтверждающих положение.

Критерии оценивания

Верно указано имя- 1 балл

Верно указан век- 1 балл

Верно указано предложение- 1 балл

Верно указан 1 факт-1 балла

Верно указан 2 факт- 1 балл

Максимальный балл- 5