

Школьный этап Всероссийской олимпиады по географии

6 класс.

Тестовый раунд

1. В 2018 году городу Хабаровску исполняется 160 лет, а Хабаровскому краю – 80 лет. Данные географические объекты названы в честь землепроходца Хабарова. Назовите его имя:

- 1) Евграф
- 2) Ермак
- 3) Евгений
- 4) Ерофей

+

15

2. Компас был изобретен:

- 1) в Древнем Китае
- 2) в Древней Индии
- 3) в Древнем Египте
- 4) в Междуречье

+

15

3. Большая часть знаний о внутреннем строении Земли получена учеными:

- 1) При изучении движения солнечных лучей
- 2) При изучении землетрясений и извержений вулканов
- 3) При изучении глубин океанов
- 4) При изучении почв

+

15

4. Из перечня выберите признаки, характерные для параллелей:

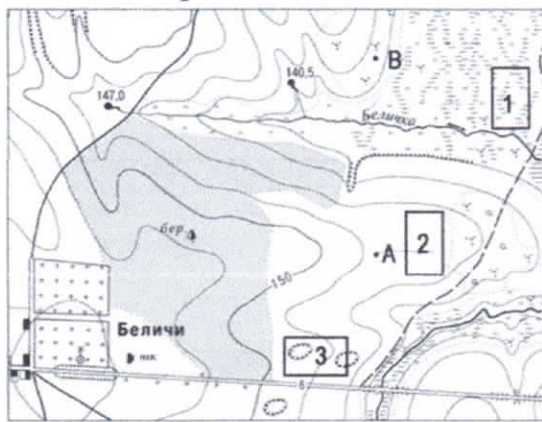
- 1) имеют форму полукружности
- 2) показывают направление «запад – восток» +
- 3) показывают направление «север – юг»
- 4) соединяют северный и южный полюсы
- 5) имеют равную длину
- 6) их длина уменьшается от экватора к полюсам +
- 7) их направление совпадает с направлением тени от предметов в полдень
- 8) имеют форму окружности

+ 25

5. Первым мореплавателем, дважды совершившим кругосветное плавание, был:

- 1) Христофор Колумб
- 2) Эйрик Рыжий
- 3) Джеймс Кук
- 4) Фернан Магеллан

6. В каком направлении от точки В находятся Беличи?



- 1) северо-восток
- 2) юго-восток
- 3) северо-запад
- 4) юго-запад

Масштаб 1:10 000
В 1 см 100 м
Горизонтали проведены через 2,5 метра

7. Какой природный объект расположен на востоке от точки А?

- 1) болото
- 2) река
- 3) березовый лес
- 4) кустарники

+

15

8. Назовите материки, которые пересекает экватор

- 1) Африка
- 2) Южная Америка
- 3) Австралия
- 4) Антарктида
- 5) Евразия
- 6) Северная Америка

+ 25

9. Выберите неверное утверждение

- 1) 21 марта на всей Земле день равен ночи
- 2) Осевое вращение Земли вызывает смену времен года
- 3) Земля совершает полный оборот вокруг Солнца за 1 год
- 4) 22 декабря Южное полушарие освещено больше, Солнце в зените на Южном тропике

10. Выберите из списка планету земной группы:

- 1) Юпитер
- 2) Венера
- 3) Нептун
- 4) Сатурн

+ 15

11. Из списка выберите метаморфические горные породы:

- 1) Гипс
- 2) Гнейс
- 3) Базальт
- 4) Мрамор

12. Какие слои Земли включает в себя литосфера?

- 1) Земную кору и верхнюю мантию
- 2) Земную кору и внутреннее ядро
- 3) Земную кору и нижнюю мантию
- 4) Мантию и внешнее ядро


+ 10

13. Выберите самые высокие горы Хабаровского края:

- 1) Сунтар-Хаята
- 2) Джугджур
- 3) Сихотэ-Алинь
- 4) Хехцир

14. Какому численному масштабу соответствует линейный масштаб

Масштаб в 1 см 2,5 км



- 1) 1:2500
- 2) 1:250000 +
- 3) 1:25
- 4) 1:250

+

15. Из каких слоев состоит океаническая земная кора?

- 1) Осадочный, гранитный, базальтовый
- 2) Осадочный, базальтовый
- 3) Осадочный, гранитный
- 4) Базальтовый, гранитный

1/15

Аналитический раунд

Задание №1. Установите соответствие между именами путешественников и открытиями, которые они совершили. Определите век, в котором совершено каждое из перечисленных открытий. Вспомните, какие географические объекты названы именами этих путешественников? Ответ представьте в виде таблицы. Используйте физическую и политическую карты мира в атласе.


Имя путешественника	Открытие, которое совершил путешественник	Век, в который совершено открытие	Географические объекты, названные в честь путешественника
Христофор Колумб	Открытие Америки	1492-1493	Колумбия
Фернан Магеллан	первое кругосветное плаван.	1519-1521	Магелланов пролив
Фаддей Беллинсгаузен	открытие Антарктиды	1819-1821	Море Беллинсгаузена
Василий Поярков	первый выход к Амуру		
Руал Амундсен	первое покорение юж. полюса	1910-1912	море Амундсена

7,5
7,5
7,5
9,5
7,5
70

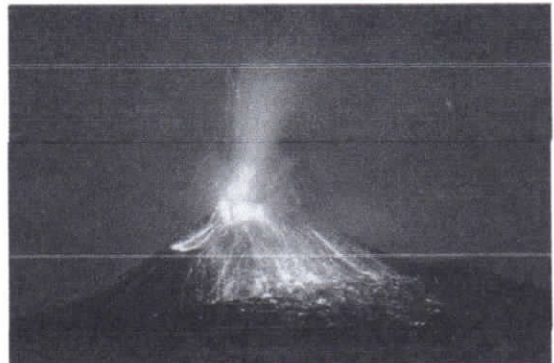
Список открытий:

- 1) Первое кругосветное плавание
- 2) Открытие Антарктиды
- 3) Первый выход к Амуру
- 4) Первое покорение Южного полюса
- 5) Открытие Америки


Задание №2. Рассмотрите иллюстрации. Разгадайте анаграммы. Установите, какое понятие объединяет изображенные объекты? Выберите из предложенных объектов полезные ископаемые.



сейсграфмой _____



вуеивйз _____



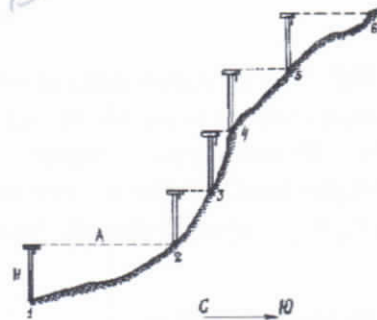
гитанр гранит



Ээсертв Эберест



аврниан равнина



ивирелн _____



ульог уголь



зениемлетрясе землетрясение

Общее понятие: Рельеф земли

Полезные ископаемые: уголь, гранит

Задание №3. Интересная история приключилась с Захаром Загадкиным в конце декабря. Прочитайте текст и объясните Захару, где находится Солнце в данное время года.

«Конец декабря застал нас по пути из Суэцкого канала в столицу Индонезии Джакарту. До Нового года предстояло отпраздновать одно веселое событие – переход экватора. По традиции, в торжественную минуту новичков искупали в морской воде и вручили свидетельство о переходе экватора.

После праздника мы занялись уборкой. И тут я увидел такое, что заставило меня вскрикнуть: солнце по-прежнему светило с юга, хотя после пересечения нами экватора должно было светить с севера!

Что случилось? Солнце ведет себя так, словно его не касается столь важное событие, как переход экватора нашим судном... Возможно ли это? Ведь даже самое почтенное и уважаемое небесное светило обязано считаться с законами природы...»

22 декабря Южное полушарие освещено больше, солнце в зените на южной тропике.

35

Задание №4. Николай Михайлович Пржевальский, путешествуя по Уссурийскому краю, писал «Здесь на каждом шагу встречаешь роскошь и разнообразие». Какой природной зоне посвящено это высказывание? Чем уникален ее растительный и животный мир? Приведите примеры редких представителей животного и растительного мира этой зоны.

Задание №5. Рассмотрите рисунок. Подпишите названия материков, контуры которых изображены на нем. Какой материк отсутствует на рисунке? Назовите три характерные особенности географического положения этого материка.



отсутствует материк Евразия.

- 1) Омывают все океаны, край южного океана
- 2) - самый большой материк
- 3) Находится на северо-востоке.

2,5

15

45

175

$\Sigma = 2850$

