

Материалы
для подготовки к тестированию по истории 5 класс М-5(профильный уровень)

№	Тема	Содержание
1.	Древняя Италия	Природа, население древней Италии. Карта. Занятия населения. Предшественники римлян. Этруски. Рим эпохи царей. Легенды об основании Рима.
2	Рождение Римской республики	Римская община. Патриции Плебеи. Сенат. Государственное устройство. Народное представительство. Римская религия. Завоевание Италии Римом. Римская армия.
3	Завоевательные войны и армия Древнего Рима	Рим и Карфаген. Пунические войны. Вторая Пуническая Война. Ганнибал и Сципион. Третья Пуническая война и окончательное падение Карфагена. Завоевание Греции и Македонии Римом. Римские провинции. Рим превращается в мировую державу.
4	Государственное устройство и повседневная жизнь римлян	Органы управления Римской республики: народное собрание, магистрат, консул, преторы, цензоры, народные трибуны, диктатор, Сенат, их полномочия и взаимодействие. Возникновение новой знати: нобилитета, жизнь плебса. Римская семья.
5	Кризис и падение Римской республики. Императоры Рима I- II веков.	Реформы братьев Гракхов. Гражданские войны в Риме. рат. Гай Юлии Цезарь. Установление единовластия Октавиана Август. Нерон. Веспасиан. Калигула.
6	Культура Римской империи Возникновение христианства	Рим – «Вечный город». Архитектура и строительное искусство римлян. Пантеон. Римские дороги и акведуки. Исторические свидетельства об Иисусе Христе. Евангелия. Апостолы.
7	Падение Западной Римской империи.	Распад империи. Колоны и магнаты. Диоклетиан. Разделение империи на Западную и Восточную. Великое переселение народов. Падение Западной Римской империи.

Понятия: Апостолы. Варвары. Вето. Гладиаторы. Евангелие. Император. Колизей. Колоны. Консулы. Легион. Магистраты. Народный трибун. Патриции. Плебеи. Провинции. Рабство. Республика. Тайная вечеря. Термы. Триумф. Форум. Этруски.

Персоналии: Август. Веспасиан. Ганнибал. Гракх Гай. Гракх Тиберий. Константин I Великий. Марк Антоний. Марк Красс. Матфей. Нерон. Платон. Ромул. Селевк. Спартак. Сципион Африканский Старший. Цезарь. Цицерон.

Хронология:

753 г. до н.э. –основание Рима
 264- 241 г.г. до н.э. – Первая Пуническая война
 218 –201 гг. до н.э. –Вторая Пуническая война
 216 г. до н.э. –Битва при Каннах
 146 г. до н.э. –окончание Третьей Пунической войны. Захват Греции римлянами
 133 г. до н.э. –Земельная реформа Тиберия Гракха
 123 г. до н.э. –реформы Гая Гракха
 74-71 г.г. до н.э.- восстание Спартака
 48-44 г.г. до н.э.- диктатура Цезаря
 30- 14 г.г. до н.э.- правление Октавиана Августа

- 330 –перенесение столицы Римской в Константинополь
 380 –христианство становится официальной религией Римской империи
 395 –Разделение Римской империи на Восточную и Западную
 476 –падение Западной Римской империи

Банк заданий

Задание №1

Древний Рим был основан в

Выберите один из 4 вариантов ответа:

1)		743 г
2)		753 г
3)		763 г
4)		773 г

Задание №2

В Риме республиканская форма правления была установлена в

Выберите один из 4 вариантов ответа:

1)		509 г до н.э
2)		30 г до н.э
3)		30 г
4)		476 г

Задание №3

Назовите даты Первой Пунической войны

Выберите один из 4 вариантов ответа:

1)		218-201 гг до н.э
2)		149- 146 гг до н.э
3)		264- 241 гг до н.э
4)		256- 252 гг до н.э

Задание №4

Третья Пуническая война была в

Выберите один из 4 вариантов ответа:

1)		264- 241 гг до н.э
2)		218-201 гг до н.э
3)		149-146 гг до н.э
4)		145-141 гг до н.э

Задание №5

Укажите даты диктатуры Гая Юлия Цезаря

Выберите один из 4 вариантов ответа:

1)		58-54 гг до н.э
2)		48-44 гг до н.э
3)		31 г до н.э
4)		31 г

Задание №6

Миланский эдикт, разрешающий свободное вероисповедание в Риме и запрещающий гонения на христиан был принят в

Выберите один из 4 вариантов ответа:

1)		30 г
2)		313 г
3)		395 г
4)		476 г

Задание №7

Раздел Римской империи на Западную и Восточную произошел в

Выберите один из 4 вариантов ответа:

1)		313 г
2)		395 г
3)		410 г
4)		455 г

Задание №8

Падение Западной Римской империи произошло в

Выберите один из 4 вариантов ответа:

1)		I веке до н.э
2)		I веке н.э
3)		IV веке н.э
4)		V веке н.э

Задание №9

Укажите года правления Октавиана Августа

Выберите один из 4 вариантов ответа:

1)		74-71 гг. до н.э.
2)		218-201 гг. до н.э.
3)		334-325 гг. до н.э
4)		30 г. до н.э. - 14 г.

Задание №10

В этом году готы взяли Рим

Выберите один из 4 вариантов ответа:

1)		395 г.
2)		476 г.
3)		410 г.
4)		330 г.

Задание №11

Кто, согласно легенде являлся первым царём Рима?

Выберите один из 4 вариантов ответа:

1)		Апулей
2)		Ромул
3)		Цицерон
4)		Демосфен

Задание №12

Назовите римского полководца, который подавил восстание Спартака

Выберите один из 4 вариантов ответа:

1)		Гай Юлий Цезарь
2)		Гней Помпей
3)		Марк Лициний Красс
4)		Гай Теренций Варрон

Задание №13

Назовите народного трибуна римской республики, предложившего перераспределить землю в пользу плебеев

Выберите один из 4 вариантов ответа:

1)		Тиберий Гракх
2)		Гай Гракх
3)		Гай Марий
4)		Луций Корнелий Сулла

Задание №14

Тиберий и Гай Гракхи вошли в историю Рима как

Выберите один из 4 вариантов ответа:

1)		народные трибуны, пытавшиеся провести реформы
2)		военачальники, прославившиеся победами над варварскими племенами
3)		философы и ораторы
4)		консулы, командовавшие римскими войсками в Пунических войнах

Задание №15

Император Веспасиан

Выберите один из 4 вариантов ответа:

1)		написал книгу " К самому себе"
2)		начал строительство Колизея
3)		откупался от своих внешних врагов дорогими подарками
4)		выделял деньги из государственной казны на воспитание детей сирот и бедняков

Задание №16

"Лучшим из императоров" римляне называли

Выберите один из 4 вариантов ответа:

1)		Нерона
2)		Траяна
3)		Августа
4)		Константина

Задание №17

Император Траян вошел в историю Рима в связи с

Выберите один из 4 вариантов ответа:

1)		завоеванием Галлии
2)		покорением Египта
3)		войной против даков
4)		победой в Третьей Пунической войне

Задание №18

Римский сенатор, заканчивавший каждую свою речь в Сенате словами «Карфаген должен быть разрушен».

Выберите один из 4 вариантов ответа:

1)		Катон
2)		Сципион
3)		Гракх
4)		Красс

Задание №19

Римский полководец, разбивший Ганнибала в близ города Зама (202 год до н. э.)

Выберите один из 4 вариантов ответа:

1)		Тит Ливий
2)		Красс
3)		Сципион
4)		Помпей

Задание №20

Полуостров, на котором располагается Италия называется

Выберите один из 4 вариантов ответа:

1)		Пиренейский
2)		Апеннинский
3)		Индостан
4)		Балканский

Задание №21

Имя жившего в Древней Италии племени латинов сохранилось в названии

Выберите один из 4 вариантов ответа:

1)		главного города этого племени
2)		династии царей
3)		реки, протекающей по территории расселения племени
4)		алфавита

Задание №22

Римляне переняли у этрусков

Выберите один из 4 вариантов ответа:

1)		знаменитый легион
2)		должность консула
3)		гладиаторские бои
4)		строительство кораблей

Задание №23

На смену царскому правлению в Древнем Риме в конце IV в до н.э пришла форма правления-

Выберите один из 4 вариантов ответа:

1)		республика
2)		деспотия
3)		олигархия
4)		империя

Задание №24

Высшее сословие в Риме составляли

Выберите один из 4 вариантов ответа:

1)		сабины
2)		ликторы
3)		плебеи
4)		патриции

Задание №25

Каково значение выражения "пиррова победа"?

Выберите один из 4 вариантов ответа:

1)		решающая исход войны
2)		не имеющая никакого значения
3)		достигнутая очень дорогой ценой, равная поражению
4)		победа, после которой победитель пирует

Задание №26

Знаменитое сражение, являющееся классическим примером окружения вражеской армии с флангов.

Выберите один из 4 вариантов ответа:

1)		битва при Заме
2)		битва при Каннах
3)		битва при Гранике
4)		битва в долине реки По

Задание №27

Захватив единоличную власть в Риме, Цезарь занял пост

Выберите один из 4 вариантов ответа:

1)		легата
2)		народного трибуна
3)		императора
4)		пожизненного диктатора

Задание №28

В какой римской провинции начал проповедовать свое учение Иисус Христос?

Выберите один из 4 вариантов ответа:

1)		в Сирии
2)		в Финикии
3)		в Египте
4)		в Иудее

Задание №29

Константинополь возник на месте этого греческого города

Выберите один из 4 вариантов ответа:

1)		Афины
2)		Византий
3)		Херсонес
4)		Спарта

Задание №30

Плебеи- это

Выберите один из 4 вариантов ответа:

1)		потомки древнейших жителей Рима
2)		высшие магистраты республики
3)		римские воины
4)		добровольные или покоренные переселенцы в Риме

Задание №31

Республикой называют государство, в котором

Выберите один из 4 вариантов ответа:

1)		власть принадлежит выборным органам
2)		власть принадлежит патрициям
3)		власть передаётся по наследству
4)		власть принадлежит тому, кто захватил её насильственным путём

Задание №32

В течение 3 дней римляне наблюдали , как на сотнях повозок везли захваченные у врага статуи и картины, оружие и монеты, как шёл одетый в тёмные одежды побеждённый царь, как въезжал в город полководец-победитель. Это-

Выберите один из 4 вариантов ответа:

1)		празднество
2)		торжество
3)		триумф
4)		ярмарка

Задание №33

Площадь в центре Рима называлась

Выберите один из 4 вариантов ответа:

1)		Марсово поле
2)		Форум
3)		Агора
4)		Акведук

Задание №34

Определите положение человека, одежда которого соответствует описанию
Римлянин, облаченный в белоснежную тогу, выбеленную в меловом растворе

Выберите один из 4 вариантов ответа:

1)		выигравший сражение полководец
2)		важное должностное лицо
3)		кандидат на должность консула
4)		жрец- авгур

Задание №35

Высший магистрат республики- это

Выберите один из 4 вариантов ответа:

1)		Народный трибун
2)		Претор
3)		Цензор
4)		Консул

Задание №36

Самое большое помещение в богатом римском доме называлось

Выберите один из 4 вариантов ответа:

1)		атрий
2)		перестиль
3)		инсула
4)		бельведер

Задание №37

Многоэтажный дом, в котором жили обычные римляне

Выберите один из 4 вариантов ответа:

1)		перистиль
2)		атрий
3)		инсула
4)		терма

Задание №38

Правителя римского государства, который также был верховным главнокомандующим и судьёй с 30 г. до н.э стали называть

Выберите один из 4 вариантов ответа:

1)		императором
2)		архонтом
3)		аристократом
4)		царём

Задание №39

Свободный земледелец, получавший от хозяина земли дом и участок

Выберите один из 4 вариантов ответа:

1)		принцепс
2)		колон
3)		плебей
4)		авгур

Задание №40

Первая война Рима с Карфагеном завершилась

Выберите один из 4 вариантов ответа:

1)		присоединением к Карфагену части Испании
2)		присоединением к Риму Сицилии
3)		появлением первых владений Рима в Африке
4)		уничтожением Карфагена

Задание №41

К началу второй войны с Римом Карфаген

Выберите один из 4 вариантов ответа:

1)	владел обширными территориями в Северной Африке
2)	кроме территорий в Северной Африке, владел частью Испании и островами в Средиземном море
3)	кроме территорий в Северной Африке, владел частью Испании и островами в Средиземном море, в том числе Сицилией
4)	владел территорией Галлии

Задание №42

Третья Пуническая война завершилась тем, что

Выберите один из 4 вариантов ответа:

1)	Карфагену удалось отстоять свою независимость
2)	Карфаген вернул остров Сицилия
3)	Карфаген был разрушен
4)	Карфагену удалось вернуть североафриканские территории

Задание №43

Причина принятия в Риме знаменитой реформы Тиберия Гракха

Выберите один из 4 вариантов ответа:

1)	многочисленные войны, которые вел Рим
2)	массовые обращения римлян за долги в рабство
3)	плохие урожаи и массовый голод
4)	сосредоточение земель в руках плебеев

Задание №44

После смерти диктатора Суллы

Выберите один из 4 вариантов ответа:

1)	началась эпоха царей в Древнем Риме
2)	произошло падение республики
3)	Древний Рим стал империей
4)	Мир в Римской республике так и не был восстановлен

Задание №45

После убийства Цезаря сенат:

Выберите один из 4 вариантов ответа:

1)	постановил не отменять не одного решения, принятого им раньше
2)	отменил все его решения
3)	заявил о восстановлении республиканского строя
4)	объявил о падении республики

Задание №46

Убийство Цезаря

Выберите один из 4 вариантов ответа:

1)	не привело к восстановлению в Риме республики
2)	привело к восстановлению Римской республики
3)	заставило сенат отменить все распоряжения диктатора
4)	привело к установлению в Риме империи

Задание №47

Гражданские войны в Риме завершились тем, что

Выберите один из 4 вариантов ответа:

1)	республика пала
2)	закончилось время Римской империи
3)	началась эпоха царей
4)	плебеи и патриции примирились

Задание №48

Одной из причин падения Западной Римской империи является

Выберите один из 4 вариантов ответа:

1)	война Рима с Карфагеном
2)	вражда патрициев и плебеев
3)	гражданская война в Риме
4)	великое переселение народов

Задание №49

Почему войны с Карфагеном называются "пунические"

Выберите один из 4 вариантов ответа:

1)	по имени карфагенского царя
2)	по названию области, где шла война
3)	по имени карфагенян
4)	"Пуническая" означало "народная, всеобщая"

Задание №50

Установите хронологическую последовательность событий

Укажите порядок следования всех 6 вариантов ответа:

1)	Битва при Каннах
2)	Установление республики в Риме
3)	Начало гражданских войн в Риме
4)	Провозглашение Суллы диктатором
5)	Сражение у мыса Акций
6)	Гибель Гая Юлия Цезаря

Задание №51

Установите хронологическую последовательность событий

Укажите порядок следования всех 6 вариантов ответа:

1)	Третья Пуническая война
2)	Диктатура Цезаря
3)	Восстание Спартака
4)	Первая Пуническая война
5)	Правление императора Октавиана Августа
6)	Великое переселение народов

Задание №52

Какие два из названных государств, земель были подчинены Римом во II веке до нашей эры?

Выберите несколько из 4 вариантов ответа:

1)		Египет
2)		Македония
3)		Греция
4)		Дакия

Задание №53

Что из названного относилось к гладиаторам? Выберите два верных положения

Выберите несколько из 4 вариантов ответа:

1)		гладиаторов отбирали из рабов
2)		из гладиаторов составляли ударные военные отряды
3)		бойцов-гладиаторов готовили в специальных школах
4)		один из последних императоров Рима был гладиатором

Задание №54

Какие права завоеваны плебеями в ранней Римской республике? Укажите два положения.

Выберите несколько из 4 вариантов ответа:

1)		распределение земли поровну между всеми гражданами
2)		оформление письменных законов
3)		право избрания народных трибунов
4)		отмена рабства

Задание №55

Что из названного относилось к причинам гражданских войн в Риме? Укажите два положения.

Выберите несколько из 4 вариантов ответа:

1)		натиск варварских племен
2)		разорение плебейских хозяйств
3)		недостаток рабов
4)		возраставшее обогащение нобилей

Задание №56

Установите соответствия между понятиями и их значениями

Укажите соответствие для всех 4 вариантов ответа:

1)		латин	1)	потомок древнейших жителей Рима
2)		патриций	2)	воин, охранявший римских царей
3)		ликтор	3)	представитель племени, живший на месте, где был основан город Рим
4)		плебей	4)	житель Рима, переселившийся из других областей Италии

Задание №57

Установите соответствия между понятиями и значениями

Укажите соответствие для всех 4 вариантов ответа:

1)		Сенат	1)	шерстяная рубашка с короткими рукавами
2)		Форум	2)	должностное лицо, ежегодно избиравшееся плебеями
3)		Туника	3)	главная площадь Рима
4)		Народный трибун	4)	высший орган власти в Римской республике

Задание №58

Установите соответствие

Укажите соответствие для всех 4 вариантов ответа:

1)		Октавиан	1)	римский поэт, автор поэмы "Энеида"
2)		Вергилий	2)	сенатор, организатор заговора против Цезаря
3)		Марк Брут	3)	император, который ввел свободу вероисповедания
4)		Константин	4)	главный соперник Антония в борьбе за власть

Задание №59

Установите соответствие между римскими императорами и их прозваниями

Укажите соответствие для всех 4 вариантов ответа:

1)		Нерон	1)	император-шутник
2)		Веспасиан	2)	император-философ
3)		Марк Аврелий	3)	император-гладиатор
4)		Коммод	4)	император-актер

Задание №60

Соотнесите выражения и их обозначения

Укажите соответствие для всех 4 вариантов ответа:

1)		"Горе побеждённым"	1)	Волевое решение, или победа, или гибель
2)		"Разделяй властвуй"	2)	победа, достигнутая большой ценой
3)		"Пиррова победа"	3)	врагов надо разделять и побеждать по одиночке
4)		"Жребий брошен"	4)	тяжёлая плата проигравших

Задание №61

Соотнесите имена римских богов с греческими

Укажите соответствие для всех 4 вариантов ответа:

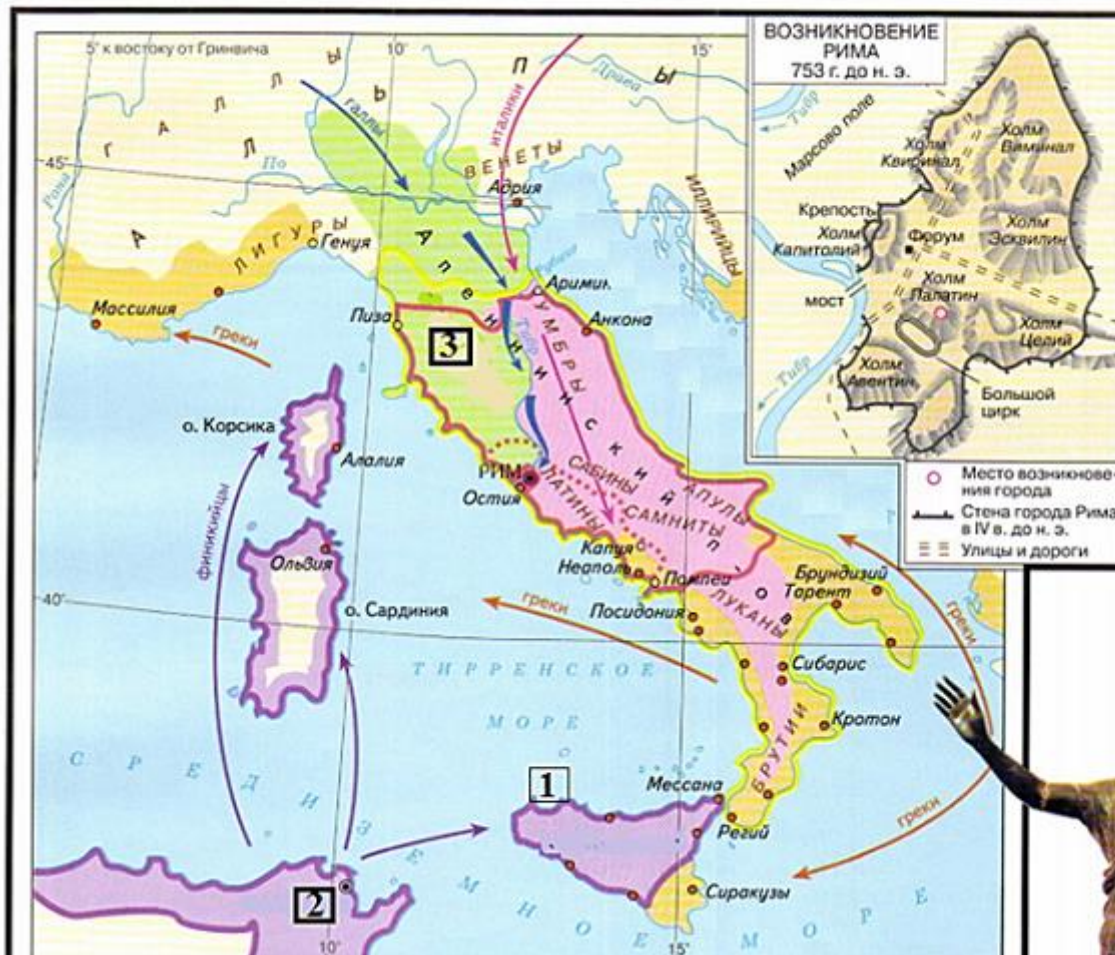
1)		Юпитер	1)	Гера
2)		Минерва	2)	Арес
3)		Марс	3)	Зевс
4)		Юнона	4)	Афина

Задание №62

Задание 1. Рассмотрите карту и выполните задание.

Укажите название острова, обозначенного на карте цифрой 1.

ДРЕВНЯЯ ИТАЛИЯ, начало I тысячелетия — середина III в. до н. э.



Запишите ответ:

1)

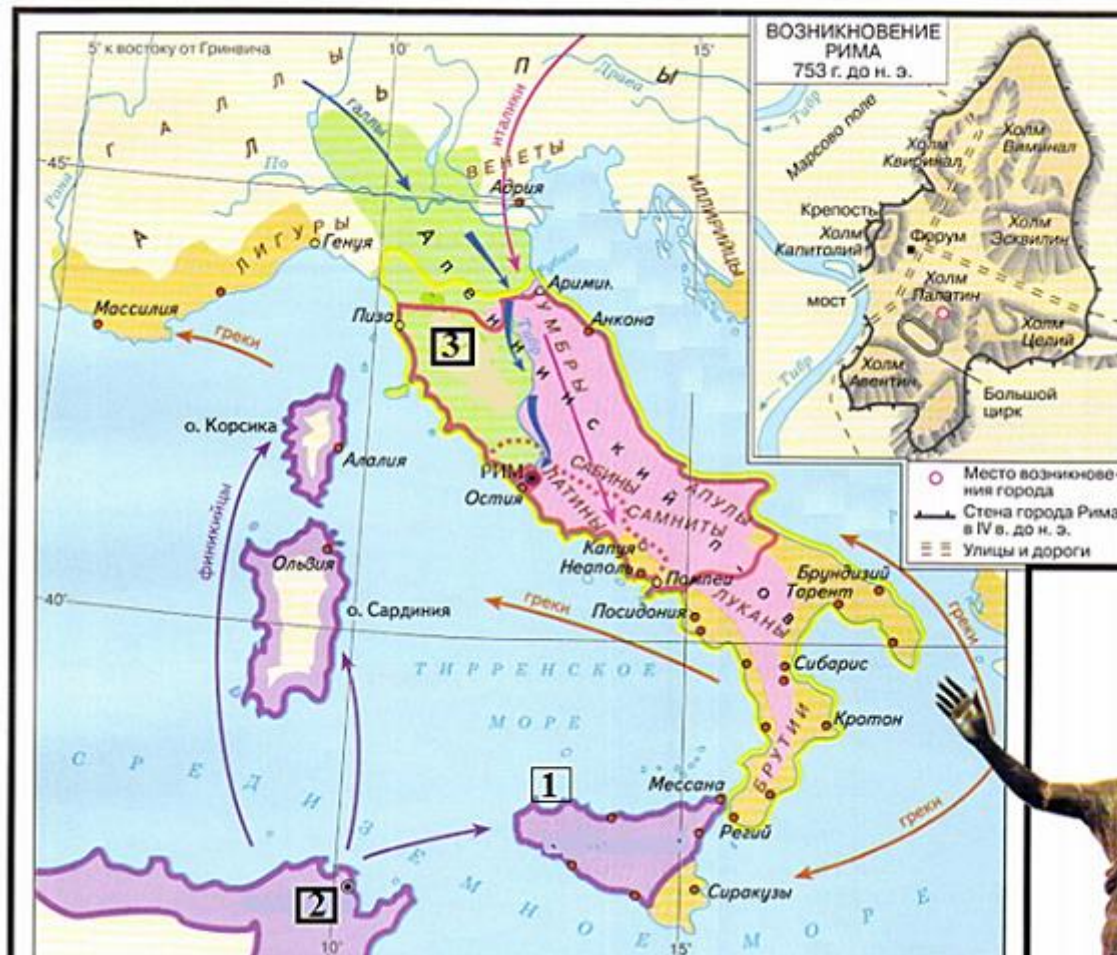
Ответ:

Задание №63

Рассмотрите карту и выполните задание.

Укажите название государства, обозначенного на карте цифрой 2.

ДРЕВНЯЯ ИТАЛИЯ, начало I тысячелетия — середина III в. до н. э.



Запишите ответ:

1)

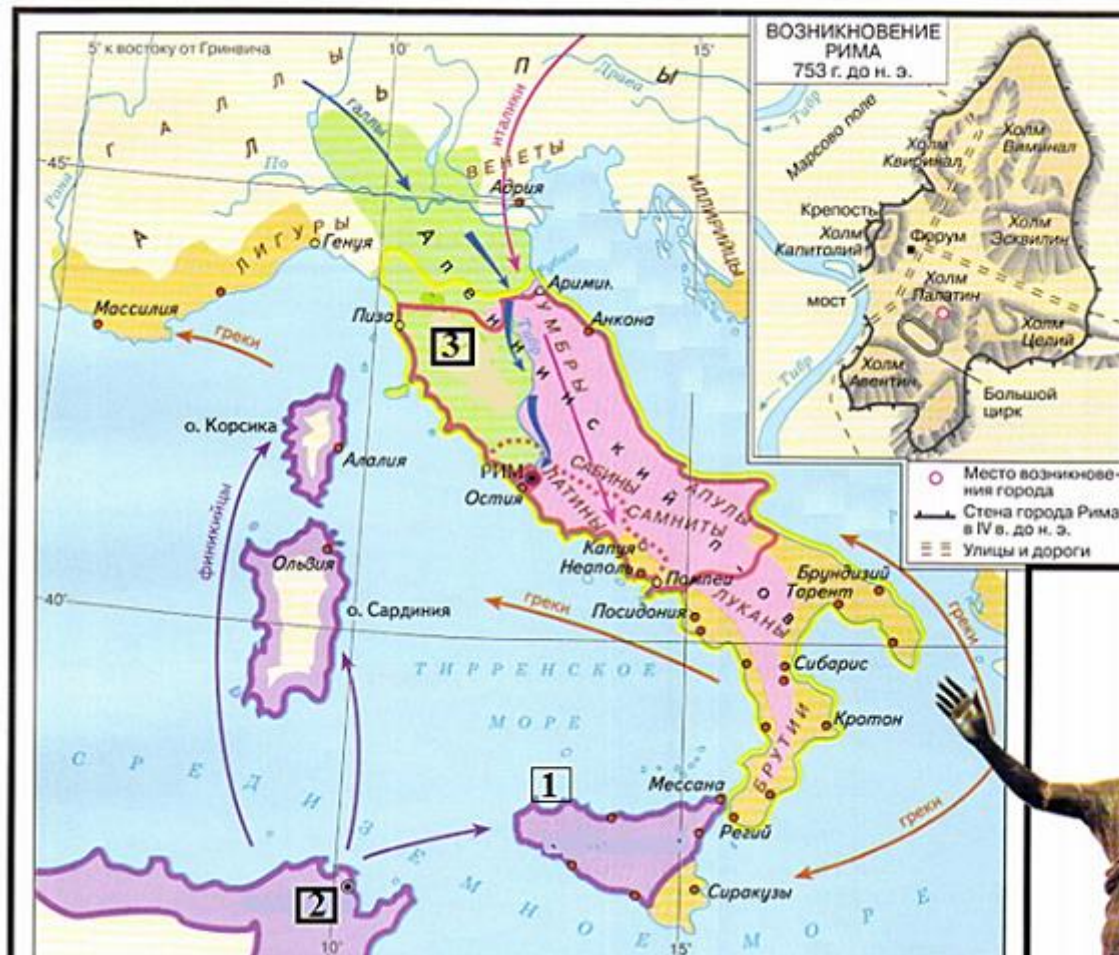
Ответ:

Задание №64

Рассмотрите карту и выполните задание.

Укажите название племени, обозначенного на карте цифрой 3.

ДРЕВНЯЯ ИТАЛИЯ, начало I тысячелетия — середина III в. до н. э.



Запишите ответ:

1)

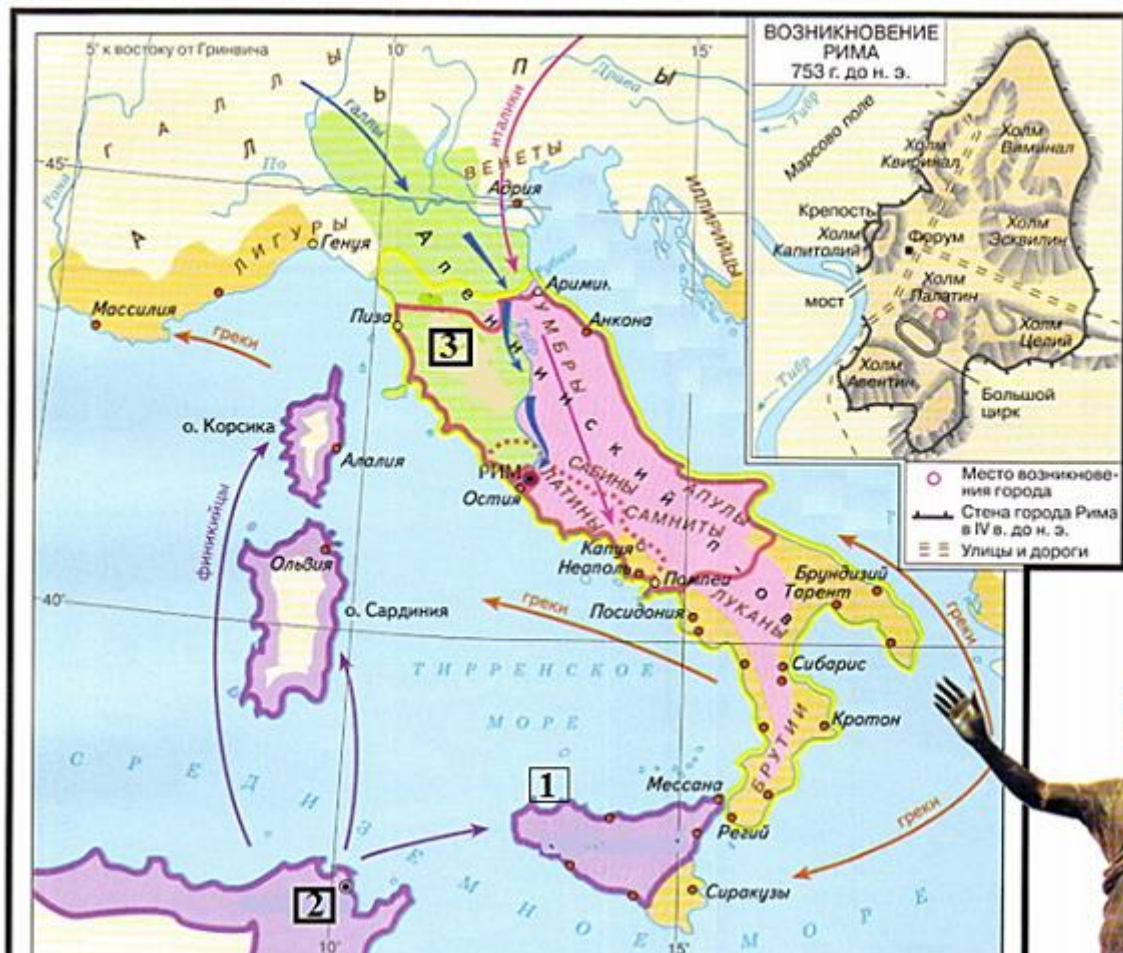
Ответ:

Задание №65

Рассмотрите карту и выполните задание.

Укажите море, которое омывает Апеннинский п-ов на Востоке.

ДРЕВНЯЯ ИТАЛИЯ, начало I тысячелетия — середина III в. до н. э.



Запишите ответ:

1)

Ответ:

Задание №66

Рассмотрите карту и выполните задание.

Напишите название города, обозначенного цифрой "1"



Запишите ответ:

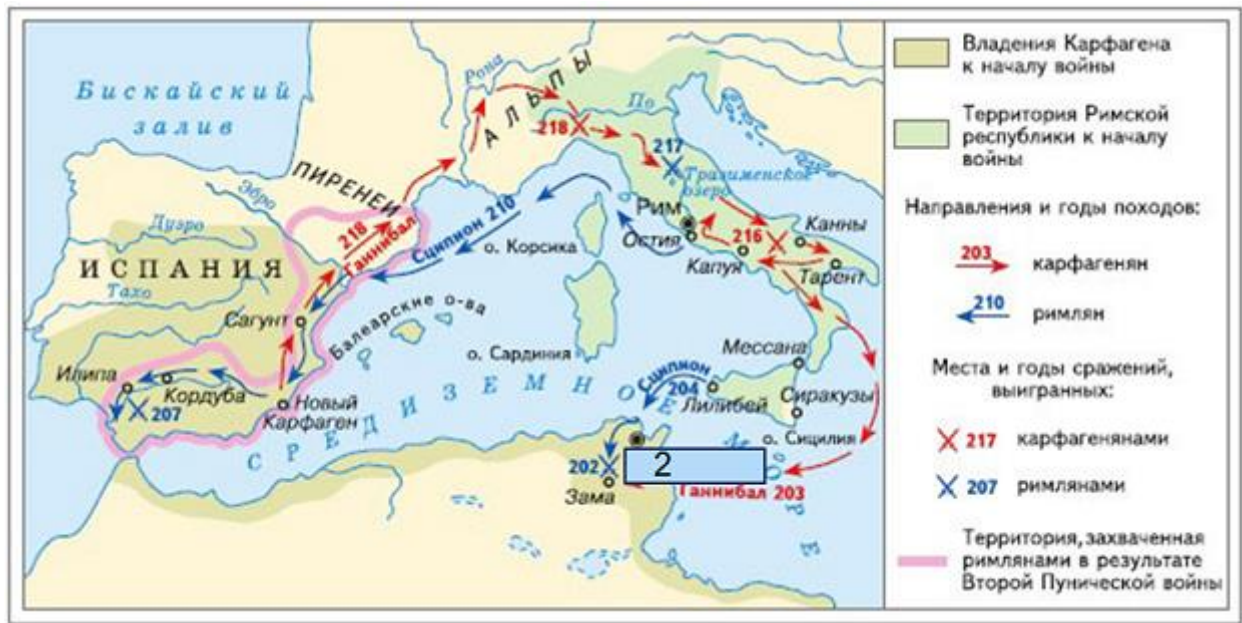
1)

Ответ:

Задание №67

Рассмотрите карту и выполните задание

Напишите название города обозначенного цифрой 2.



Запишите ответ:

1)

Ответ:

Задание №68

Определите, кто изображён на иллюстрации.



Выберите один из 4 вариантов ответа:

1)

Марк Лициний Красс

2)

Квинт Фабий Максим

3)

Ганнибал

4)

Атилла

Задание №69

Напишите название архитектурного сооружения, изображенного на картинке



Запишите ответ:

1)

Ответ:

Задание №70

Рассмотрите иллюстрацию и выполните задание.

Напишите имя человека, изображенного на картине.



Запишите ответ:


1)

Ответ:

Задание №71

Рассмотрите иллюстрацию и выполните задание.

Напишите имя человека, изображенного на картине.



Запишите ответ:

1)

Ответ:

Задание №72

Напишите название архитектурного сооружения, изображенного на картинке



Запишите ответ:

1)

Ответ:

Задание №73

Рассмотрите иллюстрацию и выполните задание.

Выберите три положения, относящиеся к этому изображению.




Выберите несколько из 6 вариантов ответа:

1)	Это бюст Ганнибала
2)	Изображенный на бюсте человек командовал римской армией
3)	Вторая Пуническая война, так же называется Ганнибаловой
4)	Изображенный на бюсте человек принимал участие в гражданской войне
5)	Война Рима и Карфагена завершилась в 202 г. до н.э
6)	Изображенный на бюсте человек командовал армией Карфагена в битве при Заме

Задание №74

Рассмотрите иллюстрацию и выполните задание.

Выберите три положения, относящиеся к этому изображению.



Выберите несколько из 6 вариантов ответа:

1)	Изображенный человек на картине принял участие в первом триумвирате
2)	Изображенный человек на картине принял участие во втором триумвирате
3)	В битве при Форсале, человек представленный на картине, одержал победу над Брутом
4)	Календарь , составленный этим человеком получил название Цезарианский
5)	Изображенный человек на картине подчинил Галлию
6)	Изображенный человек на картине одержал победу в гражданской войне в 45 г. до н.э

Задание №75

Рассмотрите изображение и выполните задание

Выделите три положения, относящиеся к этой картинке



Выберите несколько из 6 вариантов ответа:

1)	Это состязание по кулачному бою в олимпийских играх
2)	На картинке изображен один из римских полководцев-триумфаторов
3)	Это гладиатор- победитель
4)	Воин смотрит на зрителей и ждет денежного вознаграждения
5)	Помещение, в котором происходила схватка, называется амфитеатр
6)	Гладиатор, смотря на зрителей, ждет руководства к дальнейшим действиям

Задание №76

Рассмотрите изображение и выполните задание.

Отметьте три положения, относящиеся к этой картинке.



Выберите несколько из 6 вариантов ответа:

1)		Это изображение царя Тарквиния Гордого
2)		На картинке фрагмент убийства Гая Юлия Цезаря заговорщиками
3)		На изображении один из римских сенаторов под угрозой смерти пытается решить вопрос, обступивших его людей
4)		На картинке запечатлены события, произошедшие в 44 году до нашей эры
5)		Одним из заговорщиков был сын того, на кого покушались
6)		Это событие произошло в 31 году до нашей эры

Задания части С

Прочитайте текст и выполните задания.

Фрагмент из сочинения «Закон Ромула» древнегреческого историка Дионисия Галикарнасского.

Ромул, отделив высших от низших, дал законы и установил, что кому из них делать; патрициям – управлять и исполнять жреческие должности, плебей – возделывать землю, кормить скот и заниматься доходными ремёслами. Он поручил патрициям народ, разрешив каждому избирать кого он захочет себе покровителем. Патриции-покровители должны были объяснять законы тем, кто вступил под их покровительство, присутствовать и помогать им в суде. А те, в свою очередь, обязаны были помогать покровителю при выдаче замуж дочерей, если родителям недостаёт средств, выкупать их у врагов, если они сами или их дети взяты в плен, а также платить за них штрафы государству, если они будут осуждены.

- 1) Определите, кого считали римляне основателем закона и порядка в Риме.
- 2) Назовите, кто по закону считался в Риме низшим, а кто высшим сословием.
- 3) Объясните, какие обязанности имели патриции, а какие плебеи.
- 4) Назовите, какие обязанности по отношению друг к другу имели патриции-покровители и плебеи, выбравшие покровителя.