

Материалы  
для подготовки к тесту по истории 5 класс М-5 профильный  
по теме «Древняя Греция».

Тема	Содержание
Природа и занятия древних греков. Крит и Микены.	Природа Балканского полуострова. Занятия древних греков. Миф о Тесее и Минотавре. Критская держава. Древние Микены.
Верования древних греков. «Илиада» и «Одиссея».	Греческие боги. Религиозные церемонии. Связь богов и людей. Гомер. О чем рассказывает «Илиада». О чем рассказывает «Одиссея».
Греческий полис-город-государство. Великая греческая колонизация. Установление демократии в Афинах.	Полис и его жители. Земледелие в Греции. Колонизация и ее значение. Драконт. Реформа Солона и ее значение в жизни Афинского полиса. Тирания Писистрата.
Спарта.	Спарта и ее жители. Законы Спартанского государства. Воспитание спартанцев.
Греко-персидские войны.	Причины греко-персидских войн. Марафонская битва. Подготовка к новой войне. Вторжение армии Ксеркса. Бой в Фермопильском ущелье. Саламинская битва.
Греческий полис и его жители. Развитие демократии при Перикле.	Права гражданина греческого полиса. Воспитание гражданина. Жизнь рабов. Хозяйственная жизнь Афин. Управление в Афинах. Деятельность Перикла.
Олимпийские игры. Рождение древнегреческого театра.	Значение олимпийских игр для жизни греков. Основные состязания. Награждение победителей. Происхождение театра и его оборудование. Как проходили театральные представления. Великие поэты Греции.
Греция и Македония в IV веке до нашей эры. Завоевания Александра Македонского.	Пелопоннесская война. Укрепление Македонии при Филиппе II. Установление власти Македонии над Грецией. Начало правления Александра Македонского. Завоевания Александра Македонского.
Греческая наука. Архитектура и скульптура Греции.	Философия. История. Медицина в Греции. Особенности греческой архитектуры. Афинский акрополь. Греческая скульптура.
Александрия Египетская.	Основание Александрии. Фаросский маяк. Великие ученые Александрии.

**Понятия:** Световые колодцы, лабиринт, полис, аристократия, колония, метрополия, Великая греческая колонизация, архонт, демократия, тирания, илот, триера, народное ополчение, стилос, цера, Совет пятисот, гелиэя, остракизм, философия, ордер, Акрополь, театрон, фаланга.

**Персоналии:** Эгей, Тесей, Минос, Гомер, Агамемнон, Ахиллес, Гектор, Одиссей, Драконт, Солон, Писистрат, Ликург, Мильтиад, Ксеркс, Фемистокл, Леонид, Перикл, Сократ, Платон, Геродот, Эсхил, Еврипид, Аристофан, Филипп II, Александр Македонский.

**Знание богов и богинь:** Зевс, Посейдон, Аид, Гефест, Гермес, Дионис, Деметра, Персефона, Гера, Афина, Афродита, Артемида.

**Даты:** 1200 г до н.э, 594 г до н.э, 500 г до н.э, 490 г до н.э, 480 г до н.э, 479 г до н.э, 449 г до н.э, 776 г до н.э, 431-404 гг до н.э, 338 г до н.э, 334-325 гг до н.э, 334 г до н.э, 333 г до н.э, 331 г до н.э, 332 г до н.э.

### Материал для подготовки:

1. Лекции.

2. Т.П. Андреевская, М.В.Белкин, Э.В.Ванина История Древнего мира 5 класс Москва «Вентана-Граф» 2014 г.

Банк заданий.

<b>Задание №1</b>		
Солон стал правителем Афин в		
Выберите один из 4 вариантов ответа:		
1)		598 г до н.э
2)		594 г до н.э
3)		584 г до н.э
4)		580 г до н.э

<b>Задание №2</b>		
Первые олимпийские игры были проведены в		
Выберите один из 4 вариантов ответа:		
1)		776 г до н.э
2)		774 г до н.э
3)		625 г до н.э
4)		525 г до н.э

<b>Задание №3</b>		
Назовите даты Пелопоннесской войны		
Выберите один из 4 вариантов ответа:		
1)		431- 404 гг до н.э
2)		431- 400 гг до н.э
3)		431- 339 гг до н.э
4)		431-427 гг до н.э

#### Задание №4

Укажите дату битвы при Херонее

Выберите один из 4 вариантов ответа:

1)	338 г до н.э
2)	334 г до н.э
3)	331 г до н.э
4)	190 г до н.э

#### Задание №5

Саламинская битва состоялась в

Выберите один из 4 вариантов ответа:

1)	490 г до н.э
2)	480 г до н.э
3)	479 г до н.э
4)	449 г до н.э

#### Задание №6

Один правитель, совмещающий царские и жреческие функции был

Выберите один из 4 вариантов ответа:

1)	на Крите
2)	в Спарте
3)	в Афинах
4)	в Древних Микенах

#### Задание №7

После реформ Солона народное собрание в Афинах получило право

Выберите один из 4 вариантов ответа:

1)	казнить преступников
2)	назначать архонтов
3)	объявлять войну и заключать мир
4)	принимать законы

#### Задание №8

В Спарте особенно ценились

Выберите один из 4 вариантов ответа:

1)	воины
2)	писатели
3)	ученые
4)	ремесленники

### Задание №9

Искусство постройки кораблей греки переняли у

Выберите один из 4 вариантов ответа:

1)	финикийцев
2)	египтян
3)	ассирийцев
4)	персов

### Задание №10

С детства в спартанских мальчиках и девочках воспитывали

Выберите один из 4 вариантов ответа:

1)	честность
2)	доброту
3)	выносливость
4)	умение заботиться о родителях

### Задание №11

Поэма " Одиссея" рассказывает о

Выберите один из 4 вариантов ответа:

1)	пути домой царя острова Итака Одиссея
2)	первом годе Троянской войны
3)	последнем годе Троянской войны
4)	причинах, которые привели к Троянской войне

### Задание №12

Балканский полуостров омывается водами

Выберите один из 4 вариантов ответа:

1)	Черного моря
2)	Средиземного моря
3)	Балтийского моря
4)	Мертвого моря

### Задание №13

Гражданин греческого полиса обладал

Выберите один из 4 вариантов ответа:

1)	правом командовать воинским подразделением
2)	правом свободно вступать в брак
3)	правом участвовать в Народном собрании
4)	правом иметь 50 рабов

### Задание №14

В Афинах мальчиков отдавали в школу с

Выберите один из 4 вариантов ответа:

1)	5 лет
2)	7 лет
3)	9 лет
4)	12 лет

### Задание №15

Олимпийские игры длились

Выберите один из 4 вариантов ответа:

1)	два дня
2)	пять дней
3)	неделю
4)	десять дней

### Задание №16

Запрещалось участвовать в олимпийских играх

Выберите один из 4 вариантов ответа:

1)	людям, совершившим преступление
2)	профессиональным воинам
3)	жрецам
4)	спортсменам, уже одержавшим громкую победу

### Задание №17

Территория Македонского царства находилась

Выберите один из 4 вариантов ответа:

1)	на юге Балканского полуострова
2)	на востоке Балканского полуострова
3)	на севере Балканского полуострова
4)	в Малой Азии, неподалеку от Аттики

### Задание №18

Македонская фаланга имела

Выберите один из 4 вариантов ответа:

1)	десять рядов
2)	шестнадцать рядов
3)	тридцать рядов
4)	пятьдесят рядов

### Задание №19

Войску Александра Македонского удалось дойти

Выберите один из 4 вариантов ответа:

1)	до Вавилона
2)	до долины Ганга
3)	до долины Инда
4)	до тихоокеанского побережья

### Задание №20

Одним из семи чудес света, которое располагалось недалеко от Александрии был

Выберите один из 4 вариантов ответа:

1)	Фаросский маяк
2)	Колос Родосский
3)	Храм Артемиды Эфесской
4)	Мавзолей в Галикарнасе

### Задание №21

Реформы Ликурга предусматривали

Выберите один из 4 вариантов ответа:

1)	установление имущественного и бытового равенства спариатов
2)	освобождение илотов от зависимости
3)	упразднение власти царей
4)	меры по развитию ремесел и торговли

### Задание №22

О чем рассказывается в поэме "Илиада"?

Выберите один из 4 вариантов ответа:

1)	нашествии дорийских племен
2)	основании города Микены
3)	правлении критского царя Миноса
4)	Троянской войне

### Задание №23

К каждому гражданину греческого полиса относилось (-ась)

Выберите один из 4 вариантов ответа:

1)	принадлежность к знатному
2)	право участия в Совете старейшин
3)	возможность быть избранным архонтом
4)	право владеть землей

### Задание №24

Первую победу греки над персами одержали в сражении

Выберите один из 4 вариантов ответа:

1)	при Марафоне
2)	у города Милета
3)	при Платеях
4)	за Троию

### Задание №25

Триста спартанцев совершили свой подвиг в сражении

Выберите один из 4 вариантов ответа:

1)	при Саламине
2)	у Сиракуз
3)	при Марафоне
4)	у Фермопил

### Задание №26

Что из названного не относилось к правилам проведения Олимпийских игр?

Выберите один из 4 вариантов ответа:

1)	участники давали клятву бороться честно
2)	на время игр прекращались военные действия между полисами
3)	женщины соревновались отдельно
4)	к участию в состязаниях допускались только греки

### Задание №27

Для древнегреческого театра характерно то, что

Выберите один из 4 вариантов ответа:

1)	представления устраивались только для знатных горожан
2)	женщины не могли посещать представления
3)	театр был доступен для всех граждан
4)	драматурги создавали собственные театральные коллективы

### Задание №28

Человека, который переправлял души людей в царство мертвых через воды подземной реки Стикс звали

Выберите один из 4 вариантов ответа:

1)	Харон
2)	Аид
3)	Гермес
4)	Гефест

### Задание №29

Одним из главных героев "Илиады" является

Выберите один из 4 вариантов ответа:

1)	Зевс
2)	Аид
3)	Ахиллес
4)	Эврибиад

### Задание №30

Законы Драконта отменил афинский архонт

Выберите один из 4 вариантов ответа:

1)	Перикл
2)	Минос
3)	Солон
4)	Астиаг

### Задание №31

В древности царем острова Крит был

Выберите один из 4 вариантов ответа:

1)	Менелай
2)	Драконт
3)	Минос
4)	Эгей

### Задание №32

Основы демократии в Афинах заложил

Выберите один из 4 вариантов ответа:

1)	Солон
2)	Перикл
3)	Фемистокл
4)	Александр Македонский

### Задание №33

Обороной греков в Фермопильском ущелье руководил

Выберите один из 4 вариантов ответа:

1)	Ликург
2)	Леонид
3)	Фемистокл
4)	Мильтиад



### Задание №34

Самым известным противником македонян в Афинах был

Выберите один из 4 вариантов ответа:

1)	Фемистокл
2)	Анаксагор
3)	Перикл
4)	Демосфен

### Задание №35

Воспитателем Александра Македонского был

Выберите один из 4 вариантов ответа:

1)	Сократ
2)	Аристотель
3)	Эсхил
4)	Платон

### Задание №36

Греческими войсками в битве при острове Саламин командовал

Выберите один из 4 вариантов ответа:

1)	Ксеркс
2)	Фемистокл
3)	Перикл
4)	Леонид

### Задание №37

Какое имя является лишним в приведенном ряду?

Выберите один из 4 вариантов ответа:

1)	Апполон
2)	Зевс
3)	Афина
4)	Исида

### Задание №38

Известным автором древнегреческих комедий являлся

Выберите один из 4 вариантов ответа:

1)	Аристофан
2)	Геродот
3)	Фидий
4)	Гомер

### Задание №39

Могущество Крита пришло в упадок, когда

Выберите один из 4 вариантов ответа:

- |    |  |
|----|--|
| 1) | на его территорию напали македонцы               |
| 2) | его присоединили к Греции                        |
| 3) | произошло извержение вулкана на острове Санторин |
| 4) | на его территорию напали римляне                 |

### Задание №40

Чтобы боги быстрее откликнулись на просьбу человека, надо было

Выберите один из 4 вариантов ответа:

- |    |                                 |
|----|---------------------------------|
| 1) | совершить подвиг                |
| 2) | жить праведно                   |
| 3) | совершить жертвоприношение      |
| 4) | поклоняться всю жизнь только им |

### Задание №41

Одной из причин, способствующих Великой греческой колонизации была

Выберите один из 4 вариантов ответа:

- |    |  |
|----|--|
| 1) | вражда между демосом и аристократией     |
| 2) | нехватка плодородных земель              |
| 3) | бедность основной массы населения        |
| 4) | стремление к расширению своего кругозора |

### Задание №42

Одно из условий мирного договора, заключенного между греками персами в 449 году до н.э. заключалось в том, что

Выберите один из 4 вариантов ответа:

- |    |   |
|----|---|
| 1) | персидскому военному флоту запрещалось плавать в Эгейском море    |
| 2) | персидскому военному флоту запрещалось плавать в Средиземном море |
| 3) | персам отошла вся Южная Греция                                    |
| 4) | Пелопонесс остался нейтральной территорией                        |

### Задание №43

Большое значение для афинян имело то, что при Перикле

Выберите один из 4 вариантов ответа:

- |    |  |
|----|--|
| 1) | стали выдавать специальные деньги для посещения театра |
| 2) | отменили долговое рабство                              |
| 3) | судьей мог стать любой житель Афин                     |
| 4) | стратегов стали не выбирать, а назначать               |

### Задание №44

Греция потерпела поражение в борьбе с Македонией, потому что

Выберите один из 4 вариантов ответа:

1)	греческие полисы враждовали между собой
2)	не нашлось людей, которые объяснили бы людям опасность македонского вторжения
3)	слабая армия
4)	не было талантливых полководцев

### Задание №45

После смерти Александра Македонского

Выберите один из 4 вариантов ответа:

1)	возникло несколько государств, в которых царствовали его военачальники
2)	продолжился рост территории его державы
3)	завоеванные им государства вновь обрели независимость
4)	все его завоеванные территории достались персам

### Задание №46

Поводом для нападения персов на Грецию стало

Выберите один из 4 вариантов ответа:

1)	создание Афинами сильного морского флота
2)	восстание греческих городов в Малой Азии
3)	изгнание из Афин тиранов
4)	захват Спартой области Мессения

### Задание №47

Троянская война завершилась

Выберите один из 4 вариантов ответа:

1)	захватом Трои греками
2)	снятием греческой осады с Трои
3)	заключение союза между Троей и Спартой
4)	разгромом греческого флота

### Задание №48

Что из названного происходило с древнегреческими земледельцами, имевшими большие долги

Выберите один из 4 вариантов ответа:

1)	обращение в рабов
2)	отправка в ссылку в колонии
3)	направление матросами на военные корабли
4)	заключение в тюрьму

### Задание №49

Борьба между афинскими аристократами и демосом велась

Выберите один из 4 вариантов ответа:

1)	за командование армией
2)	за право владеть рабами
3)	за участие в управлении полисом
4)	за право владеть землей

### Задание №50

Реформы Солона способствовали установлению демократии в Афинах тем, что

Выберите один из 4 вариантов ответа:

1)	высшая власть перешла к Народному собранию
2)	земля была распределена между гражданами Афин поровну
3)	любой гражданин мог занимать высшие государственные должности
4)	были отменены все формы рабства

### Задание №51

Спарту от Афин отличало то, что

Выберите один из 4 вариантов ответа:

1)	высшим органом власти было Народное собрание
2)	в полисе действовал Совет старейшин
3)	вся земля являлась собственностью государства
4)	полис управлялся в соответствии с установленными законами

### Задание №52

Греко-персидские войны завершились тем, что

Выберите один из 4 вариантов ответа:

1)	Персидская держава распалась
2)	города Северной Греции подчинились персам
3)	произошел конфликт между Афинами и Спартой
4)	греки отстаивали свою независимость

### Задание №53

Как изменилось положение Афин после греко-персидских войн?

Выберите один из 4 вариантов ответа:

1)	город не смог восстановить потери, нанесенные войсками Ксеркса
2)	Афины признали главенство Спарты
3)	основанный Афинами морской союз распался
4)	Афины стали лидером среди греческих полисов

### Задание №54

В каких обстоятельствах древние греки стали проводить олимпийские состязания?

Выберите один из 4 вариантов ответа:

1)	при заключении мира после войны
2)	по случаю создания Афинского союза
3)	при проведении празднеств в честь богов
4)	в связи с выбором стратегов

### Задание №55

Первые театральные представления у древних греков появились в связи с

Выберите один из 4 вариантов ответа:

1)	празднованием побед в войнах
2)	торжествами в честь богов
3)	назначением новых стратегов
4)	приемом послов других государств

### Задание №56

Минотавр- это

Выберите один из 4 вариантов ответа:

1)	змея
2)	полубык- получеловек
3)	снежный барс
4)	пещерный медведь

### Задание №57

Световые колодцы- это

Выберите один из 4 вариантов ответа:

1)	колодцы с подсвеченной водой
2)	колодцы с лечебной водой
3)	специальные отверстия в крыше
4)	колодцы, освещающие путь на дальнее расстояние

### Задание №58

Высший орган власти в Спарте- это

Выберите один из 4 вариантов ответа:

1)	Совет старейшин
2)	Народное собрание
3)	Совет эфоров
4)	Собрание архонтов

### Задание №59

Полис- это

Выберите один из 4 вариантов ответа:

1)	несколько греческих деревень
2)	город- государство
3)	крупный греческий город
4)	один из районов греческого города

### Задание №60

Высший орган власти в Афинах

Выберите один из 4 вариантов ответа:

1)	Совет пятисот
2)	Народное собрание
3)	Гелиэя
4)	Совет старейшин

### Задание №61

Способ изгнания тиранов из Греции назывался

Выберите один из 4 вариантов ответа:

1)	остракизм
2)	демократия
3)	аристократия
4)	олигархия

### Задание №62

Огромное помещение с запутанными ходами называлось

*Ответ запишите со строчной буквы в именительном падеже.*

Запишите ответ:

1)	Ответ:	
----	--------	--

### Задание №63

Вечно юная богиня охоты, вооруженная луком и стрелами, покровительница всего живого- это

Запишите ответ:

1)	Ответ:	
----	--------	--

### Задание №64

Древнегреческими богами здесь являются

Выберите несколько из 5 вариантов ответа:

1)	Шива
2)	Зевс
3)	Дионис
4)	Шамаш
5)	Арес

### Задание №65

Битвами, связанными с завоевательными походами Александра Македонского были

Выберите несколько из 5 вариантов ответа:

1)	битва на реке Граник
2)	битва при Херонее
3)	битва при Иссе
4)	битва при Гавгамелах
5)	Саламинская битва

### Задание №66

Назовите два крупнейших древнегреческих полиса

Выберите несколько из 4 вариантов ответа:

1)	Византий
2)	Спарта
3)	Афины
4)	Фивы

### Задание №67

Что входило в функции спартанских царей? Укажите два положения.

Выберите несколько из 4 вариантов ответа:

1)	принятие законов
2)	командование войском
3)	исполнение роли жрецов
4)	проведение судебных разбирательств

### Задание №68

Что из названного было присуще Александру Македонскому в годы его юности? Выберите два ответа.

Выберите несколько из 4 вариантов ответа:

1)		стремление к славе, честолюбие
2)		пренебрежительное отношение к наукам
3)		привычка к роскоши
4)		талант военачальника

### Задание №69

Укажите, что относилось к политике Александра Македонского в завоеванных странах? Выберите два положения.

Выберите несколько из 4 вариантов ответа:

1)		жестокое уничтожение противников
2)		раздача покоренных земель греческим городам
3)		основание городов, названных его именем
4)		введение веры в единого бога

### Задание №70

Расположить события в хронологической последовательности

Укажите порядок следования всех 5 вариантов ответа:

1)		Марафонская битва
2)		Битва при Платеях
3)		Избрание архонтом Солона
4)		Упадок могущества Критской цивилизации
5)		Восстание греческих полисов Малой Азии против персов

### Задание №71

Установите хронологическую последовательность событий

Укажите порядок следования всех 5 вариантов ответа:

1)		Битва при Херонее
2)		Первые олимпийские игры
3)		Битва при Гавгамелах
4)		вступление на престол Филиппа Македонского
5)		Смерть Александра Македонского

### Задание №72

Установите соответствие между понятиями и их определениями

Укажите соответствие для всех 4 вариантов ответа:



1)	аристократия	1)	неограниченное правление человека, захватившего власть силой и не соблюдающего законы
2)	тирания	2)	родной полис греческих переселенцев
3)	метрополия	3)	власть народа
4)	демократия	4)	"власть лучших"

### Задание №73

Установите соответствие между понятиями и их определениями

Укажите соответствие для всех 4 вариантов ответа:

1)	глиняный сосуд с двумя ручками для хранения вина и масла	1)	триера
2)	греческий боевой корабль	2)	архонт
3)	государственный раб в Спарте	3)	амфора
4)	выборный правитель Афин	4)	илот

### Задание №74

Установите соответствие между именем бога и его характеристикой.

Укажите соответствие для всех 6 вариантов ответа:

1)	Аполлон	1)	покровитель кузнечного дела
2)	Гефест	2)	покровитель искусств
3)	Аид	3)	бог веселья и виноделия
4)	Дионис	4)	владыка загробного мира
5)	Зевс	5)	бог войны
6)	Арес	6)	верховный бог у греков

### Задание №75

Установите соответствие между именем богини и ее характеристикой.

Укажите соответствие для всех 6 вариантов ответа:

1)	Гера	1)	богиня охоты
2)	Афина	2)	богиня любви и красоты
3)	Афродита	3)	богиня плодородия и земледелия
4)	Артемида	4)	богиня царства мертвых
5)	Деметра	5)	богиня семейного очага, образец супружеской верности
6)	Персефона	6)	богиня мудрости и знания, покровительница Афин, ремесел и науки

### Задание №76

Установите соответствие между именами персонажей "Илиады" и их характеристиками.

К каждой позиции первого столбца подберите соответствующую ей позицию из второго столбца.

Укажите соответствие для всех 4 вариантов ответа:

1)	Ахилл	1)	сын троянского царя, отомстивший за смерть брата
2)	Лаокоон	2)	участник осады Трои, встретивший при возвращении домой многие трудности и приключения
3)	Парис	3)	греческий воин, неуязвимый для оружия врагов
4)	Одиссей	4)	жрец, предупреждавший об опасности оставленного греками коня

### Задание №77

Установите соответствие между именами исторических лиц и их деятельностью. К каждой позиции первого столбца подберите соответствующую ей позицию из второго столбца.

Укажите соответствие для всех 4 вариантов ответа:

1)	Дарий I	1)	командовал афинянами в битве при Марафоне
2)	царь Леонид	2)	организовал строительство греческого флота
3)	Фемистокл	3)	командовал спартанцами в бою у Фермопил
4)	Мильтиад	4)	начал войну с целью завоевания Древней Греции

### Задание №78

Рассмотрите карту и выполните задание.

Напишите название города, обозначенного цифрой "1"



Запишите ответ:

1)

Ответ:

### Задание №79

Рассмотрите карту и выполните задание

Напишите название острова, обозначенного цифрой "1"



Запишите ответ:

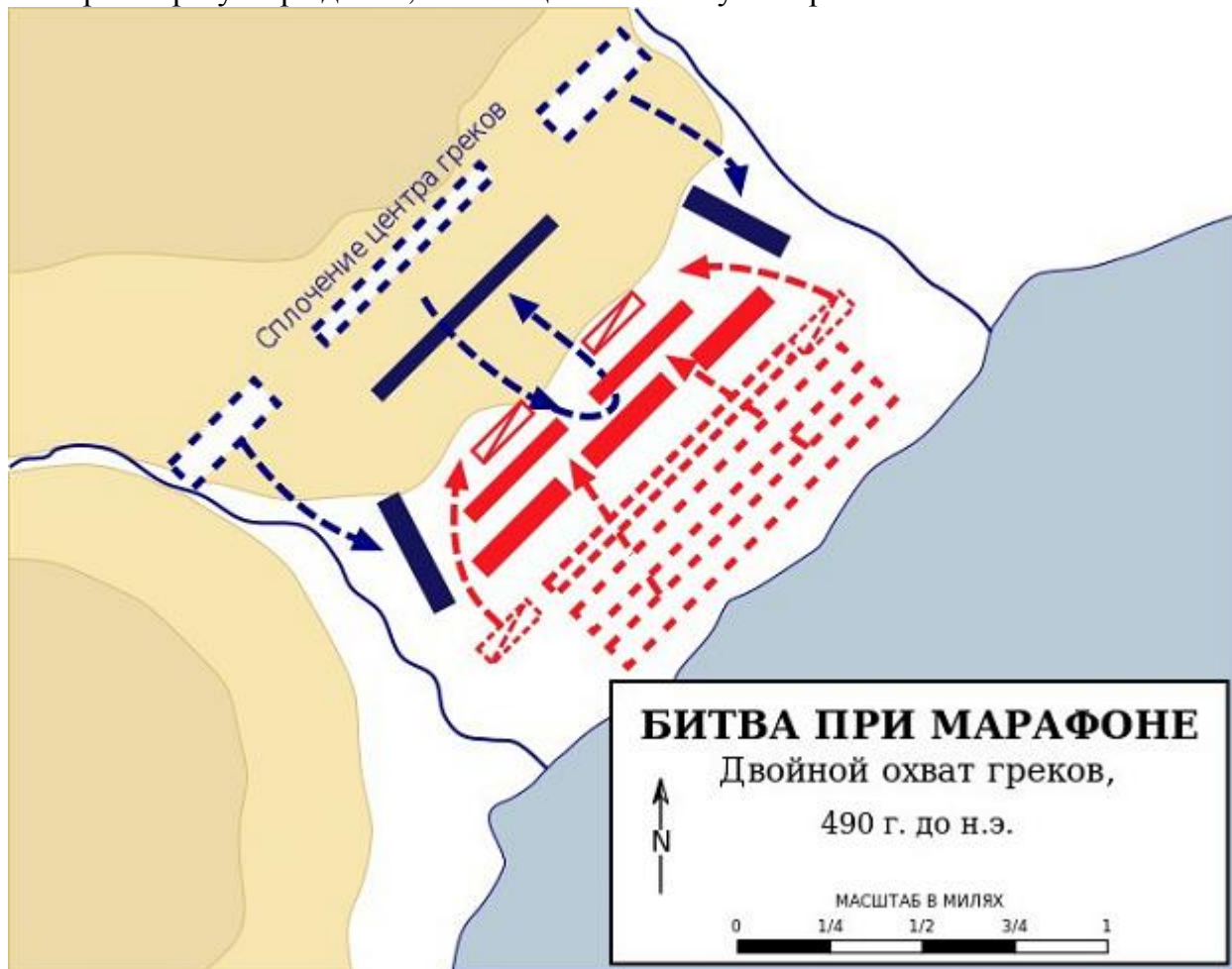
1)

Ответ:

### Задание №80

Рассмотрите схему и выполните задание.

Выберите три утверждения, относящиеся к этому изображению.



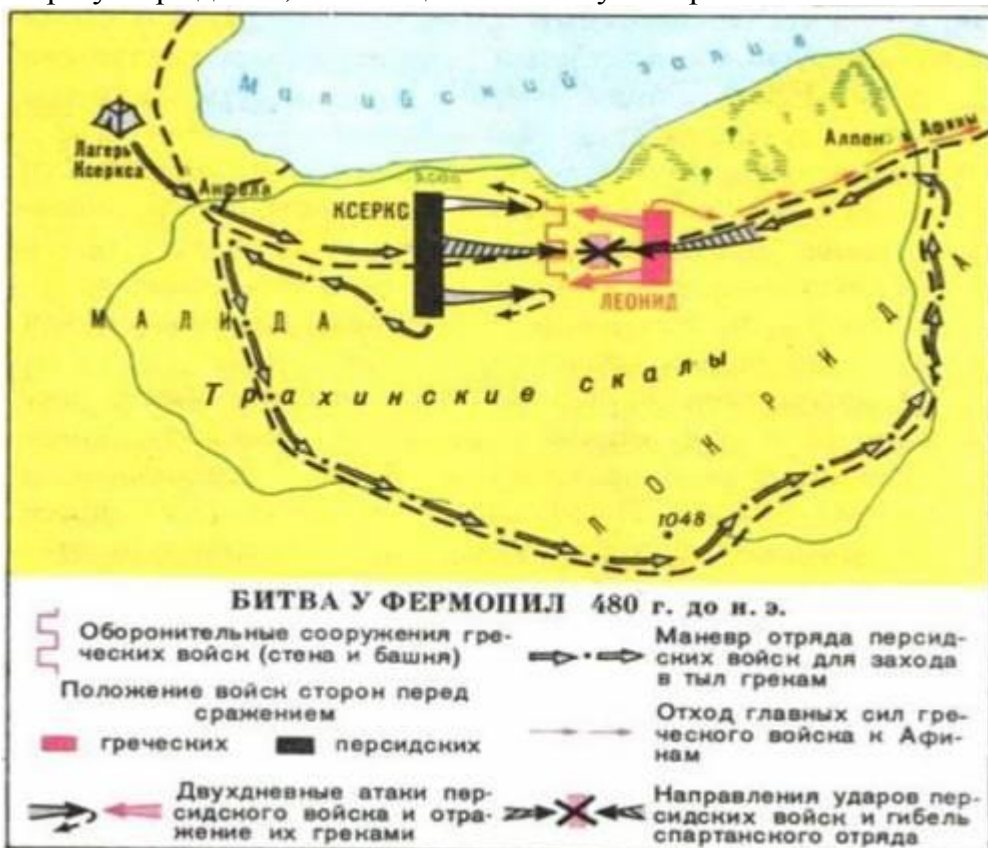
Выберите несколько из 6 вариантов ответа:

1)	Это схема боя в Фермопильском ущелье
2)	Изображенная битва произошла в 490 г до н.э
3)	Персидским войском в этом сражении командовал Ксеркс I
4)	Греческое войско возглавлял Мильтиад
5)	Победу в этом сражении греки одержали за счет более легких маневренных кораблей, чем тех, которые были у персов
6)	Победу в битве греки одержали за счет фланговой атаки

### Задание №81

Рассмотрите схему и выполните задание.

Выберите три утверждения, относящиеся к этому изображению.



Выберите несколько из 6 вариантов ответа:

1)	Это схема Марафонской битвы
2)	Греческой армией в этом сражении руководил царь Леонид
3)	Греки защищали единственный проход в Среднюю Грецию
4)	Греческие воины бегом преодолели простреливаемое персидскими стрелами пространство, чтобы потерять меньше воинов
5)	Спартанцы в этом сражении отказались помочь афинянам, сославшись на обычай
6)	Боясь окружения, командующий греческой армией приказал остаться только спартанцам

### Задание №82

Рассмотрите картинку и выполните задание



Напишите имя, изображенного бога



Запишите ответ:

1)

Ответ:

### Задание №83

Рассмотрите изображение и выполните задание.

Напишите имя человека, привязанного веревками к мачте корабля



Запишите ответ:

1)

Ответ:

### Задание №84

Рассмотрите картинку и выполните задание

Выберите три положения, относящиеся к этому изображению.



Выберите несколько из 6 вариантов ответа:


1)	Это статуя Александра Македонского
2)	Изображенный на статуе человек руководил армией греков в Марафонской битве
3)	Этот человек был царем Спарты
4)	Армия под командованием этого человека совершила Индийский поход
5)	Это статуя талантливого, смелого и отважного спартанского полководца
6)	Греческая армия, под командованием этого полководца преградила путь персидской армии в Фермопильском ущелье

### Задание №85

Рассмотрите изображение выполните задание.



Выберите три утверждения, относящиеся к изображению.



Выберите несколько из 6 вариантов ответа:

1)	Это изображение Александра Македонского
2)	Этот человек участвовал в битве при Херонее, удачно командуя левым флангом македонской армии
3)	Это статуя греческого бога Диониса
4)	Представленный персонаж являлся царевичем малоазиатского города Трои
5)	Этот человек заложил основы демократии в Древних Афинах
6)	В честь этого царя был основан город