

**География 11 класс.
Профильный уровень.
Модуль 3**

Задание №1

Большинство монархий Зарубежной Азии находится в:

Выберите один из 4 вариантов ответа:

1)	Центральной и Восточной Азии
2)	Юго-Восточной Азии
3)	Южной Азии
4)	Юго-Западной Азии

Задание №2

Очень высокой плотностью населения в Зарубежной Азии выделяется государство:

Выберите один из 4 вариантов ответа:

1)	Монголия
2)	Саудовская Аравия
3)	Афганистан
4)	Бангладеш

Задание №3

Самый большой по площади субрегион Зарубежной Азии – это:

Выберите один из 4 вариантов ответа:

1)	Центральная и Восточная Азия
2)	Юго-Восточная Азия
3)	Южная Азия
4)	Юго-Западная Азия

Задание №4

Какую типологическую группу развивающихся стран Зарубежной Азии можно охарактеризовать следующими словами: страны, за короткий срок прошедшие путь индустриального и социально-экономического развития?

Выберите один из 4 вариантов ответа:

1)	Ключевые страны
2)	Страны-нефтеэкспортёры
3)	Страны, отстающие в развитии
4)	Новые индустриальные страны

Задание №5

Какая особенность социально-экономического развития не характерна для развивающихся стран Зарубежной Азии?

Выберите один из 4 вариантов ответа:		
1)		колониальное прошлое
2)		многоукладный характер экономики
3)		высокий уровень жизни
4)		быстрый рост численности населения

Задание №6		
Найдите ошибку в перечне многонациональных стран Зарубежной Азии:		
Выберите один из 4 вариантов ответа:		
1)		Индонезия
2)		Иран
3)		Япония
4)		Индия

Задание №7		
Внутриконтинентальными государствами Зарубежной Азии являются:		
Выберите один из 4 вариантов ответа:		
1)		Монголия и Ирак
2)		Камбоджа и Ирак
3)		Ирак и Непал
4)		Непал и Монголия

Задание №8		
Наиболее важный минеральный ресурс Зарубежной Азии, определяющий ее место в международном разделении труда, - это:		
Выберите один из 4 вариантов ответа:		
1)		железная руда
2)		нефть
3)		каменный уголь
4)		алмазы

Задание №9		
Найдите ошибку в перечне религий, имеющих в Зарубежной Азии многочисленных последователей:		
Выберите один из 4 вариантов ответа:		
1)		протестантизм
2)		мусульманство
3)		буддизм
4)		индуизм

Задание №10		
Крупным районом трудовой иммиграции в Зарубежной Азии являются страны:		

Выберите один из 4 вариантов ответа:		
1)		побережья Тихого океана
2)		Южной Азии
3)		Персидского залива
4)		побережья Средиземного моря

Задание №11		
Самый большой по численности населения субрегион Зарубежной Азии – это:		
Выберите один из 4 вариантов ответа:		
1)		Центральная и Восточная Азия
2)		Юго-Восточная Азия
3)		Южная Азия
4)		Юго-Западная Азия

Задание №12		
Главная причина отсталости развивающихся стран Зарубежной Азии заключается ...		
Выберите один из 4 вариантов ответа:		
1)		в природно-климатических особенностях
2)		в последствиях зависимости от стран-метрополий
3)		в этнических особенностях населения
4)		в удаленности от стран-метрополий

Задание №13		
Почему для развивающихся стран Зарубежной Азии характерна безработица?		
Выберите один из 4 вариантов ответа:		
1)		Мало рабочих мест в промышленности.
2)		Постоянный приток населения из сельской местности.
3)		Несоответствие квалификации работников потребностям новых производств.
4)		Превышение естественного прироста трудовых ресурсов над количеством вновь создаваемых рабочих мест.

Задание №14		
75% рельефа территории Азии занимают		
Выберите один из 5 вариантов ответа:		

1)	равнины и низменности
2)	плато и плоскогорья
3)	равнины и горы
4)	горы и нагорья
5)	возвышенности и низменности

Задание №15

Почему развивающиеся страны Зарубежной Азии избрали в качестве пути решения продовольственной проблемы «зеленую революцию»?

Выберите один из 4 вариантов ответа:

1)	Ограниченность неиспользуемых земельных ресурсов не позволяет решить продовольственную проблему экстенсивным путем.
2)	Такова политика развивающихся государств в аграрной сфере.
3)	Развивающиеся страны экспериментировали в сфере развития аграрного производства.
4)	Эта политика была навязана извне.

Задание №16

Установите соответствие:

Укажите соответствие для всех 3 вариантов ответа:

1)	Южная Азия	1)	В регионе зародились три мировые религии
2)	Восточная Азия	2)	Регион является колыбелью индуизма
3)	Юго-Западная Азия	3)	В этом регионе на духовную и материальную культуру повлияло конфуцианство

Задание №17

Установите соответствие:

Укажите соответствие для всех 3 вариантов ответа:

1)	Южная Азия	1)	Регион располагает крупнейшими запасами нефти
2)	Юго-Восточная Азия	2)	В регионе расположен «оловянный пояс»
3)	Юго-Западная Азия	3)	Регион богат железными и марганцевыми рудами

Задание №18

Установите соответствие:

Укажите соответствие для всех 3 вариантов ответа:

1)		Южная Азия	1)	Регион располагает наиболее значительными пастбищами
2)		Юго-Восточная Азия	2)	В регионе сохранились наиболее значительные лесные ресурсы
3)		Юго-Западная Азия	3)	Регион богат железными и марганцевыми рудами

Задание №19

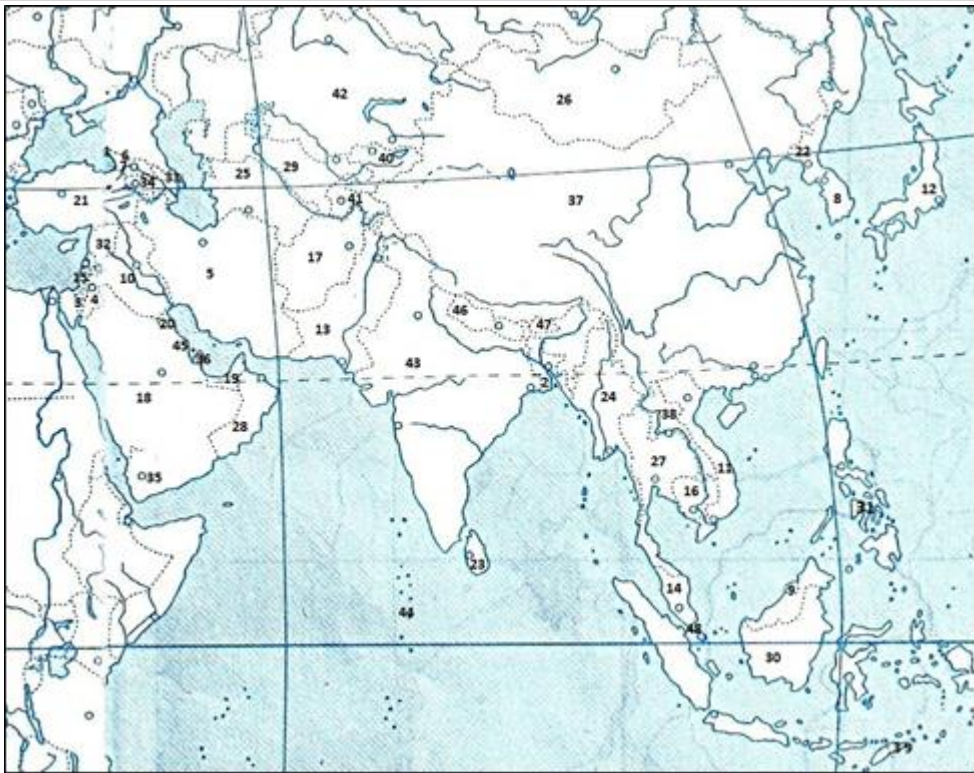
Установите соответствие:

Укажите соответствие для всех 3 вариантов ответа:

1)		Южная Азия	1)	В регионе наиболее значительны ресурсы пресной воды
2)		Юго-Восточная Азия	2)	Регион располагает наиболее значительными пастбищами
3)		Юго-Западная Азия	3)	Регион богат железными и марганцевыми рудами

Задание №20

Определите, какими цифрами на карте обозначены:

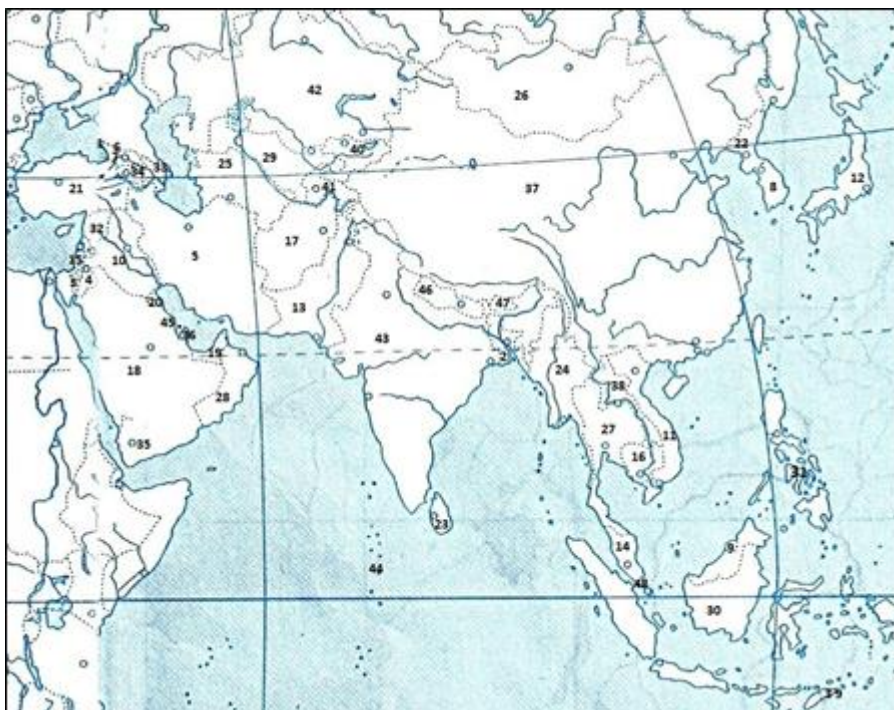


Укажите соответствие для всех 4 вариантов ответа:

1)		Сирия	1)	47
2)		Бутан	2)	1
3)		Сингапур	3)	32
4)		Абхазия	4)	48

Задание №21

Определите, какими цифрами на карте обозначены:



Укажите соответствие для всех 4 вариантов ответа:

1)	Кувейт	1)	39
2)	Мальдивы	2)	44
3)	Таиланд	3)	20
4)	Восточный Тимор	4)	27

Задание №22

Отметьте государства, по территории которых протекает река Меконг.

Выберите несколько из 6 вариантов ответа:

1)	Китай
2)	Мьянма
3)	Лаос
4)	Таиланд
5)	Камбоджа
6)	Вьетнам

Задание №23

Отметьте внутриконтинентальные страны в Зарубежной Азии:

Выберите несколько из 10 вариантов ответа:

1)	Лаос
2)	Пакистан
3)	Туркмения
4)	Узбекистан
5)	Иран
6)	Монголия
7)	Афганистан
8)	Бутан
9)	Бахрейн
10)	Бруней

Задание №24

Укажите государство юго-западной Азии, которое не имеет выхода к морю.

Запишите ответ:

1)	Ответ:	
----	--------	--

Задание №25

Укажите крупнейшую монархию юго-западной Азии и ее столицу.

Впишите ответ без пробелов, в порядке следования: странастолица, в соответствии с правилами написания названий географических объектов.

Запишите ответ:		
1)	Ответ:	

Задание №26

Один из городов юго-западной Азии является священным городом трех религий: христианства, ислама и иудаизма.

Запишите ответ:

1)	Ответ:	
----	--------	--

Задание №27

Какая страна юго-западной Азии имеет наивысший ежегодный национальный доход на одного жителя?

Запишите ответ:

1)	Ответ:	
----	--------	--

Задание №28

Одно из государств юго-западной Азии располагается в двух частях света. Столицей его ранее был город в одной части света, а теперь — город в другой. Укажите страну и ее столицу.

Ответ запишите без пробелов, в порядке следования: странастолица, соответствии с правилами написания названий географических объектов .

Запишите ответ:

1)	Ответ:	
----	--------	--

Задание №29

Какой транспорт наиболее развит в Саудовской Аравии?
Напишите ответ со сточной буквы.

Запишите ответ:

1)	Ответ:	
----	--------	--

Задание №30

Какой водный путь резко повысил геополитическую роль юго-западной Азии?

Впишите ответ без пробела, в соответствии с правилами написания названий географических объектов.

Запишите ответ:

1)	Ответ:	
----	--------	--

Задание №31

Только одно государство юго-западной Азии со всех сторон окружено водой. Укажите его.

Запишите ответ:

1)	Ответ:	
----	--------	--

Задание №32

Укажите крупнейшую республику юго-западной Азии и ее столицу.

Ответ запишите без пробелов, в порядке следования: страна столица, в соответствии с правилами написания названий географических объектов.

Запишите ответ:

1)	Ответ:	
----	--------	--

Задание №33

Один из городов юго-западной Азии так знаменит, что именно на него указывает нижний конец полумесяца, венчающего любую мечеть мира. Что это за город?

Запишите ответ:

1)	Ответ:	
----	--------	--

Задание №34

Какая страна в юго-западной Азии имеет наинизший ежегодный национальный доход на одного жителя?

Запишите ответ:

1)	Ответ:	
----	--------	--

Задание №35

В нефтедобывающих странах Ближнего Востока иностранные рабочие составляют большую часть занятых. Сколько, по-вашему, их в Объединенных Арабских эмиратах?

Выберите один из 3 вариантов ответа:

1)	50%
2)	70%
3)	90%

Задание №36

Самое низкое место поверхности суши Земли?

Выберите один из 5 вариантов ответа:

1)	Красное море
2)	Мертвое море
3)	Желтое море
4)	Каспийское море
5)	Средиземное море

Задание №37

Крупнейшее в мире месторождение нефти Гавар расположено в стране:

Выберите один из 5 вариантов ответа:

1)	Кувейт
2)	Ирак
3)	Саудовская Аравия
4)	Иран
5)	Бахрейн

Задание №38

Укажите страны Азии, входящие в ОПЕК:

Выберите один из 5 вариантов ответа:

1)	Китай, Япония, Иран, Ирак.
2)	Китай, Индия, Кувейт, Алжир.
3)	Иран, Ирак, Пакистан, Афганистан
4)	Иран, Ирак, Кувейт, Катар, ОАЭ.
5)	Япония, Монголия, Катар, ОАЭ.

Задание №39

Турция занимает первое место в мире по сбору:

Выберите один из 5 вариантов ответа:

1)	пшеницы
2)	цитрусовых
3)	орехов фундук
4)	винограда
5)	оливок

Задание №40

Укажите страну переселенческого капитализма:

Выберите один из 5 вариантов ответа:

1)	Иран
2)	Израиль
3)	Афганистан
4)	Кувейт
5)	Саудовская Аравия

Задание №41

Страны-экспортеры нефти объединены в международную организацию:

Выберите один из 5 вариантов ответа:

1)	АСЕАН
2)	АТЭС
3)	ЕЭС
4)	ОПЕК
5)	ОАГ

Задание №42

В предложенном перечне укажите многомиллионный народ юго-западной Азии, не имеющий своего государства. Территория самопровозглашенного государства этого народа захватывает территории четырех соседних стран. Этот народ относится к иранской группе индоевропейской семьи и большинство исповедует ислам:

Выберите один из 5 вариантов ответа:

1)	ассирийцы
2)	баски
3)	пуштуны
4)	осетины
5)	курды

Задание №43

В каком году была провозглашена независимость Индии:

Выберите один из 5 вариантов ответа:

1)	1914 г.
2)	1947 г.
3)	1961 г.
4)	1975 г.
5)	1981 г.

Задание №44

Какая из указанных стран является федеративной?

Выберите один из 5 вариантов ответа:

1)	Непал
2)	Китай
3)	Монголия
4)	Япония

5)	Малайзия
----	----------

Задание №45

Какие из указанных стран Азии не имеют прямого выхода к морю?

Выберите один из 5 вариантов ответа:

1)	Оман, Ливан, Кувейт
2)	Иран, Ирак, Сирия
3)	Китай, Индия, Япония
4)	Пакистан, Бутан, Малайзия
5)	Афганистан, Монголия, Непал

Задание №46

По форме государственного устройства Индия это:

Выберите один из 5 вариантов ответа:

1)	унитарная республика
2)	федеративная республика
3)	конституционная монархия
4)	федеративная монархия
5)	джамахирия

Задание №47

Какой город является самым крупным промышленным центром на севере Индии?

Выберите один из 5 вариантов ответа:

1)	Мумбай
2)	Агра
3)	Ченнай
4)	Дели
5)	Колката

Задание №48

Какие страны относятся к группе отсталых стран:

Выберите один из 5 вариантов ответа:

1)	Израиль, Пакистан
2)	Камбоджа, Тайвань
3)	Индонезия, Непал
4)	Малайзия, Тайвань

5)	Афганистан, Йемен
----	-------------------

Задание №49

Крупнейшие бассейны угля в Азии расположены в странах:

Выберите один из 5 вариантов ответа:

1)	Китай, Афганистан
2)	Китай, Индия
3)	Саудовская Аравия, Кувейт
4)	Иордания, Индия
5)	Япония, Китай

Задание №50

Большинство населения Азии это ...

Выберите один из 3 вариантов ответа:

1)	женщины
2)	мужчины
3)	по 50 % каждого пола

Задание №51

Крупнейшими лесными ресурсами в Западной Азии обладает:

Выберите один из 3 вариантов ответа:

1)	Сингапур
2)	Индонезия
3)	Малайзия

Задание №52

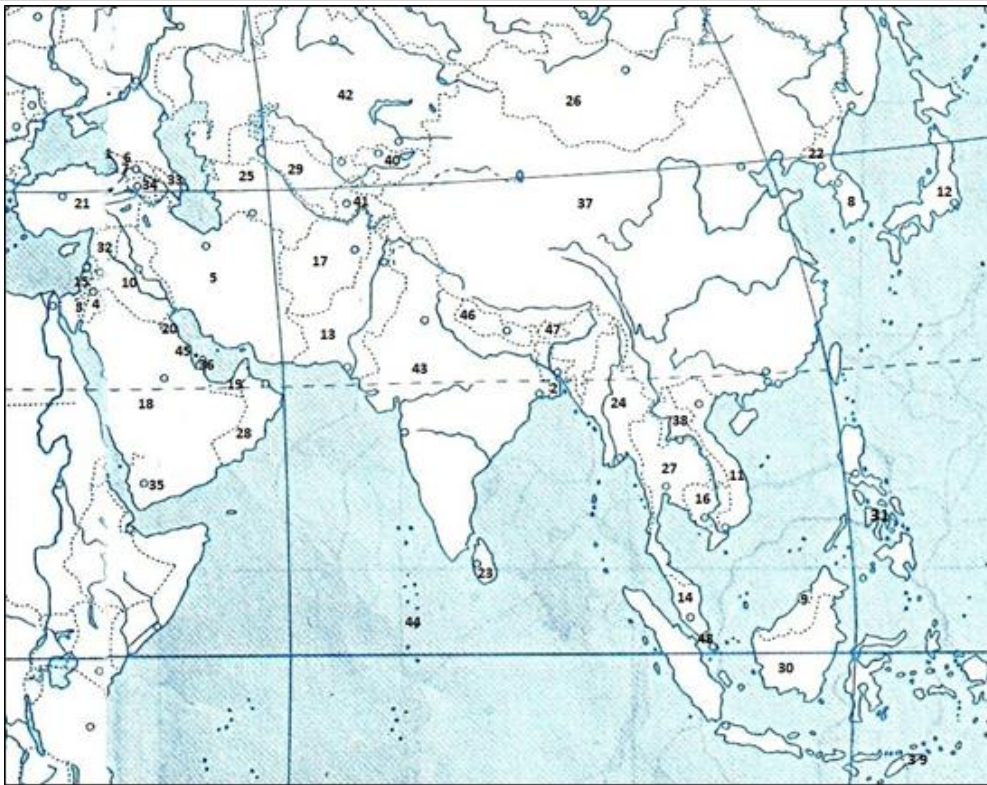
Самое экологически чистое государство Зарубежной Азии?

Выберите один из 3 вариантов ответа:

1)	Сингапур
2)	Индия
3)	Сычуань

Задание №53

Какими цифрами отмечены страны: Афганистан, Монголия, Казахстан?
Укажите числа в порядке следования стран, через запятую.



Запишите ответ:

1)	Ответ:	
----	--------	--

Задание №54

Для населения Индии характерны:

Выберите несколько из 3 вариантов ответа:

1)	женщины по численности превосходят мужчин.
2)	естественный прирост в последние годы неуклонно снижается.
3)	этническое и религиозное однообразие.

Задание №55

Что характерно для Азии?

Выберите несколько из 3 вариантов ответа:

1)	здесь расположена половина крупнейших городов мира.
2)	самая маленькая доля горожан.
3)	большинство населения – сельские жители.

Задание №56

Для Зарубежной Азии характерны:

Выберите несколько из 3 вариантов ответа:

1)	является крупнейшим производителем риса, хлопка и чая.
2)	выделяется крупнейшими запасами нефти и природного газа.

3)	две страны региона входят в «мировую десятку» по площади территории.
----	--

Задание №57

Составьте рейтинг по доходам ВВП на душу населения, начиная с наибольшего.

Укажите порядок следования всех 4 вариантов ответа:

1)	ОАЭ
2)	Япония
3)	Вьетнам
4)	Турция

Задание №58

Вставьте словосочетание:

Азию часто называют _____, так как именно здесь самая низкая доля горожан.

Впишите словосочетание, продолжив предложение в соответствии со смыслом, без пробелов.

Запишите ответ:

1)	Ответ:	
----	--------	--

Задание №59

Международная организация АСЕАН представляет государства региона:

Выберите один из 5 вариантов ответа:

1)	Юго - Восточная Азия
2)	Восточная Азия
3)	Юго-Западная Азия
4)	Центральная и Восточная Азия
5)	Южная Азия

Задание №60

Какова основная причина, способствовавшая быстрому росту экономики новых индустриальных стран (НИС)?

Выберите один из 5 вариантов ответа:

1)	Крупные месторождения полезных ископаемых
2)	Дешевая электрическая энергия
3)	развитый транспорт
4)	выгодное экономико-географическое положение
5)	"Мягкие" экологические законы

Задание №61

Наиболее высокую плотность населения имеют страны:

Выберите один из 5 вариантов ответа:		
1)		Бангладеш, Монголия
2)		Сингапур, Бангладеш
3)		Сингапур, Монголия
4)		Япония, Саудовская Аравия
5)		Китай, Саудовская Аравия

Задание №62		
Какое из указанных государств является конституционной монархией?		
Выберите один из 5 вариантов ответа:		
1)		Саудовская Аравия
2)		Кувейт
3)		Бруней
4)		ОАЭ
5)		Япония

Задание №63		
Специализацией Японии в мировом хозяйстве является:		
Выберите один из 5 вариантов ответа:		
1)		выращивание чая, риса, хлопка, джута
2)		тяжелое машиностроение
3)		роботостроение, электротехника
4)		сельскохозяйственное машиностроение
5)		военная техника, цветная металлургия

Задание №64		
Укажите центры судостроения Японии:		
Выберите один из 5 вариантов ответа:		
1)		Иокогама, Кобэ
2)		Хиросима, Токио
3)		Нагасаки, Нагоя
4)		Токио, Осака
5)		Фукуока, Осака

Задание №65		
Определите, какие части Китая плотно заселены:		

Выберите один из 5 вариантов ответа:		
1)		Южное побережье и Центральные районы
2)		Синьцзян, Тибет
3)		Великая Китайская равнина, Восточное и Юго-восточное побережье
4)		Внутренние районы и Манчжурия
5)		Население расселено по территории страны равномерно

Задание №66		
Крупнейшей агломерацией Китая является:		
Выберите один из 5 вариантов ответа:		
1)		Пекин
2)		Урумчи
3)		Аньшань
4)		Тяньцзинь
5)		Шанхай

Задание №67		
Укажите страну Азии, имеющую самую высокую среднюю продолжительность жизни:		
Выберите один из 5 вариантов ответа:		
1)		Индия
2)		Китай
3)		Афганистан
4)		Япония
5)		Бруней

Задание №68		
В какой части Китая сосредоточены особые экономические районы?		
Выберите один из 5 вариантов ответа:		
1)		Западном Китае
2)		Восточном и Южном Китае
3)		Северном Китае
4)		Юго-Восточном Китае
5)		Северо-Восточном и Северном Китае

Задание №69		
Господствующая религия в Индии:		
Выберите один из 5 вариантов ответа:		
1)		христианство

2)	сикхизм
3)	индуизм
4)	буддизм
5)	ислам

Задание №70

Укажите главные реки Индии?

Выберите один из 5 вариантов ответа:

1)	Ганг, Инд
2)	Ганг, Ассам
3)	Брахмапутра, Карманаша
4)	Годовари, Дамодар
5)	Савитри, Инд

Задание №71

Укажите наиболее плотно населенную часть Китая:

Выберите один из 4 вариантов ответа:

1)	северная
2)	восточная
3)	южная
4)	западная

Задание №72

Китай занимает первое место в мире по производству:

Выберите один из 4 вариантов ответа:

1)	электроэнергии и стали
2)	стали и хлопчатобумажных тканей
3)	хлопчатобумажных тканей и минеральных удобрений
4)	минеральных удобрений и электроэнергии

Задание №73

В Японии химия органического синтеза специализируется на производстве заменителей натуральных продуктов, потому что

Выберите один из 4 вариантов ответа:

1)	заменители обладают «заданными» свойствами
2)	это позволяет уменьшить зависимость от импорта сырья
3)	заменители обходятся дешевле

4)		на заменители натурального сырья большой спрос на мировом рынке
----	--	---

Задание №74

Мегалополис Токайдо расположен в Японии на:

Выберите один из 4 вариантов ответа:

1)		севере страны
2)		юге страны
3)		западном побережье
4)		восточном побережье

Задание №75

В Японии практически отсутствуют виды транспорта:

Выберите один из 4 вариантов ответа:

1)		железнодорожный и автомобильный
2)		автомобильный и трубопроводный
3)		трубопроводный и речной
4)		речной и железнодорожный

Задание №76

Укажите самый крупный город (городскую агломерацию) Индии:

Выберите один из 4 вариантов ответа:

1)		Дели
2)		Калькутта
3)		Мумбаи
4)		Ченнаи

Задание №77

Площадь территории Азии

Выберите один из 3 вариантов ответа:

1)		27 млн.км ²
2)		30 млн.км ²
3)		17 млн.км ²

Задание №78

Монголия простирается с запада на восток

Выберите один из 3 вариантов ответа:

1)	2,4 тыс.км
2)	5 тыс.км
3)	1,6 тыс.км

Задание №79

Самое большое по площади государство, не имеющее выхода к морю

Выберите один из 3 вариантов ответа:

1)	Казахстан
2)	Монголия
3)	Турция

Задание №80

Найди правильный ответ

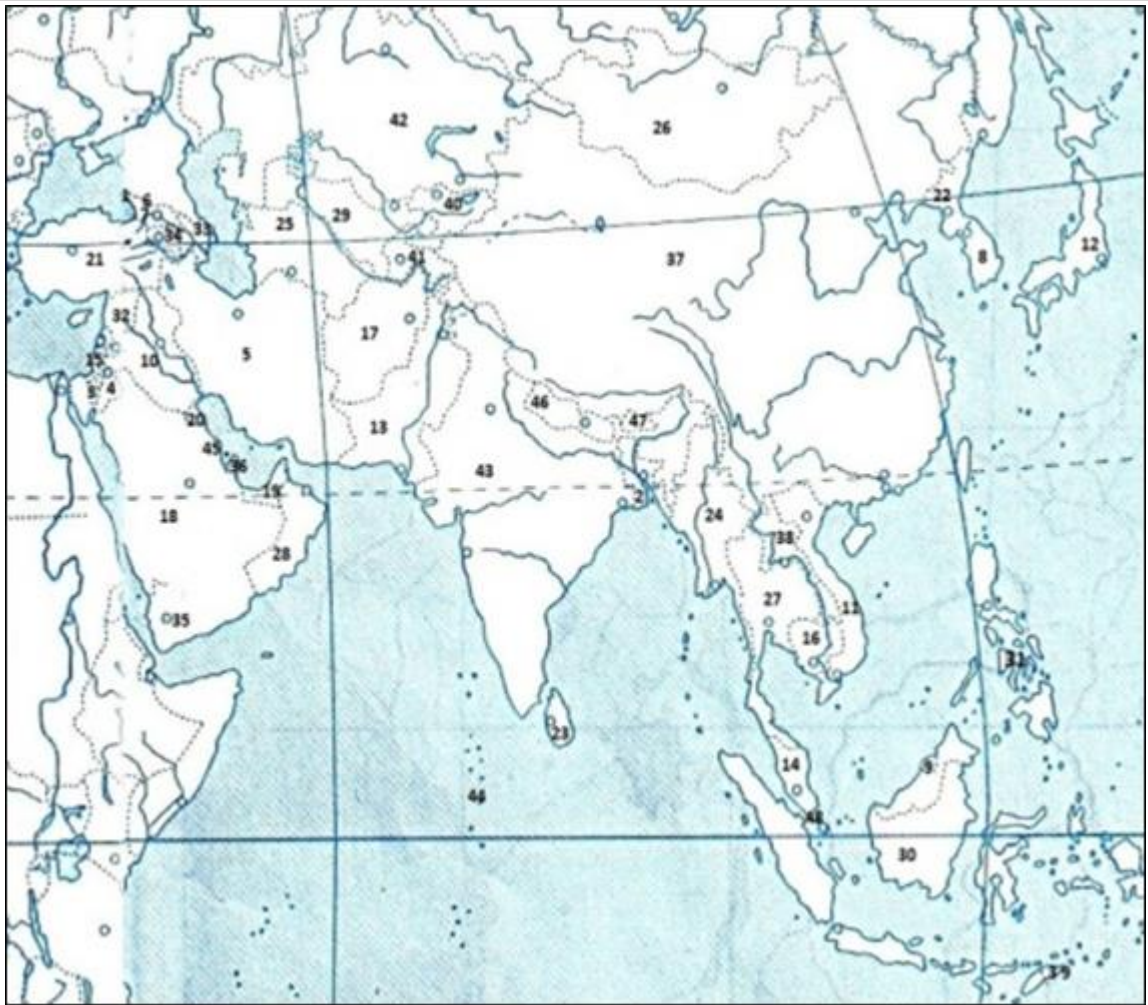
Выберите один из 3 вариантов ответа:

1)	в колониях Азии проживает 10% населения
2)	в заруб. Азии преобладают республики
3)	складчатых областях преобладают осадочные п/и

Задание №81

Какими цифрами на карте отмечены страны: Вьетнам, Индонезия, Филиппины?

В ответе запишите числа в порядке следования стран, через запятую, без пробелов



Запишите ответ:

1)	Ответ:	
----	--------	--

Задание №82

О какой стране Азии идет речь.

Она протянулась узкой полосой в 1700 км вдоль морского побережья, покрыта тропическими лесами, специализируется на производстве риса; главные районы рисосеяния — в дельтах крупнейших рек, крупные города размещены на крайнем севере и юге.

Запишите ответ:

1)	Ответ:	
----	--------	--

Задание №83

Установите соответствие между регионами Зарубежной Азии и структурой экспорта, для которых она характерна.

Укажите соответствие для всех 3 вариантов ответа:

1)	Южная Азия	1)	Сухофрукты, орехи, шкурки каракуля, финики и кофе
----	------------	----	---

2)	Юго-Западная Азия	2)	Джут, чай, копра, тропические фрукты
3)	Юго-Восточная Азия	3)	Пряности, сырьё для производства натурального каучука, пальмовое масло, кора хинного дерева

Письменная часть

Задание №84			
Назовите 3 любых составляющих модели экономического развития Японии			
Запишите ответ:			
1)	Ответ:		
Задание №85			
Назовите 3 любых составляющих модели экономического развития Индии			
Запишите ответ:			
1)	Ответ:		
Задание №86			
Назовите 3 любых составляющих модели экономического развития Турции			
Запишите ответ:			
1)	Ответ:		
Задание №87			
Назовите 3 любых составляющих модели экономического развития Китая			
Запишите ответ:			
1)	Ответ:		
Задание №88			
Укажите регион, в котором зародилась религия			
Укажите соответствие для всех 3 вариантов ответа:			
1)	Китай	1)	Христианство
2)	Ближний Восток	2)	Буддизм
3)	Индия	3)	Даосизм
		4)	Ислам
		5)	Иудаизм
		6)	Индуизм
		7)	Конфуцианство
Задание №89			
Самые большие горные системы и нагорья сосредоточены			
Выберите один из 3 вариантов ответа:			
1)	в Северной Азии, за Северным полярным кругом		
2)	в Центральной Азии		

3)		на берегах Индийского океана
----	--	------------------------------

Задание №90

Какие из горных систем являются молодыми, а какие старыми

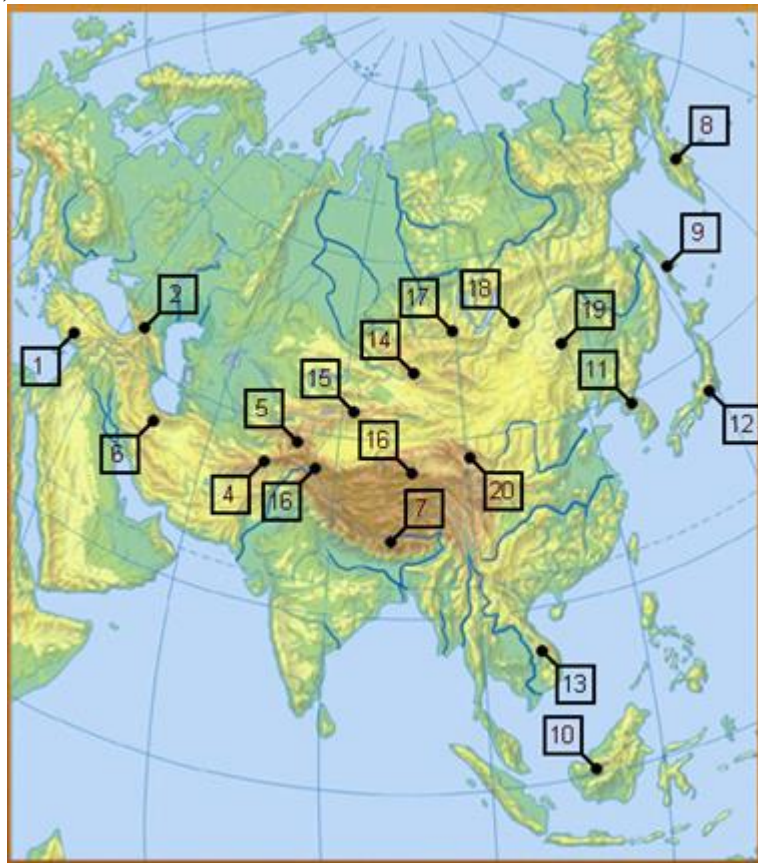
Укажите соответствие для всех 9 вариантов ответа:

1)	Алтай	1)	Молодые горы
2)	Каракорум	2)	Старые горы
3)	Тянь-Шань		
4)	Яблоновый хребет		
5)	Саяны		
6)	Гималаи		
7)	Гиндукуш		
8)	Памир		
9)	Кавказ		

Задание №91

Назовите горные системы, обозначенные на карте цифрами:

1, 4, 7, 10, 13, 16, 19



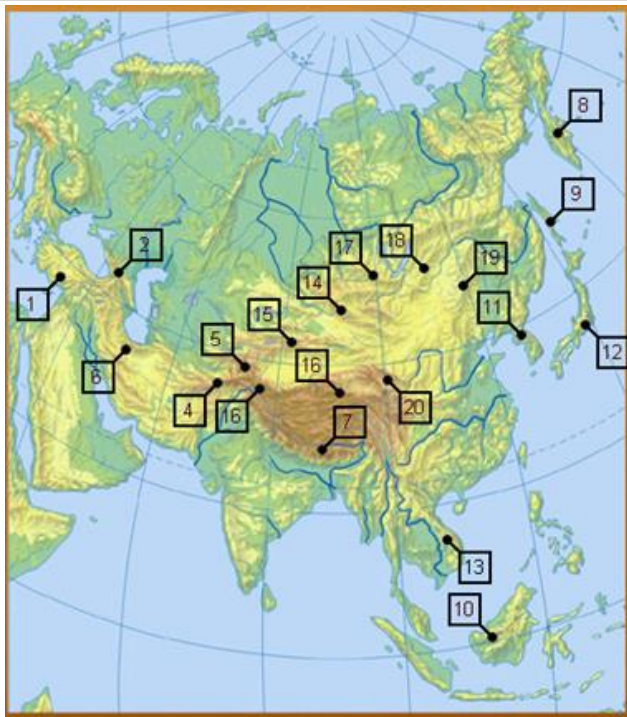
Запишите ответ:

1)	Ответ:	
----	--------	--

Задание №92

Назовите горные системы, обозначенные на карте цифрами:

2, 5, 8, 11, 12, 14, 17

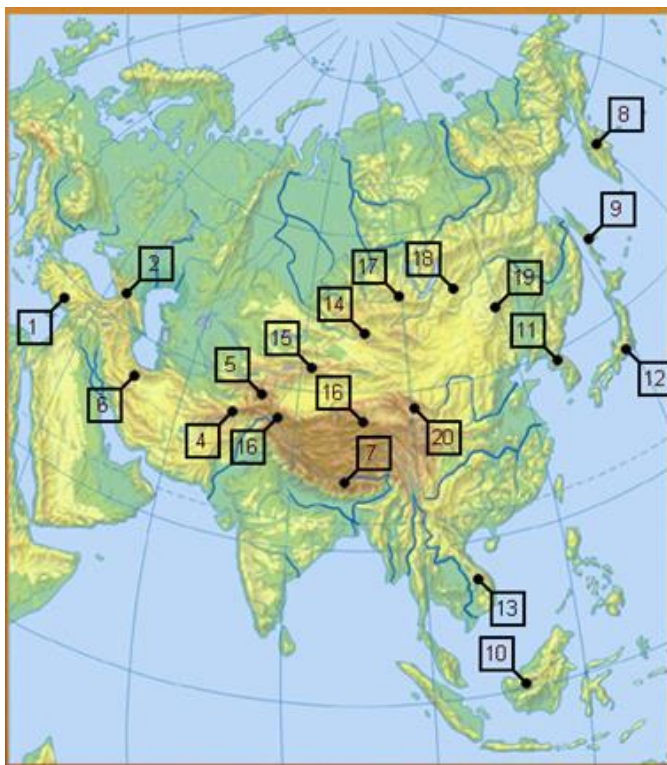


Запишите ответ:

1) Ответ:

Задание №93

Назовите горные системы, обозначенные на карте цифрами:
3, 6, 9, 12, 15, 18, 20



Запишите ответ:

1) Ответ:

Задание №94

Определи страну



Запишите ответ:

1)

Ответ:

Задание №95

Определи страну



Запишите ответ:

1)

Ответ:

Задание №96

Определи страну



Запишите ответ:

1)

Ответ:

Задание №97

Определи страну



Запишите ответ:

1)

Ответ:

Задание №98

Определите страну



Запишите ответ:

1) Ответ:

Задание №99

Определите страну



Запишите ответ:

1) Ответ:

Задание №100

От уровня экономического развития стран зависят многие особенности их населения. Установите соответствие между страной и характерной особенностью её населения: к каждому элементу первого столбца подберите соответствующий элемент из второго столбца.

Укажите соответствие для всех 3 вариантов ответа:

1)	Афганистан	1)	1) высокая (более 30%) доля детей и подростков в общей численности населения
2)	Замбия	2)	высокая (более 75 лет) средняя продолжительность жизни
3)	Норвегия		

Задание №101

Уровень экономического развития страны во многом определяет особенности её населения и хозяйства. Установите соответствие между страной и её характерной особенностью: к каждому элементу первого столбца подберите соответствующий элемент из второго столбца

Укажите соответствие для всех 3 вариантов ответа:

1)	Афганистан	1)	высокая (более 75%) доля сферы услуг в ВВП
2)	Великобритания	2)	высокая (более 30%) доля

			экономически активного населения, занятого в сельском хозяйстве
3)		Чад	

Задание №102

Цены на нефть, от которых в значительной степени зависит развитие экономики России, определяются согласованностью позиций стран ОПЕК. Назовите три (любые) страны, являющиеся членами ОПЕК.

Запишите ответ:

1)	Ответ:	
----	--------	--

Задание №103

Если раньше чай могли себе позволить пить только чопорные аристократические семьи, то сейчас культура потребления этого напитка стала повсеместной. Даже обычные посиделки в кругу семьи не обходятся без чаепития. Назовите три (любые) страны, которые являются основными поставщиками чая в наши дома

Запишите ответ:

1)	Ответ:	
----	--------	--

Задание №104

СНГ является свободным объединением государств. Хотя СНГ имеет мало наднациональных полномочий, оно обладает координационными полномочиями в области торговли, финансов, законотворчества и безопасности. СНГ также содействует развитию сотрудничества по трансграничному предупреждению преступности. Некоторые из членов СНГ образовали Евразийское экономическое сообщество с целью создания полноценного общего рынка. Назовите три (любые) страны, являющиеся членами Содружества независимых государств (СНГ).

Запишите ответ:

1)	Ответ:	
----	--------	--