

Характеристика итоговой работы

МОДУЛЬ 1

«Географическое положение России»

8 класс

(базовый уровень)

1. Назначение работы: проверка достижения учащимися 8 класса уровня подготовки в ходе базового изучения предмета.

2. Основное содержание проверки: ориентировано на содержание ФГОС.

3. Характеристика работы: в работе 13 заданий, которые расположены по нарастанию трудности в теме (максимальный балл - 20)

Задания выполняются на основе карт атласа, диаграмм, таблиц, графиков.

На задания 11-13 ответы записываются на отдельном листе или бланке.

Прочитайте внимательно задание, а затем выполните его.

4. Характеристика заданий: 1) задания, требующие записать ответ в виде числа; 2) задания, требующие записать ответ в виде слова; 3) задания, требующие записать ответ в виде последовательности цифр, в том числе на установление соответствия географических объектов и их характеристик, с выбором нескольких правильных ответов из предложенного списка, на установление правильной последовательности элементов, а также задания, требующие вписать в текст на месте пропусков ответы из предложенного списка.

Включенные в работу задания проверяются знания географических явлений и процессов и умение анализировать географическую информацию, представленную в различных формах, умение анализировать географическую информацию, представленную в различных формах, способность применять полученные в школе географические знания для объяснения различных событий и явлений в повседневной жизни.

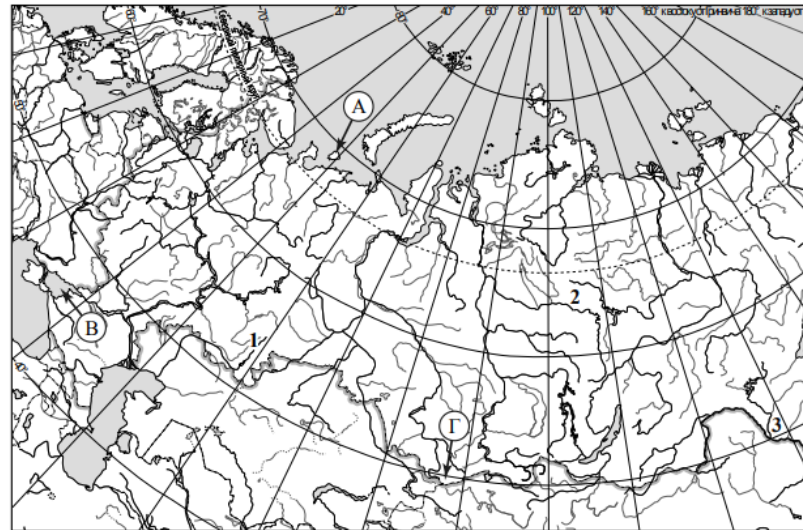
ВНИМАНИЕ! Банк заданий отсутствует. В таблице приведены примеры вопросов. В конце таблицы есть ответы на примерные вопросы для самопроверки. Дан перечень географической номенклатуры.





РЕКОМЕНДАЦИЯ. Прорешайте примерные вопросы и сопоставьте с ответами в конце таблицы. Если Вы допустили ошибки, то повторите темы.

ОБОБЩЕННЫЙ ПЛАН РАБОТЫ
по предмету ГЕОГРАФИЯ
МОДУЛЬ 1
«Географическое положение России»
8 класс (базовый уровень)

№ задания	Блок содержания	Проверяемые элементы содержания и виды деятельности	Типы заданий ¹	Уровень сложности ²	<u>ВНИМАНИЕ!</u> Это не банк заданий. <u>Пример</u> вопроса в итоговой работе	Балл
1	Географическое положение России	Знание/ понимание теоретических основ по теме	ВО	Б	Россия расположена в а) Северном и Западном полушариях б) Северном и Восточном полушариях в) Северном, Восточном и Западном полушариях г) Северном полушарии	1
2	Географическое положение России	Знание/ понимание теоретических основ по теме	ВО	Б	Моря, омывающие Россию с севера а) Белое, Баренцево, Карское б) Берингово, Карское, Лаптевых в) Балтийское, Черное, Белое	1
3	Часовые пояса	Знание/ понимание теоретических основ по теме	ВО	Б	Какого числа жителю Чукотки надо вылететь на Аляску, чтобы оказаться там 8 июня? а) 9 июня б) 8 июня в) 7 июня г) 10 июня	2
4	Границы Российской Федерации	Знание/ понимание теоретических основ по теме	ВО	Б	Преимущественно сухопутными являются государственные границы России 1) восточные и северные 2) северные и западные 3) западные и южные 4) южные и восточные	1
5	Географическое положение России	Знание/ понимание теоретических основ по теме	ВО	Б	Любая из точек на территории России имеет 1) западную долготу 2) восточную долготу 3) северную широту 4) южную широту	1

6	Типы границ России	Знание/ понимание теоретических основ по теме	ВО	Б	Установить соответствие <table><tr><th>Типы государственных границ</th><th>Виды государственных границ</th></tr><tr><td>1. Природные</td><td>а) Безопасные, конфликтные</td></tr><tr><td>2. Экономические</td><td>б) Равнинные, озёрные, морские</td></tr><tr><td>3. Геополитические</td><td>в) Старые, новые</td></tr><tr><td></td><td>г) Соединяющие, интеграционные, барьерные</td></tr></table>	Типы государственных границ	Виды государственных границ	1. Природные	а) Безопасные, конфликтные	2. Экономические	б) Равнинные, озёрные, морские	3. Геополитические	в) Старые, новые		г) Соединяющие, интеграционные, барьерные	2
Типы государственных границ	Виды государственных границ															
1. Природные	а) Безопасные, конфликтные															
2. Экономические	б) Равнинные, озёрные, морские															
3. Геополитические	в) Старые, новые															
	г) Соединяющие, интеграционные, барьерные															
7	Часовые пояса.	Знание/ понимание теоретических основ по теме	ВО	Б	На сколько градусов поворачивается Земля вокруг своей оси за один час? 1. 5° 2. 10° 3. 15° 4. 25°	2										
8	Административно-территориальное деление	Знание/ понимание теоретических основ по теме	ВО	Б	К городам федерального значения в составе РФ относятся 1) Калининград и Нижний Новгород 2) Нижний Новгород и Санкт-Петербург 3) Санкт-Петербург и Москва 4) Москва и Новосибирск	1										
9	Экономико-географическое положение	Умение работать с картами.	ВО	Б	Выберите из предложенного списка три страны, имеющие общие границы с Россией. 1) Молдавия 2) Норвегия 3) Армения 4) Латвия	1										

					5) Казахстан 6) Швеция											
10	Географическое положение России	Знание/ понимание теоретических основ по теме	ВО	Б	Установите соответствие <table><tr><th>Субъект РФ</th><th>Море, к побережью которого он выходит</th></tr><tr><td>1. Магаданская область</td><td>А) Балтийское</td></tr><tr><td>2. Республика Карелия</td><td>Б) Охотское</td></tr><tr><td>3. Ямало-Ненецкий АО</td><td>В) Карское</td></tr><tr><td></td><td>Г) Белое</td></tr></table>	Субъект РФ	Море, к побережью которого он выходит	1. Магаданская область	А) Балтийское	2. Республика Карелия	Б) Охотское	3. Ямало-Ненецкий АО	В) Карское		Г) Белое	2
Субъект РФ	Море, к побережью которого он выходит															
1. Магаданская область	А) Балтийское															
2. Республика Карелия	Б) Охотское															
3. Ямало-Ненецкий АО	В) Карское															
	Г) Белое															
11	Географическое положение России.	Умения создавать, применять и преобразовывать знаки и символы, модели и схемы для решения учебных и познавательных задач	ВО	Б	На карте буквами обозначены объекты, определяющие географическое положение России. Запишите в таблицу названия этих объектов. Определите географические координаты данных объектов. <table><tr><td>А</td><td>Б</td><td>В</td><td>Г</td></tr><tr><td></td><td></td><td></td><td></td></tr></table> 	А	Б	В	Г					3		
А	Б	В	Г													

13	Границы Российской Федерации	Умения создавать, применять и преобразовывать знаки и символы, модели и схемы для решения учебных и познавательных задач	ВО	<p>Б 1 балл</p> <p>1. На рисунках представлены контуры стран – соседей России. Подпишите под каждым рисунком рядом с номером название столицы соответствующей страны.</p> <div style="display: flex; justify-content: space-around; align-items: flex-start;"> <div style="text-align: center;"> <p>Грузия</p>  <p>1 – _____</p> </div> <div style="text-align: center;"> <p>Украина</p>  <p>2 – _____</p> </div> <div style="text-align: center;"> <p>Казахстан</p>  <p>3 – _____</p> </div> <div style="text-align: center;"> <p>Финляндия</p>  <p>4 – _____</p> </div> </div>
----	------------------------------	--	----	--