

**Материалы для подготовки к итоговому тестированию
по истории 11 класс профиль
М-3**

Тема: СССР и страны мира в 1980-нач. 1990 гг.

1. Советское государство и общества в условиях перестройки.
2. Последствия «перестройки». Августовский путч 1991 г.
3. Беловежские соглашения и распад СССР.
4. Становление новой России: социально-экономическое, политическое развитие РФ.
5. Основные тенденции развития образования, науки, искусства в последней трети.
6. РФ в 1992-начале XXI века: внешняя политика.
7. Многополярный мир.

Персоналии: М.С. Горбачев, Н.И. Рыжков, Л.И. Абалкин, Г.А. Явлинский, Б.Н. Ельцин, А.Н. Яковлев, Э.А. Шеварнадзе, Г.И. Янаев, В.А. Крючков, Д.Т. Язов, А.Д. Сахаров, Ю.Н. Афанасьев, Г.Х. Попов, А.А. Собчак, Г.А. Старовойтова, С.А. Федоров, Д.С. Лихачев, В.Г. Распутин, М.Л. Ростропович, М.М. Жванецкий, В.Цой, А. Макаревич, А.Б. Пугачева

Б.Н. Ельцин, В.В. Путин, Д.А. Медведев, Е.Т. Гайдар, А.Б. Чубайс, В.С. Черномырдин, Р.И. Хасбулатов, А.В. Руцкой, Г.А. Зюганов, В.В. Жириновский, Ю.М. Лужков, А.И. Лебедь, С.П. Мавроди, А.В. Козырев, С.В. Степашин, С.В. Кириенко, Е.М. Примаков, С.М. Шахрай, П.А. Грачев, Б.Е. Немцов, Д.М. Дудаев, А.А. Масхадов, Б.А. Березовский, В.О. Потанин, Ю.П. Любимов, М.А. Захаров, О.Н. Табаков, А.П. Звягинцев, П.С. Лунгин, Н.С. Михалков, А.Н. Сокуров, А.В. Рогожкин, О.Е. Миньшиков, В.А. Гергиев, В.Т. Спиваков, Ю.А. Башмет, А. Нетребко, З.К. Церетели, И.С. Глазунов, А.М. Шиллов, М. Гельман, А.И. Солженицын, В. Пелевин, Ю. Шевчук, Б. Акунин, Л. Улицкая, Д.Л. Быков, В.Л. Гинзбург, Ж.И. Алфёров, Ю.С. Осипов.

Понятия и термины: «перестройка», «гласность», «новое политическое мышление», «стратегия ускорения», «долларовая игла», общечеловеческие ценности, «социализм с человеческим лицом», антиалкогольная компания, человеческий фактор, новое политическое мышление, общечеловеческие ценности, политический плюрализм, правовое государство, разделение властей, межнациональный конфликт, титульная нация, коммерческий банк, индивидуальная трудовая деятельность, конверсия оборонных предприятий, съезд народных депутатов, Межрегиональная депутатская группа, Государственный комитет по чрезвычайному положению (ГКЧП).

«шоковая терапия», дефолт, ваучер, залоговый аукцион, либерализация цен, приватизация, Международный валютный фонд (МВФ), импичмент, олигархи, исламский фундаментализм, международный терроризм, вертикаль власти, стабилизационный фонд,

События/даты:

1985 г., март - избрание Генеральным секретарем ЦК КПСС М.С. Горбачева

1985 г., апрель (Пленум ЦК КПСС) Провозглашение М.С. Горбачевым курса на перестройку.

1986 г., 26 апреля – авария на Чернобыльской АЭС

1987 г., январь - провозглашение политики гласности

1988 г. июнь-июль XIX конференция КПСС

1989 г., апрель – вывод советских войск из Афганистана

1989 г., май- июнь – I съезд народных депутатов СССР

1990 г. 15 марта - избрание М.С. Горбачева Президентом СССР на III съезде народных депутатов СССР

1990 г., май- июнь - Съезд народных депутатов РСФСР, Принятие Декларации о государственном суверенитете России.

1991 г., 17 марта – референдум о сохранении СССР
 1991 г., июнь – избрание Б.Н.Ельцина Президентом РСФСР.
 1991 г., 19-21 августа – выступление ГКЧП
 1991 г., август – прекращение деятельности КПСС
 1991 г., 1 декабря – референдум о независимости Украины
 1991, декабрь - распад СССР (Беловежские соглашения между лидерами РФ, Украины и Белоруссии). Подписание ими же Декларации о создании Содружества Независимых Государств (СНГ). Алма-атинская декларация о целях и принципах СНГ (21 декабря 1991 г.)
 1992 г., 2 января – начало экономической реформы
 1992 г., 1 февраля – Декларация России и США о прекращении «холодной войны»
 1992 г., 13 марта – подписание Федеративного договора
 1992 г. - указ Президента РФ о введении в действие системы приватизационных чеков (ваучеров), начало приватизации госимущества
 1993, январь – подписание Договора СНВ-2 между Россией и США 1993 г., 25 апреля – референдум о доверии Президенту Б.Н. Ельцину.
 1993 г., 21 сентября - Указ Президента РФ № 1400 «О поэтапной конституционной реформе», объявление о роспуске съезда народных депутатов и Верховного Совета и проведении 12 декабря референдума по новой Конституции
 1993, октябрь – трагические события в Москве, расстрел Белого дома.
 1993 г., 12 декабря – Принятие Конституции РФ и выборы в Госдуму.
 1994 г., декабрь – начало военного конфликта в Чечне
 1995 г., июнь – нападение чеченских боевиков на г. Буденновск 1996 г. - выборы Президента РФ.
 1998 г., август – дефолт, экономический кризис
 2000 г. - вступление в должность Президента РФ В.В.Путина

Банк заданий

Задание №1		
Расположите в хронологической последовательности исторические события.		
Укажите порядок следования всех 3 вариантов ответа:		
1)		«Кровавое воскресенье»
2)		«Пражская весна»
3)		«Медный бунт»

Задание №2
Расположите исторических деятелей в хронологической последовательности их жизни.

Укажите порядок следования всех 3 вариантов ответа:		
1)		Г. М. Маленков
2)		В. В. Голицын
3)		М. Робеспьер

Задание №3		
Расположите в хронологической последовательности исторические события.		
Укажите порядок следования всех 3 вариантов ответа:		
1)		продажа Аляски США
2)		захват Константинополя крестоносцами
3)		подписание Заключительного акта Совещания по безопасности и сотрудничеству в Европе в Хельсинки

Задание №4		
Расположите в хронологической последовательности исторические события.		
Укажите порядок следования всех 3 вариантов ответа:		
1)		объединение ГДР и ФРГ
2)		третьеиюньский переворот в России
3)		учреждение опричнины

Задание №5		
Расположите в хронологической последовательности исторические события.		
Укажите порядок следования всех 3 вариантов ответа:		
1)		провозглашение прусского короля германским императором
2)		присоединение Пскова к Московскому государству
3)		выступление ГКЧП

Задание №6		
Расположите в хронологической последовательности исторические события.		
Укажите порядок следования всех 3 вариантов ответа:		
1)		принятие Указа об обязанных крестьянах

2)		созыв первого Земского собора
3)		провозглашение Китайской Народной Республики

Задание №7

Расположите в хронологической последовательности исторические события.

Укажите порядок следования всех 3 вариантов ответа:

1)		заклучение Столбовского мира со Швецией
2)		начало экономической реформы А.Н. Косыгина
3)		провозглашение доктрины Монро в США

Задание №8

Расположите в хронологической последовательности исторические события.

Укажите порядок следования всех 5 вариантов ответа:

1)		ввод советских войск в Афганистан
2)		ввод войск ОВД в Венгрию
3)		вывод российских гарнизонов из стран Центральной и Восточной Европы
4)		ввод войск ОВД в Чехословакию
5)		создание СЭВ

Задание №9

Расположите в хронологической последовательности исторические события.

Укажите порядок следования всех 5 вариантов ответа:

1)		ввод советских войск в Афганистан
2)		избрание Б.Н. Ельцина Президентом РСФСР
3)		образование СНГ
4)		полёт в космос Ю.А. Гагарина
5)		начало работы Государственной Думы РФ первого созыва

Задание №10

Расположите в хронологической последовательности исторические события.

Укажите порядок следования всех 5 вариантов ответа:

1)		принятие Декларации о государственном суверенитете России
2)		высылка академика А.Д. Сахарова в г. Горький

3)		выступление рабочих в г. Новочеркасске
4)		«дело врачей»
5)		Беловежское соглашение о создании Содружества Независимых Государств

Задание №11

Расположите в хронологической последовательности исторические события.

Укажите порядок следования всех 5 вариантов ответа:

1)		ввод советских войск в Афганистан
2)		учреждение поста Президента СССР
3)		избрание М.С. Горбачёва Генеральным секретарём ЦК КПСС
4)		образование ГКЧП
5)		подписание Беловежского соглашения о роспуске СССР

Задание №12

Расположите следующие фамилии государственных деятелей в хронологической последовательности их пребывания на посту главы Правительства.

Укажите порядок следования всех 5 вариантов ответа:

1)		Г.М. Маленков
2)		А.Н. Косыгин
3)		Е.Т. Гайдар
4)		Н.И. Рыжков
5)		В.С. Черномырдин

Задание №13

Расположите следующие сокращённые названия (аббревиатуры) в хронологической последовательности их появления.

Укажите порядок следования всех 5 вариантов ответа:

1)		СЭВ
2)		СССР
3)		ГКЧП
4)		ОВД
5)		СНГ

Задание №14

Расположите в хронологической последовательности исторические события.

Укажите порядок следования всех 5 вариантов ответа:

1)		«ленинградское дело»
2)		избрание М.С. Горбачёва Президентом СССР
3)		XX съезд КПСС

4)		первый в истории визит руководителя СССР в США
5)		избрание Б.Н. Ельцина Президентом РФ

Задание №15

Расположите в хронологической последовательности исторические события.

Укажите порядок следования всех 5 вариантов ответа:

1)		объединение ГДР и ФРГ
2)		Карибский кризис
3)		ввод войск стран Организации Варшавского договора в Чехословакию
4)		разрыв советским руководством отношений с Югославией
5)		подписание Заключительного акта Совещания по безопасности и сотрудничеству в Европе

Задание №16

Расположите в хронологическом порядке исторические события.

Укажите порядок следования всех 5 вариантов ответа:

1)		избрание Президентом СССР М.С. Горбачёва
2)		создание Содружества Независимых Государств
3)		вступление СССР в Лигу Наций
4)		избрание Президентом РФ Д.А. Медведева
5)		отстранение Н.С. Хрущёва от власти

Задание №17

Расположите исторические события в хронологическом порядке.

Укажите порядок следования всех 5 вариантов ответа:

1)		XX съезд КПСС
2)		отставка Н.С. Хрущёва
3)		подписание Договора ОСВ-2
4)		создание СЭВ
5)		фабрикация «дела врачей»

Задание №18

Установите соответствие между деятелями науки и техники и событиями 1940–1960-х гг., с которыми связаны их имена:

Укажите соответствие для всех 4 вариантов ответа:

1)		С.П. Королёв	1)	создание и испытание атомной бомбы
2)		И.В. Курчатов	2)	разгром советской генетики как научного направления

3)		А.Н. Туполев	3)	запуск первого искусственного спутника Земли
4)		Т.Д. Лысенко	4)	создание первого в мире реактивного пассажирского самолёта
			5)	открытие способа производства синтетического каучука

Задание №19

Установите соответствие между названиями войн и памятниками героям этих войн:

Укажите соответствие для всех 4 вариантов ответа:

1)		Отечественная война 1812 г.	1)	памятный знак на месте гибели П.С. Нахимова на Малаховом кургане
2)		Крымская война 1853–1856 гг.	2)	памятники М.И. Кутузову, М.Б. Барклаю де Толли в Санкт-Петербурге
3)		русско-турецкая война 1877–1878 гг.	3)	памятники А.В. Суворову в Санкт-Петербурге и в Москве
4)		Первая мировая война 1914–1918 гг.	4)	памятник русским воинам на Шипкинском перевале
			5)	памятный знак в Москве в честь авиаторов, погибших на Восточном фронте

Задание №20

Установите соответствие между деятелями советской науки и сферами их деятельности:

Укажите соответствие для всех 4 вариантов ответа:

1)		А.Н. Туполев	1)	филология, история
2)		Н.И. Вавилов	2)	атомная физика
3)		Д.С. Лихачёв	3)	самолётостроение
4)		И.В. Курчатов	4)	генетика, ботаника
			5)	геология

Задание №21

Установите соответствие между понятиями и периодами, к которым они относятся:

Укажите соответствие для всех 4 вариантов ответа:

1)		нэп	1)	конец 1930-х – начало 1940-х гг.
2)		коллективизация	2)	вторая половина 1940-х – конец 1980-х гг.
3)		«железный занавес»	3)	первая половина 1990-х гг.
4)		ваучеризация	4)	1920-е гг.
			5)	конец 1920-х – середина 1930-х гг.

Задание №22

Установите соответствие между деятелями культуры СССР и созданными ими произведениями:

Укажите соответствие для всех 4 вариантов ответа:

1)		К.М. Симонов	1)	роман «Доктор Живаго»
2)		С.С. Прокофьев	2)	кинофильм «Чистое небо»
3)		Г.Н. Чухрай	3)	роман «Живые и мёртвые»
4)		Б.Л. Пастернак	4)	опера «Война и мир»
			5)	песня «Священная война»

Задание №23

Установите соответствие между деятелями культуры СССР и сферами их творчества:

Укажите соответствие для всех 4 вариантов ответа:

1)		И.С. Глазунов	1)	актёр театра и кино
2)		Е.П. Леонов	2)	живописец, график
3)		Ю.Н. Григорович	3)	эстрадный артист-сатирик
4)		А.И. Райкин	4)	артист балета, балетмейстер
			5)	оперный певец

Задание №24

Установите соответствие между аббревиатурами, обозначающими названия советских государственных органов и общественных организаций, и их функциями:

Укажите соответствие для всех 4 вариантов ответа:

1)		ВСНХ	1)	орган по борьбе с контрреволюцией и саботажем
2)		ВЧК	2)	высший орган исполнительной власти
3)		РАПП	3)	орган по управлению делами Русской Православной Церкви

4)		СНК	4)	высший орган по планированию развития советской экономики
			5)	объединение советских писателей

Задание №25

Установите соответствие между событиями периода «перестройки» в СССР и указанным временем:

Укажите соответствие для всех 4 вариантов ответа:

1)		XIX Всесоюзная партийная конференция	1)	июнь- июль 1988 г.
2)		изоляция М.С. Горбачёва в Форосе	2)	март 1990 г.
3)		избрание Президента СССР	3)	август 1991 г.
4)		подписание Беловежского соглашения	4)	декабрь 1991 г.
			5)	декабрь 1993 г.

Задание №26

Установите соответствие между государственными деятелями и событиями, связанными с их деятельностью:

Укажите соответствие для всех 4 вариантов ответа:

1)		М.С. Горбачёв	1)	ввод советских войск в Афганистан
2)		Н.С. Хрущёв	2)	начало советско-японской войны
3)		Л.И. Брежнев	3)	созыв Съезда народных депутатов СССР
4)		Б.Н. Ельцин	4)	первые выборы в Государственную Думу РФ
			5)	Карибский кризис

Задание №27

Установите соответствие между историческими событиями и руководителями СССР, в период правления которых эти события произошли:

Укажите соответствие для всех 4 вариантов ответа:

1)		принятие Закона «О кооперации в СССР»	1)	И.В. Сталин
2)		строительство Волжского автомобильного завода	2)	Н.С. Хрущёв

3)		попытка перехода к семилетнему планированию развития народного хозяйства СССР	3)	Л.И. Брежнев
4)		введение оплаты по трудодням в колхозах	4)	Ю.В. Андропов
			5)	М.С. Горбачёв

Задание №28

Установите соответствие между партийно-государственными руководителями и историческими событиями.

Укажите соответствие для всех 4 вариантов ответа:

1)		В. И. Ленин	1)	I Съезд народных депутатов СССР
2)		И. В. Сталин	2)	принятие плана ГОЭЛРО
3)		Н. С. Хрущёв	3)	первый полёт человека в космос
4)		М. С. Горбачёв	4)	ввод советских войск в Афганистан
			5)	подписание советско-германского Договора о ненападении

Задание №29

Установите соответствие между реформами и фамилиями руководителей СССР, в период правления которых эти реформы были проведены.

Укажите соответствие для всех 4 вариантов ответа:

1)		принятие закона об индивидуальном предпринимательстве	1)	И.В. Сталин
2)		передача МТС колхозам	2)	Н. С. Хрущёв
3)		ликвидация совнархозов и восстановление отраслевых министерств	3)	Л. И. Брежнев
4)		преобразование народных комиссариатов в министерства	4)	Ю. В. Андропов
			5)	М. С. Горбачёв

Задание №30

Напишите пропущенное понятие (термин).

Политика, направленная на снижение агрессивности противостояния стран социалистического и капиталистического лагерей, проводимая в конце 1960-х — конце 1970-х гг., получила название «период _____».

Ответ запишите со строчной буквы в и.п.

Запишите ответ:

1)

Ответ:

Задание №31

Напишите термин пропущенный в предложении.

Политика, характеризующаяся установкой на построение коммунизма в СССР в течение двадцати ближайших лет, связана с периодом _____.

Ответ запишите со строчной буквы в и.п.

Запишите ответ:

1)

Ответ:

Задание №32

Напишите пропущенное слово.

Проводившийся с 1953 г. процесс восстановления в правах, восстановления утраченного доброго имени, отмены необоснованного обвинения невинно осуждённых в годы сталинских политических репрессий называется _____.

Ответ запишите со строчной буквы в и.п.

Запишите ответ:

1)

Ответ:

Задание №33

Напишите пропущенное слово.

Процесс практически бескровного перехода от социалистической общественно-политической системы к либеральной, произошедший в конце 1980-х — начале 1990-х гг. в странах Восточной Европы, получил название «_____революции».

Ответ запишите со строчной буквы в и.п. ед.ч.

Запишите ответ:

1)

Ответ:

Задание №34

Напишите пропущенное слово.

Соглашение о создании Содружества Независимых Государств, подписанное руководителями РСФСР, Белоруссии и Украины в декабре 1991 г., ознаменовавшее прекращение существования СССР, по месту подписания получило название «_____соглашение».

Ответ запишите со строчной буквы в и.п.

Запишите ответ:

1)

Ответ:

Задание №35

Напишите пропущенное слово.

Международная организация, созданная в 1949 г. для взаимодействия стран «социалистического лагеря» в экономической сфере, получила сокращённое название _____.

Ответ запишите со строчной буквы абривиатурой.

Запишите ответ:

1)

Ответ:

Задание №36

Запишите термин, о котором идёт речь.

Курс на _____ был провозглашен М. С. Горбачёвым в самом начале периода перестройки. Этот курс должен был осуществляться за счёт интенсификации труда, активного внедрения достижений научно-технического прогресса в производство.

Ответ запишите со строчной буквы в и.п.

Запишите ответ:

1)

Ответ:

Задание №37

Напишите пропущенное слово в именительном падеже.

Комплекс мероприятий по увеличению производства зерна в СССР в 1954-1960 гг. путём введения в оборот обширных земельных ресурсов в Казахстане, Поволжье, Урале, Сибири, Дальнем Востоке получил название «освоение _____».

Ответ запишите со строчной буквы в и.п.

Запишите ответ:

1)

Ответ:

Задание №38

Напишите пропущенное слово.

Единственный всесоюзный _____ за всю историю существования СССР был проведён по вопросу о сохранении СССР 17 марта 1991 г.

Ответ запишите со строчной буквы в и.п.

Запишите ответ:

1)

Ответ:

Задание №39

Напишите пропущенное слово.

Процесс, заключающийся в восстановлении в правах, восстановлении утраченного доброго имени, отмене необоснованного обвинения невиновного лица либо группы лиц из-за отсутствия состава преступления в отношении жертв сталинских репрессий, который начался в СССР после смерти И. В. Сталина называется _____.

Ответ запишите со строчной буквы в и.п.

Запишите ответ:

1)	Ответ:	
----	--------	--

Задание №40

Запишите термин, о котором идёт речь.

«Образное название общественно-политических процессов в Чехословакии в 1968 г., связанных с демократизацией и экономическими преобразованиями рыночного характера. По мнению советского руководства, эти процессы вели к выходу Чехословакии из социалистического лагеря. В страну были введены войска ОВД для поддержания социалистического режима».

Ответ запишите со строчной буквы в и.п. без пробелов.

Запишите ответ:

1)	Ответ:	
----	--------	--

Задание №41

Запишите термин, о котором идёт речь.

Сокращённое название органов территориального управления народным хозяйством, созданных в результате реформы 1957 г. взамен отраслевых министерств.

Ответ запишите со строчной буквы в и.п.

Запишите ответ:

1)	Ответ:	
----	--------	--

Задание №42

Какие три из названных мер были осуществлены в ходе перестройки?

Выберите несколько из 6 вариантов ответа:

1)		созыв Съезда народных депутатов
2)		введение госприёмки
3)		ликвидация центральных отраслевых министерств и их замена совнархозами
4)		либерализация цен
5)		принятие закона об индивидуальной трудовой деятельности
6)		ликвидация КГБ

Задание №43

Какие три предложения по реформированию экономики СССР из перечисленных ниже содержались в программе «500 дней»?

Выберите несколько из 6 вариантов ответа:

1)		усиление и развитие планирования экономических показателей
2)		проведение «политики ускорения»
3)		приватизация государственной собственности
4)		децентрализация управления экономикой
5)		полный отказ от внешних заимствований, опора на собственные силы
6)		создание благоприятных условий для развития частного предпринимательства

Задание №44

Какие три деятеля культуры второй половины XX в. из перечисленных ниже являлись (являются) кинорежиссёрами?

Выберите несколько из 6 вариантов ответа:

1)		Э. А. Рязанов
2)		И. С. Глазунов
3)		С. С. Говорухин
4)		Л. И. Гайдай
5)		А. М. Шилов
6)		Э. И. Неизвестный

Задание №45

Какие три из перечисленных черт характеризуют период «застоя» в СССР?

Выберите несколько из 6 вариантов ответа:

1)		дефицит промышленных и продовольственных товаров
2)		значительный разрыв в материальном положении разных слоёв общества
3)		борьба с диссидентским движением
4)		быстрые темпы внедрения современных технологий в производство товаров народного потребления
5)		социальная стабильность, высокая степень социальной защищённости населения
6)		альтернативный характер выборов

Задание №46

Какие три из названных событий связаны с периодом разрядки в международных отношениях?

Выберите несколько из 6 вариантов ответа:

1)		договор о ликвидации ракет средней и меньшей дальности
2)		договор об ограничении стратегических вооружений (ОСВ-1)
3)		ропуск Организации Варшавского договора
4)		вступление СССР в ООН
5)		договор об ограничении системы противоракетной обороны (ПРО)
6)		подписание Заключительного акта Совещания по безопасности и сотрудничеству в Европе

Задание №47

Укажите трёх государственных деятелей, которые занимали пост Генерального секретаря ЦК КПСС.

Выберите несколько из 6 вариантов ответа:

1)		Л. И. Брежнев
2)		М. С. Горбачёв
3)		А. Н. Косыгин
4)		К. Е. Ворошилов
5)		Ю. В. Андропов
6)		Г. М. Маленков

Задание №48

Какие три из перечисленных положений характеризуют период «оттепели»?

Выберите несколько из 6 вариантов ответа:

1)		сокращение количества издаваемых газет и журналов
2)		реабилитация значительной части жертв политических репрессий
3)		отмена идеологического контроля в сфере культуры
4)		внутрипартийная борьба за власть
5)		введение многопартийности
6)		политика десталинизации

Задание №49

Какие черты характеризовали развитие науки и культуры в СССР в 1970-е—середине 1980-х гг.?

Выберите несколько из 6 вариантов ответа:		
1)		подпольное распространение запрещенных цензурой произведений
2)		приоритетное финансирование культуры
3)		идеологический контроль в сфере литературы и искусства
4)		сокращение расходов на науку
5)		введение всеобщего обязательного среднего образования
6)		сокращение количества специалистов с высшим образованием

Задание №50		
Какие три из названных исторических событий относятся к периоду «оттепели»?		
Выберите несколько из 6 вариантов ответа:		
1)		строительство первой атомной электростанции
2)		авария на Чернобыльской АЭС
3)		открытие Института ядерных исследований
4)		создание атомных авиационных двигателей
5)		создание первого атомного ледокола «Ленин»
6)		создание атомной бомбы

Задание №51		
Какие черты характеризовали внутреннюю политику в СССР в 1965—1985 гг.? Выберите три верных суждения.		
Выберите несколько из 6 вариантов ответа:		
1)		передача части властных функций от партийных структур к советским
2)		утверждение концепции «развитого социализма»
3)		массовая замена и омоложение партийно-государственных кадров
4)		усиление влияния органов безопасности
5)		проведение массовых репрессий
6)		усиление позиций партийно-государственной номенклатуры

Задание №52

Какие три из перечисленных положений относятся к политике «перестройки»?

Выберите несколько из 6 вариантов ответа:

1)		замена продрозвёрстки продналогом
2)		усиление роли Советов в управлении государством
3)		борьба с «космополитизмом»
4)		отказ от политики «холодной войны»
5)		приоритетное развитие военно-промышленного комплекса
6)		введение многопартийности

Задание №53

Какие три из перечисленных мер относятся к периоду «перестройки»?

Выберите несколько из 5 вариантов ответа:

1)		Принятие Закона «Об индивидуальной трудовой деятельности».
2)		Курс на приватизацию собственности.
3)		Либерализация цен.
4)		Внедрение бригадного и арендного подряда.
5)		Борьба с пьянством и алкоголизмом

Задание №54

Что из перечисленного относится к социально-экономическому развитию СССР в период «перестройки»?

Выберите несколько из 6 вариантов ответа:

1)		выпуск приватизационных чеков
2)		развитие индивидуальной трудовой деятельности
3)		начало забастовочного движения в стране
4)		снижение цен на потребительские товары
5)		острый дефицит товаров
6)		либерализация цен

Задание №55

Какие из перечисленных положений характеризуют политическую ситуацию конца 1980-х гг.? Выберите три ответа.

Выберите несколько из 6 вариантов ответа:

1)		проведение альтернативных выборов
2)		рост национальных конфликтов на территории СССР
3)		усиление роли партии в управлении государством
4)		политика гласности
5)		сокращение полномочий союзных республик
6)		проведение кампании по борьбе с космополитизмом

Задание №56

Какие из перечисленных положений характеризуют внешнюю политику и внешнеполитическое положение СССР в конце 1980-х гг.? Выберите три ответа

Выберите несколько из 6 вариантов ответа:

1)		участие советских специалистов во Вьетнамской войне
2)		улучшение отношений с западными странами
3)		укрепление единства социалистического лагеря во главе с СССР
4)		наращивание гонки вооружений
5)		улучшение отношений с Китаем
6)		проведение политики «нового политического мышления»

Задание №57

Что из перечисленного характеризует последствия проведения экономических реформ в России начала 1990-х гг.? Выберите три ответа

Выберите несколько из 6 вариантов ответа:

1)		высокие темпы развития машиностроения
2)		резкое снижение роли продажи нефти и газа за границу в формировании доходов государства
3)		насыщение рынка товарами массового потребления
4)		развитие рынка ценных бумаг
5)		гиперинфляция
6)		запрет на хождение иностранной валюты внутри страны

Задание №58

Заполните пустые ячейки таблицы, используя представленные в приведённом ниже списке данные. Для каждой ячейки, обозначенной буквами, выберите номер нужного элемента.

События	Даты	Руководитель СССР в данный период
_____ (А)	1962 г.	Н. С. Хрущев
Переименование наркоматов в министерства	1946 г.	_____ (Б)
_____ (В)	1986 г.	_____ (Г)
Принятие Конституции «развитого социализма»	_____ (Д)	_____ (Е)

Укажите соответствие для всех 6 вариантов ответа:

1)	А	1)	катастрофа на Чернобыльской АЭС
2)	Б	2)	расстрел рабочей демонстрации в Новочеркасске
3)	В	3)	1953 г.
4)	Г	4)	учреждение поста Президента СССР
5)	Д	5)	испытание первой советской ядерной бомбы
6)	Е	6)	И. В. Сталин
		7)	Л. И. Брежнев
		8)	М. С. Горбачёв
		9)	9) 1977 г.

Задание №59

Заполните пустые ячейки таблицы, используя представленные в приведённом ниже списке данные. Для каждой ячейки, обозначенной буквами, выберите номер нужного элемента.

Государственный деятель	Период	Событие
_____ (А)	Март—август 1998 г.	_____ (Б)
Билл Клинтон	1992-2000гг	_____ (В)
_____ (Г)	_____ (Д)	Первый выпуск Государственных краткосрочных облигаций (ГКО)
Б. Н. Ельцин	_____ (Е)	Либерализация цен

Укажите соответствие для всех 6 вариантов ответа:

1)		А	1)	ноябрь 1991 г. — июнь 1992 г.
2)		Б	2)	начало реализации приоритетных национальных проектов
3)		В	3)	был американским президентом когда было принято решение НАТО о бомбардировке Югославии
4)		Г	4)	декабрь 1992 г. — март 1998 г.
5)		Д	5)	В. С. Черномырдин
6)		Е	6)	объявление технического дефолта
			7)	С. В. Кириенко
			8)	май—август 1999 г.
			9)	М. М. Касьянов

Задание №60

Прочтите отрывок из заявления политического деятеля.

«Секретариат, Политбюро ЦК КПСС не выступили против государственного переворота. Центральный Комитет не сумел занять решительную позицию осуждения и противодействия, не поднял коммунистов на борьбу против попрания конституционной законности. Среди заговорщиков оказались члены партийного руководства, ряд партийных комитетов и средств массовой информации поддержал действия государственных преступников. Это поставило коммунистов в ложное положение.

Многие члены партии отказались сотрудничать с заговорщиками, осудили переворот и включились в борьбу против него. Никто не имеет морального права огульно обвинять всех коммунистов, и я как Президент считаю себя обязанным защитить их как граждан от необоснованных обвинений.

В этой обстановке ЦК КПСС должен принять трудное, но честное решение о самороспуске. Судьбу республиканских компартий и местных партийных организаций определяют они сами.

Не считаю для себя возможным дальнейшее выполнение функций Генерального секретаря ЦК КПСС и слагаю соответствующие полномочия».

Используя отрывок и знания по истории, выберите в приведённом списке три верных суждения.

Выберите несколько из 6 вариантов ответа:

1)	Автор заявления занимал одновременно с постом Генерального секретаря важный государственный пост.
2)	Одним из тех, кого автор заявления называет заговорщиками, был Г. И. Янаев.
3)	Заговорщики, о которых идёт речь в данном отрывке, были в сговоре с Президентом СССР.
4)	Автор заявляет, что все члены партии поддержали заговорщиков.
5)	Заявление сделано в 1993 г.
6)	В течение того же года, когда было сделано данное заявление, деятельность названной в отрывке партии была прекращена на территории России.

Задание №61

Прочтите отрывок из воспоминаний.

«Часам к двенадцати в воскресенье утром приехал к нему [С. А. Филатову — главе президентской администрации] на дачу и здесь узнал, что президент принял решение приостановить работу Верховного Совета, объявить новые выборы, и провести референдум по Конституции. Филатову поручено продумать политический сценарий предстоящих событий. Сергей Александрович сказал, что всё это вызывает у него серьёзное беспокойство. Спросил, какова моя точка зрения.

После того как Верховный Совет открыто проигнорировал ясно выраженную апрельским референдумом волю народа к продолжению реформ и отверг одну за другой все попытки найти между двумя ветвями власти разумный компромисс, неизбежность подобного решения была очевидной. <...>Принимаю решение о необходимости обратиться к москвичам за поддержкой».

Используя отрывок и знания по истории, выберите в приведённом списке три верных суждения.

Выберите несколько из 6 вариантов ответа:

1)	Президент, о котором говорится в тексте, — Б. Н. Ельцин.
2)	Описываемая в тексте ситуация относится к 1991 г.
3)	Одним из участников событий, о которых говорится в тексте, был Р.И. Хасбулатов.

4)		Конфликт, о котором говорится в тексте, удалось разрешить мирным, ненасильственным путём.
5)		Автор воспоминаний крайне негативно оценивает действия президента.
6)		В конфликте, о котором говорится в тексте, победу одержали сторонники президента.

Задание №62

Прочтите отрывок из декларации.

«Независимые Государства

— Азербайджанская Республика, Республика Армения, Республика Беларусь, Республика Казахстан, Республика Кыргызстан, Республика Молдова, Российская Федерация (РСФСР), Республика Таджикистан, Туркменистан, Республика Узбекистан и Украина, стремясь построить демократические правовые государства, отношения между которыми будут развиваться на основе взаимного признания и уважения государственного суверенитета и суверенного равенства, неотъемлемого права на самоопределение, принципов равноправия и невмешательства во внутренние дела...;

...будучи приверженными целям и принципам Соглашения о создании Содружества Независимых Государств, заявляют о нижеследующем:

Взаимодействие участников Содружества будет осуществляться на принципе равноправия через координирующие институты, формируемые на паритетной основе и действующие в порядке, определяемом соглашениями между участниками Содружества, которое не является ни государством, ни над государственным образованием.

В целях обеспечения международной стратегической стабильности и безопасности будет сохранено объединённое командование военно-стратегическими силами и единый контроль над ядерным оружием; стороны будут уважать стремление друг друга к достижению статуса безъядерного и (или) нейтрального государства.

...С образованием Содружества Независимых Государств Союз Советских Социалистических Республик прекращает своё существование».

Используя отрывок и знания по истории, выберите в приведённом списке три верных суждения.




Выберите несколько из 6 вариантов ответа:

1)		Подписание декларации относится к 1991 г.
2)		В декларации заявляется о стремлении сторон создать новое союзное государство.
3)		В декларации говорится о стремлении подписавших его сторон к демократии.

4)		Декларация предусматривает главенство России в создаваемом объединении.
5)		Президентом России во время подписания декларации был Б. Н. Ельцин.
6)		Среди стран, подписавших декларацию, были прибалтийские республики.

Задание №63

На какой из фотографий, представленных ниже, изображены деятели культуры, которые были наиболее популярны в период подготовки и проведения Олимпийских игр, символика которых представлена выше?



Выберите несколько из 4 вариантов ответа:

1)		1
2)		2
3)		3
4)		4

Задание №64

Какие из представленных плакатов относятся к тому же периоду, что и марка, изображённая выше?




1)		2)	
3)		4)	

Выберите несколько из 4 вариантов ответа:

1)	1
2)	2
3)	3
4)	4

Задание №65

Какие из карикатур, представленных ниже, относятся к периоду руководства российского президента, при котором была выпущена данная марка?



Выберите несколько из 4 вариантов ответа:

1)		1
2)		2
3)		3
4)		4

Задание №66

Укажите монеты, выпущенные в годы руководства СССР того же политического деятеля, при котором была выпущена данная почтовая марка.



1)



2)



3)



4)




Выберите несколько из 4 вариантов ответа:

1)		1
2)		2
3)		3
4)		4

Задание №67

Какие из изображений посвящены событиям, относящимся к периоду руководства СССР государственного деятеля, при котором была выпущена данная монета?



1)		2)	
3)		4)	

Выберите несколько из 4 вариантов ответа:

1)	1
2)	2
3)	3
4)	4

Задание №68

Какие из изображений посвящены юбилеям, празднование которых относится ко времени, когда руководителем страны был тот же исторический деятель, в период руководства которого была выпущена данная марка?





1)



2)



3)



4)

Выберите несколько из 4 вариантов ответа:

1)	<input type="checkbox"/>	1
2)	<input type="checkbox"/>	2
3)	<input type="checkbox"/>	3
4)	<input type="checkbox"/>	4

Задание №69

Письменное задание №1, проверяется и оценивается учителем в 7 баллов.

Для продолжения тестирования наберите 1.

Запишите число:

1)	Ответ:	<input type="text"/>
----	--------	----------------------

Задание №70

Напишите пропущенное слово.

Процесс практически бескровного перехода от социалистической общественно-политической системы к либеральной, произошедший в конце 1980-х — начале 1990-х гг. в странах Восточной Европы, получил название «_____революции».

Слово запишите строчными буквами, в соответствии с текстом.

Запишите ответ:

1)	Ответ:	
----	--------	--

Задание №71

Напишите пропущенное слово.

Соглашение о создании Содружества Независимых Государств, подписанное руководителями РСФСР, Белоруссии и Украины в декабре 1991 г., ознаменовавшее прекращение существования СССР, по месту подписания получило название «_____соглашение».

Слово запишите строчными буквами, в соответствии с текстом.

Запишите ответ:

1)	Ответ:	
----	--------	--

Задание №72

Запишите термин, о котором идёт речь.

Курс на _____ был провозглашен М. С. Горбачёвым в самом начале периода перестройки. Этот курс должен был осуществляться за счёт интенсификации труда, активного внедрения достижений научно-технического прогресса в производство.

Слово запишите строчными буквами, в соответствии с текстом.

Запишите ответ:

1)	Ответ:	
----	--------	--

Задание №73

Напишите пропущенное слово.

Единственный всесоюзный _____ за всю историю существования СССР был проведён по вопросу о сохранении СССР 17 марта 1991 г.

Слово запишите строчными буквами, в соответствии с текстом.

Запишите ответ:

1)	Ответ:	
----	--------	--

Задание №74

Ниже приведён перечень терминов. Все они, за исключением двух, относятся к событиям, явлениям, относящимся к периоду 1985—1991 гг.

Найдите и запишите порядковые номера терминов, относящихся к другому историческому периоду.

- 1) многопартийность 2) бюджетный дефицит 3) вертикаль власти
4) монетизация льгот 5) референдум 6) ускорение социально-экономического развития

Ответ запишите цифрами в порядке возрастания.

Запишите число:

1)	Ответ:	
----	--------	--

Задание №75

Ниже приведён перечень терминов. Все они, за исключением двух, относятся к периоду перестройки в СССР (1985–1991 гг.).

Найдите и запишите порядковые номера терминов, относящихся к другому историческому периоду.

- 1) *народный депутат* 2) *гласность* 3) *федеральный округ*
 4) *кооперация*
 5) *национальные приоритетные проекты* 6) *«новое политическое мышление»*

Ответ запишите цифрами в порядке возрастания.

Запишите число:

1)	Ответ:	
----	--------	--

Задание №76

Какие три из названных событий связаны с периодом разрядки в международных отношениях? Соответствующие цифры запишите в ответ.

- 1) договор о ликвидации ракет средней и меньшей дальности
 2) договор об ограничении стратегических вооружений (ОСВ-1)
 3) роспуск Организации Варшавского договора
 4) вступление СССР в ООН
 5) договор об ограничении системы противоракетной обороны (ПРО)
 6) подписание Заключительного акта Совещания по безопасности и сотрудничеству в Европе

Ответ запишите цифрами в порядке возрастания.

Запишите число:

1)	Ответ:	
----	--------	--

Задание №77

Укажите трёх государственных деятелей, которые занимали пост Генерального секретаря ЦК КПСС. Соответствующие цифры запишите в ответ.

- 1) Л. И. Брежнев 2) М. С. Горбачёв 3) А. Н. Косыгин 4) К. Е. Ворошилов
 5) Ю. В. Андропов 6) Г. М. Маленков

Ответ запишите цифрами в порядке возрастания.

Запишите число:

1)	Ответ:	
----	--------	--

Задание №78

Ниже приведён перечень терминов. Все они, за исключением двух, относятся к преобразованиям периода перестройки. Найдите и запишите термины, относящиеся к другому историческому периоду.

- 1) Альтернативные выборы
- 2) гласность
- 3) раскулачивание
- 4) Съезд народных депутатов
- 5) индивидуальная трудовая деятельность
- 6) совнархозы

Запишите число:

1)

Ответ:

Задание №79

Ниже приведён перечень терминов. Все они, за исключением двух, относятся к событиям, явлениям, относящимся к периоду 1985—1991 гг.

- 1) многопартийность
- 2) бюджетный дефицит
- 3) вертикаль власти
- 4) монетизация льгот
- 5) референдум
- 6) ускорение социально-экономического развития

Запишите число:

1)

Ответ:

Задание №80

Ниже приведён перечень терминов. Все они, за исключением двух, относятся к периоду перестройки в СССР (1985–1991 гг.).

- 1) народный депутат
- 2) гласность
- 3) федеральный округ
- 4) кооперация
- 5) национальные приоритетные проекты
- 6) «новое политическое мышление»

Запишите число:

1)

Ответ:

Задание №81

Ниже приведён список терминов. Все они, за исключением двух, относятся к событиям (явлениям) периода перестройки в СССР.

- 1) ускорение
- 2) «война законов»
- 3) федеральные округа
- 4) новое политическое мышление
- 5) референдум
- 6) дефолт

Запишите число:		
1)	Ответ:	

Задание №82

Напишите пропущенное слово.

Соглашение о создании Содружества Независимых Государств, подписанное руководителями РСФСР, Белоруссии и Украины в декабре 1991 г., ознаменовавшее прекращение существования СССР, по месту подписания получило название «_____соглашение»

Ответ вводится со строчной буквы в и.п , ед. ч.

Запишите ответ:		
1)	Ответ:	

Задание №83

Запишите термин, о котором идёт речь.

Курс на _____ был провозглашен М. С. Горбачёвым в самом начале периода перестройки. Этот курс должен был осуществляться за счёт интенсификации труда, активного внедрения достижений научно-технического прогресса в производство.

Ответ вводится со строчной буквы в и.п , ед. ч.

Запишите ответ:		
1)	Ответ:	

Задание №84

Напишите пропущенное слово.

Единственный всесоюзный _____ за всю историю существования СССР был проведён по вопросу о сохранении СССР 17 марта 1991 г.

Ответ вводится со строчной буквы в и.п , ед. ч.

Запишите ответ:		
1)	Ответ:	

Задание №85

Что из перечисленного относится к социально-экономическому развитию СССР в период «перестройки»? Выберите три ответа и запишите цифры, под которыми они указаны в порядке возрастания.

- 1) выпуск приватизационных чеков
- 2) развитие индивидуальной трудовой деятельности
- 3) начало забастовочного движения в стране
- 4) снижение цен на потребительские товары
- 5) острый дефицит товаров
- 6) либерализация цен

Запишите число:		
-----------------	--	--

1)	Ответ:	
----	--------	--

Задание №86

Укажите трёх государственных деятелей, которые занимали пост Генерального секретаря ЦК КПСС. Соответствующие цифры запишите в ответ в порядке возрастания .

- 1) Л. И. Брежнев
- 2) М. С. Горбачёв
- 3) А. Н. Косыгин
- 4) К. Е. Ворошилов
- 5) Ю. В. Андропов
- 6) Г. М. Маленков

Запишите число:

1)	Ответ:	
----	--------	--

Задание №87

Что из перечисленного относится к социально-экономическому развитию СССР в период «перестройки»? Выберите три ответа и запишите цифры, под которыми они указаны в порядке возрастания.

- 1) начало забастовочного движения в стране
- 2) либерализация цен
- 3) развитие индивидуальной трудовой деятельности
- 4) выпуск приватизационных чеков
- 5) острый дефицит товаров
- 6) снижение цен на потребительские товары

Запишите число:

1)	Ответ:	
----	--------	--

Задание №88

Какие три из перечисленных положений относятся к политике «перестройки»? Соответствующие цифры запишите в ответ в порядке возрастания.

- 1) замена продразвёрстки продналогом
- 2) усиление роли Советов в управлении государством
- 3) борьба с «космополитизмом»
- 4) отказ от политики «холодной войны»
- 5) приоритетное развитие военно-промышленного комплекса
- 6) введение многопартийности

Запишите число:

1)	Ответ:	
----	--------	--

Задание №89

Какие три из названных мер были осуществлены в ходе перестройки? Соответствующие цифры и запишите их в ответ в порядке возрастания.

- 1) созыв Съезда народных депутатов
- 2) введение госприёмки
- 3) ликвидация центральных отраслевых министерств и их замена совнархозами
- 4) либерализация цен
- 5) принятие закона об индивидуальной трудовой деятельности
- 6) ликвидация КГБ

Запишите число:

1)

Ответ:

Задание №90

Какие три предложения по реформированию экономики СССР из перечисленных ниже содержались в программе «500 дней»? Соответствующие цифры запишите в ответ в порядке возрастания.

- 1) усиление и развитие планирования экономических показателей
- 2) проведение «политики ускорения»
- 3) приватизация государственной собственности
- 4) децентрализация управления экономикой
- 5) полный отказ от внешних заимствований, опора на собственные силы
- 6) создание благоприятных условий для развития частного предпринимательства

Запишите число:

1)

Ответ:

Задание №91

Какие три из перечисленных мер относятся к периоду «перестройки»? Запишите соответствующие цифры в порядке возрастания.

- 1) Принятие Закона «Об индивидуальной трудовой деятельности».
- 2) Курс на приватизацию собственности.
- 3) Либерализация цен.
- 4) Внедрение бригадного и арендного подряда.
- 5) Борьба с пьянством и алкоголизмом.

Запишите число:

1)

Ответ:

Задание №92

Какие из перечисленных положений характеризуют внешнюю политику и внешнеполитическое положение СССР в конце 1980-х гг.? Выберите три ответа и впишите цифры, под которыми они указаны в порядке возрастания.
Цифры укажите в порядке возрастания.

- 1) участие советских специалистов во Вьетнамской войне
- 2) улучшение отношений с западными странами
- 3) укрепление единства социалистического лагеря во главе с СССР
- 4) наращивание гонки вооружений
- 5) улучшение отношений с Китаем

б) проведение политики «нового политического мышления»

Запишите число:

1)

Ответ:

Задание №93

Что из перечисленного относится к периоду перестройки в СССР? Выберите три ответа и запишите цифры, под которыми они указаны.

Цифры укажите в порядке возрастания.

- 1) расширение самостоятельности союзных республик
- 2) введение альтернативных выборов
- 3) ликвидация отраслевых министерств и создание совнархозов
- 4) усиление роли КГБ в управлении страной
- 5) перевод государственных предприятий на хозрасчёт и самофинансирование
- б) проведение ваучерной приватизации

Запишите число:

1)

Ответ:

Задание №94

Прочтите отрывок из документа и укажите его автора.

«Выступая перед вами в последний раз в качестве Президента СССР, считаю нужным высказать свою оценку пройденного с 1985 года пути. Тем более что на этот счет немало противоречивых, поверхностных и необъективных суждений. Судьба так распорядилась, что, когда я оказался во главе государства, уже было ясно, что со страной неладно... Я понимал, что начинать реформы такого масштаба и в таком обществе, как наше, – труднейшее и даже рискованное дело. Но и сегодня я убежден в исторической правоте демократических реформ, которые начаты весной 1985 года. Процесс обновления страны и коренных перемен в мировом сообществе оказался куда более сложным, чем можно было предположить. Однако то, что сделано, должно быть оценено по достоинству. Общество получило свободу, раскрепостилось политически и духовно. И это – самое главное завоевание, которое мы до конца еще не осознали, а потому что еще не научились пользоваться свободой.».

Ответ вводится со строчной буквы в и.п , ед. ч.

Запишите ответ:

1)

Ответ:

Задание №95

Прочитайте отрывок из выступления на I съезде народных депутатов СССР А. Д. Сахарова и напишите название исторического периода, в который произошло данное выступление.

«Национальные проблемы мы получили в наследство от сталинизма национально-конституционную структуру, несущую на себе печать имперского мышления и имперской политики «разделяй и властвуй». Жертвой этого наследия являются малые союзные республики и малые национальные образования, входящие в состав союзных республик

по принципу административного подчинения. Они на протяжении десятилетий подвергались национальному угнетению. Сейчас эти проблемы драматически выплеснулись на поверхность.

Но жертвой этого наследия стали и большие народы, в том числе русский народ, на плечи которого лег основной груз имперских амбиций и последствий авантюризма и догматизма во внешней и внутренней политике».

Ответ вводится со строчной буквы в и.п , ед. ч.

Запишите ответ:

1)	Ответ:	
----	--------	--

Задание №96

Прочитайте отрывок из работы современного историка и укажите фамилию руководителя СССР, о котором идёт речь:

«В сравнении с предшественниками он выглядел поистине, как инопланетянин, — живой, динамичный... подчеркнуто стремящийся к общению с людьми... Необычный политический стиль нового Генерального секретаря привлек к нему десятки миллионов людей... Он обладал и прирожденным умением гипнотизировать сознание масс, а главным среди гипнотических средств была способность обрамлять умеренные идеи и предложения в яркие, кричащие, завораживающие слова: ... «гласность», «ускорение», «революция», «новое мышление». Многие из них стали популярны во всем мире и заняли... места рядом с самым известным русским словом — «спутник».

Ответ вводится со строчной буквы в и.п , ед. ч.

Запишите ответ:

1)	Ответ:	
----	--------	--

Задание №97

Прочтите отрывок из выступления руководителя страны и укажите фамилию автора.

«...В современной обстановке должны быть осмыслены и приведены в соответствие с радикальной экономической реформой права союзных республик. Видимо, целесообразно, чтобы, выполнив обязательства перед союзным фондом, они могли наращивать производство для собственных нужд за счет умелого, инициативного хозяйствования. Это тоже отвечало бы требованиям социальной справедливости в развитии национальных отношений, стимулировало наше общее движение вперед. В последние годы в процессе демократизации и гласности высвечиваются и такие проблемы, существование которых не всегда достаточно учитывалось, - например, вопросы, связанные с языком, культурой, литературой и искусством, историческими памятниками, охраной природы.

Развитие нашего многонационального государства, естественно, сопровождается ростом национального самосознания. Явление это позитивное, но, поскольку возникающим в связи с ним новым потребностям не всегда уделялось должное внимание, некоторые вопросы начали осложняться, приобретать в ряде случаев националистическую окраску.»

Ответ вводится со строчной буквы в и.п , ед. ч.

Запишите ответ:

1)	Ответ:	
----	--------	--

Задание №98

Прочтите отрывок из заявления и укажите фамилию его автора.

«В силу сложившейся ситуации с образованием Содружества Независимых Государств я прекращаю свою деятельность на посту Президента СССР Принимаю это решение по принципиальным соображениям.

Я твёрдо выступал за самостоятельность, независимость народов, за суверенитет республик. Но одновременно и за сохранение союзного государства целостности страны.

События пошли по другому пути. Возобладала линия на расчленение страны и разъединение государства, с чем я не могу согласиться».

Ответ вводится со строчной буквы в и.п , ед. ч.

Запишите ответ:

1)	Ответ:	
----	--------	--

Задание №99

Какие суждения о данном изображении являются верными? Выберите два суждения из пяти предложенных.

Цифры укажите в порядке возрастания.

- 1) В год издания данной марки в СССР была принята новая Конституция.
- 2) Данная марка была выпущена в период перестройки.
- 3) Итогом деятельности конференции, которой посвящена марка, стало решение об альтернативных выборах.
- 4) Современником события, которому посвящена марка, был Ю. В. Андропов.
- 5) В десятилетие, к которому относится выпуск данной марки, произошёл распад СССР.



Запишите число:

1)	Ответ:	
----	--------	--

Задание №100

Какие суждения о данном изображении являются верными? Выберите два суждения из пяти предложенных.

Цифры укажите в порядке возрастания.

1) На монете изображено здание, в котором на момент событий, которым посвящена монета, находился Верховный Совет РСФСР.

2) После событий, которым посвящена монета, состоялся I Съезд народных депутатов РСФСР и была принята Декларация о государственном суверенитете России.

3) В событиях, которым посвящена монета, участвовал Б. Н. Ельцин.

4) События, которым посвящена монета, начались с издания указа Президента России о роспуске Верховного Совета.

5) В том же году, в честь событий которого была выпущена монета, в России была принята новая Конституция.



Запишите число:

1)

Ответ:

Задание №101

Какие суждения о данном изображении являются верными? Выберите два суждения из пяти предложенных.

Цифры укажите в порядке возрастания.

1) Данная монета была выпущена в период руководства СССР Л. И. Брежнева.

2) Князь, памятник которому изображён на монете, был современником князя Олега Вещего.

3) Князь, памятник которому изображён на монете, в течение своего правления был вынужден вести упорную борьбу с печенегами.

4) Событие, юбилею которого посвящена монета, произошло в том же веке, что и основание Москвы.

5) К периоду руководства СССР государственного деятеля, при котором была выпущена монета, относится создание поста Президента СССР.



Запишите число:

1)

Ответ:

Задание №102

Какие суждения о данном изображении являются верными? Выберите два суждения из пяти предложенных. Запишите в таблицу цифры, под которыми они указаны.

- 1) В результате события, юбилею которого посвящена монета, была образована Государственная Дума.
- 2) В событии, юбилею которого посвящена монета, принимал участие В.И. Ленин.
- 3) Монета была выпущена в период перестройки.
- 4) В год выпуска монеты в СССР была введена должность Президента СССР.
- 5) На монете изображён крейсер «Варяг».



Запишите число:

1)

Ответ:

Задание №103

Какие суждения о данном изображении являются верными? Выберите два суждения из пяти предложенных. Запишите в таблицу цифры, под которыми они указаны.

- 1) Изображённый на монете собор был построен в правление Ивана Третьего.
- 2) Монета была выпущена в период руководства Л.И. Брежнева.
- 3) В год выпуска монеты в СССР была принята «Конституция развитого социализма».
- 4) Изображённый на монете собор был построен псковскими мастерами.
- 5) Изображённый на монете собор был построен в честь присоединения Казани к русскому государству.



Запишите число:

1)	Ответ:	
----	--------	--

Задание №104

Какие из карикатур относятся к тому же десятилетию, что и события, которым посвящена монета? В ответе запишите две цифры, под которыми они указаны.



1)		2)	
3)		4)	

Запишите число:

1)	Ответ:	
----	--------	--

Задание №105

Какие из ниже размещённых почтовых марок посвящены событиям, связанным с правлением государя, которому посвящён изображённый на монете памятник? В ответе запишите две цифры, под которыми они указаны.



Запишите число:

1)

Ответ:

Задание №106

Какие из изображений посвящены событиям, относящимся к правлению государя, чья печать изображена на монете? В ответе запишите две цифры, под которыми они указаны.



Запишите число:

1)

Ответ:

Задание №107

Какие из помещённых ниже изображений посвящены событиям того же века, к которому относится строительство изображённого на монете собора?

В ответе запишите две цифры, под которыми они указаны.



Запишите число:

1)

Ответ: