

- А. Норвегией
- Б. Монголией
- В. Молдавией
- Г. Украиной
- ✓ Д. Японией

10. Какая из перечисленных стран фактически является суверенной, однако формально ее главой считается британская королева:

- А. Индонезия
- Б. Египет
- ✓ В. Австралия
- Г. Аргентина
- Д. Ирландия

11. В каком из перечисленных регионов мира нет государств с монархической формой правления:

- А. Африка
- Б. Азия
- В. Европа
- ✓ Г. Америка

12. Половина жителей этой европейской страны проживает ниже уровня океана. Для защиты от катастрофических наводнений вдоль морского берега выстроены мощные дамбы и плотины. Устья рек во время морского прилива закрываются шлюзами. По одну сторону дамб – поля и луга, многолюдные города, по другую – море с кораблями, проплывающими выше селений. Назовите страну, море, омывающее ее берега, и её столицу.

✓ Название страны: Нидерланды Название моря: Северное или Норвежское море
 Название столицы: Амстердам

13. Укажите, какие из перечисленных стран являются внутриконтинентальными:

А. Швейцария, Б. Япония, В. Белоруссия, Г. Казахстан, Д. Монголия, Е. Греция, Ж. Дания, З. Великобритания

14. Какие три из перечисленных метода решения экологических проблем относят к интенсивным?

Ответ запишите в виде последовательности букв в алфавитном порядке:

- ✓ А. замена металла на современные композитные материалы в сооружениях и механизмах
- Б. разработка новых месторождений полезных ископаемых
- ✓ В. использование бытовых и производственных отходов в качестве сырья для производства новых изделий
- ✓ Г. создание на производстве замкнутых циклов использования ресурсов
- Г. увеличение глубины угольных шахт, позволяющее разрабатывать ранее недоступные пласты

15. В каком регионе в 90-е годы произошли самые крупные изменения на политической карте:

- А. Северная Америка
- Б. Африка
- ✓ В. Зарубежная Европа
- Г. Латинская Америка
- Д. Зарубежная Азия

Распад СССР и выход части республик из состава.

Аналитический тур

Задание №1. На рисунках вы видите 4 сельскохозяйственные культуры, отличающиеся по условиям произрастания, сбора и использованию. Определите эти культуры и заполните таблицу.




Фото	Культура	Районы- лидеры по сбору культуры	Использование культуры
A	василек	Россия	краситель / текстиль
B	шелк	США, Европа	текстиль
C	шишечка	Китай, Россия	вышивка, мушкетеры, пробольбы
D	фруктовое дерево	Юг Европы	экспорт, приемы в пищу, обработка

Задание №2. Школьники Федор и Николай собираются в летний полевой географический лагерь на берег Телецкого озера. Им предстоит изучить рельеф и провести картографирование территории. Какие из перечисленных приборов пригодятся ребятам непосредственно для решения их задач? Внесите названия «полезных» приборов в таблицу, дав каждому из них краткую характеристику.

Курвиметр, психрометр, осадкомер, квадрант, барометр, астролябия, термометр, флюгер, нивелир, эхолот, анемометр, гироскоп, батометр, гигрометр, снегомерная рейка, бур, волнограф, GPS-навигатор, буссоль, компас, сейсмограф.

№ п/п	Прибор	Измеряемая характеристика	Единица измерения
	лишмограф	движ. литосфер. плит.	балл
	компас	ориентация на местности.	0° — 360°
	бур	физич. состав почвы	—
	курвиметр	кривые линии	мм или м
	БРС-ныши	ежегод добротность до места	0° км.
	астролябия		

или
спросить
добротность

35

Задание №3. О каком субъекте Российской Федерации идет речь в описании?

Эта территория входит в состав Европейского Севера. Основным богатством, которой являются лесные и водные ресурсы. Рельеф территории сформировался под действием ледников. Этот край называют «краем озер и гранита». Отраслью специализации является целлюлозно-бумажная промышленность. Перечислите субъекты Российской Федерации, с которыми граничит эта территория. С какими экологическими проблемами сталкиваются жители региона?

Республика Карелия.
Граничит с Ленинградской областью и Архангельской.
Основные проблемы: заболочивание местности и расопение почв, высокая мерзлота почв и из-за этого непригодность их для выращивания сельскохозяйственных культур.

Задание №4. Проанализируйте данные таблицы «Демографические показатели некоторых стран мира в 2012 г.»:

Страна	Рождаемость	Смертность	Естественный прирост
Нигер	48	13	35
Мексика	19	5	14
ФРГ	8	11	-3
Мир в целом	19	8	11




Задания:

A. Определите естественный прирост и запишите ответы в соответствующие графы таблицы.

B. Объясните причины (не менее 2-х) высокой смертности населения в Нигере:
Слабо развитая медицина (много умирают от болезней), антисанитария, недостаток воды и еда бедного населения, как следствие бедности страны.

B. Какие демографические проблемы (не менее 2-х) характерны для ФРГ в связи с низкой рождаемостью:
Демографическая зима и старение населения, в ФРГ людей пожилого возраста гораздо больше, чем молодых и общее сокращение населения как такового

Задание №5. Определите город по силуэту, запишите в таблицу его название и страну, в которой он находится.

	Силуэт	Город	Страна
A		Рио-де-Жанейро	Бразилия
B		Лондон	Великобритания
B		Москва	Россия

Г		Париж	Франция
Д		Нью-Йорк	США
Е		Нью-Дели	Индия
Ж		Сидней	Австралия
З		Венеция	Италия

Кратко опишите символ/символы городов:

- А. Статуя Христа Спасителя. 0,5
- Б. Монумент "Лондон и Лондонский мост" и мост через Темзу, 10
Битва Бэн. 10
- В. Храм Василия Блаженного и Кремль 10
- Г. Игумнова Башня, Триумфальная арка на Енисейской набережной. 10
- Д. Статуя свободы. 0,5
- Е. АА Машу-Макар
- Ж. Сиднейская опера. 0,5
- З. Венецианские каналы. 0,5

40,5

40,56

64,3%

Код: Г - 11 - 94

**Школьный этап Всероссийской олимпиады по географии
10-11 Класс Тестовый тур**

1. Выберите из предложенного списка страну, являющуюся конституционной монархией.

- А. Франция
- Б. Бразилия
- В. Саудовская Аравия
- Г. Алжир
- ✓ Д. Япония

2. Выберите из списка страну, не входящую в «десятку» стран-гигантов по площади:

- А. Канада
- Б. Индия
- В. Россия
- ✓ Г. Египет
- Д. Австралия

3. Что общего у Финляндии, Польши, Швеции и Австрии?

- А. Являются членами НАТО
- Б. Граничат с Российской Федерацией
- В. Являются странами ОПЕК
- ✓ Г. Являются странами ЕС
- Д. Являются нейтральными странами

4. Что не является основной формой организации производства?

- А. Аккредитация
- Б. Специализация
- ✓ В. Кооперирование
- Г. Концентрация
- Д. Комбинирование

5. Размещение предприятий по выплавке тяжелых металлов определяет фактор ...

- А. Трудовые ресурсы
- ✓ Б. Сырье
- В. Наличие квалифицированных кадров
- Г. Топливо
- ✓ Д. Дешевая электроэнергия

6. Определите в предложенном списке страну "переселенческого капитализма":

- А. США
- Б. Бразилия
- ✓ В. Новая Зеландия
- Г. Аргентина

7. Какой стране принадлежит лозунг демографической политики «Нас двое - нам двоих»:

- А. Индия
- Б. Китай
- ✓ В. США
- Г. Аргентина
- Д. Испания

8. Определите страну с большой численностью и высокой плотностью населения, она является крупнейшим производителем автомобилей, морских судов и промышленных роботов, в ней развито рыболовство и производство риса:

- А. Республика Корея
- ✓ Б. Япония
- В. Индонезия
- ✓ Г. Китай
- Д. Филиппины

9. Россия имеет только морскую границу с:

