

Материалы  
для подготовки к тестированию 11 2 М-5 (профильный уровень)

**Модуль 5. Вторая мировая война. Великая Отечественная война.**

1. Международные отношения в 1930 –е гг
2. Начало Второй мировой войны и перерастание её в глобальный конфликт
3. Основные события на фронтах Великой Отечественной войны в 1941 -1943 годах.
4. Советский тыл в годы войны. Фашистская оккупация и партизанское движение
5. СССР и союзники. Окончание войны
6. Культура и наука в годы войны
7. Итоги и политические последствия Второй мировой войны. Промежуточное тестирование
8. Семинар по теме: Великая Отечественная война советского народа (1941-1945 гг.)
9. Семинар по теме: Великая Отечественная война советского народа (1941-1945 гг.)
10. Практическая работа: Великая Отечественная война (1941-1945 гг.)
11. Практическая работа: Великая Отечественная война советского народа (1941-1945 гг.)
12. Итоговое тестирование

**Понятия и термины:**

Ленд-лиз, генеральный план «Ост», план «Барбаросса». ГКО, СМЕРШ, «остарбайтеры», коллаборационисты, «власовцы». Партизаны. Тегеранская конференция, Ялтинская конференция, Потсдамская конференция, «второй фронт», встреча союзников на Эльбе, депортация, Холокост, интернированные лица, военнопленные.

**Персоналии:**

Сталин И.В., Молотов В.М., Микоян А.И., Гастелло Н.Ф., Талалихин В.В., Покрышкин А.И., Кожедуб И.Н., Жуков Г.К., Рокоссовский К.К., Василевский А.М., Конев И.С., Чуйков В.И., Тимошенко С.К., Ковпак С.А., Ватугин Н.Ф., Баграмян И.Х., Сталин И.В., Молотов В.М., Микоян А.И., Матросов А.М., Космодемьянская З.А., Шостакович Д.Д., Симонов К.С., Русланова Л.А., Твардовский А.Т., Берггольц О.Ф., Зорге Р., Левитан Ю.Б. .

**События/даты:**

Конфликт на оз. Хасан –24 июля –11 августа 1938 г.  
Конфликт на р. Халхин-Гол –11 мая –16 сентября 1939 г.  
Советско-германский договор о ненападении –23 августа 1939 г.  
Начало Второй мировой войны –1 сентября 1939 г.  
Советско-финская («зимняя») война –30 ноября 1939 г. –13 марта 1940 г.  
Великая Отечественная война –22 июня 1941 г. –9 мая 1945 г.  
Битва за Москву –30 сентября 1941 г.–20 апреля 1942 г.  
Блокада Ленинграда –8 сентября 1941 г.–27 января 1944 г.  
Сталинградская битва –17 июля 1942г. –2 февраля 1943 г.  
Курская битва –5 июля–23 августа 1943 г.  
Открытие союзниками «второго фронта» в Европе –июнь 1944 г.  
Наступательные операции советской армии 1944 -1945 гг.  
Освобождение территории СССР от врага –1944 г.  
Битва за Берлин –16 апреля–8 мая 1945 г.  
2 сентября 1945 г. –капитуляция Японии. Окончание Второй мировой войны

Банк заданий

**Задание №1**

Укажите наименование операции советских партизан, о которой идёт речь.  
Кодовое наименование операции советских партизан, проводившейся в августе – сентябре 1943 г. на оккупированной территории РСФСР, Белоруссии и част УССР

Запишите ответ:

1) Ответ:

### Задание №2

Напишите термин, о котором идёт речь?  
Условное наименование стратегического оборонительного рубежа, созданного немецкими войсками на советско – германском фронте к осени 1943 г. Основой этого рубежа являлись Днепр и укрепления по этой реке.

Запишите ответ:

1) Ответ:

### Задание №3

Одна из причин кризиса Версальско-Вашингтонской системы в 30-е гг.

Выберите один из 4 вариантов ответа:

- |    |                              |
|----|------------------------------|
| 1) | мировой экономический кризис |
| 2) | распад Османской империи     |
| 3) | создание Малой Антанты       |
| 4) | образование СССР             |

### Задание №4

Одна из причин кризиса Версальско-Вашингтонской системы в 30-е гг.

Выберите один из 4 вариантов ответа:

- |    |  |
|----|--|
| 1) | рост социальной напряжённости в странах Запада |
| 2) | распад Австро - Венгерской империи             |
| 3) | приход к власти фашистов в Италии              |
| 4) | распространение идей кейсианства               |

### Задание №5

Политика, основанная на компромиссах и уступках агрессору в расчёте удержать его от агрессии

Выберите один из 4 вариантов ответа:

- |    |                               |
|----|-------------------------------|
| 1) | изоляциялизм                  |
| 2) | "дипломатия доллара"          |
| 3) | политика "умиротворения"      |
| 4) | политика "блестящей изоляции" |

### Задание №6

Совместные действия государств с целью поддержания международного мира и безопасности. предотвращения или подавления актов агрессора называется

Выберите один из 4 вариантов ответа:

- |    |                                      |
|----|--------------------------------------|
| 1) | изоляциялизм                         |
| 2) | политика "умиротворения"             |
| 3) | политика "большой дубинки"           |
| 4) | политика "коллективной безопасности" |

### Задание №7

О попытках создания системы коллективной безопасности в Европе в 30-е гг. свидетельствует(ют)

Выберите один из 4 вариантов ответа:

1)	создание Лиги Наций
2)	подписание Антикоминтерновского пакта
3)	переговоры о заключении англо-франкского-советского пакта
4)	подписание советско-германского пакта о ненападении

### Задание №8

О проведении западными странами в 30-е гг. политики "умиротворения" свидетельствует

Выберите один из 4 вариантов ответа:

1)	создание Коминтерна
2)	подписание Мюнхенского пакта
3)	вступление СССР в Лигу Наций
4)	заключение советско-французского договора

### Задание №9

В результате Мюнхенского соглашения к Германии была присоединена

Выберите один из 4 вариантов ответа:

1)	Польша
2)	Австрия
3)	Эфиопия
4)	Судетская область

### Задание №10

В результате аншлюса Германия присоединила

Выберите один из 4 вариантов ответа:

1)	Австрию
2)	Албанию
3)	Польшу
4)	Судетскую область

### Задание №11

Причиной провала советско-англо-французских переговоров в Москве 1939 г. стало

Выберите один из 4 вариантов ответа:

1)	начало "холодной войны"
2)	вторжение германских войск на территорию Польши
3)	выступление США с требованием прекращения переговоров
4)	недоверие, которое питали политические лидеры этих стран друг к другу

### Задание №12

результат подписания пакта Риббентропа - Молотова и секретных протоколов к нему

Выберите один из 4 вариантов ответа:

1)	создание системы коллективной безопасности
2)	урегулирование вопроса о репарациях и долгах
3)	разделение Восточной Европы на сферы влияния
4)	перенесение Гитлером срока начала Второй мировой войны

### Задание №13

Новый порядок, устанавливаемый фашистами в государствах Европы, предполагал

Выберите один из 4 вариантов ответа:

1)	ликвидацию рыночных отношений
2)	быструю модернизацию промышленности
3)	фактическую ликвидацию суверенитета завоёванных государств
4)	создание на оккупированных странах культурно-национальных автономий

### Задание №14

Новый порядок, устанавливаемый фашистами в государствах Европы, предполагал

Выберите один из 4 вариантов ответа:

1)	демилитаризацию экономики
2)	развитие местного самоуправления
3)	расовую дискриминацию и геноцид
4)	развитие общеевропейской интеграции

### Задание №15

Итог военных действий к лету 1941 г

Выберите один из 4 вариантов ответа:

1)	вступление в войну США
2)	уничтожение военно-морского флота Великобритании
3)	установление контроля Германии над значительной частью Европы
4)	восстановление демократических режимов в Восточной Европе

### Задание №16

Итог военных действий к лету 1941 г.

Выберите один из 4 вариантов ответа:

1)	создание антигитлеровской коалиции
2)	ослабление военного могущества вермахта
3)	вторжение германских войск на территорию Англии
4)	развитие общеевропейской интеграции

### Задание №17

На третьем этапе Второй мировой войны, в отличие от начального		
Выберите один из 4 вариантов ответа:		
1)		стратегическая инициатива перешла в руки антигитлеровской коалиции
2)		основные военные действия велись за Британские острова
3)		война со стороны антигитлеровской коалиции носила освободительный характер
4)		военно-техническое превосходство было на стороне Антикоминтерновского пакта

### Задание №18

На втором этапе Второй мировой войны, в отличие от начального		
Выберите один из 4 вариантов ответа:		
1)		стратегическая инициатива перешла в руки Антикоминтерновского пакта
2)		основные военные действия разворачивались на Восточном фронте
3)		война со стороны участников Антикоминтерновского пакта носила захватнический характер
4)		военные действия вышли за пределы Европы

### Задание №19

В ходе Второй мировой войны в отличие о Первой		
Выберите один из 4 вариантов ответа:		
1)		сложились два противоборствующих блока
2)		военные действия проходили на двух континентах
3)		в военных действиях принимали участие танки и авиация
4)		взаимодействовали государства с различным общественно-политическим строем

### Задание №20

В ходе Второй мировой войны в отличие о Первой		
Выберите один из 4 вариантов ответа:		
1)		военные действия велись на Восточном и Западном фронтах
2)		военные действия носили позиционный характер
3)		огромную роль сыграло Движение сопротивления и партизанское движение
4)		государственный механизм и экономика были перестроены на военный лад

### Задание №21

Результатом второй мировой войны стала ликвидация		
Выберите один из 4 вариантов ответа:		
1)		фашизма
2)		колониализма
3)		военных союзов
4)		коммунистических движений

### Задание №22

Итогом второй мировой войны стало усиление влияния

Выберите один из 4 вариантов ответа:

1)	нацизма
2)	реваншизма
3)	колониализма
4)	коммунистических партий

### Задание №23

Пёрл - Харбор - это

Выберите один из 4 вариантов ответа:

1)	английская военно-морская крепость, оказавшая упорное сопротивление японским войскам
2)	бухта, где состоялось морское сражение, ставшее переломным моментом в войне на Тихом океане
3)	американская военно-морская база на Филиппинах, ставшая первым объектом японской агрессии на Тихом океане
4)	американская военно-морская база на Гавайях, ставшая первым объектом японской агрессии на Тихом океане

### Задание №24

Ленд-лиз -это:

Выберите один из 3 вариантов ответа:

1)	продажа Соединённым Штатам вооружения и снаряжения своим союзникам в период второй мировой войны
2)	предоставление Соединёнными Штатами вооружения и снаряжения взаймы или в аренду тем странам, оборона которых являлась жизненно важной для США в период второй мировой войны
3)	предоставление Соединёнными Штатами своей территории в аренду для военных баз и военных складов тем странам, оборона которых являлась жизненно важной для США в период второй мировой войны

### Задание №25

«Восточный вал» — это:

Выберите один из 6 вариантов ответа:

1)	мощный оборонительный рубеж германских войск по берегу Вислы
2)	мощный оборонительный рубеж германских войск по берегу Одера
3)	мощный оборонительный рубеж германских войск по берегу Днепра
4)	мощный оборонительный рубеж советских войск по берегу Волги
5)	мощный оборонительный рубеж советских войск по берегу Днепра
6)	мощный оборонительный рубеж советских войск по западной границе СССР 1939 г.

### Задание №26

Какие три из перечисленных территорий вошли в состав СССР по итогам Второй мировой войны? Соответствующие цифры запишите в ответ.

- 1) Кёнигсбергская (Калининградская) область
- 2) Уссурийский край
- 3) Нахичиваньская область
- 4) Южный Сахалин
- 5) Курильские острова
- 6) Приднестровье

*Ответ запишите цифрами в порядке возрастания.*

Запишите число:

1)	Ответ:	
----	--------	--

### Задание №27

Какие три из перечисленных событий относятся к 1939—1940 гг.? Соответствующие цифры запишите в ответ.

- 1) советско-финляндская война
- 2) принятие СССР в Лигу Наций
- 3) ввод советских войск в Эстонию
- 4) дипломатическое признание СССР со стороны США
- 5) участие советских представителей в Генуэзской конференции
- 6) советско-англо-французские переговоры о совместной защите стран Восточной Европы

*Ответ запишите цифрами в порядке возрастания.*

Запишите число:

1)	Ответ:	
----	--------	--

### Задание №28

Какие из перечисленных ниже событий относятся к 1930-м гг.? Выберите три ответа и запишите цифры, под которыми они указаны.

- 1) заключение Рапалльского договора между РСФСР и Веймарской республикой
- 2) подписание Пакта о ненападении между СССР и Германией
- 3) разрыв дипломатических отношений между СССР и Великобританией
- 4) начало Гражданской войны в Испании
- 5) подписание Мюнхенского соглашения между Великобританией, Францией, Германией и Италией («Мюнхенский сговор»)
- 6) создание Организации Объединённых Наций

*Ответ запишите цифрами в порядке возрастания.*

Запишите число:

1)	Ответ:	
----	--------	--

### Задание №29

Определите мероприятия советского руководства по мобилизации сил на отпор гитлеровской Германии, проведенные в первый месяц Великой Отечественной войны. Выберите три ответа и запишите цифры, под которыми они указаны.

- 1) мобилизация военнообязанных
- 2) восстановление утраченных в ходе немецкого наступления мощностей военной промышленности
- 3) налаживание массового производства "катюш"
- 4) создание Совета по эвакуации

- 5) завершение перестройки экономики на военный лад
- 6) директива партийным и советским организациям прифронтовых областей

Запишите число:

1)

Ответ:

### Задание №30

Определите мероприятия советского руководства по мобилизации сил на отпор гитлеровской Германии, проведенные в первый месяц Великой Отечественной войны. Выберите три ответа и запишите цифры, под которыми они указаны.

- 1) создание Центрального штаба партизанского движения
- 2) удаление Сталина от руководства и планирования боевых действий Красной Армии
- 3) назначение Г.К. Жукова заместителем Верховного Главнокомандующего
- 4) увеличение рабочего дня
- 5) отмена отпусков
- 6) создание Государственного Комитета Обороны, сосредоточившего всю полноту власти в стране

Запишите число:

1)

Ответ:

### Задание №31

Выберите два ответа и запишите цифры, под которыми они указаны. Причины катастрофических поражений Красной Армии в первой половине 1942г. заключались в следующем:

- 1) многократное превосходство немецкой армии по численности войск и боевой технике
- 2) техническое превосходство вооружения немецкой армии
- 3) перевес немецкой армии в силах и средствах над Красной Армией
- 4) переоценка собственных сил и недооценка возможностей противника
- 5) единоличные решения Сталина

Запишите число:

1)

Ответ:

### Задание №32

Выберите три ответа и запишите цифры, под которыми они указаны. Причины катастрофических поражений Красной Армии в первой половине 1942г. заключались в следующем:

- 1) неблагоприятные географические и климатические условия
- 2) распыление сил из-за попытки наступать на всех важнейших направлениях
- 3) неправильная оценка Сталиным направления генерального наступления противника
- 4) незавершенность перестройки тыла на военный лад
- 5) превосходство немецкой армии над советской по боевому духу
- 6) внутренний кризис советского режима

Запишите число:

1)

Ответ:

### Задание №33

Выберите три ответа и запишите цифры, под которыми они указаны. Понятие "коренной перелом в ходе второй мировой войны" включает в себя:

- 1) окончательный переход стратегической инициативы к странам антигитлеровской коалиции



- 2) переход вооруженных сил антигитлеровской коалиции в наступление
- 3) достижение превосходства военной экономики стран антигитлеровской коалиции над Германией и ее союзниками
- 4) приостановление наступательных действий Германии и ее союзников
- 5) истощенность людских и сырьевых ресурсов Германии и ее союзников
- 6) достижение странами антигитлеровской коалиции численного превосходства в живой силе и военной технике на всех театрах военных действий

Запишите число:

1)

Ответ:

### Задание №34

Выберите два ответа и запишите цифры, под которыми они указаны.

Основные положения плана советского контрнаступления под Сталинградом заключались в следующем:

- 1) переход во фронтальное наступление войск, оборонявших Сталинград
- 2) переход в крупное наступление на Кавказе с целью оттянуть немецкие войска от Сталинграда и подготовить условия для окружения сталинградской группировки противника
- 3) ударами Юго-Западного и Сталинградского фронтов разгромить войска, прикрывавшие фланги сталинградской группировки
- 4) окружить и уничтожить главные силы вермахта, действовавшие на Сталинградском направлении

Запишите число:

1)

Ответ:

### Задание №35

Выберите три ответа и запишите цифры, под которыми они указаны.

Причины победы советских войск в Сталинградской битве заключались в следующем:

- 1) завершение перестройки советского тыла на военный лад и начало устойчивого роста промышленного производства
- 2) военное искусство советских полководцев
- 3) талантливое руководство Сталина стратегическим планированием операций и снабжением войск
- 4) создание решающего перевеса сил на основных направлениях наступления
- 5) многократное превосходство Красной Армии в живой силе и боевой технике
- 6) эпидемия холеры в немецких войсках

Запишите число:

1)

Ответ:

### Задание №36

Выберите три ответа и запишите цифры, под которыми они указаны.

Причины победы советских войск в Сталинградской битве заключались в следующем:

- 1) правильный выбор направления главного удара и момента перехода войск в контрнаступление
- 2) четкое взаимодействие между фронтами и армиями
- 3) осуществление в полном объеме авиационного наступления
- 4) неготовность германии к ведению войны в условиях суровой русской зимы
- 5) обескровленность сталинградской группировки вермахта в ходе оборонительного этапа битвы
- 6) бездарность немецкого военного руководства

Запишите число:

1)

Ответ:

### Задание №37

Выберите три ответа и запишите цифры, под которыми они указаны.

Значение победы советских войск в Сталинградской битве заключалось в следующем:

- 1) битва сыграла решающую роль в осуществлении коренного перелома в ходе ВОВ
- 2) победа СССР вынудила союзников немедленно открыть второй фронт
- 3) подрыв морального духа армии и населения Германии
- 4) Германия была вынуждена отвести свои войска за Днепр
- 5) победа СССР вызвала новый мощный подъем движения Сопротивления
- 6) полное снятие блокады Ленинграда

Запишите число:

1)

Ответ:

### Задание №38

Выберите три ответа и запишите цифры, под которыми они указаны.

Значение победы советских войск в Сталинградской битве заключалось в следующем:

- 1) Германия была вынуждена отвести свои силы с Кавказа
- 2) Япония отказалась от планов нападения на СССР
- 3) окончательный срыв плана "молниеносной войны"
- 4) развал Антикоминтерновского пакта
- 5) Италия вышла из войны
- 6) переход Красной Армии в наступление на юго-западном направлении, приведшее к освобождению Крыма

Запишите число:

1)

Ответ:

### Задание №39

Выберите три ответа и запишите цифры, под которыми они указаны.

Причины победы советских войск в Курской битве заключались в следующем:

1. Италия вышла из войны
2. Финляндия отказалась воевать на стороне Германии
3. вступление Турции в войну на стороне антигитлеровской коалиции
4. высокое военное искусство советских военачальников
5. однотипность стратегических и тактических решений немецкого командования
6. численное превосходство советских войск в живой силе и боевой технике

Запишите число:

1)

Ответ:

### Задание №40

Выберите два ответа и запишите цифры, под которыми они указаны.

Причины победы советских войск в Курской битве заключались в следующем:

- 1) развал Антикоминтерновского пакта
- 2) работа советской разведки, обеспечившей точное знание планов противника
- 3) открытие второго фронта в Европе, оттянувшего крупные немецкие силы
- 4) высокие морально-боевые качества и героизм советских войск
- 5) неготовность Германии к ведению войны в условиях суровой русской зимы

Запишите число:

1)

Ответ:

### Задание №41

Выберите три ответа и запишите цифры, под которыми они указаны.  
Значение победы советских войск в Курской битве заключалось в следующем:

- 1) окончательный переход стратегической инициативы в руки советского командования
- 2) провал последней попытки вермахта провести крупное стратегическое наступление
- 3) окончательное завоевание советской авиацией стратегического господства в воздухе
- 4) Красная Армия временно завладела стратегической инициативой
- 5) вступление Турции в войну на стороне антигитлеровской коалиции
- 6) полное снятие блокады Ленинграда

Запишите число:

1)

Ответ:

### Задание №42

Выберите три ответа и запишите цифры, под которыми они указаны.  
Значение победы советских войск в Курской битве заключалось в следующем:

- 1) вермахт понес огромные потери в людях и боевой технике
- 2) окончательный срыв плана «молниеносной войны»
- 3) Германия была вынуждена отвести свои силы с Кавказа
- 4) созданы условия для освобождения Левобережной Украины и выхода к Днепру
- 5) активизация движения Сопротивления
- 6) развал Антикоминтерновского пакта
- 7) Сталин передал реальное руководство военными действиями группе талантливых военачальников

Запишите число:

1)

Ответ:

### Задание №43

Выберите три ответа и запишите цифры, под которыми они указаны.  
Значение победы советских войск в битве за Днепр заключалось в следующем:

- 1) завершение коренного перелома в ходе Великой Отечественной войны
- 2) начало коренного перелома в ходе Великой Отечественной войны
- 3) начало коренного перелома в ходе второй мировой войны
- 4) завершение коренного перелома в ходе второй мировой войны
- 5) прочное закрепление стратегической инициативы в руках советского командования
- 6) выход к западной границе СССР

Запишите число:

1)

Ответ:

### Задание №44

Выберите три ответа и запишите цифры, под которыми они указаны.  
Значение победы советских войск в битве за Днепр заключалось в следующем:

- 1) освобождение Крыма
- 2) блокирование войск противника в Крыму
- 3) освобождение ряда крупных промышленных центров
- 4) срыв попытки немецкого командования перехватить стратегическую инициативу
- 5) срыв попытки вермахта остановить советское наступление на «Восточном валу»
- 6) начало коренного перелома в ходе второй мировой войны

Запишите число:

1)

Ответ:

#### Задание №45

Выберите два ответа и запишите цифры, под которыми они указаны.

Причины коренного перелома во второй мировой войне заключались в следующем:

- 7) удлинение линий фронтов и протяженности коммуникаций стран германского блока по мере расширения масштабов их агрессии
- 8) открытие второго фронта в Европе
- 9) бездарность немецкого и японского военного командования
- 10) значительное превосходство экономического потенциала стран антигитлеровской коалиции
- 11) основная военно-производственная база стран антигитлеровской коалиции оказалась вне досягаемости противников
- 12) основные военно-производственные базы стран фашистского блока оказались объектами бомбардировок уже в 1942 г.

Запишите число:

1)

Ответ:

#### Задание №46

Выберите два ответа и запишите цифры, под которыми они указаны.

Причины коренного перелома во второй мировой войне заключались в следующем:

- 13) превосходство стран антигитлеровской коалиции в военном производстве
- 14) значительное превосходство стран антигитлеровской коалиции по людским ресурсам
- 15) качественное превосходство стран антигитлеровской коалиции в военной технике и вооружениях
- 16) государственный переворот в Японии
- 17) свержение режима Муссолини в Италии
- 18) внутренний кризис в странах фашистского блока

Запишите число:

1)

Ответ:

#### Задание №47

Выберите три ответа и запишите цифры, под которыми они указаны.

Значение Крымской конференции заключалось в следующем:

- 19) были согласованы принципы, на которых должна быть принята капитуляция Германии
- 20) была определена послевоенная судьба Германии
- 21) были определены новые границы Германии
- 22) СССР возвратил Польше территории, отторгнутые им в 1939 г.
- 23) был определен перечень уступок, в обмен на которые СССР соглашался вступить в войну с Японией
- 24) была определена линия, на которую должны были выйти войска СССР и его союзников в ходе освобождения Европы

Запишите число:

1)

Ответ:

### Задание №48

Выберите три ответа и запишите цифры, под которыми они указаны.

Значение Крымской конференции заключалось в следующем:

- 25) произошел разрыв отношений между основными державами антигитлеровской коалиции
- 26) усилились противоречия между основными державами антигитлеровской коалиции
- 27) были выработаны основные принципы функционирования руководящего органа ООН
- 28) было подтверждено решение о предании военных и нацистских преступников суду международного трибунала
- 29) США объявили об обладании атомным оружием
- 30) была утверждена дата открытия второго фронта в Европе

Запишите число:

1)	Ответ:	
----	--------	--

### Задание №49

Выберите три ответа и запишите цифры, под которыми они указаны.

СССР вступил в войну с Японией на следующих условиях:

- 31) установление в Китае коммунистического режима
- 32) установление коммунистического режима в Корее
- 33) передача СССР Южного Сахалина
- 34) передача СССР Курильских островов
- 35) передача СССР крупных территорий в Приамурье
- 36) передача СССР арендных прав на Порт-Артур как военно-морскую базу

Запишите число:

1)	Ответ:	
----	--------	--

### Задание №50

Выберите три ответа и запишите цифры, под которыми они указаны.

СССР вступил в войну с Японией на следующих условиях:

- 37) обеспечение преимущественных интересов СССР в порту Дайрен
- 38) вступление СССР в войну с Японией сразу после капитуляции Германии
- 39) передача СССР ряда территорий на Японских островах для создания военно-морских баз
- 40) вступление СССР в войну с Японией через 2—3 месяца после капитуляции Германии
- 41) вступление СССР в войну с Японией одновременно с высадкой американского десанта на Японских островах
- 42) вступление СССР в войну с Японией сразу после применения американцами атомной бомбы

Запишите число:

1)	Ответ:	
----	--------	--

### Задание №51

Заполните пропуски в данных предложениях, используя приведённый ниже список пропущенных элементов: для каждого предложения, обозначенного буквой и содержащего пропуск, выберите номер нужного элемента.

- А) \_\_\_\_\_ конференция «Большой тройки» проходила в 1943 г.  
Б) Первый таран в ночном воздушном бою произвёл советский лётчик \_\_\_\_\_, сбивший на подступах к Москве вражеский бомбардировщик.  
В) В ходе Курской битвы произошло крупнейшее танковое сражение у \_\_\_\_\_.

Пропущенные элементы:

- 1) Ялтинская (Крымская)
- 2) Н. Ф. Гастелло
- 3) станция Прохоровка
- 4) Тегеранская
- 5) В. В. Талалихин
- 6) разъезд Дубосеково

Запишите в ответ цифры, расположив их в порядке, соответствующем буквам.

Запишите число:

1)

Ответ:

### Задание №52

Заполните пропуски в данных предложениях, используя приведённый ниже список пропущенных элементов: для каждого предложения, обозначенного буквой и содержащего пропуск, выберите номер нужного элемента.

А) \_\_\_\_\_ впервые произвёл таран в ночном воздушном бою, сбив на подступах к Москве вражеский бомбардировщик.

Б) В годы Великой Отечественной войны немцы 900 дней осаждали город \_\_\_\_\_.

В) Курская битва была в \_\_\_\_\_.

Пропущенные элементы:

- 1) В. В. Талалихин
- 2) Н. Ф. Гастелло
- 3) 1942 г.
- 4) 1943 г.
- 5) Сталинград
- 6) Ленинград

Запишите в ответ цифры, расположив их в порядке, соответствующем буквам:

Запишите число:

1)

Ответ:

### Задание №53

Заполните пропуски в данных предложениях, используя приведённый ниже список пропущенных элементов: для каждого предложения, обозначенного буквой и содержащего пропуск, выберите номер нужного элемента.

А) \_\_\_\_\_ — первая женщина, Герой Советского Союза, партизанка, награжденная посмертно, замученная и казненная фашистами в ноябре 1941 г. в деревне Петрищево.

Б) Летом 1942 г. немецкая армия Паулюса нанесла удар по городу \_\_\_\_\_.

В) Белорусская операция была проведена в \_\_\_\_\_.

Пропущенные элементы:

- 1) 1941 г.
- 2) 1944 г.
- 3) Вера Волошина
- 4) Зоя Космодемьянская
- 5) Киев
- 6) Сталинград

Запишите в ответ цифры, расположив их в порядке, соответствующем буквам.

Запишите число:

1)

Ответ:

### Задание №54

Заполните пропуски в данных предложениях, используя приведённый ниже список пропущенных элементов: для каждого предложения, обозначенного буквой и содержащего пропуск, выберите номер нужного элемента.

А) Героиня обороны Москвы, Герой Российской Федерации \_\_\_\_\_ была повешена немцами 29 ноября 1941 в совхозе Головково Наро-Фоминского района.

Б) Первый артиллерийский салют в Москве, в честь освобождения Орла и Белгорода, был дан в \_\_\_\_\_ году.

В) Встреча наших войск с союзниками произошла на реке \_\_\_\_\_.

Пропущенные элементы:

- 1) Эльба
- 2) Висла
- 3) Зоя Космодемьянская
- 4) Вера Волошина
- 5) 1945 г.
- 6) 1943 г.

Запишите в ответ цифры, расположив их в порядке, соответствующем буквам

Запишите число:

1)

Ответ:

### Задание №55

Заполните пропуски в данных предложениях, используя приведённый ниже список пропущенных элементов: для каждого предложения, обозначенного буквой и содержащего пропуск, выберите номер нужного элемента.

А) Герой Российской Федерации Вера Волошина была повешена немцами в ходе сражения за \_\_\_\_\_.

Б) За неумелое командование войсками Западного фронта в начальный период войны был казнен генерал \_\_\_\_\_.

В) Встреча наших войск с союзниками произошла на реке Эльбе в апреле \_\_\_\_\_ года.

Пропущенные элементы:

- 1) Ленинград
- 2) Москва
- 3) Г. К. Жуков
- 4) Д. Г. Павлов
- 5) 1945 г.
- 6) 1943 г.

Запишите в ответ цифры, расположив их в порядке, соответствующем буквам.

Запишите число:

1)

Ответ:

### Задание №56

Заполните пропуски в данных предложениях, используя приведённый ниже список пропущенных элементов: для каждого предложения, обозначенного буквой и содержащего пропуск, выберите номер нужного элемента.

А) Летчик-герой, трижды герой Советского Союза, сбивший наибольшее количество самолетов противника, в годы Великой Отечественной войны \_\_\_\_\_.

Б) Василий Чуйков прославился при обороне г. \_\_\_\_\_.

В) Варшава была освобождена в \_\_\_\_\_ г.

Пропущенные элементы:

1) 1944 г.

2) А. Маресьев

3) 1945 г.

4) Москва

5) И. Кожедуб

6) Сталинград

Запишите в ответ цифры, расположив их в порядке, соответствующем буквам.

Запишите число:

1)

Ответ:

### Задание №57

Заполните пропуски в данных предложениях, используя приведённый ниже список пропущенных элементов: для каждого предложения, обозначенного буквой и содержащего пропуск, выберите номер нужного элемента.

А) Снайпер, прославившийся в дни Сталинградской битвы \_\_\_\_\_.

Б) 250 дней героически держался в осаде г. \_\_\_\_\_.

В) Сталинградская битва завершилась в \_\_\_\_\_.

Пропущенные элементы:

1) 1944 г.

2) В. Зайцев

3) 1943 г.

4) Киев

5) И. Кожедуб

6) Севастополь

Запишите в ответ цифры, расположив их в порядке, соответствующем буквам.

Запишите число:

1)

Ответ:

### Задание №58

Заполните пропуски в данных предложениях, используя приведённый ниже список пропущенных элементов: для каждого предложения, обозначенного буквой и содержащего



го пропуск, выберите номер нужного элемента.

А) Наибольшее количество званий Героя Советского Союза было присвоено в результате битва за \_\_\_\_\_.

Б) Второй фронт во Франции был открыт союзниками в \_\_\_\_\_.

В) Лётчик-герой, трижды герой Советского Союза, сбивший наибольшее количество самолетов противника, в годы Великой Отечественной войны \_\_\_\_\_.

Пропущенные элементы:

- 1) 1944 г.
- 2) А. Маресьев
- 3) 1945 г.
- 4) Москва
- 5) И. Кожедуб
- 6) Днепр

Запишите в ответ цифры, расположив их в порядке, соответствующем буквам.

Запишите число:

1)

Ответ:

### Задание №59

Заполните пропуски в данных предложениях, используя приведённый ниже список пропущенных элементов: для каждого предложения, обозначенного буквой и содержащего пропуск, выберите номер нужного элемента.

А) Генерал-лейтенант инженерных войск, профессор Военной академии Генерального штаба, зверски замученный фашистами в концлагере Маутхаузен \_\_\_\_\_.

Б) Легендарный разведчик Н. Кузнецов действовал в районе г. \_\_\_\_\_.

В) Тегеранская конференция «Большой тройки» проходила в \_\_\_\_\_.

Пропущенные элементы:

- 1) 1944
- 2) Н. Капица
- 3) 1943
- 4) Краснодон
- 5) Д. Карбышев
- 6) Ровно

Запишите в ответ цифры, расположив их в порядке, соответствующем буквам.

Запишите число:

1)

Ответ:

### Задание №60

Заполните пропуски в данных предложениях, используя приведённый ниже список пропущенных элементов: для каждого предложения, обозначенного буквой и содержащего пропуск, выберите номер нужного элемента.

А) \_\_\_\_\_ герои-партизаны, командиры крупных партизанских соединений, действовавших в тылу врага на оккупированной фашистами территории

Б) Операция «Багратион» проводилась в \_\_\_\_\_ г.

В) 9 мая 1945г. советские войска освободили г. \_\_\_\_\_.

Пропущенные элементы:

- 1) 1944 г.
- 2) Сидор Ковпак, Алексей Федоров
- 3) Климент Ворошилов, Семен Буденный
- 4) 1945 г.
- 5) Берлин
- 6) Прага

Запишите в ответ цифры, расположив их в порядке, соответствующем буквам.

Запишите число:

1)

Ответ:

### Задание №61

Заполните пропуски в данных предложениях, используя приведённый ниже список пропущенных элементов: для каждого предложения, обозначенного буквой и содержащего пропуск, выберите номер нужного элемента.

- А) \_\_\_\_\_ наступательная операция советских войск относится к 1944 г.  
Б) Место в Подмоскovie, где в составе партизанского отряда действовала Зоя Космодемьянская, называлось \_\_\_\_\_.  
В) \_\_\_\_\_ битва стала началом коренного перелома в ходе Великой Отечественной войны.

Пропущенные элементы:

- 1) Ржевская
- 2) Петрищево
- 3) Яско-Кишинёвская
- 4) Московская
- 5) Сталинградская
- 6) Берлинская

Запишите в ответ цифры, расположив их в порядке, соответствующем буквам.

Запишите число:

1)

Ответ:

### Задание №62

Заполните пропуски в данных предложениях, используя приведённый ниже список пропущенных элементов: для каждого предложения, обозначенного буквой и содержащего пропуск, выберите номер нужного элемента.

- А) \_\_\_\_\_ был дважды удостоен высшего полководческого ордена «Победа».  
Б) \_\_\_\_\_ был командующим Центральным фронтом во время Курской битвы.  
В) \_\_\_\_\_ был командующим Волховским фронтом, отличился в прорыве блокады Ленинграда в ходе операции «Искра».

Пропущенные элементы:

- 1) К. Е. Ворошилов
- 2) К. К. Рокоссовский
- 3) Г. К. Жуков
- 4) Ф. С. Октябрьский
- 5) К. А. Мерецков
- 6) Л. З. Мехлис

Запишите в ответ цифры, расположив их в порядке, соответствующем буквам.

Запишите число:

1)

Ответ:

### Задание №63

Заполните пропуски в данных предложениях, используя приведённый ниже список пропущенных элементов: для каждого предложения, обозначенного буквой и содержащего пропуск, выберите номер нужного элемента.

А) \_\_\_\_\_ битва началась с наступления германских войск, согласно подготовленной немецким командованием операции «Цитадель» .

Б) \_\_\_\_\_ конференция проходила в 1943 г., в ходе переговоров обсуждались вопросы открытия второго фронта.

В) \_\_\_\_\_ операция советских войск носила кодовое название «Багратион».

Пропущенные элементы:

- 1) Тегеранская
- 2) Белорусская
- 3) Ржевская
- 4) Московская
- 5) Сталинградская
- 6) Курская

Запишите в ответ цифры, расположив их в порядке, соответствующем буквам.

Запишите число:

1)

Ответ:

### Задание №64

Заполните пропуски в данных предложениях, используя приведённый ниже список пропущенных элементов: для каждого предложения, обозначенного буквой и содержащего пропуск, выберите номер нужного элемента.

А) Снабжением тыла и организацией народного хозяйства во время войны занималась такая организация, как \_\_\_\_\_.

Б) \_\_\_\_\_ занималась стратегическим планированием всех военных операций во время Великой Отечественной войны.

В) \_\_\_\_\_ руководил всем партизанским движением во время Великой Отечественной войны.

Пропущенные элементы:

- 1) Наркомат обороны
- 2) Государственный Комитет Обороны
- 3) Государственная комиссия по снабжению тыла
- 4) Центральный штаб партизанского движения
- 5) Ставка Верховного Главнокомандования
- 6) Президиум политбюро ЦК КПСС

Запишите в ответ цифры, расположив их в порядке, соответствующем буквам.

Запишите число:

1)

Ответ:

### Задание №65

Заполните пропуски в данных предложениях, используя приведённый ниже список пропущенных элементов: для каждого предложения, обозначенного буквой и содержащего пропуск, выберите номер нужного элемента.

- А) 23 августа 1942 г. фашистские войска прорвались к Волге северо-западнее \_\_\_\_\_.
- Б) После неудач в советско-финляндской войне \_\_\_\_\_ в мае 1940 г. был отстранён от руководства Наркоматом обороны СССР.
- В) С захватом немецкими войсками \_\_\_\_\_ открывалась дорога на Москву через Брянск и Орел.

Пропущенные элементы:

- 1) Сталинград
- 2) Киев
- 3) Куйбышев
- 4) С. К. Тимошенко
- 5) Минск
- 6) К. Е. Ворошилов

Запишите в ответ цифры, расположив их в порядке, соответствующем буквам.

Запишите число:

1)

Ответ:

### Задание №66

Заполните пропуски в данных предложениях, используя приведённый ниже список пропущенных элементов: для каждого предложения, обозначенного буквой и содержащего пропуск, выберите номер нужного элемента.

- А) К. К. Рокоссовский, А. И. Еременко, Н. Ф. Ватутин командовали фронтами во время операции \_\_\_\_\_.
- Б) Операция, согласно которой немецкие войска должны были захватить Москву, называлась \_\_\_\_\_.
- В) Операция советских войск по освобождению Белоруссии имела кодовое название \_\_\_\_\_.

Пропущенные элементы:

- 1) «Багратион»
- 2) полководец П. А. Румянцев
- 3) «Уран»
- 4) «Цитадель»
- 5) «Тайфун»
- 6) Берлинская

Запишите в ответ цифры, расположив их в порядке, соответствующем буквам.

Запишите число:

1)

Ответ:

### Задание №67

Заполните пропуски в данных предложениях, используя приведённый ниже список пропущенных элементов: для каждого предложения, обозначенного буквой и содержащего

го пропуск, выберите номер нужного элемента.

А) Наступление на киевском направлении вели войска 1-го Украинского фронта под командованием генерала армии \_\_\_\_\_.

Б) Во время Великой Отечественной войны, с марта 1942 года по октябрь 1943 года, \_\_\_\_\_ командовала 101-м авиаполком Авиации дальнего действия.

В) \_\_\_\_\_ операция является частью Смоленского сражения, она завершилась 6 сентября освобождением города Ельни.

Пропущенные элементы:

- 1) В. С. Гризодубова
- 2) И. В. Тюленев
- 3) А. Л. Бойко
- 4) Ельнинская
- 5) Корсунь-Шевченковская
- 6) Н. Ф. Ватутин

Запишите в ответ цифры, расположив их в порядке, соответствующем буквам.

Запишите число:

1)

Ответ:

### Задание №68

Заполните пропуски в данных предложениях, используя приведённый ниже список пропущенных элементов: для каждого предложения, обозначенного буквой и содержащего пропуск, выберите номер нужного элемента.

А) 18 декабря 1940 года Гитлер подписал директиву № 21 о нападении на СССР, известную как План «\_\_\_\_\_».

Б) В ходе боя у деревни Чернушки красноармеец \_\_\_\_\_ закрыл собой амбразуру вражеской огневой точки, чем дал время товарищам атаковать и уничтожить противника.

В) 9 апреля 1945 г. советские войска штурмом взяли главный город Восточной Пруссии \_\_\_\_\_.

Пропущенные элементы:

- 1) Александр Матросов
- 2) «Цитадель»
- 3) Кюстрин
- 4) «Барбаросса»
- 5) Кёнигсберг
- 6) Николай Гастелло

Запишите в ответ цифры, расположив их в порядке, соответствующем буквам.

Запишите число:

1)

Ответ:

### Задание №69

Прочтите отрывок из воспоминаний и укажите о какой военной операции идет речь.

«В воздух взметнулись тысячи разноцветных ракет. Поэтому сигналу вспыхнули 140 прожекторов, расположенных через каждые 200 метров. Более 100 миллиардов свечей освещали поле боя, ослепляя противника и выхватывая из темноты объекты атаки для наших танков и пехоты. Это была картина огромной впечатляющей силы...

Гитлеровские войска были буквально потоплены в сплошном море огня и металла. Сплошная стена пыли и дыма висела в воздухе, и местами даже мощные лучи зенитных прожекторов не могли её пробить.

Наша авиация шла над полем боя волнами... Однако противник, придя в себя, начал оказывать противодействие со стороны Зееловских высот своей артиллерией, миномётами... появилась группа бомбардировщиков... И чем ближе подходили наши войска к Зееловским высотам, тем сильнее нарастало сопротивление врага...

20 апреля, на пятый день операции, дальнобойная артиллерия открыла огонь... Начался исторический штурм...»

Запишите ответ:

1)

Ответ:

### Задание №70

*Прочтите отрывок из воспоминаний и укажите о какой битве идет речь.*

*Ответ запишите со строчной буквы без пробелов.*

«Перебрав все возможные варианты, мы решили предложить И. В. Сталину следующий план действий: первое — активной обороной продолжать изматывать противника, второе — приступить к подготовке контрнаступлениями, чтобы нанести противнику... такой удар, который резко изменил стратегическую обстановку на юге в нашу пользу...

При оценке противника мы исходили из того, что фашистская Германия уже не в состоянии выполнить свой стратегический план 1942 года. Тех сил и средств, которыми к осени 1942 года располагала Германия, не хватит для завершения задач ни на Северном Кавказе, ни в районе Дона и Волги...

Генеральный штаб на основе данных фронтов изучил сильные и слабые стороны немецких, венгерских, итальянских и румынских войск. Войска сателлитов по сравнению с немецкими были хуже вооружены, менее опытные, недостаточно боеспособны даже в обороне. И самое главное — их солдаты, да и многие офицеры не хотели умирать за чужие интересы на далеких полях России...

Положение противника усугублялось ещё и тем, что... у него было очень мало войск в оперативном резерве, не более шести дивизий, да и те были разбросаны на широком фронте... Нам благоприятствовала и оперативная конфигурация всего фронта противника: наши войска занимали охватывающее положение...»

Запишите ответ:

1)

Ответ:

### Задание №71

*Прочтите отрывок из речи государственного деятеля и укажите фамилию автора.*

«Граждане и гражданки Советского Союза! Советское правительство и его глава тов. Сталин поручили мне сделать следующее заявление.

Сегодня, 22 июня в 4 часа утра, без предъявления каких-либо претензий к Советскому Союзу, без объявления войны, германские войска напали на нашу страну, атаковали наши границы во многих местах и подвергли бомбежке со своих самолетов наши города — Житомир, Киев, Севастополь, Каунас и некоторые другие, причем убито и ранено более двухсот человек. Налеты вражеских самолетов и артиллерийский обстрел были совершены также с румынской и финляндской территорий.

Это неслыханное нападение на нашу страну является беспримерным в истории цивилизованных народов вероломством... Вся ответственность за это разбойничье нападение на Советский Союз целиком и полностью падает на германских фашистских правителей.

Уже после совершившегося нападения германский посол в Москве Шуленбург в 5 часов 30 минут утра сделал мне как Народному Комиссару Иностранных Дел заявление от имени своего правительства о том, что германское правительство решило выступить с войной против СССР в связи с сосредоточением частей Красной Армии у восточной германской границы...Наше дело правое. Враг будет разбит. Победа будет за нами».

Запишите ответ:

1)

Ответ:

### Задание №72

Прочитайте отрывок из воспоминаний маршала Г. К. Жукова и назовите город, вблизи которого разворачивались события, которые описывает автор.

«Сообщение с Большой землей могло осуществляться только через Ладожское озеро и по воздуху, под прикрытием нашей авиации. Начались бомбежки и варварские артиллерийские обстрелы города. Фашистские войска нажимали со всех сторон. Особенно крупная группировка танковых и моторизованных соединений противника концентрировалась на подступах к Урицку, Пулковским высотам и Слуцку. Все говорило о том, что враг готовится к решительному штурму. Обстановка становилась день ото дня напряженнее».

Запишите ответ:

1)

Ответ:

### Задание №73

Прочтите отрывок из выступления и укажите название страны, пропущенное в тексте.

«Нельзя ли было обойтись без войны? Мне кажется, что нельзя было. Невозможно было обойтись без войны. Война была необходима, так как мирные переговоры с \_\_\_\_\_ не дали результатов, а безопасность Ленинграда надо было обеспечить безусловно, ибо его безопасность есть безопасность нашего Отечества. Не только потому, что Ленинград представляет процентов 30-35 оборонной промышленности нашей страны, но и потому, что Ленинград есть вторая столица нашей страны. ...Ясно, что, коль скоро переговоры мирные не привели к результатам, надо было объявить войну, чтобы при помощи военной силы организовать, утвердить и закрепить безопасность Ленинграда и, стало быть, безопасность нашей страны».

Запишите ответ:

1)

Ответ:

### Задание №74

Прочтите отрывок из воспоминаний советского полководца и укажите автора мемуаров.

«Я тотчас же доложил наркомом и И. В. Сталину то, что передал М. А. Пуркаев.

И. В. Сталин сказал:

— Приезжайте с наркомом в Кремль.

Захватив с собой проект директивы войскам, вместе с наркомом и генерал-лейтенантом Н. Ф. Ватутиным мы поехали в Кремль. По дороге договорились во что бы то ни стало добиться решения о приведении войск в боевую готовность.

И. В. Сталин встретил нас один. Он был явно озабочен.

— А не подбросили ли немецкие генералы этого перебежчика, чтобы спровоцировать конфликт? — спросил он.

— Нет, — ответил С. К. Тимошенко. — Считаем, что перебежчик говорит правду.

Тем временем в кабинет И. В. Сталина вошли члены Политбюро.

— Что будем делать? — спросил И. В. Стешин.

Ответа не последовало.

— Надо немедленно дать директиву войскам о приведении всех войск приграничных округов в полную боевую готовность, — сказал нарком.

— Читайте! — ответил И. В. Сталин.

Я прочитал проект директивы».

Запишите ответ:

1)

Ответ:

### Задание №75

Прочтите отрывок из приказа и укажите название, которое этот приказ получил в народе и под которым он вошёл в историю.



Верховное Главнокомандование Красной Армии приказывает:

1. Военным советам фронтов и прежде всего командующим фронтами:

а) безусловно ликвидировать отступательные настроения в войсках и железной рукой пресекать пропаганду; о том, что мы можем и должны якобы отступить и дальше на восток, что от такого отступления не будет якобы вреда;

б) безусловно снимать с поста и направлять в Ставке для привлечения к военному суду командующих армиями, допустивших самовольный отход войск с занимаемых позиций, без приказа командования фронта;

в) сформировать в пределах фронта от одного до трех (смотря по обстановке) штрафных батальонов (по 800 человек), куда направлять средних и старших командиров и соответствующих политработников всех родов войск, провинившихся в нарушении дисциплины по трусости или неустойчивости, и поставить их на более трудные участки фронта, чтобы дать им возможность искупить кровью свои преступления против Родины.

Запишите ответ:

1) Ответ:

### Задание №76

Заполните пустые ячейки таблицы, используя представленные в приведённом ниже списке данные. Для каждой ячейки, обозначенной буквами, выберите номер нужного элемента.

Событие	Дата	Участник(-и)
Наступательная операция «Оверлорд»	(А)	Д. Эйзенхауэр, Б. Монтгомери
Сталинградская битва	(Б)	(В)
(Г)	Август–декабрь 1943 г.	Г. К. Жуков, К. К. Рокоссовский, И. С. Конев
Битва за Москву	(Д)	(Е)

Пропущенные элементы:

- 1) М. А. Егоров, М. В. Кантария
- 2) сентябрь 1941 г. – январь 1942 г.
- 3) Я. Ф. Павлов
- 4) битва на Курской дуге
- 5) битва за Днепр
- 6) июнь–август 1944 г.
- 7) июль 1942 г. – февраль 1943 г.
- 8) И. В. Панфилов
- 9) май 1942 г.

Запишите в ответ цифры, расположив их в порядке, соответствующем буквам.

Запишите число:

1) Ответ:

### Задание №77

Заполните пустые ячейки таблицы, используя представленные в приведённом ниже списке данные. Для каждой ячейки, обозначенной буквами, выберите номер нужного элемента.

Событие	Дата	Участник(-и)
Сталинградская битва	_____ (А)	В. И. Чуйков
Тегеранская конференция	_____ (Б)	_____ (В)
_____ (Г)	январь—февраль 1945 г.	Г. К. Жуков
штурм Берлина	_____ (Д)	_____ (Е)

Пропущенные элементы:

- 1) ноябрь—декабрь 1943 г.
- 2) Висло-Одерская операция
- 3) июль 1942 г.—2 февраля 1943 г.
- 4) апрель-май 1945 г.
- 5) И. В. Сталин, Ф. Д. Рузвельт, У. Черчилль
- 6) июнь—август 1944 г.
- 7) 9 августа—2 сентября 1945 г.
- 8) И. С. Конев
- 9) Ясско-Кишинёвская операция

Запишите в ответ цифры, расположив их в порядке, соответствующем буквам.

Запишите число:

1)

Ответ:

### Задание №78

Заполните пустые ячейки таблицы, используя представленные в приведённом ниже списке данные. Для каждой ячейки, обозначенной буквами, выберите номер нужного элемента.

Событие	Дата	Участник(-и)
Операция «Рельсовая война»	_____ (А)	Федоров, Ковпак
операция "Оверлорд"	_____ (Б)	_____ (В)
_____ (Г)	август—декабрь 1943 г.	Г. К. Жуков, И. С. Конев К. К. Рокоссовский
Битва за Москву	_____ (Д)	_____ (Е)

Пропущенные элементы:

- 1) М. А. Егоров, М. В. Кантария
- 2) сентябрь 1941 г. —январь 1942 г.
- 3) Д. Эйзенхауэр
- 4) битва на Курской дуге
- 5) битва за Днепр
- 6) август-сентябрь 1943 г.
- 7) июнь 1944 г. — август 1944 г.
- 8) И. В. Панфилов
- 9) май 1942 г.

Запишите в ответ цифры, расположив их в порядке, соответствующем буквам.

Запишите число:

1) Ответ:

### Задание №79

Заполните пустые ячейки таблицы, используя представленные в приведённом ниже списке данные. Для каждой ячейки, обозначенной буквами, выберите номер нужного элемента.

Событие	Название населённого пункта (территории)	Год
_____ (А)	д. Прохоровка	_____ (Б)
_____ (В)	г. Сталинград	1942 г.
Первый воздушный ночной таран в период Великой Отечественной войны	_____ (Г)	_____ (Д)
Первая встреча советских и американских войск в период Великой Отечественной войны	_____ (Е)	1945 г.

- 1) г. Торгау
- 2) 1943 г.
- 3) г. Москва и Московская область
- 4) г. Будапешт
- 5) окружение 6-й германской армии под командованием Ф. Паулюса
- 6) первая встреча лидеров стран «Большой тройки»
- 7) 1941г.
- 8) крупнейшее танковое сражение в период Великой Отечественной войны
- 9) 1944 г.

Запишите в ответ цифры, расположив их в порядке, соответствующем буквам.

Запишите число:

1) Ответ:

### Задание №80

Заполните пустые ячейки таблицы, используя представленные в приведённом ниже списке данные. Для каждой ячейки, обозначенной буквами, выберите номер нужного элемента.

Событие	Дата	Участник(-и)
Операция «Багратион»	_____ (А)	И. Х. Баграмян, И. Д. Черняховский
Сталинградская битва	_____ (Б)	_____ (В)
_____ (Г)	Август–декабрь 1943 г.	Г. К. Жуков, К. К. Рокоссовский И. С. Конев
"Вахта на Рейне"	_____ (Д)	_____ (Е)

Пропущенные элементы:

- 1) Тухачевский
- 2) декабрь 1944-январь 1945гг.
- 3) Я. Ф. Павлов
- 4) битва на Курской дуге
- 5) битва за Днепр
- 6) июнь — август 1944 г.
- 7) июль 1942 г. — февраль 1943 г.
- 8) Рунштед, Модель
- 9) май 1942 г.

Запишите в ответ цифры, расположив их в порядке, соответствующем буквам.

Запишите число:

1)

Ответ:

### Задание №81

Заполните пустые ячейки таблицы, используя приведённый ниже список пропущенных элементов: для каждого пропуска, обозначенного буквами, выберите номер нужного элемента.

Событие	Дата	Участник(-и)
Операция «Багратион»	_____ (А)	И.Х. Баграмян, И. Д. Черняховский
Сталинградская битва	_____ (Б)	_____ (В)
_____ (Г)	Август – декабрь 1943 г.	Г. К. Жуков, К. К. Рокоссовский, И. С. Конев
осада Тобрука	_____ (Д)	_____ (Е)

Пропущенные элементы:

- 1) Кейтель
- 2) апрель-ноябрь 1941 г.
- 3) Я. Ф. Павлов
- 4) битва на Курской дуге
- 5) битва за Днепр
- 6) июнь — август 1944 г.
- 7) июль 1942 г. — февраль 1943 г.
- 8) Роммель
- 9) май 1942

Запишите в ответ цифры, расположив их в порядке, соответствующем буквам.

Запишите число:

1)

Ответ:

### Задание №82

Установите соответствие между событиями и датами.

Событие	Даты
А) начало Висло - Одерской операции	1) июль 1941 г.
Б) освобождение Киева от фашистов	2) май 1942г.
В) начало Смоленского оборонительного сражения	3) февраль 1943 г.
Г) капитуляция немецких войск в Сталинграде	4) ноябрь 1943 г.
	5) июнь 1944 г.
	6) январь 1945 г.

Запишите число:

1)

Ответ:

### Задание №83

Установите соответствие между процессами (явлениями, событиями) и фактами, относящимися к этим процессам.

Процессы (события, явления)	Факты
А) курская битва	1) начало функционирования «дороги жизни»
Б) битва за Москву	2) начало операции «Кутузов»
В) блокада Ленинграда	3) самое массовое награждение званием Героя Советского Союза за всю историю страны
Г) Сталинградская битва	4) бои в районе Волоколамска
	5) бои за Мамаев курган
	6) гибель генерала И. Черняховского

Запишите число:

1)

Ответ:

### Задание №84

Установите соответствие между событиями и итогами.

Название операции	Итоги операции
А) Багратион	1) Прорыв блокады Ленинграда
Б) Уран	2) Освобождение Ленинграда от вражеской блокады
В) Искра	3) Контрнаступление Советских войск в ходе Сталинградской битвы
Г) «Январский гром»	4) Освобождение Белоруссии
	5) Немецкая наступательная операция в районе Курской дуги.

Запишите число:

1)

Ответ:

### Задание №85

Установите соответствие между событиями и датами.

Событие	Дата
А) 30 сентября 1941г.	1) начало второго этапа немецкого наступления на Москву
Б) 7 ноября 1941г.	2) начало контрнаступления советских войск
В) 15 октября 1941г.	3) начало операции «Тайфун»
Г) 15 ноября 1941г.	4) принятие решения об эвакуации Москвы
Д) 5-6 декабря 1941г.	5) парад на Красной площади

Запишите число:

1)

Ответ:

### Задание №86

Соотнесите дату и событие Московской битвы:

Событие	Дата
А) 20 октября 1941г.	1) Вяземское окружение
Б) 20 апреля 1942г.	2) взятие немцами Калинина
В) 5 октября 1941г.	3) прекращение зимнего наступления Красной Армии
Г) 14 октября 1941г.	4) превращение наступления под Москвой в общее наступление по всему фронту
Д) январь 1942г.	5) введение в Москве осадного положения

Запишите число:

1)	Ответ:	
----	--------	--

<b>Задание №87</b>	
Соотнесите фронт и его командующего в начале наступательного этапа Сталинградской битвы:	
Название фронта	Его командующий
А) Н.Ф. Ватугин	1) Юго-Западный фронт
Б) А.И. Ерёменко	2) Донской фронт
В) К.К. Рокоссовский	3) Сталинградский фронт

Запишите число:

1)	Ответ:	
----	--------	--

<b>Задание №88</b>	
Установите соответствие между событиями и датами.	

Событие	Даты
А) наступательный период Сталинградской битвы	1) 5 июля—23 августа 1943 г
Б) битва за Днепр	2) 23 октября 1942 г. — 13 мая 1943 г
В) Курская битва	3) 28 ноября 1943 г. —1 декабря 1943 г.
Г) наступление союзников в Северной Африке	4) 26 августа —22 декабря 1943 г.
Д) битва за Гуадалканал	5) 19 ноября 1942 г. —2 февраля 1943 г.
Е) Тегеранская конференция	6) 12—15 ноября 1942г.

Запишите число:

1)	Ответ:	
----	--------	--

### Задание №89

Сопоставьте план операции советского командования и союзного командования и битву

Битва	План
А) Освобождение Белоруссии	1) «Уран»
Б) контрнаступление под Сталинградом	2) «Кольцо»
В) высадка десанта в Нормандии	3) «Багратион»
Г) уничтожение под Сталинградом группировки немецких войск	4) «Оверлорд»

Запишите число:

1)	Ответ:	
----	--------	--

### Задание №90

Соотнесите конференцию и дату ее проведения

Конференция	Дата
А) Ялтинская (Крымская) конференция	1) 28 ноября — 1 декабря 1943 г
Б) Потсдамская (Берлинская) конференция	2) 17 июля — 2 августа 1945 г.
В) Тегеранская конференция	3) 4-11 февраля 1945 г.

Запишите число:

1)	Ответ:	
----	--------	--



### Задание №91

Соотнесите конференцию и принятые решения

Глава государства	Конференция
А) открытие второго фронта в Европе в начале мая 1944 г.	1) Тегеранская конференция
Б) согласование принципов безоговорочной капитуляции Германии	2) Ялтинская (Крымская) конференция
В) раздел Германии на зоны оккупации между СССР, США, Англией и Францией	3) Потсдамская (Берлинская) конференция
Г) решение о создании репарационной комиссии	

Запишите число:

1)

Ответ:

### Задание №92

Соотнесите период с произошедшими событиями

События	Период
А) немецкое контрнаступление в Арденнах	1) 1939 — 21 июня 1941 г.
Б) битва за Кавказ	2) 22 июня 1941 — 1943 г.
В) советско-финляндская война	3) 1944—1945 гг.

Запишите число:

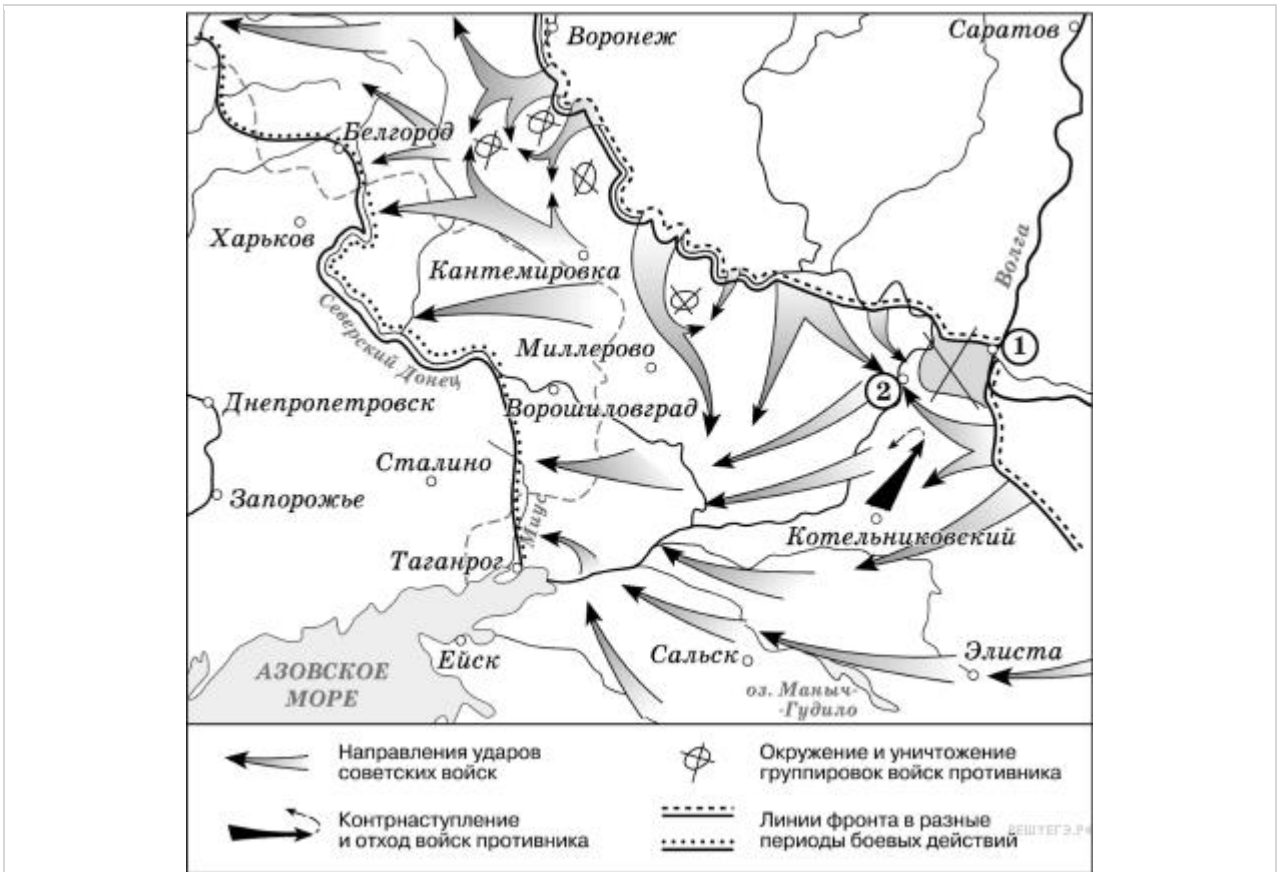
1)

Ответ:

### Задание №93

Рассмотрите схему событий одного из периодов Великой Отечественной войны и выполните задание

Укажите название города, обозначенного на схеме цифрой «1».



Запишите ответ:

1)	Ответ:	
----	--------	--

### Задание №94

Рассмотрите схему событий одного из периодов Великой Отечественной войны и выполните задание

Укажите название города, обозначенного на схеме цифрой «2», в районе которого произошло соединение войск двух фронтов Красной армии.



Запишите ответ:

1) Ответ:

### Задание №95

Рассмотрите схему событий одного из периодов Великой Отечественной войны и выполните задание

Укажите название периода в ходе войны, начало которому положили события, обозначенные на схеме.



Запишите ответ:

1)	Ответ:
----	--------

### Задание №96

Рассмотрите схему событий одного из периодов Великой Отечественной войны и выполните задание

Какие суждения, относящиеся к событиям, обозначенным на схеме, являются верными? Выберите три суждения из шести предложенных. Запишите цифры, под которыми они указаны в порядке возрастания.

- 1) На схеме обозначены боевые действия до конца 1943 г.
- 2) События, обозначенные на схеме, явились первым наступлением Красной армии в ходе Великой Отечественной войны.
- 3) На схеме обозначены боевые действия Красной армии в ходе операции «Уран».
- 4) Участником событий, обозначенных на схеме, являлся К. К. Рокоссовский.
- 5) В кольце окружения, обозначенном на схеме, оказалось более 2 млн немецких солдат.
- 6) События, обозначенные на схеме стрелками, начались в ноябре 1942 г.



Запишите число:

1)

Ответ:

### Задание №97

Рассмотрите схему событий одного из периодов Великой Отечественной войны и выполните задание

Продолжите фразу: «События, обозначенные на схеме стрелками, начались в тысяча девятьсот \_\_\_\_\_ году».



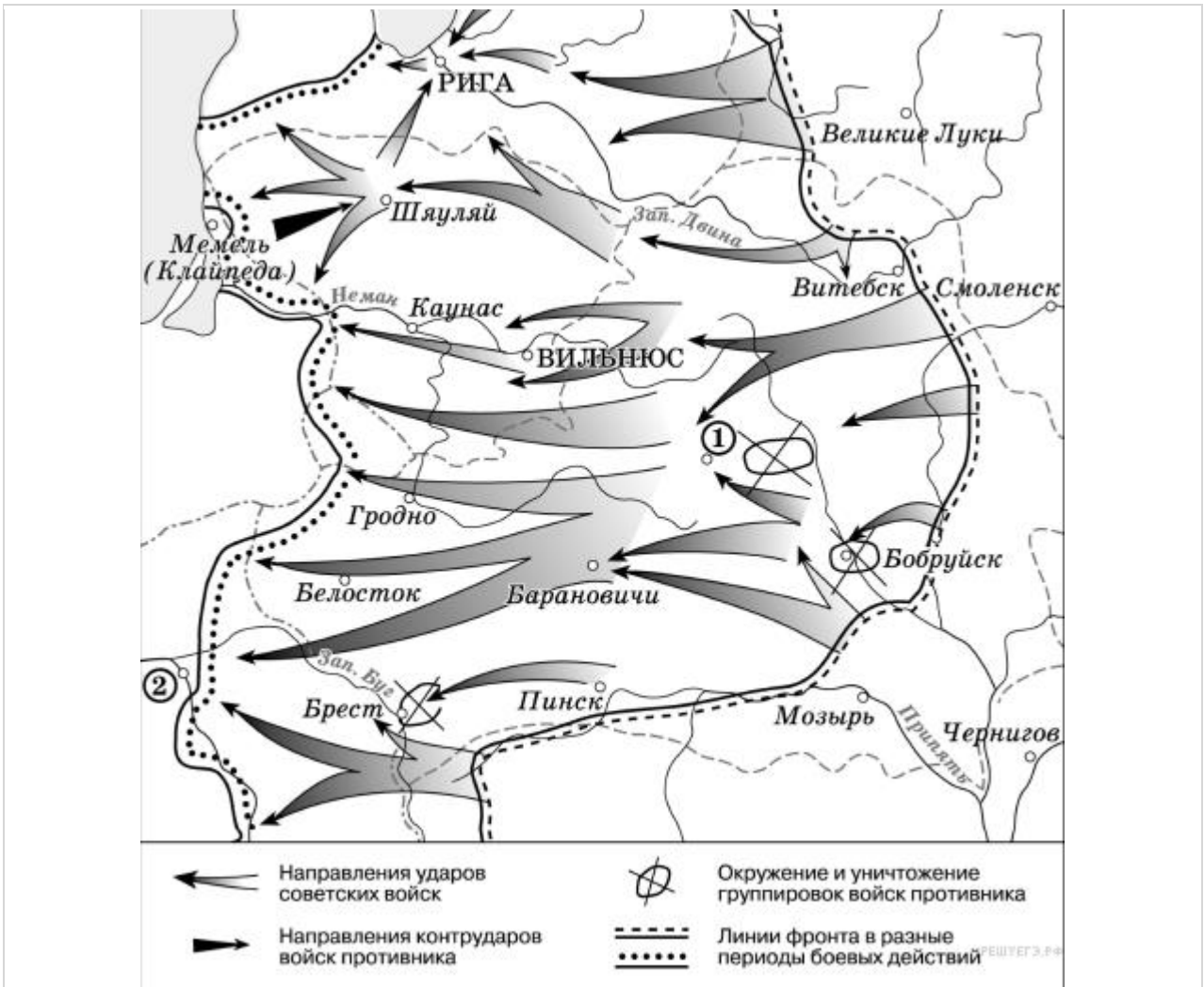
Запишите ответ:

1)	Ответ:
----	--------

### Задание №98

Рассмотрите схему событий одного из периодов Великой Отечественной войны и выполните задание

Укажите название города, обозначенного на схеме цифрой «1».



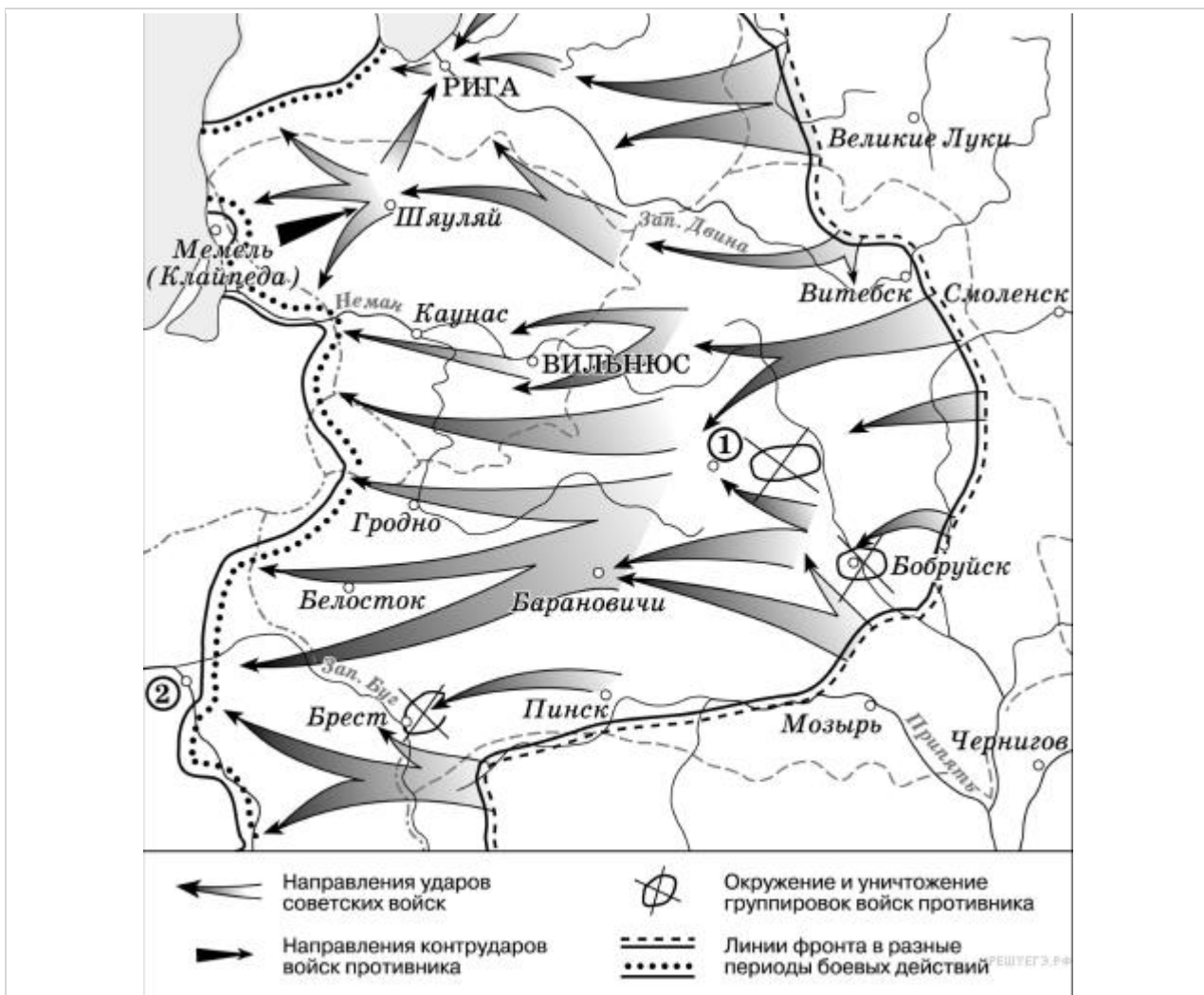
Запишите ответ:

1)	Ответ:
----	--------

### Задание №99

Рассмотрите схему событий одного из периодов Великой Отечественной войны и выполните задание

Укажите название столицы государства, обозначенной на схеме цифрой «2».



Запишите ответ:

1)	Ответ:
----	--------

### Задание №100

Рассмотрите схему событий одного из периодов Великой Отечественной войны и выполните задание

Какие суждения, относящиеся к событиям, обозначенным на схеме, являются верными? Выберите три суждения из шести предложенных. *Запишите цифры, под которыми они указаны в порядке возрастания.*

- 1) События, обозначенные на схеме, являются частью коренного перелома в ходе Великой Отечественной войны.
- 2) События, обозначенные на схеме, произошли после открытия союзниками Второго фронта в Европе
- 3) На схеме обозначены действия Красной армии в ходе проведения операции «Уран».
- 4) Город Кенигсберг был взят Красной армией в ходе событий, обозначенных на данной схеме.
- 5) На схеме обозначены действия Красной армии в ходе проведения операции «Багратион».
- 6) В ходе событий, обозначенных на схеме, территория Белорусской ССР была полностью освобождена от немецко-фашистских захватчиков.





Запишите число:

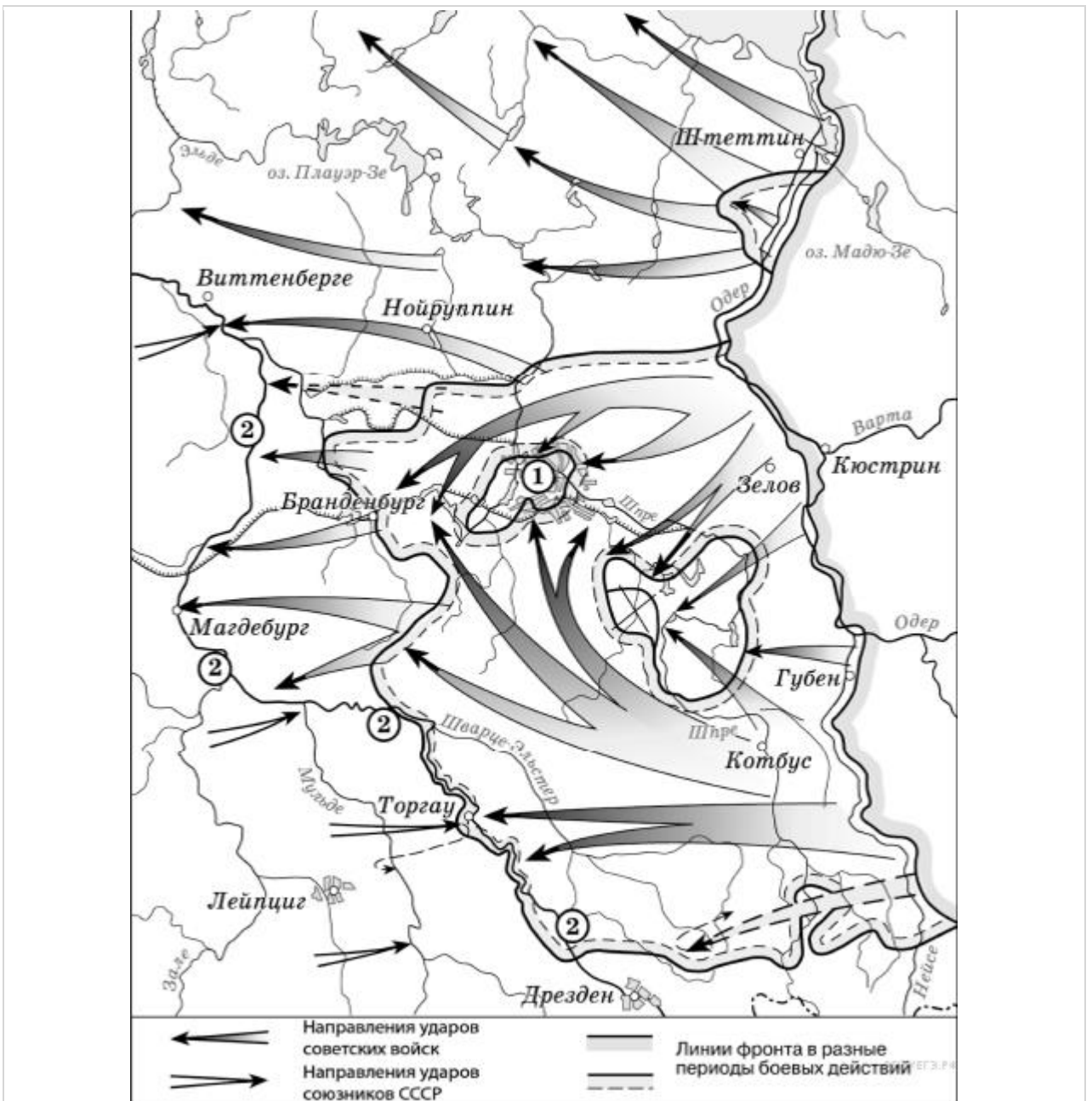
1)

Ответ:

### Задание №101

Рассмотрите схему событий одного из периодов Великой Отечественной войны и выполните задание.

Назовите месяц 1945 г., когда начались боевые действия, обозначенные на карте стрелками.



Запишите ответ:

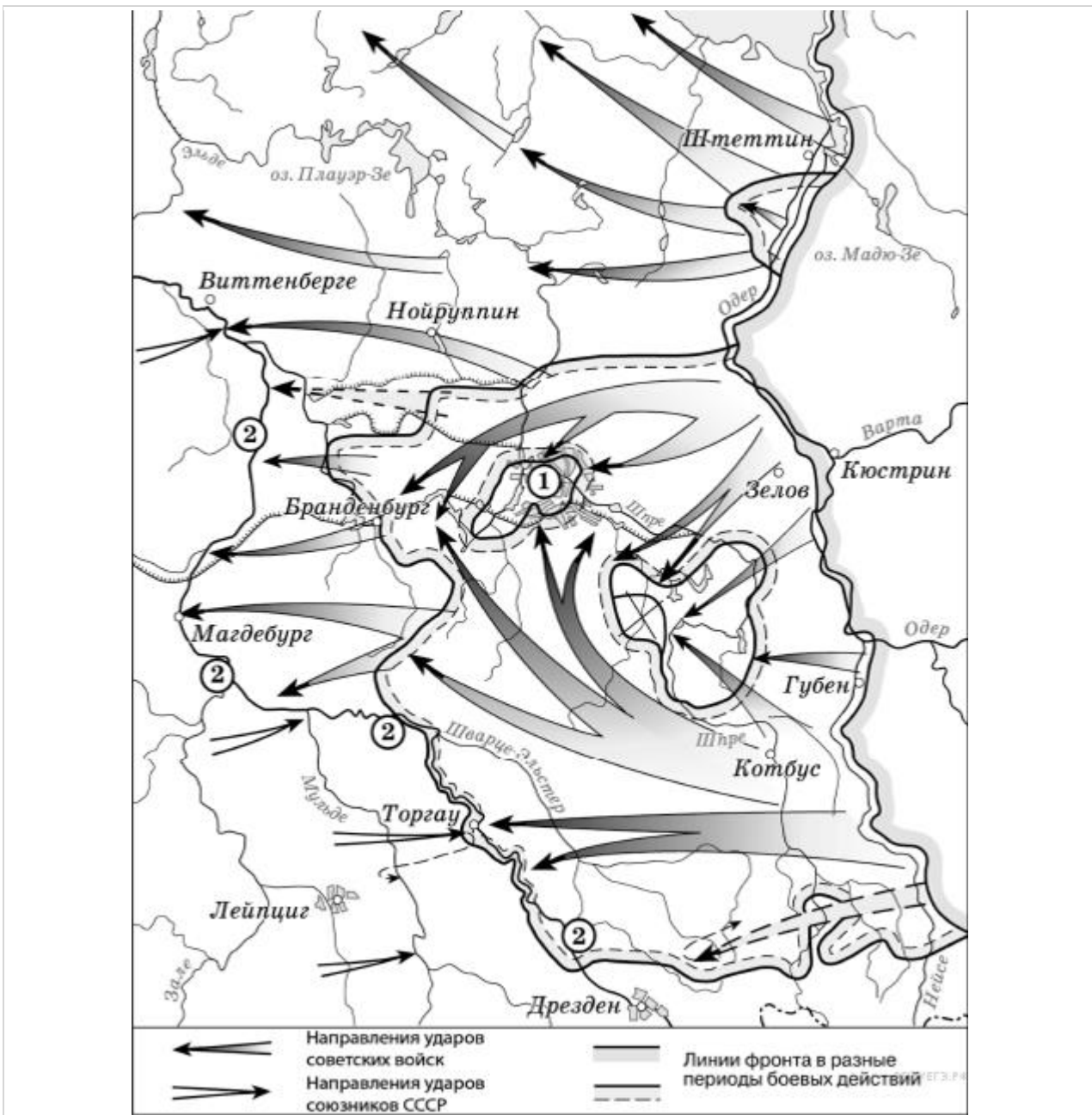
1)

Ответ:

### Задание №102

Рассмотрите схему событий одного из периодов Великой Отечественной войны и выполните задание.

Укажите название города, обозначенного на схеме цифрой «1».



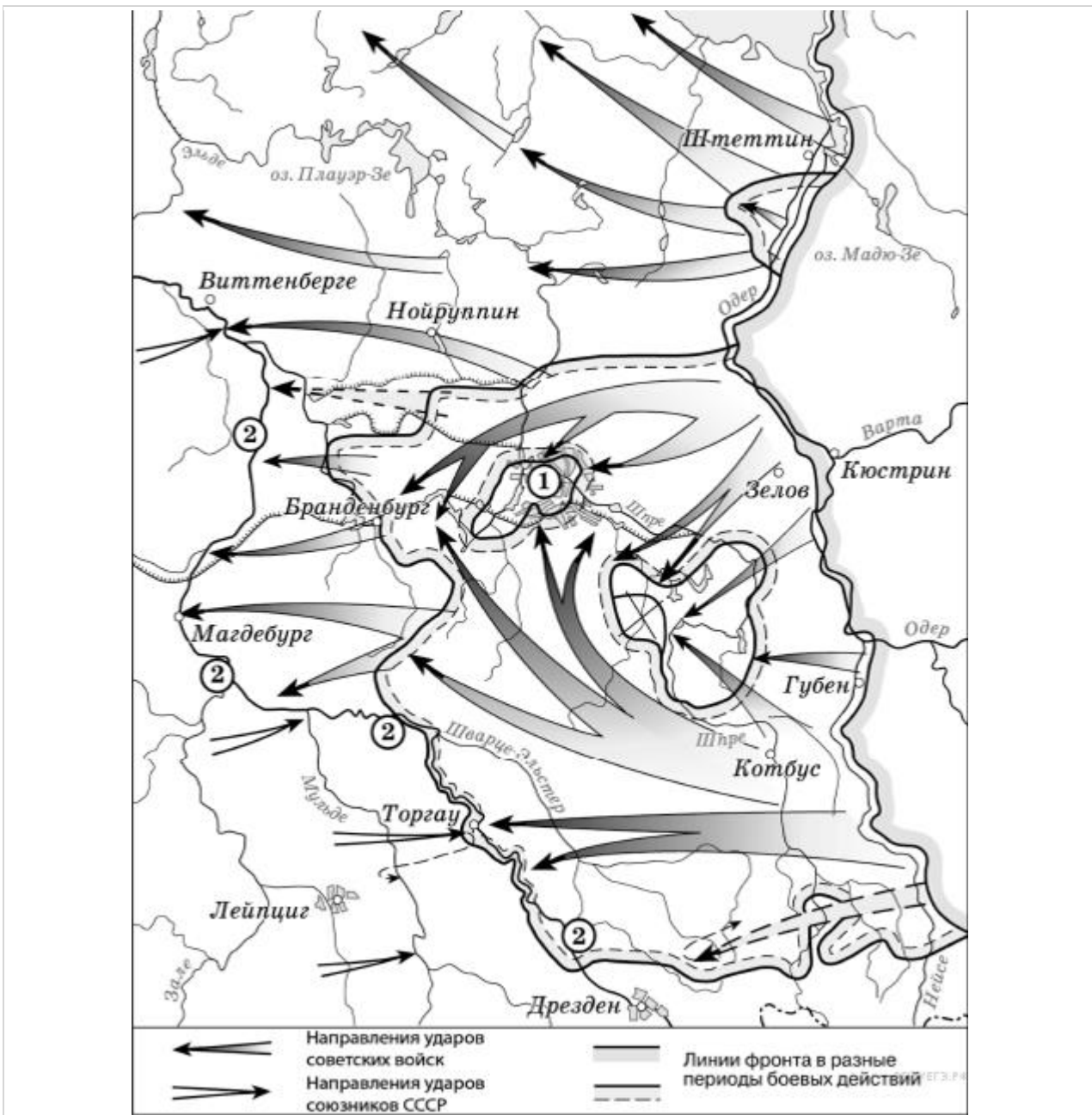
Запишите ответ:

1) Ответ:

### Задание №103

Рассмотрите схему событий одного из периодов Великой Отечественной войны и выполните задание.

Укажите название реки, обозначенной на схеме цифрами «2».



Запишите ответ:

1) Ответ:

### Задание №104

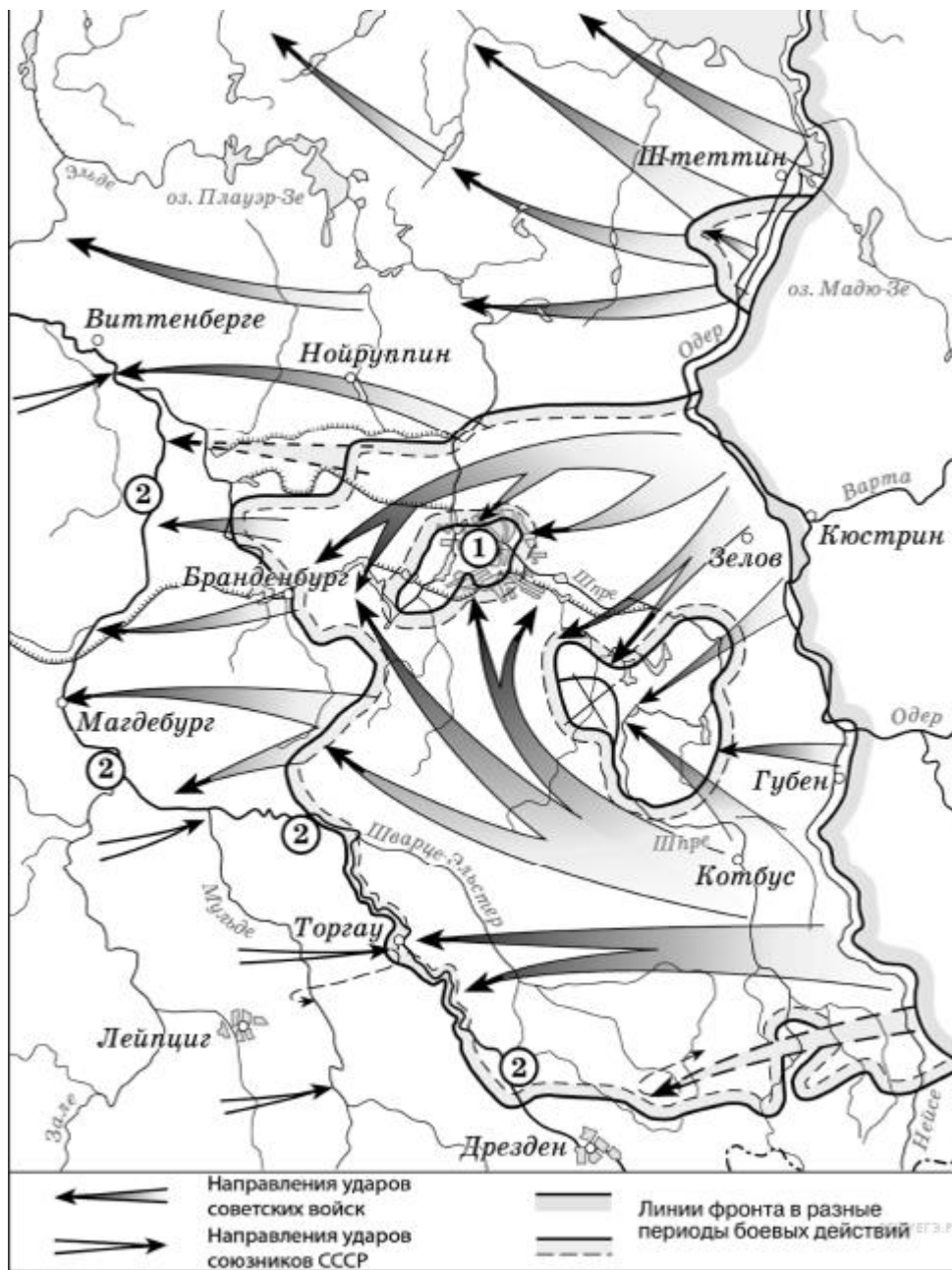
Рассмотрите схему событий одного из периодов Великой Отечественной войны и выполните задание.

Какие суждения, относящиеся к событиям, обозначенным на схеме, являются верными? Выберите три суждения из шести предложенных. *Запишите цифры, под которыми они указаны в порядке возрастания.*

- 1) На схеме обозначены действия Красной армии в ходе проведения операции «Багратион».
- 2) События, обозначенные на схеме, происходили позже встречи руководителей держав «Большой тройки» в Крыму.
- 3) События, обозначенные на схеме, являются частью коренного перелома в ходе Великой Отечественной войны.
- 4) События, обозначенные на данной схеме стрелками, длились около полугода.

5) С окончанием военных действий, обозначенных на схеме, Вторая мировая война ещё не была закончена.

6) Одним из фронтов Красной армии, участвовавших в событиях, обозначенных на схеме, командовал Г. К. Жуков.



Запишите число:

1)

Ответ:

### Задание №105

Рассмотрите схему и выполните задание

Назовите страну, против которой были направлены указанные на схеме военные действия СССР.



Запишите ответ:

1)

Ответ:

### Задание №106

Рассмотрите схему и выполните задание

Напишите фамилию руководителя СССР в период событий, указанных на схеме.



Запишите ответ:

1)

Ответ:

### Задание №107

Рассмотрите схему и выполните задание

Укажите название указанной под цифрой 3 военно-морской базы, полученной в аренду СССР по итогам данной войны.



Запишите ответ:

1)

Ответ:

### Задание №108

Рассмотрите схему и выполните задание

Какие суждения, относящиеся к войне, которой посвящена схема, являются верными? Выберите три суждения из шести предложенных. *Запишите цифры, под которыми они указаны расположив в порядке возрастания*

- 1) начало войны относится к 1939 г.
- 2) союзниками СССР в этой войне были США и Великобритания
- 3) результатом войны стало присоединение к СССР территории с городом Выборгом
- 4) основные военные действия в этой войне пришлось на зимний период
- 5) СССР не получил в результате войны территориальных приобретений
- 6) в ходе войны противник не оказал советским войскам серьезного сопротивления





Запишите число:

1)

Ответ:

### Задание №109

Рассмотрите изображение и выполните задание

Какие суждения о данной карикатуре являются верными? Выберите два суждения из пяти предложенных. *Запишите цифры, под которыми они указаны расположив в порядке возрастания*

- 1) Данная карикатура создана в первой половине 1930-х гг.
- 2) В момент, когда произошло событие, которому посвящена карикатура, СССР вёл войну с Финляндией.
- 3) Карикатура была создана в СССР и опубликована в печати в тот же год, когда произошло событие, которому она посвящена.
- 4) Карикатура посвящена нарушению международного договора одной из стран.
- 5) Событие, которому посвящена карикатура, означало начало Великой Отечественной войны.



Запишите число:

1)

Ответ:

### Задание №110

Какие из перечисленных объектов построены в годы руководства СССР политического деятеля, изображённого на карикатуре. В ответе запишите две цифры, под которыми они указаны, расположив их в порядке возрастания.



РЕШУТЕГЭ-РФ

Ответ запишите цифрами, .



Запишите число:

1)	Ответ:
----	--------

### Задание №111

Рассмотрите изображение и выполните задание

Какие суждения о данном изображении являются верными? Выберите два суждения из пяти предложенных. *Запишите цифры, под которыми они указаны, расположив в порядке возрастания*

- 1) Непосредственным участником события, которому посвящена карикатура, являлся Ф. Рузвельт.
- 2) Данная карикатура создана в 1935 г.
- 3) Событие, которому посвящена карикатура, оказало значительное влияние на смену внешнеполитического курса СССР.
- 4) Событие, которому посвящена карикатура, произошло в Берлине.
- 5) На данной карикатуре изображены представители Англии и Франции.



Запишите число:

1)	Ответ:
----	--------

### Задание №112

Какие из перечисленных объектов построены в годы руководства СССР политического деятеля, изображённого на карикатуре. *В ответе запишите две цифры, под которыми они указаны, расположив в порядке возрастания.*



Запишите число:

1)

Ответ:

### Задание №113

Расположите в хронологической последовательности исторические события.

Укажите порядок следования всех 3 вариантов ответа:

- |    |   |
|----|---|
| 1) | образование Государственного Комитета Оборона |
| 2) | освобождение Севастополя                      |
| 3) | частичный прорыв блокады Ленинграда           |

### Задание №114

Установите хронологическую последовательность.

Укажите порядок следования всех 3 вариантов ответа:

1)		Операция «Кольцо»
2)		Операция «Багратион»
3)		Операция «Кутузов»

### Задание №115

Восстановите хронологическую последовательность событий на Тихом океане в конце 1941 -первой половине 1942 г.

Укажите порядок следования всех 3 вариантов ответа:

1)		объявление Германией и Италией войны США
2)		объявление США войны Японии
3)		нападении Японии на Пёрл - Харбор

### Задание №116

Основные положения советского плана боевых действий на курской дуге заключались в следующем:

Выберите несколько из 6 вариантов ответа:

1)		переход к преднамеренной обороне
2)		широкая наступательная операция на юго-западном направлении в июне 1943г.
3)		создание мощной глубокоэшелонированной обороны, в первую очередь противотанковой
4)		изматывание противника в ходе оборонительных операций
5)		прорыв обороны противника на острие Курского выступа с помощью мощных бронетанковых группировок
6)		переход в контрнаступление свежими силами после изматывания противника

### Задание №117

Соотнесите конференцию и глав государств

Укажите соответствие для всех 5 вариантов ответа:

1)		И.В.Сталин	1)	Тегеранская конференция
2)		Ф. Рузвельт		
3)		Г. Трумэн		
4)		У. Черчилль		
5)		К. Эттли		

### Задание №118

Соотнесите конференцию и глав государств

Укажите соответствие для всех 5 вариантов ответа:			
1)		И.В.Сталин	1) Ялтинская (Крымская) конференция
2)		Ф. Рузвельт	
3)		Г. Трумэн	
4)		У. Черчилль	
5)		К. Эттли	

### Задание №119

Соотнесите конференцию и глав государств

Укажите соответствие для всех 5 вариантов ответа:			
1)		И.В.Сталин	1) Потсдамская конференция
2)		Ф. Рузвельт	
3)		Г. Трумэн	
4)		У. Черчилль	
5)		К. Эттли	