

**Материалы**  
**для подготовки к тесту по истории 11.2 класс М-1**  
**по теме «Экономическая сфера общества». Часть 1.**

<b>Тема</b>	<b>Содержание</b>
Экономика как наука	Экономика подсистема общества. Экономика и уровень жизни. Экономика и социальная структура. Экономика и политика.
Экономика: наука и хозяйство	Что изучает экономическая наука. Экономическая деятельность и её измерители. Понятие ВВП.
Экономический рост и развитие	Экстенсивный и интенсивный экономический рост. Факторы и темпы экономического роста. Экономическое развитие Экономический цикл. Причины циклического развития экономики.
Рыночные отношения в экономике.	Рынок в жизни общества. Рыночная экономика. Как действует «невидомая рука рынка». Законы спроса и предложения. Рыночные структуры. Конкуренция и монополия. Современная рыночная система.

**Понятия.**

Тема 1:

- уровень жизни
- экономические механизмы
- уровень бедности
- рыночная экономика
- специализация производства.

Тема 2.

- понятие экономика в двух смыслах: широкое, узкое
- микро- и макроэкономика
- экономические блага
- абсолютные и относительные показатели
- ВВП и ВНП
- национальный доход

Тема 3.

- экономический рост
- (абсолютный прирост, темпы роста)
- экстенсивный и интенсивный экономический рост
- факторы экономического роста
- экономические циклы и их причины

Тема 4

- функции рынка
- рыночная экономика
- закон спроса
- закон предложения
- эластичность
- виды рынков
- конкуренция
- монополия
- свободная конкуренция

Для того, чтобы получить допуск к тесту учащийся должен выполнить следующие виды работ:

- оформить лекционную тетрадь;
- выполнить задания в тетради для практических работ;

Выполнение каждого вида работ подтверждается отметкой учителя в зачётном листе и допуском к итоговому тесту.

Банк заданий:

Анализ схем и таблиц

1. Запишите слово, пропущенное в схеме.



Ответ:

2. Запишите слово, пропущенное в таблице.

### ОСНОВНЫЕ ФУНКЦИИ РЫНКА

ФУНКЦИИ РЫНКА	ХАРАКТЕРИСТИКА
Информационная	Предоставление участникам рынка сведений о ценах на товары и услуги и потребностях рынка
...	Соединение продавца и потребителя, спроса и предложения
Санитарная	Выявление неэффективных, убыточных предприятий и побуждение их к банкротству и реструктуризации

Ответ:

3. Запишите слово, пропущенное в таблице.

ФАКТОР ПРОИЗВОДСТВА	ХАРАКТЕРИСТИКА
Труд	Использование в процессе производства товаров и услуг физических и умственных способностей людей
...	Денежные средства, здания, сооружения, оборудование, используемое при производстве товаров, услуг

Ответ:

4. Запишите слово, пропущенное в таблице.

ФАКТОР ПРОИЗВОДСТВА	ХАРАКТЕРИСТИКА
...	Деятельность людей по производству товаров и услуг путём использования их умственных и физических способностей, полученных в процессе обучения и работы, знаний и навыков
Земля	Все виды природных ресурсов, имеющих на планете и пригодных для производства экономических благ

Ответ:

5. Запишите словосочетание, пропущенное в таблице.

### ПОКАЗАТЕЛИ ЭКОНОМИЧЕСКОГО РОСТА

ПОКАЗАТЕЛИ	СУЩНОСТЬ
Валовой внутренний продукт	Рыночная стоимость конечной продукции, произведенной на территории одной страны за определённый период времени
...	Вновь созданная в материальном производстве стоимость на территории одной страны за определённый период времени

Ответ:

6. Запишите слово, пропущенное в таблице.

ЭКОНОМИЧЕСКИЕ ЯВЛЕНИЯ	ХАРАКТЕРИСТИКИ
Спрос	Сложившаяся на рынке в определённый период времени зависимость объёма товара определённого вида, который потребители готовы приобрести, от цен, по которым эти товары могут быть проданы производителями/продавцами
...	Сложившаяся на рынке в определённый период времени зависимость объёма товара определённого вида, который производители/продавцы готовы продать, от цен, по которым этот товар может быть продан

Ответ:

Выбор обобщающего понятия

7. Выберите понятие, которое является обобщающим для всех остальных понятий представленного ниже ряда. Запишите это слово (словосочетание).

*Рынок сырья, рынок земли, рынок ресурсов, рынок труда, рынок оборудования.*

8. Найдите понятие, которое является обобщающим для всех остальных понятий представленного ниже ряда. Запишите это слово (словосочетание).

*Земля, трудовые ресурсы, фактор производства, капитал, информация.*

9. Найдите понятие, которое является обобщающим для всех остальных понятий представленного ниже ряда. Запишите это слово (словосочетание).

*Совершенная конкуренция, совокупный спрос, рыночная экономика, равновесная цена, экономическая свобода.*

10. Найдите понятие, которое является обобщающим для всех остальных понятий представленного ниже ряда. Запишите это слово (словосочетание).

*Несовершенство рынка, невозможность производства общественных благ, компенсация внешних эффектов, монополизация рынков, неравенство доходов.*

### **Соотнесение видовых понятий с родовыми**

11. Ниже приведен ряд терминов. Все они, за исключением двух, относятся к понятию «рынок».

- 1) спрос
- 2) директивное планирование
- 3) предложение
- 4) равновесная цена
- 5) потребитель
- 6) дефицит

Найдите два термина, «выпадающих» из общего ряда, и запишите в ответ цифры, под которыми они указаны.

12. Ниже приведен перечень терминов. Все они, за исключением двух, характеризуют понятие «конкуренция».

- 1) монополия
- 2) моносония
- 3) кооператив
- 4) олигополия
- 5) совершенная конкуренция
- 6) корпорация

13. Ниже приведен ряд терминов. Все они, за исключением двух, являются характеристикой факторов формирования предложения.

- 1) количество потребителей
- 2) уровень налогов
- 3) цены на сырье и комплектующие
- 4) количество продавцов на рынке
- 5) доходы потребителей
- 6) уровень технологий
- 7) рост производительности труда

Найдите два термина, «выпадающих» из общего ряда, и запишите в ответ цифры, под которыми они указаны.

14. Ниже приведён перечень терминов. Все они, за исключением двух, характеризуют факторы производства.

- 1) предпринимательство
- 2) труд
- 3) ценные бумаги
- 4) курс валют
- 5) капитал
- 6) земля

Найдите два термина, «выпадающих» из общего ряда, и запишите в ответ цифры, под которыми они указаны.

15. Ниже приведён перечень терминов. Все они, за исключением двух, относятся к понятию «обмен».

- 1) разделение труда
- 2) производительные силы
- 3) специализация производителей
- 4) бартер
- 5) унитарные предприятия
- 6) товарно-денежные отношения

16. Ниже приведён перечень терминов. Все они, за исключением двух, представляют собой факторные доходы.

- 1) выигрыш в лотерею
- 2) земельная рента
- 3) заработная плата
- 4) пособие по безработице
- 5) дивиденды
- 6) прибыль

Найдите два термина, «выпадающих» из общего ряда, и запишите в таблицу цифры, под которыми они указаны.

17. Ниже приведён ряд терминов. Все они, за исключением двух, относятся к понятию «факторы производства»

- 1) труд
- 2) спрос
- 3) предпринимательские способности
- 4) капитал
- 5) земля
- 6) равновесная цена

Найдите два термина «выпадающих» из общего ряда, и запишите в цифры, под которыми они указаны.

### **Выбор позиций из списка**

18. Найдите в приведенном списке операции, которые должны учитываться при подсчете ВВП, и запишите цифры, под которыми они указаны

- 1) оплата услуг салона красоты
- 2) пособие по безработице
- 3) покупка «пиратского» издания
- 4) гонорар композитора
- 5) покупка корпоративных облигаций

19. Найдите в приведенном списке последствия рыночного регулирования экономики. Запишите цифры, под которыми они указаны.

- 1) имущественное расслоение товаропроизводителей
- 2) товарный дефицит
- 3) заинтересованность в технических новинках
- 4) полная занятость трудоспособных
- 5) преодоление цикличности развития экономики

20. Найдите в приведенном списке операции, которые должны учитываться при подсчете ВВП, и запишите цифры, под которыми они указаны.

- 1) оплата труда домохозяйки

- 2) покупка нового компьютера
- 3) подарок внуку от бабушки
- 4) пенсия шахтера
- 5) оплата коммунальных платежей

21. Найдите в списке неценовые факторы спроса и запишите цифры, под которыми они указаны.

- 1) цены на сопряженные товары
- 2) количество продавцов на рынке
- 3) уровень доходов потребителей
- 4) предписания моды
- 5) ставки налогов на производителя
- 6) импортные таможенные пошлины

22. Найдите в списке доходы, учитываемые при исчислении Валового внутреннего продукта (ВВП), и запишите цифры, под которыми они указаны.

- 1) доходы от продажи печенья в частной кондитерской
- 2) доходы от перепродажи подержанного планшетника
- 3) доходы, полученные от сдачи металлолома
- 4) доходы от продажи партии новых компьютеров
- 5) доходы, вырученные от продажи овощей, выращенных фермером
- 6) доходы от реализации партии контрафактного товара

23. Найдите в приведённом списке факторы ускорения экономического роста в условиях рынка и запишите цифры, под которыми они указаны.

- 1) прогресс науки и техники
- 2) рост числа безработных
- 3) отток инвестиций из производственной сферы
- 4) административное регулирование экономики
- 5) рост образовательного уровня работников
- 6) увеличение масштабов производства

24. Найдите в приведённом ниже списке примеры, иллюстрирующие экстенсивные факторы экономического роста. Запишите цифры, под которыми они указаны.

- 1) расширение таксомоторного парка
- 2) повышение квалификации работников здравоохранения
- 3) создание автоматизированной системы обработки телефонных вызовов
- 4) внедрение энергосберегающих технологий
- 5) введение в строй дополнительной сборочной линии на заводе
- 6) увеличение добычи нефти

25. В городе N сотовую связь предоставляет только одна компания. Выберите из приведённого ниже списка характеристики данного рынка и запишите цифры, под которыми они указаны.

- 1) рынок средств производства
- 2) монополия
- 3) местный рынок
- 4) рынок услуг
- 5) олигополистический рынок
- 6) фондовый рынок

26. Найдите в приведённом ниже списке факторы, влияющие на повышение спроса на потребительские товары. Запишите цифры, под которыми они указаны.

- 1) рост цен на товары
- 2) повышение налога на добавленную стоимость
- 3) снижение производства товаров
- 4) интенсивная реклама товаров
- 5) доступность потребительских кредитов
- 6) увеличение доходов семей

27. Найдите в приведённом ниже списке факторы интенсивного экономического роста. Запишите цифры, под которыми они указаны.

- 1) освоение целинных и залежных земель
- 2) повышение квалификации работников
- 3) внедрение новых технологий
- 4) увеличение капиталовложений
- 5) привлечение дополнительной рабочей силы
- 6) рациональное распределение ресурсов

28. Найдите в приведённом ниже списке факторы экстенсивного экономического роста. Запишите цифры, под которыми они указаны.

- 1) освоение целинных и залежных земель
- 2) повышение квалификации работников
- 3) внедрение новых технологий
- 4) увеличение капиталовложений
- 5) привлечение дополнительно рабочих
- 6) рациональное распределение ресурсов

29. В структуре экономики страны Z в равной мере представлены промышленность и сельское хозяйство. Какие признаки позволяют сделать вывод о том, что в стране Z командная (плановая) экономика? Запишите цифры, под которыми они указаны.

- 1) преобладание интенсивных факторов экономического роста
- 2) директивное ценообразование
- 3) государственная собственность на большинство средств производства
- 4) развитая инфраструктура
- 5) необходимость решать проблему ограниченности ресурсов
- 6) централизованное управление экономикой

30. Выберите верные суждения о характере рыночных отношений и видах рынков и запишите цифры, под которыми они указаны.

- 1) Конкуренция производителей способствует улучшению качества товаров.
- 2) Монополизация рынка ведет к снижению цен на товары и услуги.
- 3) Рынок свободной конкуренции отличает легкий вход на него для предприятий и сложный выход.
- 4) Рыночной конкуренции свойственна конкуренция потребителей.
- 5) В условиях олигополии возможен контроль за ценой при тайном сговоре.

31. Выберите верные суждения о потребителе в условиях рыночной экономики и запишите цифры, под которыми они указаны.

- 1) Потребитель в условиях рыночной экономики заинтересован в централизованном планировании производства.
- 2) В условиях рыночной экономики потребитель выигрывает при устранении монополизации экономики.
- 3) Потребителю в условиях рыночной экономики выгодно установление ввозных пошлин.
- 4) Потребитель заинтересован в сохранении рыночной конкуренции.
- 5) В условиях рыночной экономики потребителю выгодно повышение налогов на производителя.

32. Выберите верные суждения об основах рыночной экономики и запишите цифры, под которыми они указаны.

- 1) Рыночная экономика базируется на государственной собственности на средства производства.
- 2) Равновесная рыночная цена — это цена согласия продавца и покупателя.
- 3) В условиях рыночной экономики конкурируют производители.
- 4) Обострение конкуренции в условиях рынка ведет к росту цен на товары и услуги.
- 5) Закон спроса проявляет себя в том, что с ростом цены на товар растет его предложение.

33. Выберите верные суждения об условиях возникновения рыночной экономики и запишите цифры, под которыми они указаны.

- 1) Регулярность обмена.
- 2) Переход к парламентской демократии.
- 3) Распространение научного мировоззрения.
- 4) Углубление общественного разделения труда.
- 5) Появление норм права.

34. Выберите верные суждения об экономическом росте и развитии и запишите цифры, под которыми они указаны.

- 1) Под экономическим ростом понимается увеличение количества денег в обороте.
- 2) Одним из показателей экономического роста является прирост реального валового внутреннего продукта.
- 3) С переходом к постиндустриальному обществу приоритетным становится производство товаров, а не услуг.
- 4) Экстенсивный экономический рост достигается за счет развития техники.
- 5) Интенсивный экономический рост связан с подъемом производительности труда.

35. Выберите верные суждения о конкуренции и запишите цифры, под которыми они указаны.

- 1) Конкуренция между производителями выступает регулятором хозяйства во всех экономических системах.
- 2) В условиях рынка конкуренция ведет к снижению издержек производства.
- 3) Одним из последствий конкуренции является разорение части производителей.
- 4) Главным видом конкуренции в условиях рынка является конкуренция потребителей за лучшие товары и услуги.
- 5) Конкуренция стимулирует рост производительности труда.

36. Выберите верные суждения об экономике как науке и запишите цифры, под которыми они указаны.

- 1) Одним из предметов изучения макроэкономики являются проблемы взаимодействия потребителей и производителей в условиях рынка.
- 2) Микроэкономика изучает роль государства в регулировании экономики.
- 3) Экономика как наука изучает способы хозяйствования, отношения между хозяйствующими субъектами.
- 4) Ученые изучают как общие закономерности функционирования экономики, так и локальные проблемы ведения рыночного хозяйства.
- 5) Экономика как наука зародилась в античные времена.

37. Выберите верные суждения об экономике как науке и запишите цифры, под которыми они указаны.

- 1) Экономику как науку иллюстрирует изучение способов использования ограниченных ресурсов.
- 2) Экономику как науку иллюстрирует производство товаров пищевой промышленности.
- 3) Экономика выступает как наука в процессе внедрения новых технологий в сельское хозяйство.



4) Экономика как наука включает совокупность знаний о хозяйстве и связанной с ним деятельности людей.

5) Экономика как наука включает материальное и нематериальное производство.

38. Выберите верные суждения о признаках рыночной экономической системы и запишите цифры, под которыми они указаны.

1) Свобода предпринимательства относится к признакам рыночной экономической системы.

2) Рыночную систему характеризует директивное установление цен.

3) Один из признаков рыночной системы — централизованное планирование.

4) Рыночную систему характеризует развитие частной собственности и товарно-денежных отношений.

5) Рыночную систему отличает от других экономических систем наличие общественной собственности.

39. Выберите верные суждения об экономическом росте и запишите цифры, под которыми они указаны.

1) Рост ВВП всегда свидетельствует об экономическом росте в стране.

2) Доступность природных ресурсов более высокого качества является и условием, и показателем экстенсивного экономического роста.

3) Необходимость привлечения дополнительных работников свидетельствует об экстенсивном экономическом росте.

4) Научная организация труда — показатель интенсивного экономического роста.

5) Об интенсивном экономическом росте можно судить по совершенствованию профессионального мастерства работников.

40. Выберите верные суждения о валовом внутреннем продукте (ВВП) и запишите цифры, под которыми они указаны.

1) ВВП — это совокупность экономических ресурсов, включающая ключевые производственные факторы.

2) ВВП отражает общественную потребность в определённом количестве товаров и услуг, необходимых для нормального жизнеобеспечения населения.

3) ВВП характеризует общий объём производства.

4) ВВП — это совокупная рыночная стоимость всех конечных продуктов, произведённых в экономике (внутри страны) в течение одного года.

5) ВВП — это система социально-экономических и юридических отношений, обеспечивающих непрерывный процесс воспроизводства рабочей силы.

41. Страна Z переживает сложный период в экономике. Какие факты свидетельствуют о том, что в стране наблюдается экономический спад? Запишите цифры, под которыми они указаны.

1) В стране наблюдается высокий уровень занятости населения.

2) Банки сокращают кредитование потребителей.

3) В производстве наблюдается снижение производственных мощностей.

4) Наблюдается устойчивый рост ВВП.

5) Качество жизни населения показывает самый высокий уровень за последнее десятилетие.

42. Выберите верные суждения об экономическом развитии и запишите цифры, под которыми они указаны.

1) На экономическое развитие страны оказывают влияние исторические и географические условия её существования.

2) Для экономического развития разных стран не существует единых закономерностей.

3) Одним из показателей экономического развития общества является отраслевая структура экономики.

4) Для экономического развития характерны как положительная динамика экономики, так и отрицательная.

5) Объём ВВП на душу населения характеризует экономический потенциал страны.

43. Выберите верные суждения об экономическом росте и запишите цифры, под которыми они указаны.

- 1) Экономическим ростом называют увеличение год от года производственных возможностей страны.
- 2) К экстенсивным факторам экономического роста относят повышение квалификации работников.
- 3) На темпы экономического роста влияет количество и качество трудовых ресурсов.
- 4) Экономический рост зависит от эффективности технологий и управления.
- 5) Интенсивный тип экономического роста обеспечивается увеличением количества используемых факторов производства.

44. Выберите верные суждения об измерителях экономического роста и запишите цифры, под которыми они указаны.

- 1) К измерителям экономического роста относят ВВП, ВНП, национальный доход.
- 2) ВВП называют количество продукции, приходящееся на каждую денежную единицу, вложенную в основные фонды.
- 3) Правительство может планировать рост ВВП и проводить экономическую политику, обеспечивающую этот рост.
- 4) Стабильный рост ВВП свидетельствует о развитии экономики, улучшении благосостояния граждан страны.
- 5) ВВП рассчитывается только на душу населения.

45. Выберите верные суждения об экономическом росте и запишите цифры, под которыми они указаны.

- 1) Экстенсивный экономический рост обеспечивается за счёт более рационального использования прежнего объёма ресурсов.
- 2) Экономическому росту способствует увеличение до определённого предела масштабов производства, позволяющее экономить ресурсы и наращивать объёмы выпуска продукции.
- 3) К интенсивным факторам экономического роста относят увеличение физического капитала фирм.
- 4) Интенсивным фактором роста и развития современной экономики является высококачественный человеческий капитал.
- 5) Стабильный экономический рост возможен за счёт повсеместного внедрения инноваций.

46. Выберите верные суждения о факторах производства и факторных доходах и запишите цифры, под которыми они указаны.

- 1) Предпринимательскими способностями называют особые способности человека правильно оценить спрос, скоординировать использование ресурсов и принять на себя риск потери вложенных в дело средств.
- 2) Доход от информации как фактора производства называют рентой.
- 3) Все виды ресурсов, имеющихся на планете и пригодных для производства экономических благ, определяют содержание такого фактора производства, как земля.
- 4) Доход от труда как фактора производства — заработная плата работника.
- 5) Земля как фактор производства приносит своему владельцу доход в виде заработной платы.

47. Выберите верные суждения об отличительных чертах рыночной экономики и запишите цифры, под которыми они указаны.

- 1) Частная собственность выступает основой командной (плановой) экономики.
- 2) В условиях традиционной экономики основные вопросы экономики решаются центральными государственными органами.
- 3) Основными субъектами рыночных отношений являются экономически независимые участники хозяйственной жизни.
- 4) Стимулом деятельности предприятий в условиях рыночной системы является прибыль.
- 5) К признакам рыночной экономики относят свободное ценообразование.

48. Выберите верные суждения о конкуренции и запишите цифры, под которыми они указаны.

- 1) Под конкуренцией понимается сотрудничество между участниками рыночного хозяйства для объединения усилий по улучшению условий производства и купли-продажи.
- 2) Конкуренция ограничивает возможность создания монополий.
- 3) Конкуренция способствует стремлению производителей к удешевлению производства и внедрению более рациональных методов хозяйствования.
- 4) Конкуренция способствует снижению расходов на рекламу.
- 5) Конкуренция создаёт возможность выбора для потребителя.

49. Выберите верные суждения о функциях экономики как науки и запишите цифры, под которыми они указаны.

- 1) Изучение хозяйственной деятельности семьи, фирмы как субъектов экономических отношений является предметом микроэкономики.
- 2) Построение графической модели прогноза темпов экономического роста на долгосрочную перспективу иллюстрирует познавательную-объяснительную функцию экономической науки.
- 3) Взаимодействие экономических систем на мировом уровне изучает макроэкономика.
- 4) Структурная реформа промышленности, основанная на результатах исследований перспективных тенденций мирового экономического развития, иллюстрирует реализацию производственно-преобразующей функции экономики как науки.
- 5) Экономика — это наука, которая исследует, как люди используют ограниченные ресурсы для удовлетворения своих потребностей в жизненных благах.

50. Выберите верные суждения об экономических кризисах и запишите цифры, под которыми они указаны.

- 1) Экономический кризис является неотъемлемой частью экономического цикла.
- 2) Экономические кризисы характерны для всех типов экономик.
- 3) Экономический кризис характеризуется резким падением объёмов производства.
- 4) Экономический кризис всегда характеризуется ростом безработицы и падением реальных доходов населения.
- 5) Экономический кризис всегда характеризуется высокой инфляцией.

Классификация путём установления соответствия.

51. Как известно, при подсчете ВВП по методу расходов учитываются расходы потребителей, расходы фирм (инвестиции) и расходы государства, а также чистый экспорт (разность между экспортом и импортом). Установите соответствие между видами расходов и приведенными ниже ситуациями: к каждой позиции, данной в первом столбце, подберите соответствующую позицию из второго столбца.

СИТУАЦИЯ	ВИДЫ РАСХОДОВ
А) Семья получает пособие на рождение ребенка	1) расходы потребителей
Б) Жильцы платят коммунальные платежи	2) инвестиции
В) Муниципалитет строит новый стадион	3) расходы государства
Г) Семья покупает бытовую технику	4) не учитывается при подсчете
Д) Завод покупает новые станки	ВВП

52. Установите соответствие между признаками и типами экономических систем: к каждой позиции, данной в первом столбце, подберите соответствующую позицию из второго столбца.

ПРИЗНАКИ	ТИПЫ ЭКОНОМИЧЕСКИХ СИСТЕМ
А) конкуренция производителей	1) рыночная
Б) централизованное распределение	2) командная
В) директивное ценообразование	

- Г) свобода предпринимательства
- Д) саморегуляция спроса и предложения

53. Установите соответствие между примерами и типами экономических систем: к каждой позиции, данной в первом столбце, подберите соответствующую позицию из второго столбца.

ПРИМЕРЫ	ТИПЫ ЭКОНОМИЧЕСКИХ СИСТЕМ
А) основа экономики страны Z — сельское хозяйство, земля принадлежит родовым общинам и ими обрабатывается	1) командная
Б) в стране А государство централизованно распределяет факторы производства и устанавливает цены товаров и услуг	2) традиционная
В) в стране F производители соревнуются за наиболее выгодные условия производства и продажи товаров	3) рыночная
Г) в стране С в условиях свободы предпринимательства у потребителей есть широчайший выбор товаров и услуг	
Д) единственным производителем и продавцом товаров и услуг в стране G является государство, частное предпринимательство находится под запретом	

54. Установите соответствие между типами экономического роста и конкретными примерами, их иллюстрирующими: к каждой позиции первого столбца подберите соответствующую позицию из второго столбца.

ПРИМЕРЫ	ТИПЫ ЭКОНО- МИЧЕСКОГО РОСТА
А) Чаепроизводящая фирма наняла дополнительное количество женщин для сбора чайных листьев на своих плантациях	1) экстенсивный
Б) Нефтедобывающая компания начала освоение нового месторождения нефти, истощив старое	2) интенсивный
В) Овощеводческая ферма в летний период времени наняла на временную работу студентов и учащихся для сбора огурцов и кабачков	
Г) Японская фирма модернизировала линию по сборке автомобилей	
Д) За счет использования инновационных технологий на предприятии существенно возросла производительность труда	

55. Установите соответствие между необходимыми условиями функционирования экономической системы и её типами: к каждой позиции, данной в первом столбце, подберите соответствующую позицию из второго столбца.

НЕОБХОДИМЫЕ УСЛОВИЯ ФУНКЦИОНИРОВАНИЯ	ТИПЫ ЭКОНОМИЧЕ- СКОМ СИСТЕМЫ
А) преобладание (господство) государственной собственности	1) командно административная
Б) свободное ценообразование	2) рыночная
В) контроль государства за производством и распределением	
Г) экономическая самостоятельность производителей	
Д) конкуренция производителей	

Е) централизованное планирование  
производства

56. Установите соответствие между типами рынков и их признаками: к каждой позиции, данной в первом столбце, подберите соответствующую позицию из второго столбца.

ПРИЗНАКИ	ТИПЫ РЫНКОВ
А) контроль за ценой отсутствует	1) монополю- ный
Б) представлено множество фирм	2) конкурентный
В) производится уникальный продукт, не имеющий хоро- ших заменителей	
Г) существуют препятствия для вступления в рынок	
Д) количество выпускаемой на рынок продукции контролируется	

57. Установите соответствие между типами экономических систем и их признаками: к каждой позиции, данной в первом столбце, подберите соответствующую позицию из второго столбца.

ПРИЗНАКИ ЭКОНОМИЧЕСКИХ СИСТЕМ	ТИПЫ ЭКОНОМИЧЕ- СКИХ СИСТЕМ
А) экономические пропорции устанавливаются на ос- нове централизованного планирования	1) командная экономика
Б) экономические потребности населения устойчивы и зависят от социальной принадлежности	2) традиционная эконо- мика
В) решения по основным экономическим вопросам принимает государство	
Г) производственные технологии не меняются дли- тельное время	
Д) цены устанавливаются государством	

58. Установите соответствие между частями экономической науки и изучаемыми проблемами: к каждой позиции, данной в первом столбце, подберите соответствующую позицию из второго столбца.

ИЗУЧАЕМЫЕ ПРОБЛЕМЫ	ЧАСТИ ЭКОНОМИЧЕ- СКОЙ НАУКИ
А) безработица	1) макроэкономика
Б) взаимодействие потребителей и производите- лей на рынке товаров и услуг	2) микроэкономика
В) экономический рост	
Г) роль государства в экономике	
Д) экономические отношения между потребителями	

59. Установите соответствие между видом экономической системы и ее признаками: к каждой позиции, данной в первом столбце, подберите соответствующую позицию из второго столбца.

ПРИЗНАКИ	ЭКОНОМИЧЕСКАЯ СИСТЕМА
А) производство определяют обычаи	1) рыночная
Б) примитивные технологии	2) традиционная
В) основная цель — получение прибыли	
Г) свободное ценообразование	
Д) товарное производство	

60. Установите соответствие между видом экономической системы и ее признаками: к каждой позиции, данной в первом столбце, подберите соответствующую позицию из второго столбца.

## ПРИЗНАКИ

- А) цикличность развития
- Б) свобода производителя
- В) директивное ценообразование
- Г) конкуренция
- Д) государственная собственность на ресурсы

## ЭКОНОМИЧЕСКАЯ СИСТЕМА

- 1) рыночная
- 2) плановая

61. Установите соответствие между характеристиками и факторами производства: к каждой позиции, данной в первом столбце, подберите соответствующую позицию из второго столбца.

## ХАРАКТЕРИСТИКИ

- А) условное название всех видов природных ресурсов, пригодных для производства экономических благ
- Б) созданные человеком средства производства
- В) объём денежной массы, которой располагают субъекты экономики
- Г) непосредственное использование физических и умственных способностей людей в процессе создания экономических благ
- Д) факторный доход — заработная плата работника

## ФАКТОРЫ ПРОИЗВОДСТВА

- 1) земля
- 2) труд
- 3) капитал

62. Установите соответствие между характеристиками и факторами производства: к каждой позиции, данной в первом столбце, подберите соответствующую позицию из второго столбца.

## ХАРАКТЕРИСТИКИ

- А) инициативная новаторская деятельность, благодаря которой происходит соединение всех факторов производства
- Б) факторный доход - рента
- В) условное название всех видов природных ресурсов, пригодных для производства жизненных благ
- Г) здания, сооружения, оборудование
- Д) денежные средства

## ФАКТОРЫ ПРОИЗВОДСТВА

- 1) земля
- 2) капитал
- 3) предпринимательство (предпринимательские способности)

63. Установите соответствие между примерами и факторами экономического роста, которые они иллюстрируют: к каждой позиции, данной в первом столбце, подберите соответствующую позицию из второго столбца.

## ПРИМЕРЫ

- А) увеличение численности обслуживающего персонала
- Б) переобучение работников предприятия
- В) строительство новых электростанций
- Г) замена устаревшей техники на более

## ФАКТОРЫ ЭКОНОМИЧЕСКОГО РОСТА

- 1) интенсивные
- 2) экстенсивные

современную

Д) расширение посевных площадей

64. Установите соответствие между примерами и типами конкуренции: к каждой позиции, данной в первом столбце, подберите соответствующую позицию из второго столбца.

ПРИМЕР	ТИПЫ КОНКУРЕНЦИИ
А) Услуги телефонной связи в стране Z осуществляют две конкурирующие компании, кроме того представлены несколько мелких фирм.	1) чистая конкуренция
Б) На сельскохозяйственном рынке городка N представлена продукция местных фермерских и индивидуальных хозяйств.	2) олигополия
В) В городе P большую популярность имеют многочисленные фирмы, оказывающие услуги по мелкому бытовому ремонту.	3) чистая монополия
Г) Компания «Соль и море» является единственным поставщиком поваренной соли для продуктовых магазинов региона.	
Д) Компания «Цифровой мир» вывела на рынок города B сигнализацию с функцией смс-оповещения владельца. Через непродолжительное время другие производители сигнализации ушли с рынка города.	

65. Установите соответствие между примерами и факторами экономического роста: к каждой позиции, данной в первом столбце, подберите соответствующую позицию из второго столбца.

ПРИМЕР	ФАКТОРЫ ЭКОНОМИЧЕСКОГО РОСТА
А) увеличение численности работников на предприятии	1) интенсивные факторы роста
Б) повышение уровня организации труда на производстве	2) экстенсивные факторы роста
В) внедрение в производство инновационных технологий	
Г) повышение уровня квалификации работников предприятия	
Д) увеличение объема финансирования	

66. Установите соответствие между факторами и типами экономического роста: к каждой позиции, данной в первом столбце, подберите соответствующую позицию из второго столбца.

ФАКТОРЫ	ТИПЫ ЭКОНОМИЧЕСКОГО РОСТА
А) внедрение новых технологий	1) интенсивный
Б) переподготовка работников	2) экстенсивный
В) увеличение площади предприятий	
Г) увеличение численности обслуживающего персонала	
Д) дополнительное капиталовложение в приобретение сырья	

67. Установите соответствие между примерами и факторами экономического роста, которые они иллюстрируют: к каждой позиции, данной в первом столбце, подберите соответствующую позицию из второго столбца.

ПРИМЕРЫ

- А) строительство новых предприятий
- Б) замена устаревшей техники более современной
- В) увеличение численности обслуживающего персонала
- Г) переобучение работников
- Д) расширение посевных площадей

ФАКТОРЫ  
ЭКОНОМИЧЕСКОГО  
РОСТА

- 1) интенсивные
- 2) экстенсивные

68. Установите соответствие между примерами и факторами экономического роста, которые они иллюстрируют: к каждой позиции, данной в первом столбце, подберите соответствующую позицию из второго столбца.

ПРИМЕРЫ

- А) замена морально устаревшего производственного оборудования более современным
- Б) повышение производительности труда
- В) расширение цехов, строительство новых предприятий
- Г) увеличение числа работников
- Д) привлечение дополнительных ресурсов

ФАКТОРЫ  
ЭКОНОМИЧЕСКОГО  
РОСТА

- 1) интенсивные
- 2) экстенсивные

69. Установите соответствие между примерами и смыслами понятия «экономика»: к каждой позиции, данной в первом столбце, подберите соответствующую позицию из второго столбца.

ПРИМЕРЫ

- А) дискуссия специалистов о путях проведения экономической реформы
- Б) покупка товара в магазине
- В) разработка планов развития национальной экономики
- Г) открытие сети химчисток
- Д) выплата налогов фирмой

СМЫСЛЫ ПОНЯТИЯ  
«ЭКОНОМИКА»

- 1) экономика как наука
- 2) экономика как хозяйство

70. Установите соответствие между примерами и факторами экономического роста, которые они иллюстрируют: к каждой позиции, данной в первом столбце, подберите соответствующую позицию из второго столбца.

ПРИМЕРЫ

- А) открытие новых добывающих предприятий
- Б) набор дополнительного персонала
- В) строительство новых, более просторных цехов предприятия
- Г) замена производственной техники более современной

ФАКТОРЫ  
ЭКОНОМИЧЕСКОГО  
РОСТА

- 1) экстенсивные
- 2) интенсивные



Д) повышение квалификации работников

71. Установите соответствие между примерами и типами экономического роста к каждой позиции, данной в первом столбце, подберите соответствующую позицию из второго столбца.

ПРИМЕР РОСТА	ТИП РОСТА
А) увеличение объёма выпускаемой продукции за счёт привлечения дополнительной рабочей силы	1) интенсивный рост
Б) рост ВВП за счёт увеличения добычи и экспорта сырья	2) экстенсивный рост
В) увеличение объёма выпускаемой продукции за счёт повышения квалификации работников	
Г) увеличение производства сельскохозяйственной продукции за счёт ввода в оборот ранее неиспользуемых земель	
Д) увеличение объёма продаж за счёт внедрения новых технологий по транспортировке и хранению	

72. Установите соответствие между примерами и видами факторов производства: к каждой позиции, данной в первом столбце, подберите соответствующую позицию из второго столбца.

ПРИМЕР	ФАКТОР ПРОИЗВОДСТВА
А) водные ресурсы озера Байкал	1) земля
Б) производственное помещение завода «Электросила»	2) капитал
В) акции агрофирм	
Г) участок, пригодный для распашки, принадлежащий фермерскому хозяйству	
Д) экскаватор, задействованный на строительстве новой станции Московского метрополитена	

73. Установите соответствие между объектами изучения экономической науки и её разделами.

ОБЪЕКТ ИЗУЧЕНИЯ	РАЗДЕЛ
А) динамика валового внутреннего продукта	1)
Б) поведение потребителей отдельных товаров и услуг	микроэкономика
В) условия успешности бизнеса в определённых сферах	2)
Г) изменение курсов валют	макроэкономика
Д) причины экономических кризисов	

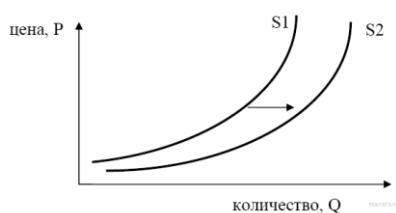
74. Установите соответствие между факторами спроса и предложения и их примерами: к каждой позиции, данной в первом столбце, подберите соответствующую позицию из второго столбца.

ПРИМЕР	ФАКТОР
А) уровень доходов населения	1) фактор спроса
Б) цены на сырьё	2) фактор предложения
В) технология производства	
Г) потребительские предпочтения	

Д) число продавцов на рынке

Задания на анализ графической информации

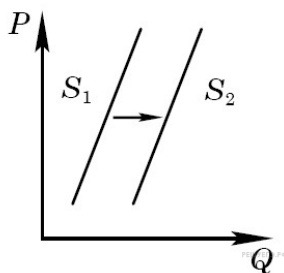
75.



На графике изображено изменение предложения роликовых коньков на потребительском рынке. Что из приведённого ниже могло вызвать сдвиг кривой предложения из положения  $S_1$  в положение  $S_2$ ? (на графике по вертикали — цена товара, по горизонтали — количество товара).

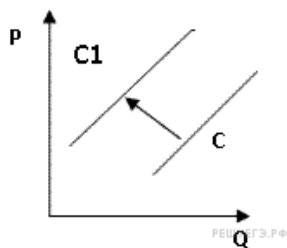
- 1) сокращение количества фирм, производящих роликовые коньки
- 2) внедрение новых технологий производства роликовых коньков
- 3) рост цен на комплектующие изделия для роликовых коньков
- 4) рост тарифов на электроэнергию
- 5) снижение налогов на комплектующие изделия для роликовых коньков

76.



На графике изображено изменение предложения роликовых коньков на потребительском рынке. Что из приведённого ниже могло вызвать сдвиг кривой предложения из положения  $S_1$  в положение  $S_2$  (на графике  $P$  — цена товара,  $Q$  — количество товара)?

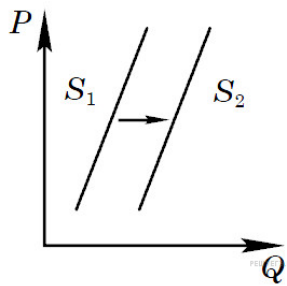
- 1) сокращение количества фирм, производящих роликовые коньки
- 2) внедрение новых технологий производства роликовых коньков
- 3) рост цен на комплектующие изделия для роликовых коньков
- 4) рост тарифов на электроэнергию



77. На рисунке отражена ситуация на рынке рыбы и морепродуктов: линия предложения  $C$  переместилась в положение  $C_1$  ( $P$  — цена товара,  $Q$  — объем предложения товара). Это перемещение может быть связано, прежде всего, с (со)

- 1) существенным ростом доходов населения
- 2) сокращением субсидирования государством отечественных рыболовных компаний
- 3) повышением импортных пошлин на ввоз морепродуктов и рыбы
- 4) увеличением количества продавцов рыбы и морепродуктов
- 5) спуском на воду новых траулеров для рыболовного флота страны

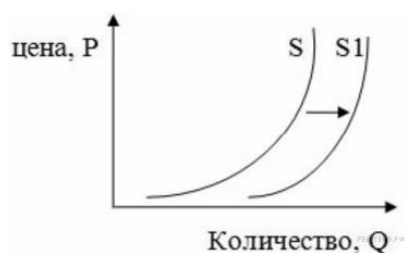
78.



На графике изображено изменение предложения роликовых коньков на потребительском рынке. Что из приведённого ниже могло вызвать сдвиг кривой предложения из положения  $S_1$  в положение  $S_2$  (на графике  $P$  — цена товара,  $Q$  — количество товара)?

- 1) сокращение количества фирм, производящих роликовые коньки
- 2) внедрение новых технологий производства роликовых коньков
- 3) рост цен на комплектующие изделия для роликовых коньков
- 4) рост тарифов на электроэнергию
- 5) снижение налогов на производителей спортивного инвентаря

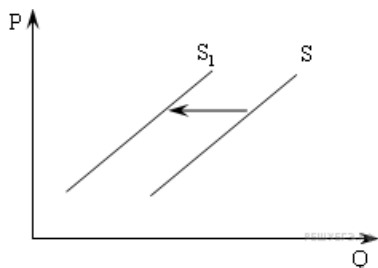
79.



На рисунке изображена ситуация на рынке цветов: линия предложения  $S$  переместилась в новое положение  $S_1$  ( $P$  — цена цветка,  $Q$  — количество предлагаемых цветов). Это перемещение может быть связано в первую очередь с

- 1) снижением тарифов на электричество
- 2) снижением доходов населения
- 3) увеличением налогов на производителей
- 4) вводом в эксплуатацию цветочной теплицы
- 5) увеличением тарифов на электричество

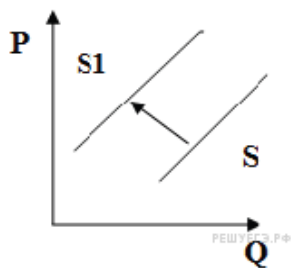
80.



На рисунке отражена ситуация на рынке рыбы и морепродуктов: линия предложения  $S$  переместилась в новое положение  $S_1$  ( $P$  — цена товара,  $Q$  — объём предложения товара). Это перемещение может быть связано, прежде всего, с (со).

- 1) существенным ростом доходов населения
- 2) спуском на воду новых траулеров для рыболовного флота страны
- 3) повышением импортных пошлин на ввоз морепродуктов и рыбы
- 4) увеличением количества продавцов рыбы и морепродуктов
- 5) уменьшением количества продавцов рыбы и морепродуктов

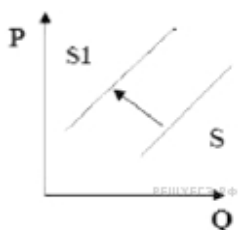
81.



На рисунке отражена ситуация на рынке элитной недвижимости: линия предложения  $S$  переместилась в новое положение  $S_1$  ( $P$  — цена товара,  $Q$  — объём предложения). Это перемещение может быть связано прежде всего с (со)

- 1) существенным ростом доходов населения
- 2) возрастанием требований заказчика к строительству жилья бизнес-класса
- 3) снижением цен на строительные материалы
- 4) увеличением налогов на строительство домов
- 5) предоставлением субсидий на покупку жилья военнослужащим

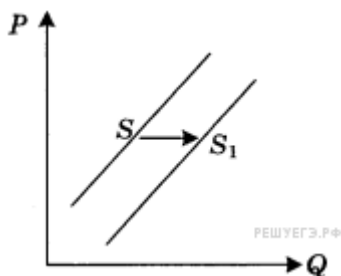
82.



На рисунке отражена ситуация на рынке элитной кожгалантереи: линия предложения  $S$  переместилась в новое положение  $S_1$  ( $P$  — цена товара,  $Q$  — объём предложения). Это перемещение может быть связано прежде всего с (со)

- 1) резким повышением цен на кожсырье
- 2) снижением стоимости кожаных изделий ручной работы
- 3) повышением импортных пошлин на престижные коллекции брендовых сумок
- 4) совершенствованием технологий изготовления сумок и кошельков
- 5) существенным ростом доходов населения

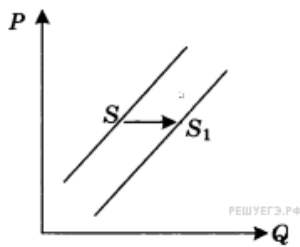
83.



На графике отражена ситуация на рынке парикмахерских услуг: линия предложения  $S$  переместилась в новое положение  $S_1$  ( $P$  — цена товара,  $Q$  — количество товара). Какие из перечисленных факторов могут вызвать такое изменение? Запишите цифры, под которыми они указаны.

- 1) расширение сети парикмахерских
- 2) новые модные веяния в стилях причесок
- 3) снижение налогов с предприятий малого бизнеса
- 4) использование новых средств по уходу за волосами
- 5) изменение ставки подоходного налога

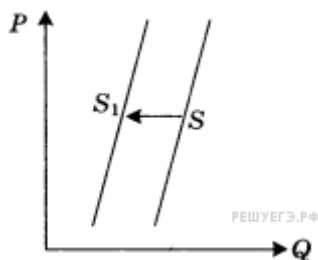
84.



На графике отражена ситуация на рынке бытовой техники: линия предложения  $S$  переместилась в новое положение —  $S_1$  ( $P$  — цена товара,  $Q$  — количество товара). Какие из перечисленных факторов могут вызвать такое изменение? Запишите цифры, под которыми они указаны.

- 1) увеличение доходов потребителей бытовой техники
- 2) широкая реклама в СМИ бытовой техники новых марок
- 3) применение технологий, сокращающих издержки производства
- 4) ожидание роста потребительских цен
- 5) выход на рынок нового крупного производителя бытовой техники

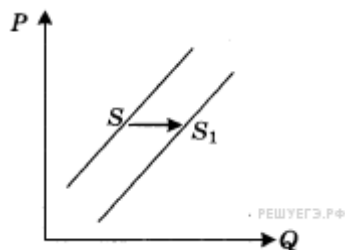
85.



На графике отражена ситуация на рынке обуви: линия предложения  $S$  переместилась в новое положение  $S_1$  ( $P$  — цена товара,  $Q$  — количество товара). Какие из перечисленных факторов могут вызвать такое изменение? Запишите цифры, под которыми они указаны.

- 1) обострение конкуренции между производителями
- 2) вступление экономики в фазу подъема
- 3) рост цен на используемое сырье и фурнитуру
- 4) ослабление рекламной кампании по продвижению новых моделей
- 5) увеличение транспортных расходов по доставке товара в магазины

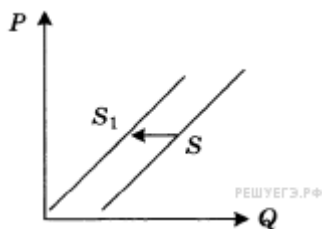
86.



На графике отражена ситуация на рынке бытовой техники: линия предложения  $S$  переместилась в новое положение  $S_1$  ( $P$  — цена товара,  $Q$  — количество товара). Какие из перечисленных факторов могут вызвать такое изменение? Запишите цифры, под которыми они указаны.

- 1) увеличение доходов потребителей бытовой техники
- 2) широкая реклама в СМИ бытовой техники новых марок
- 3) применение технологий, сокращающих издержки производства
- 4) ожидание роста потребительских цен
- 5) выход на рынок нового крупного производителя бытовой техники

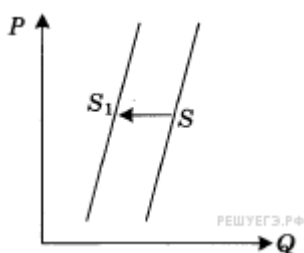
87.



На графике отражена ситуация на рынке ремонтно-строительных услуг: линия предложения  $S$  переместилась в новое положение  $S_1$  ( $P$  — цена товара,  $Q$  — количество товара). Какие из перечисленных факторов могут вызвать такое изменение? Запишите цифры, под которыми они указаны.

- 1) выдача льготных кредитов организациям, занимающимся строительством и ремонтом
- 2) увеличение доходов потребителей услуг рынка
- 3) развитие рынка жилищного строительства
- 4) рост налогов, уплачиваемых ремонтно-строительными организациями
- 5) повышение цен на строительные материалы

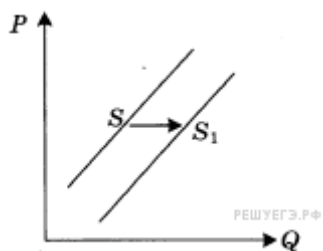
88.



На графике отражена ситуация на рынке обуви: линия предложения  $S$  переместилась в новое положение  $S_1$  ( $P$  — цена товара,  $Q$  — количество товара). Какие из перечисленных факторов могут вызвать такое изменение? Запишите цифры, под которыми они указаны.

- 1) обострение конкуренции между производителями
- 2) вступление экономики в фазу подъема
- 3) рост цен на используемое сырье и фурнитуру
- 4) ослабление рекламной кампании по продвижению новых моделей
- 5) увеличение транспортных расходов по доставке товара в магазины

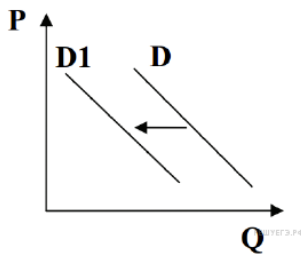
89.



На графике отражена ситуация на рынке парикмахерских услуг: линия предложения  $S$  переместилась в новое положение —  $S_1$  ( $P$  — цена товара,  $Q$  — количество товара). Какие из перечисленных факторов могут вызвать такое изменение? Запишите цифры, под которыми они указаны.

- 1) расширение сети парикмахерских
- 2) новые модные веяния в стилях причесок
- 3) снижение налогов с предприятий малого бизнеса
- 4) использование новых средств по уходу за волосами
- 5) изменение ставки подоходного налога

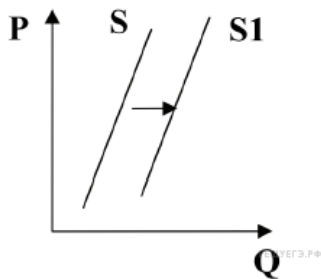
90.



На графике отражена ситуация на рынке вторичного жилья (на графике  $P$  — цена,  $Q$  — количество). Проанализируйте изменение спроса (линия спроса  $D$  переместилась в положение  $D1$ ). Какие из перечисленных факторов могут вызвать такое изменение? Запишите цифры в порядке возрастания, под которыми они указаны.

- 1) Рост денежных доходов населения.
- 2) Сокращение количества строительных фирм.
- 3) Активное строительство социального жилья.
- 4) Снижение процентов по ипотечным кредитам на приобретение жилья в новостройках.
- 5) Серия крупных журналистских расследований о махинациях на рынке вторичного жилья.

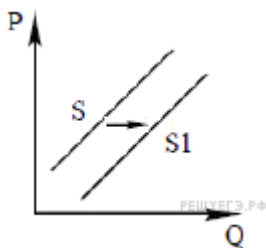
91.



На графике изображено изменение предложения саженцев плодово-ягодных растений на потребительском рынке: кривая предложения переместилась из положения  $S$  в положение  $S1$  (на графике  $P$  — цена товара,  $Q$  — количество товара). Это перемещение может быть связано прежде всего с (со)

- 1) Наступление весеннего сезона
- 2) Рост числа агрофирм
- 3) Увеличение цен на минеральные удобрения
- 4) Увеличение поставок импортных фруктов и ягод на потребительский рынок
- 5) Развитие системы льготного кредитования приусадебных хозяйств

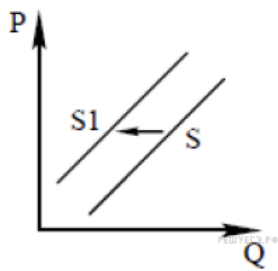
92.



На графике изображено изменение предложения планшетных компьютеров для школьников на потребительском рынке: кривая предложения переместилась из положения  $S$  в положение  $S1$  (на графике  $P$  — цена товара,  $Q$  — количество товара). Какие из перечисленных факторов могут вызвать такое изменение? Запишите цифры, под которыми они указаны.

- 1) рост цен на комплектующие для планшетов
- 2) активное внедрение электронных учебников и электронных учебных пособий для школ.
- 3) рост ввозных пошлин на компьютерную технику
- 4) падение доходов потребителей
- 5) на рынке появилось много новых фирм-производителей программного обеспечения для планшетов

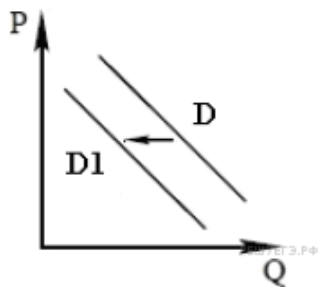
93.



На графике изображено изменение предложения консервированных овощей на потребительском рынке: кривая предложения переместилась из положения  $S$  в положение  $S1$  (на графике  $P$  — цена товара,  $Q$  — количество товара). Какие из перечисленных факторов могут вызвать такое изменение? Запишите цифры, под которыми они указаны.

- 1) рост числа фермерских хозяйств
- 2) активная рекламная кампания одного из производителей
- 3) повышение цен на консерванты
- 4) рост доходов потребителей
- 5) рост цен на соль, перец, уксус и другие консерванты

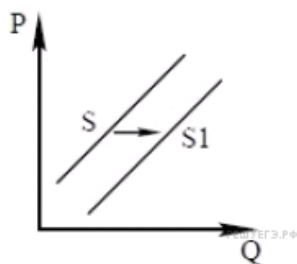
94.



На графике показано изменение спроса на морепродукты на потребительском рынке: кривая спроса переместилась из положения  $D$  в положение  $D1$  (на графике  $P$  — цена товара,  $Q$  — количество товара). Какие из перечисленных факторов могут вызвать такое изменение? Запишите цифры, под которыми они указаны.

- 1) Выросли пошлины на ввоз в страну рыбной продукции.
- 2) Были обнародованы лабораторные исследования, подтвердившие благотворное влияние фосфора на работу мозга.
- 3) В результате инфляции в стране сократились доходы населения.
- 4) Увеличилось количество рыбных ферм.
- 5) Учёные опровергли результативность диеты, основанной на употреблении морепродуктов.

95.

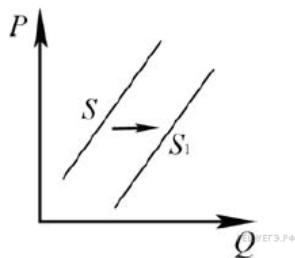


На графике показано изменение предложения йогуртов на потребительском рынке: кривая предложения переместилась из положения  $S$  в положение  $S1$  (на графике  $P$  — цена товара,  $Q$  — количество товара). Какие из перечисленных факторов могут вызвать такое изменение? Запишите цифры, под которыми они указаны.



- 1) В стране Z был увеличен налог на прибыль.
- 2) Выросло число молочных комбинатов.
- 3) Произошло повышение цен на йогурт.
- 4) Снижение поголовья крупного рогатого скота.
- 5) Производители ожидают рост цен на йогурт.

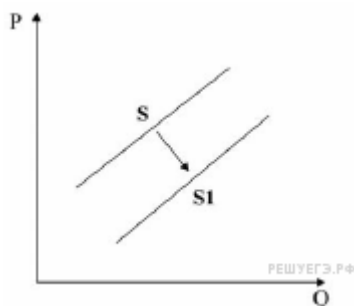
96.



На рисунке отражено изменение предложения молочных продуктов на соответствующем рынке: линия предложения  $S$  переместилась в новое положение —  $S_1$  (на графике  $P$  — цена,  $Q$  — количество). Какие из перечисленных факторов могут вызвать такое изменение? Запишите цифры, под которыми они указаны.

- 1) уменьшение стоимости кормов для коров
- 2) ожидания роста потребления молочной продукции
- 3) банкротство нескольких молочных ферм
- 4) повышение цен на энергоносители
- 5) строительство новых заводов молочной продукции

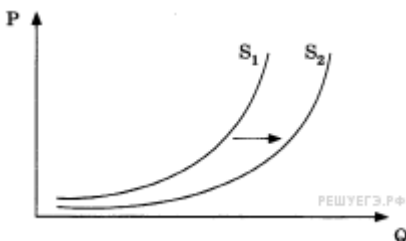
97.



На рисунке отражена ситуация на рынке услуг сотовой связи: линия предложения  $S$  переместилась в новое положение —  $S_1$  (на графике  $P$  — цена товара,  $Q$  — количество товара). Это перемещение может быть связано прежде всего с:

- 1) ростом цен на сотовые телефоны
- 2) снижением цен на услуги проводной связи
- 3) появлением на рынке новых операторов
- 4) развитием новых технологий в сфере беспроводной передачи данных
- 5) снижение покупательной способности населения

98.

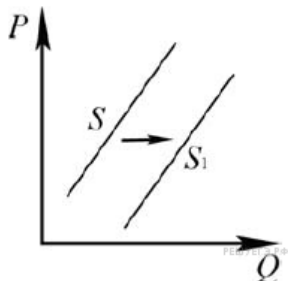


На графике изображено изменение предложения коньков для фигурного катания на потребительском рынке: кривая предложения  $S_1$  переместилась в положение  $S_2$  (на графике  $P$  — цена

товара,  $Q$  — количество товара). Какие из перечисленных факторов могут вызвать такое изменение? Запишите под которыми они указаны.

- 1) рост цен на комплектующие изделия для коньков
- 2) массовое открытие общедоступных катков
- 3) сокращение количества фирм, производящих коньки
- 4) снижение доходов большинства домохозяйств
- 5) наступление зимнего сезона

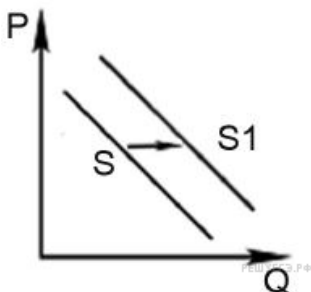
99.



На рисунке отражено изменение предложения стульев на соответствующем рынке: линия предложения  $S$  переместилась в новое положение —  $S_1$  ( $P$  — цена,  $Q$  — количество). Какие из перечисленных факторов могут вызвать такое изменение? Запишите цифры, под которыми они указаны.

- 1) увеличение стоимости материалов для обивки стульев
- 2) рост оплаты труда рабочих на предприятиях, производящих стулья
- 3) уменьшение стоимости материалов для каркаса стульев
- 4) уменьшение налогов, взимаемых с производителей мебели
- 5) рост тарифов на электроэнергию для производителей мебели

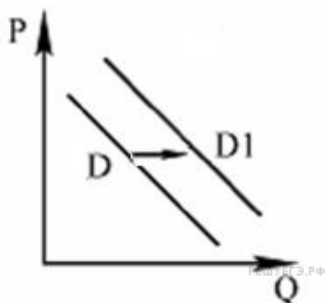
100.



На графике отражена ситуация на рынке автомобильного бензина: линия предложения  $S$  переместилась в новое положение —  $S_1$  ( $P$  — цена товара,  $Q$  — количество товара). Какие из перечисленных факторов могут вызвать такое изменение? Запишите цифры, под которыми они указаны.

- 1) увеличение добычи нефти
- 2) рост акцизов на бензин
- 3) начало сезона сельскохозяйственных работ
- 4) появление на рынке новых компаний по производству бензина
- 5) сокращение продаж автомобилей

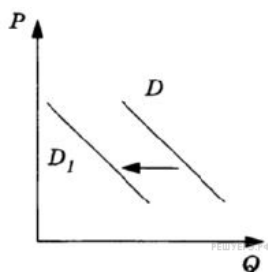
101.



На графике отражена ситуация на рынке кондиционеров: линия спроса  $D$  переместилась в новое положение —  $D_1$  ( $P$  — цена товара,  $Q$  — количество товара). Какие из перечисленных факторов могут вызвать такое изменение? Запишите цифры, под которыми они указаны.

- 1) рост доходов населения
- 2) введение налога на продажи бытовой техники
- 3) рост издержек на производство кондиционеров
- 4) установление anomalно жаркой для региона погоды
- 5) рост конкуренции на рынке производства кондиционеров

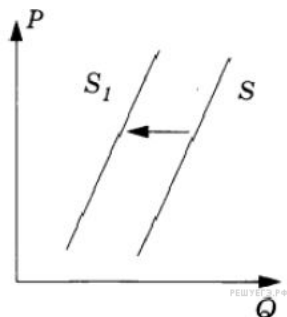
102.



На рисунке изображена ситуация на рынке пассажирских железнодорожных перевозок: линия спроса  $D$  переместилась в новое положение  $D_1$  (на графике  $P$  — цена товара,  $Q$  — количество товара). Какие из перечисленных факторов могут вызвать такое изменение? Запишите цифры, под которыми они указаны.

- 1) улучшение качества услуг, предоставляемых пассажирскими компаниями, специализирующимися на железнодорожных перевозках
- 2) снижение стоимости билетов на поезда дальнего следования
- 3) рост популярности внутреннего туризма с использованием железнодорожного сообщения
- 4) снижение стоимости пассажирских авиаперевозок
- 5) отмена льготных тарифов для пенсионеров и школьников на услуги, предоставляемые пассажирскими компаниями, специализирующимися на железнодорожных перевозках

103.

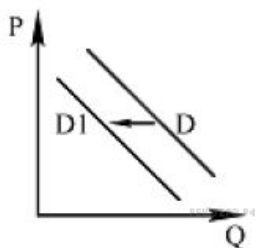


На рисунке отражена ситуация на рынке банковского кредитования: линия предложения  $S$  переместилась в новое положение  $S_1$  ( $P$  — цена товара,  $Q$  — количество товара). Какие из перечисленных факторов могут вызвать такое изменение? Запишите цифры, под которыми они указаны.

- 1) улучшение материального положения населения
- 2) ослабление государственного контроля за деятельностью коммерческих банков

- 3) введение законодательных ограничений на максимальные процентные ставки по кредитам
- 4) отзыв Центральным банком страны лицензий у ряда крупных банков
- 5) снижение темпов инфляции

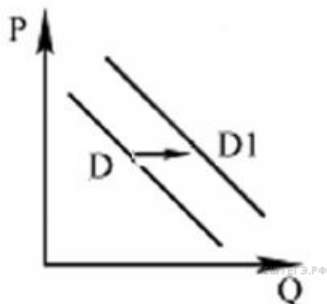
104.



На рисунке отражена ситуация на рынке выездного зарубежного туризма: линия спроса  $D$  переместилась в новое положение —  $D1$  ( $P$  — цена товара,  $Q$  — количество товара). Это перемещение может быть связано прежде всего с

- 1) снижением курса национальной валюты
- 2) ростом доходов населения
- 3) ростом конкуренции среди туроператоров, реализующих туры за рубеж
- 4) ростом популярности отдыха внутри страны
- 5) широкой рекламой отдыха за рубежом

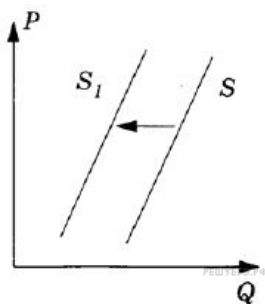
105.



На рисунке отражена ситуация на рынке внутреннего туризма страны  $N$ : линия спроса  $D$  переместилась в новое положение —  $D1$  ( $P$  — цена товара,  $Q$  — количество товара). Это перемещение может быть связано прежде всего с

- 1) запретом правительства страны  $N$  на продажу туров на ряд популярных зарубежных направлений
- 2) повышением цен на авиационные и железнодорожные билеты внутри страны  $N$
- 3) уходом с рынка туристических услуг ряда туроператоров
- 4) прекращением полётов за рубеж рядом авиакомпаний
- 5) отменой виз для граждан государства  $N$  рядом популярных для отдыха стран

106.

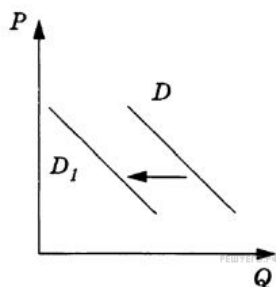


На рисунке отражена ситуация на рынке наружной рекламы: линия предложения  $S$  переместилась в новое положение  $S_1$  ( $P$  — цена товара,  $Q$  — объём спроса товара). Какие из перечисленных факторов могут вызвать такое изменение? Запишите цифры, под которыми они указаны.

- 1) существенное снижение стоимости аренды рекламных щитов вблизи городских магистралей

- 2) введение законодательного запрета на размещение рекламных конструкций над проезжей частью улиц и дорог в связи с ростом аварийности на транспорте
- 3) введение запрета на размещение рекламы в телевизионном и радиоэфире
- 4) введение ограничений на использование внешних поверхностей зданий, сооружений и элементов уличного оборудования для размещения рекламы
- 5) рост числа рекламных агентств, предоставляющих услуги по созданию и размещению рекламной продукции

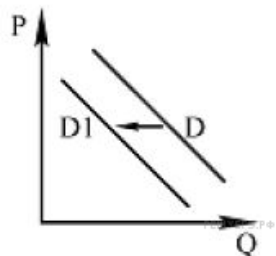
107.



На рисунке изображена ситуация на рынке мясных полуфабрикатов импортного производства в стране А: линия спроса  $D$  переместилась в новое положение  $D_1$  ( $P$  — цена товара,  $Q$  — объем спроса товара). Какие из перечисленных факторов могут вызвать такое изменение? Запишите цифры, под которыми они указаны.

- 1) существенное улучшение санитарно-эпидемиологической обстановки в ряде государств — импортёров мясной продукции в страну А
- 2) введение льготного налогообложения на ввоз в страну А мясных полуфабрикатов иностранных производителей
- 3) распространение в СМИ сведений об ухудшении санитарно-эпидемиологической обстановки в ряде регионов мира
- 4) улучшение качества продукции пищевой промышленности страны А
- 5) введение правительством страны А квот на поставки продовольствия из государств — импортёров мясной продукции

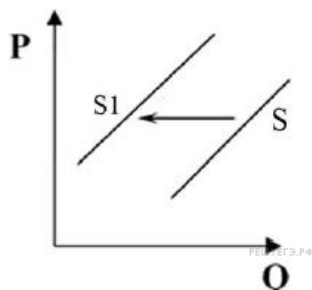
108.



На рисунке отражена ситуация на рынке бытовых вентиляторов: линия спроса  $D$  переместилась в новое положение —  $D_1$  ( $P$  — цена товара,  $Q$  — количество товара). Это перемещение может быть связано прежде всего с

- 1) закрытием нескольких заводов по производству вентиляторов
- 2) распространением кондиционеров
- 3) снижением налога с продаж бытовой техники
- 4) окончанием летнего сезона
- 5) снижением расходов производителей вентиляторов на рекламу

109.



На рисунке отражена ситуация на рынке кофе: линия предложения  $S$  переместилась в новое положение —  $S1$  ( $P$  — цена товара,  $Q$  — количество товара). Это перемещение может быть связано прежде всего с

- 1) ростом популярности горячего шоколада
- 2) неурожаем кофе в Южной Америке
- 3) снижением цен на чай
- 4) снижением ввозных пошлин на кофе
- 5) санкциями, предусматривающими запрет на покупку кофе у отдельных государств — основных производителей кофе

110. Прочитайте приведенный ниже текст, в котором пропущен ряд слов. Выберите из предлагаемого списка слова, которые необходимо вставить на место пропусков.

«Основная проблема для экономики — это согласование безграничных и постоянно растущих потребностей людей с ограниченными \_\_\_\_\_ (А) для их удовлетворения.

Что такое потребности? Это понятие весьма многозначно и исторически изменчиво. Это \_\_\_\_\_ (Б) того, без чего нельзя поддерживать не только жизнь человека, но и его развитие как личности и как члена общества. Человек своей хозяйственной деятельностью научился удовлетворять свои разнообразные потребности, производя товары и услуги, т. е. экономические блага. При этом количество и качество этих благ непрерывно растет и меняется под влиянием технического \_\_\_\_\_ (В), расширения кругозора людей, моды, рекламы и т. д. Таким образом, потребности все время растут. А для того, чтобы их удовлетворить, нужны \_\_\_\_\_ (Г). Те из них, которые удается вовлечь в производство экономических благ, называются факторами производства. Постепенно наука расширяла свои представления о факторах, необходимых для производства благ. Сначала считалось, что главный ресурс, главный фактор — это \_\_\_\_\_ (Д), что только сельское хозяйство может произвести необходимые блага. Позднее, в качестве неперемного фактора признали \_\_\_\_\_ (Е) в любой сфере материального производства, а не только в сельском хозяйстве. С именем К. Маркса связано признание \_\_\_\_\_ (Ж) как важнейшего фактора экономического развития.»

Слова в списке даны в именительном падеже. Каждое слово (словосочетание) может быть использовано только один раз.

Выбирайте последовательно одно слово за другим, мысленно заполняя каждый пропуск. Обратите внимание на то, что в списке слов больше, чем вам потребуется для заполнения пропусков.

- |               |                 |                |
|---------------|-----------------|----------------|
| 1) капитал    | 2) производство | 3) возможности |
| 4) ресурсы    | 5) прогресс     | 6) нехватка    |
| 7) информация | 8) земля        | 9) труд        |

111. Прочитайте приведенный ниже текст, в котором пропущен ряд слов. Выберите из предлагаемого списка слова, которые необходимо вставить на место пропусков.

«Самой большой рыночной властью обладает \_\_\_\_\_ (А). Это рынок, на котором присутствует единственный \_\_\_\_\_ (Б) уникального продукта. Такой рынок не выгоден \_\_\_\_\_ (В) с точки зрения качества продукции, разнообразия \_\_\_\_\_ (Г), уровня цен. Чтобы не допустить образования новых рынков такого типа, \_\_\_\_\_ (Д) проводит \_\_\_\_\_ (Е) политику.»

Слова в списке даны в именительном падеже, единственном числе. Каждое слово (словосочетание) может быть использовано только один раз. Выбирайте последовательно одно слово за другим, мысленно заполняя каждый пропуск. Обратите внимание на то, что в списке слов больше, чем вам потребуется для заполнения пропусков.

Список терминов:

- |                |                  |                    |
|----------------|------------------|--------------------|
| 1) ассортимент | 2) покупатель    | 3) продавец        |
| 4) монополия   | 5) конкуренция   | 6) товарищество    |
| 7) государство | 8) разнообразный | 9) антимонопольный |

Ответ:

112. Прочитайте приведённый ниже текст, в котором пропущен ряд слов (словосочетаний). Выберите из предлагаемого списка слова (словосочетания), которые необходимо вставить на место пропусков.

«Ограниченность ресурсов порождает несколько важнейших последствий. Прежде всего, люди издавна начали закреплять экономические ресурсы в \_\_\_\_\_ (А). Они договорились о том, что отдельный человек или группа людей могут владеть, пользоваться, распоряжаться ресурсами.

Закрепление ресурсов за гражданами и организациями позволяет владельцам предоставлять эти ресурсы тем, кто в них нуждается, за \_\_\_\_\_ (Б). Следовательно, владение ресурсами становится источником доходов. Если владелец обладает только способностью к \_\_\_\_\_ (В) и продает именно её, т.е. идёт работать по найму, то получает за это зарплату. Владелец земельного участка или другого природного ресурса, использующий его для хозяйственных целей сам или предоставляющий эту возможность другим, получает доход, называемый \_\_\_\_\_ (Г). Владелец физического \_\_\_\_\_ (Д) (зданий, сооружений, оборудования), использующий его для обеспечения деятельности своей фирмы, получает доход в форме части \_\_\_\_\_ (Е) этой фирмы».

Слова в списке даны в именительном падеже. Каждое слово может быть использовано только один раз. Выбирайте последовательно одно слово за другим, мысленно заполняя каждый пропуск. Обратите внимание на то, что слов в списке слов больше, чем Вам потребуется для заполнения пропусков.

Список терминов:

- |          |            |                  |
|----------|------------|------------------|
| 1) рента | 2) прибыль | 3) производство  |
| 4) труд  | 5) капитал | 6) собственность |
| 7) плата | 8) обмен   | 9) закон         |

Ответ:

113. В государстве А. ожидание населения роста цен на товары и услуги привело к повышению спроса на них. Какие существуют иные неценовые факторы спроса? Запишите цифры, под которыми они указаны.

- 1) число продавцов на рынке
- 2) потребительские предпочтения
- 3) число покупателей на рынке
- 4) технология производства
- 5) доход потребителей товаров и услуг
- 6) цены на ресурсы

Ответ:

Выберите верные суждения о факторных доходах и запишите цифры, под которыми они указаны.

- 1) Прибыль — это превышение всех доходов фирмы над её издержками.
- 2) К факторным доходам относят спрос и предложение.
- 3) Факторными доходами называют ресурсы, используемые людьми для создания жизненных благ.
- 4) Факторным доходом от труда является заработная плата.

5) Рента представляет собой факторный доход от использования земли.

Ответ: .

114. На рынке в государстве К. четыре фирмы производят холодильники, которые пользуются огромным спросом у населения по всей стране, поскольку у зарубежных предприятий данная продукция не закупалась. При этом существует предварительная запись на покупку холодильников, так как спрос населения на рынке растёт быстрее предложения.

Выберите из приведённого списка характеристики этого рынка и запишите цифры, под которыми они указаны.

- |                       |  |
|-----------------------|--|
| 1) равновесный рынок  | 4) рынок монополистической конкуренции |
| 2) национальный рынок | 5) дефицитный рынок                    |
| 3) рынок олигополии   | 6) региональный рынок                  |

Ответ:

115. На рынке в государстве Н. существует большое количество фирм, занимающихся ремонтом сантехники. Деятельность данных фирм пользуется спросом у жителей. Выберите из приведённого списка характеристики этого рынка и запишите цифры, под которыми они указаны.

- 1) рынок услуг
- 2) рынок товаров
- 3) рынок совершенной конкуренции
- 4) национальный рынок
- 5) рынок монополистической конкуренции
- 6) нелегальный рынок

Ответ:

116. На рынке в области Г. только одна фирма продаёт лекарственные препараты, которые приобретает местное население. Выберите из приведённого списка характеристики этого рынка и запишите цифры, под которыми они указаны.

- 1) национальный рынок
- 2) рынок товаров
- 3) рынок услуг
- 4) рынок монополии
- 5) рынок монополистической конкуренции
- 6) региональный рынок

Ответ:

117. В государстве М. наблюдается снижение цен на товары и услуги. Какие факторы, способствующие данному процессу, могут иметь место в этом государстве? Запишите цифры, под которыми они указаны.

- 1) рост производства
- 2) повышение налогов
- 3) ажиотажный спрос
- 4) снижение издержек производства
- 5) повышение производительности труда
- 6) улучшение качества продукции

Ответ:

118. Русский учёный, лауреат Нобелевской премии И. И. Мечников создал оригинальное учение о защите организма от микробов, во многом изменившее сознание людей. Какие иные признаки свидетельствуют о том, что речь идёт о духовной деятельности? Запишите цифры, под которыми они указаны.

- 1) отличается направленностью на изменение природы
- 2) характеризуется заранее известным результатом
- 3) отличается созданием идей, образов, художественных и нравственных ценностей
- 4) способствует ценностному осмыслению окружающего мира
- 5) создаёт необходимые условия для удовлетворения потребностей людей, вещи, материальные ценности
- 6) связывается с планированием или предвидением возможных изменений действительности

Ответ:

119. Выберите верные суждения о мировой торговле и запишите цифры, под которыми они указаны.

- 1) Мировые цены на многие сырьевые товары директивно устанавливаются межгосударственными организациями.



- 2) Открытие внутренних рынков для иностранных производителей способствует снижению доходов всех торгующих фирм.
- 3) Открытие внутренних рынков для иностранных производителей усиливает конкуренцию между участниками рынка.
- 4) Развитие мировой торговли обеспечивает получение дополнительного дохода за счёт разницы национальных и интернациональных издержек производства.
- 5) Открытие внутренних рынков для иностранных производителей может привести к зависимости национальной экономики от импортных товаров.

Ответ:

120. В стране К. стимулом к производительному труду является социалистическое соревнование. По каким иным признакам можно установить, что в этой стране имеет место командная экономика? Запишите цифры, под которыми они указаны.

- 1) отсутствие конкуренции
- 2) наличие теневой экономики
- 3) осуществление экономической деятельности на базе частной и государственной собственности
- 4) наличие свободного рынка при слабом вмешательстве государства
- 5) существование гарантированного трудоустройства, бесплатной медицины и образования
- 6) определение потребителями того, что необходимо производить

Ответ:

121. Установите соответствие между примерами и факторами экономического роста, которые они иллюстрируют: к каждой позиции, данной в первом столбце, подберите соответствующую позицию из второго столбца.

ПРИМЕРЫ

ФАКТОРЫ ЭКОНОМИЧЕСКОГО РОСТА

А) замена производственного оборудования более современным

- 1) интенсивные
- 2) экстенсивные

Б) повышение производительности труда

В) строительство новых предприятий

Г) увеличение числа работников

Ответ

122. Установите соответствие между характеристиками и видами конкуренции, к которым они относятся: к каждой позиции, данной в первом столбце, подберите соответствующую позицию из второго столбца.

ХАРАКТЕРИСТИКИ

А) идеализированное состояние рынка, когда отдельные покупатели и продавцы не могут влиять на цену, но формируют её своим вкладом спроса и предложения

Б) никто из участников рынка не располагает информацией больше, чем все остальные

В) множество мелких фирм производят одинаковую продукцию, барьеры для входа-выхода с рынка отсутствуют

Г) ситуация, когда рынок поделён между несколькими крупными фирмами

Д) каждая фирма обладает некоторым контролем над ценой, который ограничивается как наличием достаточно большого количества производителей аналогичных товаров, так и значительной свободой входа в отрасль других фирм

ВИДЫ КОНКУРЕНЦИИ

1) чистая (совершенная) конкуренция

2) монополистическая конкуренция

3) олигополия

Ответ

123. Установите соответствие между примерами и факторами производства, которые они иллюстрируют: к каждой позиции, данной в первом столбце, подберите соответствующую позицию из второго столбца.

ПРИМЕРЫ

ФАКТОРЫ ПРОИЗВОДСТВА

- |                          |            |
|--------------------------|------------|
| А) токарный станок       | 1) земля   |
| Б) каменный уголь        | 2) труд    |
| В) наладчик оборудования | 3) капитал |
| Г) офис фирмы            |            |
| Д) менеджер              |            |
- Ответ:

124. Установите соответствие между примерами и факторами экономического роста, которые они иллюстрируют: к каждой позиции, данной в первом столбце, подберите соответствующую позицию из второго столбца.

- |   |                                     |
|---|-------------------------------------|
| <b>ПРИМЕРЫ</b>                                      | <b>ФАКТОРЫ ЭКОНОМИЧЕСКОГО РОСТА</b> |
| А) увеличение численности обслуживающего персонала  | 1) интенсивные                      |
| Б) замена компьютерной техники на более современную | 2) экстенсивные                     |
| В) строительство дополнительных предприятий         |                                     |
| Г) переобучение работников фирмы                    |                                     |
| Д) разработка новых месторождений                   |                                     |
- Ответ:

125. Установите соответствие между факторами влияния (на спрос и предложение) и элементами рыночного механизма: к каждой позиции, данной в первом столбце, подберите соответствующую позицию из второго столбца.

- |                                    |                                     |
|------------------------------------|-------------------------------------|
| <b>ФАКТОРЫ ВЛИЯНИЯ</b>             | <b>ЭЛЕМЕНТЫ РЫНОЧНОГО МЕХАНИЗМА</b> |
| А) мода                            | 1) спрос                            |
| Б) уровень технологии              | 2) предложение                      |
| В) сезон                           |                                     |
| Г) доходы потребителей             |                                     |
| Д) количество товаропроизводителей |                                     |
- Ответ:

126. Установите соответствие между видами рынков и основами их классификации: к каждой позиции, данной в первом столбце, подберите соответствующую позицию из второго столбца.

- |                                  |  |
|----------------------------------|--|
| <b>ВИДЫ РЫНКОВ</b>               |  |
| А) розничный                     |  |
| Б) олигополии                    |  |
| В) равновесный                   |  |
| Г) избыточный                    |  |
| Д) монополистической конкуренции |  |
- ОСНОВЫ КЛАССИФИКАЦИИ**
- 1) характер продаж
  - 2) уровень насыщенности
  - 3) тип конкуренции

Ответ:

127. Установите соответствие между факторами влияния (на спрос и предложение) и элементами рыночного механизма: к каждой позиции, данной в первом столбце, подберите соответствующую позицию из второго столбца.

- |                               |                                     |
|-------------------------------|-------------------------------------|
| <b>ФАКТОРЫ ВЛИЯНИЯ</b>        | <b>ЭЛЕМЕНТЫ РЫНОЧНОГО МЕХАНИЗМА</b> |
| А) религиозные предпочтения   | 1) спрос                            |
| Б) цены на ресурсы            | 2) предложение                      |
| В) потребительские ожидания   |                                     |
| Г) цены на сопряжённые товары |                                     |
| Д) количество производителей  |                                     |
- Ответ:

128. Выберите верные суждения об экономическом росте и запишите цифры, под которыми они указаны.

- 1) Экстенсивный экономический рост обеспечивается за счёт более рационального использования прежнего объёма ресурсов.

- 2) Экономическому росту способствует увеличение до определённого предела масштабов производства, позволяющее экономить ресурсы и наращивать объёмы выпуска продукции.
- 3) К интенсивным факторам экономического роста относят увеличение физического капитала фирм.
- 4) Интенсивным фактором роста и развития современной экономики является высококачественный человеческий капитал.
- 5) Стабильный экономический рост возможен за счёт повсеместного внедрения инноваций.

Ответ:

129. Выберите верные суждения о факторах производства и факторных доходах и запишите цифры, под которыми они указаны,

- 1) Факторы производства, которые человек использует для создания различных благ, в каждый момент времени ограничены.
- 2) Земля и труд как факторы производства препятствуют увеличению объёма экономических благ.
- 3) Каждый фактор производства способен принести его владельцу доход.
- 4) Отличительной особенностью предпринимательства как фактора производства является принятие инициативы соединения факторов производства в единый процесс.
- 5) Основанием для получения факторного дохода является стремление к максимальному производственному результату.

Ответ:

130. Выберите верные суждения о ВВП и запишите цифры, под которыми они указаны.

- 1) ВВП включает стоимость только тех товаров и услуг, которые были произведены для продажи.
- 2) ВВП называют количество продукции, приходящееся на каждую денежную единицу, вложенную в основные фонды.
- 3) Правительство может планировать рост ВВП и проводить соответствующую экономическую политику.
- 4) Стабильный рост ВВП свидетельствует о развитии экономики, улучшении благосостояния граждан страны.
- 5) ВВП рассчитывается только на душу населения.

Ответ:

131. Установите соответствие между примерами и смыслами понятия «экономика», которые они иллюстрируют: к каждой позиции, данной в первом столбце, подберите соответствующую позицию из второго столбца.

ПРИМЕРЫ

СМЫСЛЫ ПОНЯТИЯ «ЭКОНОМИКА»

- |  |                  |
|--|------------------|
| А) дискуссия специалистов о путях проведения экономической реформы | 1) как наука     |
| Б) покупка товара в магазине                                       | 2) как хозяйство |
| В) разработка планов развития национальной экономики               |                  |
| Г) открытие сети химчисток   |                  |
| Д) уплата налогов фирмой   |                  |

Ответ:

132. В стране Б. производитель продукта обладает ограниченной монопольной властью вследствие производства уникального в глазах потребителей изделия, отличающего его от других изготовителей продуктов на данном рынке. Какие иные признаки свидетельствуют о том, что в этой стране существует рынок монополистической конкуренции? Запишите цифры, под которыми они указаны.

- 1) Функционирует несколько фирм.
- 2) Имеют место существенные препятствия вхождения в отрасль.
- 3) Существует некоторый контроль над ценой, но в узких рамках.
- 4) Производятся разные изделия сходного назначения.
- 5) Действует в лёгкой промышленности.
- 6) Распространяется в сфере железнодорожных перевозок.

Ответ:

133. Установите соответствие между примерами и видами рынков, которые они иллюстрируют: к каждой позиции, данной в первом столбце, подберите соответствующую позицию из второго столбца.

ПРИМЕРЫ

- А) на сельскохозяйственном рынке большое количество фирм продаёт помидоры
- Б) значительное число поставщиков предлагают меховые изделия
- В) в отрасли конкурируют множество производителей лекарственных препаратов
- Г) компания, работающая в сфере энергетики, поставляет электроэнергию потребителю
- Д) фирма «А.» производит товар, не имеющий заменителей ВИДЫ РЫНКОВ
- 1) совершенной конкуренции
  - 2) монополистической конкуренции
  - 3) монополии

Ответ:

134. Выберите верные суждения о мировой экономике и запишите цифры, под которыми они указаны.

- 1) Экономическая политика государства, целью которой является защита отечественных производителей от иностранной конкуренции, называется либерализмом.
- 2) Отличительной особенностью мировой экономики становится нарастание степени закрытости национальных хозяйств.
- 3) Мировой рынок представляет собой совокупность рыночных отношений между странами на основе международного разделения труда.
- 4) Инструментами протекционизма являются таможенные тарифы и пошлины, квоты на ввоз определённых товаров.
- 5) Открытие внутренних рынков для иностранных производителей способствует расширению выбора потребителей

Ответ:

135. Установите соответствие между объектами спроса и предложения и видами рынков, к которым они относятся: к каждой позиции, данной в первом столбце, подберите соответствующую позицию из второго столбца.

ОБЪЕКТЫ СПРОСА И ПРЕДЛОЖЕНИЯ      ВИДЫ РЫНКОВ

- |   |                    |
|---|--------------------|
| А) бытовая техника                        | 1) рынок труда     |
| Б) иностранная валюта                     | 2) рынок капиталов |
| В) услуги адвоката                        | 3) рынок товаров   |
| Г) муниципальные облигации                |                    |
| Д) государственное пенсионное обеспечение |                    |

Ответ:

136. Установите соответствие между видами рынков и основами их классификации: к каждой позиции, данной в первом столбце, подберите соответствующую позицию из второго столбца.

ВИДЫ РЫНКОВ

- |                 |              |
|-----------------|--------------|
| А) ценных бумаг | Б) легальный |
| В) региональный | Г) товаров   |
| Д) национальный |              |

ОСНОВЫ КЛАССИФИКАЦИИ

- 1) действующее законодательство
- 2) объекты обмена
- 3) пространственный признак

Ответ:

137. В стране Б. на рынке действует множество мелких производителей. Какие иные признаки свидетельствуют о том, что в этой стране существует рынок совершенной конкуренции? Запишите цифры, под которыми они указаны.

- 1) Продаются разные изделия сходного качества.
- 2) Отсутствует контроль над ценой.
- 3) Охватывает производство автомобилей, сельскохозяйственных машин, инвентаря.
- 4) Существует свободный вход на рынок.
- 5) Ценообразование обуславливается игрой спроса и предложения в соответствии с рыночными законами.
- 6) Утверждается особая монопольная власть на рынке.

Ответ:

Выберите верные суждения об экономическом росте и запишите цифры, под которыми они указаны.

- 1) Экономический рост может измеряться в натуральных (тоннах, метрах и т. д.) и стоимостных показателях.
- 2) К экстенсивным факторам экономического роста относят повышение квалификации работников.
- 3) На темпы экономического роста влияет количество и качество трудовых ресурсов.
- 4) Экономический рост зависит от эффективности технологий и управления.
- 5) Интенсивный тип экономического роста обеспечивается увеличением количества используемых факторов производства.

Ответ:

138. В стране И. всего четыре фирмы заняты производством стали. Какие иные признаки свидетельствуют о том, что в этой стране существует рынок олигополии? Запишите цифры, под которыми они указаны.

- 1) Производится уникальный товар, не имеющий заменителей.
- 2) Значительный контроль над ценой при сговоре.
- 3) Имеют место существенные препятствия вхождению в отрасль.
- 4) Предлагается одинаковая, но не совсем идентичная продукция.
- 5) Используется новый способ конкурентной борьбы — неценовая конкуренция.
- 6) Игра спроса и предложения в соответствии с законами их функционирования определяет цену.

Ответ:

139. В стране Б. формируются возможности для выбора потребителем товаров и услуг. Какие иные признаки свидетельствуют о том, что в этой стране имеет место конкуренция производителей? Запишите цифры, под которыми они указаны.

- 1) увеличение производственных затрат
- 2) стимулирование внедрения технических достижений
- 3) разорение многих производителей товаров и услуг
- 4) предотвращение экологических нарушений
- 5) гибкое реагирование экономики на изменение обстановки
- 6) экономия средств на рекламу товаров и услуг

Ответ:

140. Выберите верные суждения о типах экономического роста и запишите цифры, под которыми они указаны.

- 1) Интенсивный тип экономического роста характеризуется экономией сырья на единицу продукции.
- 2) Для интенсивного типа экономического роста свойственен дефицит всех ресурсов.
- 3) Экстенсивный тип экономического роста связан с сокращением численности работников.
- 4) Отличительной чертой экстенсивного типа экономического роста является технический застой.
- 5) Экономика при интенсивном типе роста становится фондоёмкой.

Ответ:

141. Предприниматель Р. стремился увеличить объём своего капитала. Какие элементы составляют капитал как фактор производства? Запишите цифры, под которыми они указаны

- 1) менеджеры
- 2) фабричные здания
- 3) станки
- 4) лесные угодья
- 5) фермеры
- 6) компьютеры

Ответ:

142. Установите соответствие между характеристиками и видами благ, к которым они относятся: к каждой позиции, данной в первом столбце, подберите соответствующую позицию из второго столбца.

**ХАРАКТЕРИСТИКИ ВИДЫ БЛАГ**

- |   |                 |
|---|-----------------|
| А) приносят пользу только конкретному потребителю     | 1) частные      |
| Б) дополнительное потребление не увеличивает издержки | 2) общественные |
| В) дают положительный внешний эффект                  |                 |

Г) создаются на коммерческой основе

Д) затраты за счёт налогов граждан

Ответ:

143. Министерство экономического блока правительства страны Д. приступило к расчёту валового внутреннего продукта. Какие компоненты будут включены в состав ВВП? Запишите цифры, под которыми они указаны.

- 1) стоимость промежуточных товаров и услуг
- 2) стоимость товаров и услуг, произведённых «теневой экономикой»
- 3) стоимость товаров и услуг, которые были произведены для продажи
- 4) стоимость товаров и услуг, которые были произведены за пределами страны
- 5) стоимость товаров и услуг, произведённых в стране независимо от собственности средств производства
- 6) стоимость товаров и услуг, произведённых в данном году

Ответ:

144. Выберите верные суждения об общественных благах и запишите цифры, под которыми они указаны.

- 1) Общественные блага могут делиться на пропорции в процессе потребления.
- 2) К общественным благам относятся дороги, здравоохранение, образование, услуги, предоставляемые государственными и муниципальными органами власти.
- 3) Потребление общественных благ одними делает их недоступными для других.
- 4) Производители не могут воспрепятствовать потреблению общественных благ кем бы то ни было.
- 5) Дополнительное потребление общественных благ увеличивает издержки.

Ответ:

145. В стране В. действует относительно большое число фирм. Какие иные признаки свидетельствуют о том, что в этой стране существует рынок монополистической конкуренции? Запишите цифры, под которыми они указаны.

- 1) Продаваемый на рынке товар не является стандартизированным.
- 2) Существуют барьеры для входа на рынок, которые трудно преодолеть.
- 3) Имеется некоторая возможность фирмы влиять на цены своих товаров.
- 4) Возникает в тех отраслях, где возможно создание многих разновидностей товара, удовлетворяющего определённые потребности.
- 5) Демонстрирует наиболее полно достоинства рыночных механизмов.
- 6) Действует в производстве тяжёлого оборудования.

Ответ:

146. Установите соответствие между примерами и факторами экономического роста, которые они иллюстрируют: к каждой позиции, данной в первом столбце, подберите соответствующую позицию из второго столбца.

ПРИМЕРЫ

- А) совершенствование организации труда
- Б) снижение издержек производства
- В) закупка дополнительного оборудования
- Г) компьютеризация производства
- Д) рост продолжительности рабочего дня

Запишите в таблицу выбранные цифры под соответствующими буквами.

ФАКТОРЫ ЭКОНОМИЧЕСКОГО РОСТА

- 1) интенсивные
- 2) экстенсивные

Ответ:

#### Задание №147

Найдите в приведенном ниже списке проявления экстенсивного экономического роста. Запишите **цифры**, под которыми они указаны.

- 1) технические нововведения в производственный процесс
- 2) увеличение числа работников, вовлеченных в производство

- 3) переход на новые технологии
- 4) экономия сырья и материалов
- 5) рост квалификации работников
- 6) расширение производственных помещений

Запишите число:

1)

Ответ:

#### Задание №148

Найдите в приведенном ниже списке проявления интенсивного экономического роста. Запишите **цифры**, под которыми они указаны.

- 1) внедрение рационализаторских предложений
- 2) использование новых технологий
- 3) расширение производственных мощностей
- 4) привлечение специалистов-профессионалов
- 5) вовлечение в производство новых источников сырья
- 6) увеличение рабочего дня

Запишите число:

1)

Ответ:

#### Задание №149

Государство Z переживает экономический подъем. Промышленность в своем развитии опережает сельское хозяйство. Законом установлено господство частной собственности. Какие признаки характерны для данной экономической системы? Запишите **цифры**, под которыми они указаны.

- 1) централизованное планирование производства
- 2) ограниченное вмешательство государства в деятельность хозяйствующих субъектов
- 3) распределение материальных ресурсов правительством
- 4) многообразие форм собственности на средства производства
- 5) свобода предпринимательства
- 6) рыночное ценообразование

Запишите число:

1)

Ответ:

#### Задание №150

Государство выполняет ряд функций в экономической жизни общества. Выберите из приведенного ниже списка примеры правового регулирования экономической деятельности. Запишите **цифры**, под которыми они указаны.

- 1) создание наукоградов и технопарков
- 2) предоставление государственных заказов ряду предприятий
- 3) принятие законодательства о банковской деятельности
- 4) введение штрафов за нарушение антимонопольного законодательства
- 5) выплата пенсий по старости
- 6) государственное финансирование медицинских учреждений

Запишите число:

1)

Ответ:

### Задание №151

Запишите слово, пропущенное в таблице.

ТИПЫ ЭКОНОМИЧЕСКОГО РОСТА	ХАРАКТЕРИСТИКА
Экстенсивный	Рост достигается за счет количественного увеличения ресурса
	Рост достигается за счет развития и освоения современных достижений науки и техники

Запишите ответ:

1)

Ответ:

### Задание №152

Выберите верные суждения о рыночной экономике и запишите **цифры**, под которыми они указаны.

- 1) Частная собственность на средства производства — черта рыночной экономики.
- 2) Рыночную экономику характеризует конкуренция, порождаемая свободой предпринимательства.
- 3) В рыночной экономике существует уравнивающее распределение производимых продуктов.
- 4) Для рыночной экономики характерно государственное регулирование ценообразования.
- 5) Рыночной экономике свойственно централизованное планирование производства.

Запишите число:

1)

Ответ:

### Задание №153

В государстве А развивается производство и осуществляется научно-технический прогресс. Какая дополнительная информация позволит установить, что экономика этого государства является рыночной? Запишите **цифры**, под которыми она представлена.

- 1) Растет численность работников промышленных предприятий.
- 2) Существует конкуренция производителей товаров и услуг.
- 3) Доходы граждан облагаются налогами.
- 4) Фундамент экономики составляет частная собственность.
- 5) Покупательная способность населения постепенно возрастает.
- 6) Существуют законы, регулирующие хозяйственную деятельность.

Запишите число:

1)

Ответ:

### Задание №154

В государстве Н значительная часть промышленной продукции выпускается на государственных предприятиях. Какая дополнительная информация позволит



сделать вывод о том, что экономика страны является командно-административной? Запишите цифры, под которыми она представлена.

- 1) Экономика страны включает денежное обращение.
- 2) Эффективность производства зависит от производительности труда.
- 3) Размеры производства устанавливает государственный план.
- 4) Существует централизованное управление ценами.
- 5) Действуют законы, регулирующие экономическую деятельность.
- 6) Научные достижения внедряются в производство.

Запишите число:

1)	Ответ:	
----	--------	--

#### Задание №155

В период летних отпусков резко увеличивается предложение услуг туристическими фирмами. Чтобы привлечь клиентов, фирмы стараются устанавливать более выгодные для потребителей условия. Какие черты экономики проявляются в этой ситуации? Запишите цифры, под которыми они указаны.

- 1) монополия
- 2) конкуренция
- 3) свобода предпринимательства
- 4) разделение труда
- 5) специализация
- 6) трудоемкость

Запишите число:

1)	Ответ:	
----	--------	--

#### Задание №156

В государстве Н развивается современная экономика. Свобода производителей товаров и услуг способствует поиску и реализации эффективных решений.

Что еще характеризует экономическую систему государства Н? Запишите цифры, под которыми эти характеристики указаны.

- 1) частная собственность
- 2) конкуренция товаропроизводителей
- 3) централизованные методы принятия решений
- 4) единые хозяйственные планы
- 5) свободные цены
- 6) государственное налогообложение

Запишите число:

1)	Ответ:	
----	--------	--

#### Задание №157

Одиннадцатиклассник готовит выступление на ученической конференции, посвященной вопросам спроса и предложения в современной экономике. Какие факторы, влияющие на величину предложения, он может назвать и проиллюстрировать? Запишите цифры, под которыми они указаны.

- 1) налоги на производителей и продавцов

- 2) доходы потребителей
- 3) вкусы потребителей
- 4) инфляционные ожидания потребителей
- 5) природные условия
- 6) цены на используемые в производстве ресурсы

Запишите число:

1)

Ответ:

#### Задание №158

Рынок мобильной связи в области Z поделен между пятью крупнейшими корпорациями. Другие производители на рынке не представлены. Выберите из приведенного ниже списка характеристики данного рынка и запишите цифры, под которыми они указаны.

- 1) региональный рынок
- 2) монополия
- 3) совершенная конкуренция
- 4) рынок услуг
- 5) олигополия
- 6) рынок товаров

Запишите число:

1)

Ответ:

#### Задание №159

В государстве А развивается производство и осуществляется научно-технический прогресс. Какая дополнительная информация позволит установить, что экономика этого государства является рыночной? Запишите цифры, под которыми она представлена.

- 1) Растет численность работников промышленных предприятий.
- 2) Существует конкуренция производителей товаров и услуг.
- 3) Доходы граждан облагаются налогами.
- 4) Фундамент экономики составляет частная собственность.
- 5) Покупательная способность населения постепенно возрастает.
- 6) Существуют законы, регулирующие хозяйственную деятельность.

Запишите число:

1)

Ответ:

#### Задание №160

Найдите в приведенном ниже списке признаки рыночной экономической системы и запишите цифры, под которыми они указаны.

- 1) директивное ценообразование
- 2) свобода потребительского выбора
- 3) экономическая самостоятельность хозяйствующих субъектов
- 4) централизованное планирование
- 5) низкий уровень социальной мобильности
- 6) частная собственность

Запишите число:

1)	Ответ:	
----	--------	--

### Задание №161

Выберите верные суждения об экономике как науке и запишите цифры, под которыми они указаны.

- 1) Экономика изучает причины социальных конфликтов.
- 2) Экономика изучает способы рационального использования ограниченных ресурсов.
- 3) Экономика изучает социальные последствия научно-технической революции.
- 4) Экономика изучает способы оптимального управления обществом.
- 5) Экономика изучает способы удовлетворения возрастающих потребностей людей.

Запишите число:

1)	Ответ:	
----	--------	--

### Задание №162

В государстве Н развивается современная экономика. Свобода производителей товаров и услуг способствует поиску и реализации эффективных решений.

Что еще характеризует экономическую систему государства Н? Запишите цифры, под которыми эти характеристики указаны.

- 1) частная собственность
- 2) конкуренция товаропроизводителей
- 3) централизованные методы принятия решений
- 4) единые хозяйственные планы
- 5) свободные цены
- 6) государственное налогообложение

Запишите число:

1)	Ответ:	
----	--------	--

### Задание №163

Проанализируйте суждения.

Укажите истинность или ложность вариантов ответа:

1)	Экономика — это способ организации деятельности людей, направленной на получение и удержание государственной власти.
2)	Факторы производства — это ресурсы, которые непосредственно задействованы в производстве товаров и услуг.
3)	Собственник трудового ресурса получает доход, называемый прибылью.
4)	Экономические блага носят преимущественно природный характер.
5)	Земля как фактор производства включает в себя все виды природных ресурсов, пригодных для производства экономических благ.
6)	Все знания и сведения, необходимые для квалифицированной экономической деятельности, составляют такой фактор производства, как информация.
7)	Доход владельца земли экономисты называют заработной платой
8)	Физический капитал составляет объём денежной массы, которой

	располагают субъекты экономики.
9)	Физический капитал составляет объём денежной массы, которой располагают субъекты экономики.

#### Задание №164

Проанализируйте суждения об экономических системах.

Укажите истинность или ложность вариантов ответа:

1)	Основными субъектами рыночных отношений являются экономически независимые участники хозяйственной жизни.
2)	К признакам рыночной экономики относят свободное ценообразование.
3)	Частная собственность на средства производства выступает основой командной экономики.
4)	В условиях традиционной экономики основные вопросы экономики решаются центральными государственными органами.
5)	Стимулом деятельности предприятий в условиях рыночной экономики является получение прибыли.
6)	Традиционная экономика развивается медленно, так как её участники стремятся сохранить и в наибольшей степени использовать хозяйственный опыт предков.
7)	В условиях рыночной экономики ни государство, ни фирмы не составляют хозяйственные планы.
8)	Рыночная экономика отличается от традиционной большим разнообразием производимых товаров и услуг.
9)	Командная экономика основана на свободной конкуренции участников экономических отношений.

#### Задание №165

Установите соответствие между характеристиками и типами экономических систем

- А)  
Б)  
В)  
Г)

Укажите соответствие для всех 4 вариантов ответа:

1)	С) свободное ценообразование	1)	традиционная
2)	конкуренция производителей	2)	командная
3)	Д) традиция хозяйственной деятельности предков		
4)	Е) директивное		

	госуда рствен ное плани рован ие F)		
--	---	--	--

#### Задание №166

Выберите верные суждения о функциях рынка в рыночной экономике и запишите цифры, под которыми они указаны.

- 1) Рынок регулирует денежное обращение.
- 2) Рынок координирует деятельность потребителей и производителей.
- 3) Рынок обеспечивает высокие прибыли товаропроизводителей.
- 4) Рынок обеспечивает гармонию общественных и личных интересов.
- 5) Рынок устанавливает цены на товары и услуги.
- 6)

Запишите число:

1)	Ответ:	
----	--------	--

#### Задание №167

Одиннадцатиклассник готовит выступление на ученической конференции, посвященной вопросам спроса и предложения в современной экономике. Какие факторы, влияющие на величину спроса, он может назвать и проиллюстрировать? Запишите цифры, под которыми они указаны.

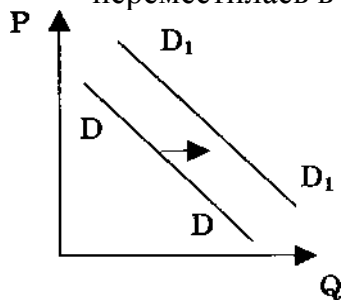
- 1) величина издержек производства
- 2) уровень доходов покупателей
- 3) дотации, предоставляемые покупателям
- 4) численность покупателей
- 5) показатель производительности труда
- 6) технологичность производства

Запишите число:

1)	Ответ:	
----	--------	--

#### Задание №168

На графике отражена ситуация на рынке мобильных телефонов: линия спроса  $D$  переместилась в новое положение  $D_1$ . ( $P$  — цена товара,  $Q$  — количество товара.)



Какие из перечисленных факторов могут вызвать такое изменение? Запишите цифры, под которыми они указаны.

- 1) усиление конкуренции производителей
- 2) увеличение числа производителей мобильных телефонов

- 3) совершенствование технологии производства
- 4) рост доходов потребителей
- 5) появление в широком доступе модной модели телефона

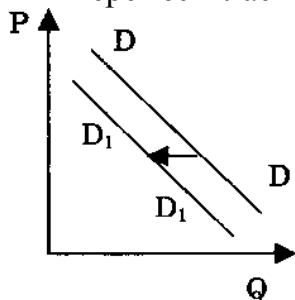
Запишите число:

1)

Ответ:

#### Задание №169

На графике отражена ситуация на рынке табачных изделий: линия спроса  $D$  переместилась в новое положение  $D_x$ . ( $P$  — цена товара,  $Q$  — количество товара.)



Какие из перечисленных факторов могут вызвать такое изменение? Запишите **цифры**, под которыми они указаны.

- 1) рост доходов производителей табака
- 2) изменение предпочтений людей
- 3) введение единого налога с производителей
- 4) снижение цен на электронные сигареты
- 5) сокращение издержек производства табачных изделий

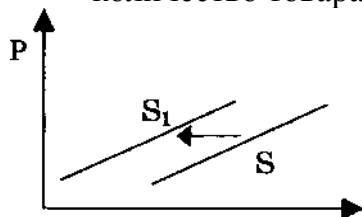
Запишите число:

1)

Ответ:

#### Задание №170

21. На графике отражены изменения, произошедшие с предложением изделий из натурального меха на соответствующем рынке. ( $P$  — цена товара,  $Q$  — количество товара.)



Какие из перечисленных факторов могут вызвать такое изменение? Запишите **цифры**, под которыми они указаны.

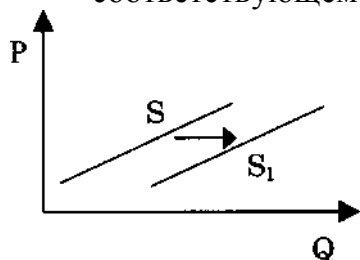
- 1) снижение цен на изделия из искусственного меха
- 2) увеличение доходов населения
- 3) окончание зимнего сезона
- 4) начало сезона охоты на пушных зверей
- 5) внедрение новых технологий производства изделий из натурального меха

Запишите число:

1)	Ответ:	
----	--------	--

#### Задание №171

На графике отражены изменения, произошедшие с предложением картофеля на соответствующем рынке. (P — цена товара, Q — количество товара.)



Какие из перечисленных факторов могут вызвать такое изменение? Запишите **цифры**, под которыми они указаны.

- 1) приток населения в сельскую местность в период летних отпусков
- 2) засуха и неурожай
- 3) использование новых сельскохозяйственных технологий
- 4) изменение доходов потребителей
- 5) появление нового крупного производителя на рынке картофеля

Запишите число:

1)	Ответ:	
----	--------	--

#### Задание №172

Выберите верные суждения о функциях рынка в рыночной экономике и запишите **цифры**, под которыми они указаны.

- 1) Рынок регулирует денежное обращение.
- 2) Рынок координирует деятельность потребителей и производителей.
- 3) Рынок обеспечивает высокие прибыли товаропроизводителей.
- 4) Рынок обеспечивает гармонию общественных и личных интересов.
- 5) Рынок устанавливает цены на товары и услуги.

Запишите число:

1)	Ответ:	
----	--------	--

#### Задание №173

Ниже приведен ряд определений. Все они, за исключением двух, являются видами безработицы.

- 1) структурная; 2) сезонная; 3) циклическая; 4) галопирующая;
- 5) ползучая; 6) фрикционная.

Найдите два определения, «выпадающих» из общего ряда, и запишите в таблицу **цифры**, под которыми они указаны.

Запишите число:

1)	Ответ:	
----	--------	--

#### Задание №174

Ниже приведен ряд положений. Все они, за исключением двух, являются формами сбережений.

1) *открытие сберегательного счета в банке;* 2) *покупка ценных бумаг;* 3) *приобретение недвижимости;* 4) *распределение;* 5) *потребление;* 6) *страхование.*

Найдите два положения, «выпадающих» из общего ряда, и запишите в таблицу цифры, под которыми они указаны.

Запишите число:

1)

Ответ:

#### Задание №175

Ниже приведен ряд положений. Все они, за исключением двух, являются действиями рационального потребителя.

1) *стремление снизить затраты на производство;* 2) *осознание необходимости покупки;* 3) *поиск информации о товаре или услуге;* 4) *оценка возможных вариантов покупки;* 5) *увеличение объемов выпускаемой продукции;* 6) *принятие решения о покупке.*

Найдите два положения, «выпадающих» из общего ряда, и запишите в таблицу цифры, под которыми они указаны.

Запишите число:

1)

Ответ:

#### Задание №176

Ниже приведен ряд терминов. Все они, за исключением двух, являются положительными качествами в контексте экономической культуры личности.

1) *предприимчивость;* 2) *ответственность;* 3) *скупость;* 4) *новаторство;* 5) *расточительство;* 6) *бережливость.*

Найдите два термина, «выпадающих» из общего ряда, и запишите в таблицу цифры, под которыми они указаны.

Запишите число:

1)

Ответ:

#### Задание №177

Ниже приведен ряд определений. Все они, за исключением двух, являются формами регулирования государством экономической деятельности в рыночной экономике.

1) *рыночные;* 2) *административные;* 3) *избирательные;* 4) *организационные;* 5) *экономические;* 6) *законодательные.*

Найдите два термина, «выпадающих» из общего ряда, и запишите в таблицу цифры, под которыми они указаны.



Запишите число:

1)

Ответ:

### Задание №177

Установите соответствие между фактором производства и факторным доходом к каждой позиции

Укажите соответствие для всех 5 вариантов ответа:

1)	А) труд	1)	рента
2)	Б) земля	2)	заработная плата
3)	В) капитал	3)	прибыль
4)	Г) предпринимательские способности		
5)	Д) информация		

### Задание №178

Прочитайте приведенный ниже текст, в котором пропущен ряд слов.

Выберите из предлагаемого списка слова, которые необходимо вставить на место пропусков.

«Конкуренция ведет к постоянному росту эффективности (А). Она заставляет производителей избегать потерь и сокращать (Б), чтобы продавать товары по более низким, чем у других, \_\_\_\_\_ (В). Она вытесняет с \_\_\_\_\_ (Г) тех, чьи издержки являются высокими, оставляя на нем только производителей с низкими издержками. Конкуренция действует тогда, когда есть возможность выбирать среди производителей товаров, когда есть свобода появления новых \_\_\_\_\_ (Д) на рынке. В конкуренции могут участвовать круп-

ные и мелкие \_\_\_\_\_ (Е)».

Слова в списке даны в именительном падеже. Каждое слово может быть использовано только один раз.

Выбирайте последовательно одно слово за другим, мысленно заполняя каждый пропуск. Обратите внимание на то, что слов в списке больше, чем вам потребуется для заполнения пропусков. Список терминов:

- 1) фирма
- 2) издержки
- 3) ресурсы
- 4) потребление
- 5) производство
- 6) цена
- 7) продавец

- 8) рынок
- 9) покупатель

Заполните пропуски:

#### Задание №179

Прочитайте приведенный ниже текст, в котором пропущен ряд слов. Выберите из предлагаемого списка слова, которые необходимо вставить на место пропусков.

«Если \_\_\_\_\_ (А) государства превышают его доходы, возникает \_\_\_\_\_ (Б), для финансирования которого государство, как правило, выпускает облигации. Такие облигации являются \_\_\_\_\_ (В). Налогоплательщикам придется платить более высокие налоги, идущие на выплату \_\_\_\_\_ (Г) по государственному долгу. Однако значительная часть выплат будет получена самими жителями страны, поскольку ее большая часть в индустриально развитых странах идет на нужды \_\_\_\_\_ (Д) — субсидии и другие цели, напрямую выгодные групповым интересам. Кроме того, бюджетный дефицит почти неизбежно сокращает запас \_\_\_\_\_ (Е) (инструментов, машин, сооружений), остающийся в наследство будущим поколениям».

Слова в списке даны в именительном падеже. Каждое слово может быть использовано только **один** раз.

Выбирайте последовательно одно слово за другим, мысленно заполняя каждый пропуск. Обратите внимание на то, что слов в списке больше, чем Вам потребуется для заполнения пропусков. Список терминов:

- 1) распределение
- 2) перераспределение
- 3) бюджетный дефицит
- 4) государственный долг
- 5) капитал
- 6) расходы
- 7) процент
- 8) рента
- 9) факторный доход

#### Задание №180

Семья Афониных состоит из шести человек. Бабушке 65 лет, она уже не работает. Афонину Сергею 40 лет, он работает экономистом в банке. Его жене 36 лет, она учитель школы, но сейчас находится в отпуске по уходу за ребенком. Старший сын Афониных студент- первокурсник, отличник. А их дочка — ученица 5 класса.

Каковы доходы этой семьи? Запишите **цифры**, под которыми они указаны.

- 1) пособие по безработице
- 2) стипендия

- 3) дивиденды
- 4) пенсия
- 5) заработная плата
- 6) доход от предпринимательской деятельности

Запишите число:

1)	Ответ:	
----	--------	--