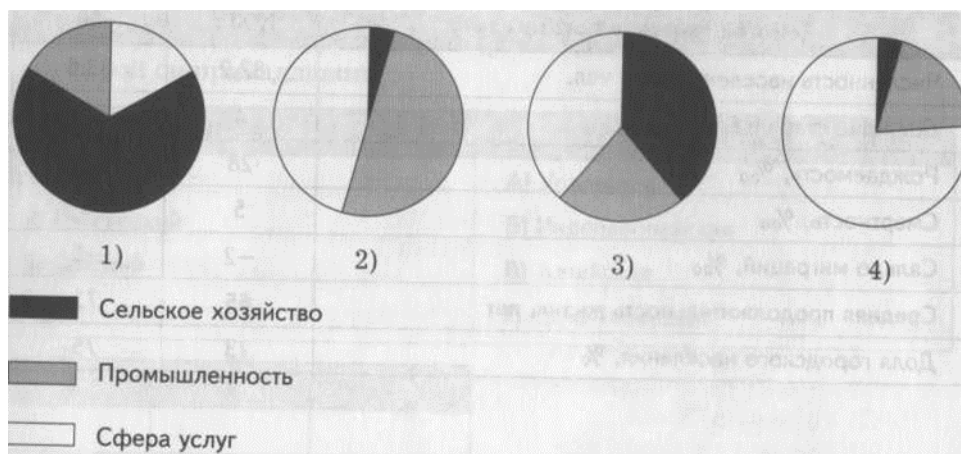


МАТЕРИАЛЫ по модулю 2
для сайта по географии 10 класс
Учитель: Юлия Владимировна Остроухова
Банк вопросов

Мировое хозяйство и научно-техническая революция(1 урок)

1. Какая из приведённых диаграмм соответствует структуре экономики страны, находящейся на постиндустриальном этапе развития?



2. Какая из перечисленных стран в настоящее время находится на индустриальном этапе развития?

- 1) Великобритания 3) Камбоджа
2) Чехия 4) Эфиопия

3. Для какой из перечисленных стран ключевым фактором размещения промышленных предприятий является её приморское положение?

- 1) Монголия 3) Япония
2) Индия 4) Испания


4. Для какой из перечисленных отраслей промышленности решающим при размещении является фактор наукоёмкости?

- 1) чёрная металлургия
2) автомобильная промышленность
3) основная химия
4) аэрокосмическая промышленность

5. Какое из перечисленных утверждений является ошибочным?

- 1) Для большинства развивающихся стран Африки характерна аграрная структура экономики.
2) С развитием НТР роль природно-ресурсного фактора в размещении производства возрастает.
3) Для размещения сборочных производств, например, автомобильной промышленности, всё большее значение приобретает фактор дешёвой рабочей силы.
4) Экономико-географическое положение страны, в отличие от её физико-географического положения, со временем может измениться в сторону его улучшения.

6. Какая из приведённых диаграмм соответствует структуре экономики страны, находящейся на аграрном этапе развития?



7. Какая из перечисленных стран в настоящее время находится на постиндустриальном этапе развития?

- 1) Южная Корея
- 2) Таиланд
- 3) Греция
- 4) Боливия

8. Для какой из перечисленных стран ключевым фактором размещения промышленных предприятий является её транзитное положение?

- 1) Египет
- 2) Белоруссия
- 3) Мексика
- 4) Австралия

9. Для какой из перечисленных отраслей промышленности решающим при размещении является природно-ресурсный фактор?

- 1) угольная
- 2) автомобильная
- 3) фармацевтическая
- 4) текстильная

10. Какая из перечисленных отраслей является наукоёмкой в большей степени?

- А) лесопиление
- Б) роботостроение
- В) автомобилестроение
- Г) вагоностроение

11. В рамках НТР взаимодействуют

- А) наука и производство
- В) наука, производство и управление
- В) наука, производство, управление и техника
- Г) наука, производство, управление, техника и технология

12. Выберите три страны, имеющие постиндустриальную структуру хозяйства.

Ответ запишите в виде последовательности букв в алфавитном порядке.

- Л) Франция В) Куба В) Индия Г) Канада Д) Великобритания Е) Сирия

13. Установите соответствие между характерной чертой НТР и её характеристикой.

ЧЕРТА	ХАРАКТЕРИСТИКА
1) универсальность, всеохватность 2) чрезвычайное ускорение научно-технических преобразований 3) повышение требований к уровню квалификации трудовых ресурсов 4) военно-техническая революция	А) ориентация на использование достижений БТР в военной области Б) преобразование отраслей хозяйства В) увеличение доли умственного труда Г) сокращение времени между научным открытием и его внедрением в производство

14. Выберите из перечисленных стран три, входящие в состав группировки ОПЕК.

- 1) Ангола 3) Иордания 5) Нигерия
2) Турция 4) ОАЭ 6) Зимбабве

Ответ запишите в виде последовательности цифр, без пропусков и знаков препинания.

15. Расположите перечисленные страны в порядке увеличения доли сферы услуг в структуре их экономики.

- Л) Лаос В) Индия
Б) Франция Г) Япония

16. Дополните определение.

Мировое хозяйство — это:

- 1) исторически сложившаяся совокупность национальных хозяйств стран мира, связанных между собой экономическими отношениями;
2) исторически сложившаяся совокупность национальных хозяйств стран мира, связанных между собой экономическими отношениями на основе международного географического разделения труда;
3) исторически сложившаяся совокупность национальных хозяйств стран мира на основе территориального разделения труда.

17. Главной предпосылкой формирования мирового хозяйства явилось:

- 1) образование мирового рынка
2) развитие крупной машинной индустрии
3) развитие транспорта

18. Ключевыми словами определения понятия «международное географическое разделение труда» являются:

- 1) группа стран 2) качественный скачок 3) наука — производительная сила 4) обмен продукцией и услугами
5) система хозяйства 6) национальная политика 7) экономические отношения

19. В эпоху НТР среди отраслей промышленности наиболее высокими темпами развиваются:

- 1) машиностроение и черная металлургия
2) черная металлургия и химия полимеров
3) химия полимеров и машиностроение.

20. Новыми факторами размещения производства в эпоху НТР стали:

- 1) фактор наукоёмкости
- 2) фактор наукоёмкости и экологический
- 3) фактор наукоёмкое, экологический, природоресурсный

21. НТР влияет на структуру хозяйства:

- 1) отраслевую
- 2) территориальную
- 3) отраслевую и территориальную.

22. Укажите, какие из перечисленных отраслей относятся к новейшим отраслям мирового хозяйства:

- 1) автомобилестроение, 2) черная металлургия, 3) судостроение, 4) робототехника, 5) тепловая электроэнергетика, 6) гениальная инженерия

23. Важнейшим фактором, определяющим размещение промышленных предприятий в Калифорнии, Баварии, на острове Хоккайдо, является фактор:

- 1) наукоёмкости 2) природно-ресурсный 3) транспортный 4) трудовых ресурсов 5) экологический

24. Важнейшим фактором, определяющим размещение промышленных предприятий на Аляске, в Северном море, в Западной Сибири, является фактор:

- 1) наукоёмкости 2) природно-ресурсный 3) транспортный 4) трудовых ресурсов 5) экологический

25. Какие три отрасли мирового хозяйства относятся к группе новых отраслей?

Ответ запишите в виде последовательности букв в алфавитном порядке.

- А) производство пластмасс
- Б) судостроение
- В) автомобилестроение
- Г) выплавка алюминия
- Д) роботостроение
- Е) микроэлектроника

26. К новейшим отраслям мировой промышленности, возникшим в эпоху НТР, относится:

- 1) каменноугольная 3) атомная энергетика
- 2) железорудная 4) автомобилестроение

27. Распределите приведенные ниже отрасли промышленности по времени своего возникновения в следующие группы:

I Старые II Новые III Новейшие

- 1) авиационная, 2) железнодорожное машиностроение, 3) судостроение, 4) черная металлургия, 5) алюминиевая, 6) медная, 7) электроника, 8) химия органического синтеза, 9) электротехника, 10) производство новых материалов, 11) химия удобрений, 12) целлюлозно-бумажная, 13) атомная, 14) аэрокосмическая, 15) производство станков с программным управлением.

28. Выделите верные утверждения:

- 1) для отраслевой структуры промышленного производства развитых стран мира характерно преобладание отраслей обрабатывающей промышленности
- 2) для отраслевой структуры хозяйства беднейших развивающихся стран характерно преобладание отраслей обрабатывающей промышленности
- 3) страны с переходной экономикой получили такое название вследствие замедления темпов роста добывающей промышленности и ускоренного развития отраслей обрабатывающей

Промышленность мира (2,3,4 урок)

1. Топливо- энергетический комплекс мира

1. На какой из перечисленных регионов мира приходится около 30 % всей мировой добычи нефти и около 60 % её разведанных запасов?

- 1) Северная Африка 3) Юго-Западная Азия
- 2) Южная Америка 4) Юго-Восточная Азия

2. В каком из вариантов ответа правильно перечислена тройка мировых лидеров по объёмам добычи нефти?

- 1) Венесуэла, Саудовская Аравия, Норвегия
- 2) Мексика, Россия, Нигерия
- 3) США, Индонезия, Венесуэла
- 4) Россия, Саудовская Аравия, США

3. Какая из перечисленных стран является крупнейшей (без учёта России) в мире по объёмам добычи природного газа?

- 1) США 3) Катар
- 2) Норвегия 4) Алжир

4. Какая электростанция в настоящее время является крупнейшей в мире по мощности?

- 1) Саяно-Шушенская (Россия)
- 2) Итайпу (Бразилия/Парагвай)
- 3) Гран-Кули (США)
- 4) «Три ущелья» (Китай)

5. Какая из перечисленных стран является мировым лидером по объёму добычи нефти?

- 1) Бразилия 3) Саудовская Аравия
- 2) Венесуэла 4) США

6. В каком из вариантов ответа правильно перечислена тройка мировых лидеров по запасам природного газа?

- 1) Россия, Ирак, Ливия 3) Россия, Кувейт, Норвегия
- 2) Россия, Мексика, Китай 4) Россия, Иран, Катар

7. На территории какой страны находится самая мощная в мире гидроэлектростанция?

- 1) Россия 2) Бразилия 3) США 4) Китай

8. Выберите из перечисленных стран три, обладающие крупнейшими в мире запасами каменного угля.

- 1) Индия 4) Германия
- 2) ЮАР 5) Китай
- 3) США 6) Россия

9. Выберите страну, которая является одним из крупнейших производителей нефти и одновременно крупным ее импортером:

- 1) Канада 2) Саудовская Аравия 3) Россия 4) Норвегия 5) США

10. Найдите единственно правильное сочетание страны и преобладающего в ней типа электростанций (по доле в выработке электроэнергии):

- 1) Швейцария — тепловые электростанции
- 2) Россия — гидроэлектростанции
- 3) Норвегия — гидроэлектростанции
- 4) Франция — тепловые электростанции
- 5) Польша — атомные электростанции

11. Какая страна лидирует в мире по объему производимой электроэнергии:

- 1) Россия 2) Германия 3) Китай 4) Япония 5) Индия 6) США 7) Канада

12. В крупных масштабах торговля сырой нефтью ведется между странами:

- 1) Мексика и Канада
- 2) Саудовская Аравия и Япония
- 3) Великобритания и Норвегия
- 4) Монголия и Китай

13. Укажите ошибку в перечне стран — экспортеров угля:

- 1) Австралия
- 2) США
- 3) ЮАР
- 4) Германия

14. В какой из перечисленных стран наиболее высока доля электроэнергии, производимой на АЭС:

- 1) Великобритания
- 2) Франция
- 3) Германия
- 4) Бельгия
- 5) США

15. Какая из перечисленных стран является лидером по потреблению энергоресурсов?

- А) Парагвай
- Б) Бразилия
- В) Турция
- Г) США

16. Из предложенного списка стран выберите три страны, являющиеся лидерами по объемам добычи нефти в мире. Ответ запишите в виде последовательности букв в алфавитном порядке.

- А) Саудовская Аравия Г) Россия
- Б) Румыния Д) США
- В) Тунис Е) Куба

17. Установите соответствие между страной и видом электростанций, производящих наибольший объём электроэнергии в ней.

СТРАНА	ВИД ЭЛЕКТРОСТАНЦИИ
1) Франция	А) АЭС
2) Норвегия	Б) ГЭС
3) Исландия	В) ГЭС
4) США	Г) ГеоЭС

18. До 1973 г. все мировое хозяйство было ориентировано на дешёвую нефть, поступающую главным образом из развивающихся стран. Какие экономические последствия имело резкое повышение цен на нефть?

Отберите верные, на ваш взгляд, положения:

а) уменьшение добычи нефти, б) поиски новых месторождений на территории промышленно развитых стран, в) увеличение добычи нефти в новых районах, в том числе на шельфе, г) возросший интерес к углю, д) увеличение добычи газа и решение проблемы его транспортировки в сжиженном виде, е) снижение закупок нефти, ж) переход на ресурсосберегающую технологию, з) развитие атомной энергетики, и) накопление богатств у стран-экспортеров нефти, к) возникновение нового центра мирового хозяйства в Юго-Западной Азии.

19. Какой показатель более полно характеризует высокий уровень развития энергетики в стране?

Отберите предложенные варианты

- а) уровень добычи топливных ресурсов
- б) высокая годовая выработка электроэнергии (более 100 млрд. кВтч)
- в) высокое душевое потребление энергии (более 1000 кВтч)
- г) большая доля выработки электроэнергии на АЭС

20. Как повлияла НТР на структуру мирового хозяйства?

- 1) возросла доля отраслей непродовольственной сферы
- 2) в структуре промышленности возросла доля отраслей, производящих сырьё и полуфабрикаты
- 3) в структуре сельского хозяйства сократилась доля животноводства
- 4) в грузообороте возросла доля воздушного транспорта

21. Наибольшая выработка электроэнергии на душу населения характерна для:

- 1) Китай 2) Японии 3) Ирана 4) США

22. Наиболее высокая доля ГЭС в производстве электроэнергии в

- 1) Бразилии 3) во Франции
- 2) Алжире 4) Иране

2. Металлургия, машиностроение мира

1. В каком ответе правильно составлена пара «страна — специализация горнодобывающей промышленности»?

- 1) Украина — нефть 3) Чили — медные руды

2) Индия — бокситы 4) Норвегия — никелевые руды

2. Какие из перечисленных стран являются крупнейшими в мире экспортёрами стали?

- 1) Япония и Китай 3) Россия и США
2) Китай и Россия 4) США и Индия

3. Третья в мире компания по производству самолётов «Bombardier» (Бомбардье) находится в

- 1) Австралии 3) Канаде
2) Бразилии 4) США

4. Какая из перечисленных стран является мировым лидером по производству металлорежущих станков?

- 1) Япония 3) США
2) ФРГ 4) Франция

5. Какое из перечисленных утверждений является верным?

1) Несмотря на растущую конкуренцию со стороны Китая, Японии и Южной Кореи, США сохраняют положение мирового лидера по количеству выпускаемых автомобилей.

2) Размещение производства меди, в отличие от производства алюминия, попрежнему определяется природно-сырьевым фактором.

3) Крупнейшими мировыми импортёрами продукции машиностроения являются Япония и Германия.

4) Поскольку содержание алюминия в бокситах невелико, большая его часть выплавляется непосредственно в районах добычи сырья.

6. Какой из перечисленных компаний был выпущен первый в истории серийный автомобиль?

- 1) «Форд» (США)
2) «Тойота» (Япония)
3) «Даймлер-Бенц» (Германия)
4) «Фиат» (Италия)

7. Какой фактор оказал основное влияние на размещение черной металлургии Японии?



- 1) Сырьевой 3) Транспортный
2) Топливный 4) Экологический

8. Какая из перечисленных стран является крупнейшей в мире (без учёта России) по запасам железных руд?

- 1) Венгрия 3) Швеция
- 2) Казахстан 4) Бразилия

9. В каком ответе правильно составлена пара «страна — специализация горнодобывающей промышленности»?

- 1) Швеция — железные руды
- 2) Марокко — алмазы
- 3) Аргентина — фосфориты
- 4) Румыния — каменный уголь

10. Какая из перечисленных стран является крупнейшим в мире импортёром стали?

- 1) Россия 2) Индия 3) США 4) Италия

11. Какое из перечисленных утверждений является верным?

1) Продукция электронной промышленности, а также бытовая и промышленная электротехника поступает на мировой рынок в основном из США и стран ЕС.

2) В отличие от нефти, большая часть каменного угля добывается в странах Южного полушария.

3) В структуре импорта экономически развитых стран доля продукции машиностроения превышает 50 %.

4) Поскольку содержание алюминия в бокситах достаточно велико, этот вид металлургического сырья в больших количествах перевозится для переработки в страны, богатые дешёвой электроэнергией.

12. Какой из перечисленных факторов является в настоящее время определяющим для размещения сборочных производств в автомобильной промышленности?

- 1) природно-ресурсный
- 2) экологический
- 3) дешёвая рабочая сила
- 4) наукоёмкость

13. Выберите из перечисленных стран три, обладающие крупнейшими в мире запасами железных руд.

- 1) Польша 4) Украина
- 2) Франция 5) Австралия
- 3) Португалия 6) Бразилия

Ответ запишите в виде последовательности цифр, без пропусков и знаков препинания.

14. Почему в большинстве промышленно развитых стран черная металлургия стала концентрироваться в крупных портовых комплексах?

Выберите верные ответы:

а) отсутствие собственной сырьевой базы для черной металлургии и ориентация на импортное сырьё; б) ориентация на более высококачественную и дешёвую железную руду, поставляемую из Швеции, Австралии, Канады, Бразилии, Индии, ЮАР (при наличии собственного сырья), в) возникновение в портах мощного энергетического хозяйства, ориентированного на импортную нефть, газ, уголь.

15. Верно ли утверждение, что машиностроение занимает первое место среди отраслей промышленности по стоимости продукции и по числу занятых?

- 1) Да
- 2) Нет

16. Какие показатели позволяют более правильно судить об уровне развития машиностроения?

Отберите верные ответы:

- а) количество производимой продукции
- б) стоимость произведенной продукции
- в) число занятых в этой отрасли

17. В автомобилестроении 80-е годы считаются эпохой новой промышленной революции. Какие показатели свидетельствуют об этом?

Укажите верные ответы:

а) роботизация отрасли, что привело к сокращению занятости в ней почти в три раза, б) внедрение автоматизированного проектирования, что позволяет в 2—8 раз сокращать время на конструирование новых моделей, в) снижение веса отдельных узлов на 15—45%, г) экономичность автомобилей, потребляющих в два раза меньше топлива, чем 10 лет назад, д) появление экологически чистых моделей (в ФРГ до 94% вновь выпускаемых машин).

18. Какие три страны входят в группу «великих горнодобывающих держав»?

Ответ запишите в виде последовательности букв в алфавитном порядке.

- Л) Ангола Г) Аргентина
- Б) США Д) Индия
- В) ЮАР Е) Германия

19. Расположите страны в порядке увеличения объема выплавки стали в них.

- А) Германия В) Китай
- Б) Мадагаскар Г) Турция

20. Какая страна является мировым лидером в экспорте автомобилей

- 1) Япония
- 2) США
- 3) Германия
- 4) Франция
- 5) Республика Корея
- 6) Россия

21. Выделите две страны, являющиеся крупнейшими производителями радиоприемников, телевизоров, часов, фотоаппаратов

- 1) Бельгия 2) Японии 3) Китай 4) Канада 5) Италия 6) Франция 7) Индонезия

22. Какие две страны из названных лидируют в производстве морских невоенных судов

- 1) Великобритания 2) Бразилия 3) Япония 4) Сингапур 5) США 6) Республика Корея

23. Крупнейшими производителями автомобилей является группа стран

- 1) Франция, Великобритания, Германия
- 2) Италия, Республика Корея, Бразилия

- 3) Германия, Испания, Австралия
- 4) Япония, США, Германия
- 5) Турция, Китай, Индия

24. Отставание развивающихся стран от развитых по объемам производства наиболее ярко выражено в

- 1) машиностроении
- 2) сельском хозяйстве
- 3) горнодобывающей промышленности
- 4) лесной промышленности

3. Химическая, лесная, лёгкая и пищевая

1. Страна, в которой леса составляют всего 8% территории, но которая при этом по заготовкам древесины входит в тройку лидеров

- 1) Финляндия
- 2) Монголия
- 3) Китай
- 4) ЮАР

2. Среди перечисленных стран лесная промышленность наиболее развита в

- 1) Канаде
- 2) Судане
- 3) Иране
- 4) Чили

3. К концу XX века в мире уменьшилось влияние на размещение промышленности фактора:

- 1) сырьевого
- 2) транспортного
- 3) экологического
- 4) энергетического

4. Какая из перечисленных стран является крупным производителем и экспортёром бумаги?

- 1) Австралия
- 2) Финляндия
- 3) Бразилия
- 4) Япония

5. Пометьте знаком «плюс» те из отраслей, которые получают преимущественное развитие на современном этапе:

- а) черная металлургия, б) цветная металлургия, в) производство новых материалов, г) химия пластмасс, д) химия удобрений, е) лесная промышленность.

6. Какая из стран является ведущим производителем натурального каучука

1. Индонезия
2. Австралия
3. Франция
4. Пакистан

7. Чем объяснить быстрый рост химии и нефтехимии в ряде развивающихся стран?

Отберите правильные ответы:

- а) индустриализацией стран, желанием создать базовые отрасли, б) наличием значительных запасов сырья, в) экспортом в эти страны «грязных» химических производств из промышленно развитых стран, г) значительным внутренним рынком этих стран, д) развитием этих отраслей с целью последующего экспорта продукции

8. Выберите группу стран — лидеров в лесной промышленности:

- 1) США, Китай, Индия, Канада
- 2) Россия, Ливия, Франция, ФРГ

- 3) Швеция, Финляндия, Канада, Австралия
- 4) Бразилия, США, Канада, Россия
- 5) Канада, США, Финляндия, Египет

9. Выделите три страны, лидирующие в производстве пластмасс в мире

- 1) Албания
- 2) Индия
- 3) Германия
- 4) Исландия
- 5) США
- 6) Япония

10. Выделите страну Европы, для которой характерен наибольший объем производства хлопчатобумажных тканей на душу населения в регионе

- 1) Россия
- 2) Италия
- 3) Франция
- 4) Германия
- 5) Португалия
- 6) Исландия

11. Выделите страну, являющуюся мировым лидером по производству тканей из натурального шелка

- 1) Франция
- 2) Польша
- 3) Япония
- 4) Бразилия
- 5) Венгрия
- 6) Бельгия

12. Выделите страну, традиционно являющуюся одним из мировых лидеров по производству льняных тканей

- 1) Аргентина
- 2) Индия
- 3) США
- 4) Австралия
- 5) Россия
- 6) Южная Корея

13. Выделите виды производств, относящихся к основной химии

- 1) производство синтетического каучука
- 2) производство серной кислоты
- 3) производство минеральных удобрений
- 4) производство химических волокон

14. Выделите группу стран, являющихся мировыми лидерами в производстве синтетического каучука:

- 1) Канада, Испания, Швеция
- 2) США, Япония, Россия
- 3) Германия, Украина, Польша
- 4) Таиланд, Турция, Южная Корея

15. Выделите вид сырья, наиболее широко используемый в текстильной промышленности:

- 1) пенька
- 2) джут
- 3) хлопок
- 4) лен-долгунец
- 5) натуральный шелк
- 6) шерсть

16. Выделите страну, являющуюся мировым лидером в производстве минеральных удобрений

- 1) Китай
- 2) США
- 3) Индия
- 4) Венгрия
- 5) Словакия
- 6) Португалия

17. Выделите страну, для которой характерны максимальные душевые объемы производства бумаги:

- 1) США
- 2) Китай
- 3) Япония
- 4) Канада
- 5) Германия
- 6) Финляндия

18. Выделите три страны Азии, заготавливающие больше всего древесины:

- 1) США
- 2) Индия
- 3) Китай
- 4) Бразилия
- 5) Индонезия
- 6) Канада

19. Определите страну, которая специализируется на добыче и экспорте фосфоритов

- 1. Мексика
- 2. Монголия
- 3. Мадагаскар
- 4. Марокко

20. Какие утверждения верны

- А. Добыча серы и солей входит в состав химической промышленности.
- Б. Производство пластмасс входит в состав химической промышленности.

1. верно только А	3. оба утверждения верны
2. верно только Б	4. оба утверждения неверны

21. Лесная и деревообрабатывающая промышленность является отраслью международной специализации

- 1. США и Канада
- 2. Канада и Алжир
- 3. Китай и Япония
- 4. Япония и Канада

Сельское хозяйство(5 урок)

1. Какие три страны специализируются на выращивании сахарного тростника?

Ответ запишите в виде последовательности букв в алфавитном порядке.

- А) Швеция
- Б) Франция
- В) Украина
- Г) Колумбия
- Д) Германия
- Е) Ливия

2. Наиболее распространенными зерновыми культурами в мире являются

- 1) пшеница, рис, рожь
- 2) кукуруза, рис, пшеница
- 3) кукуруза, рис, ячмень

3. Найдите ошибку в списке стран — экспортеров пшеницы

- 1) США
- 2) Канада
- 3) Австралия
- 4) Аргентина
- 5) Бразилия

4. Какая страна имеет самое большое поголовье крупного рогатого скота
- 1) США
 - 2) Россия
 - 3) Индия
 - 4) Аргентина
 - 5) Австралия
 - 6) Канада
5. «Зеленая революция» — это
- 1) рост религиозной активности в исламских странах
 - 2) активизация деятельности международных экологических организаций
 - 3) внедрение новейших технологий в сельское хозяйство
6. Понятие «зелёная революция» в земледелии включает в себя
1. увеличение площадей под традиционными культурами
 2. введение новых высокоурожайных культур
 3. значительное расширение посевов кормовых культур за счёт уменьшения площадей под зерновыми
 4. переход от использования преимущественно естественных удобрений к использованию преимущественно искусственных удобрений и ядохимикатов
7. В какой из перечисленных стран сельское хозяйство имеет наибольшую долю в структуре ВВП?
- 1) США
 - 2) Южная Корея
 - 3) Индия
 - 4) Сингапур
8. Какая из перечисленных стран является крупным экспортёром пшеницы?
- 1) Канада
 - 2) Бразилия
 - 3) Китай
 - 4) Турция
9. В каком из ответов правильно перечислены главные культуры, на которые в совокупности приходится более 80 % мирового валового сбора зерновых?
- 1) пшеница, рис, ячмень
 - 2) рис, пшеница, кукуруза
 - 3) кукуруза, рожь, пшеница
 - 4) рис, пшеница, овёс
10. Большая часть мирового сбора риса приходится на страны
- 1) Северной Америки
 - 2) Африки
 - 3) Южной Америки
 - 4) Азии
11. Какое из перечисленных утверждений является верным?
- 1) Основная сахароносная культура тропического пояса — сахарная свёкла.
 - 2) Специализация сельского хозяйства стран Южной Европы — цитрусовые и оливки.
 - 3) Мировым лидером по сбору сои является Китай.
 - 4) Родина кофе, Восточная Африка, до сих пор остаётся главным мировым районом его производства.
12. Какая из перечисленных стран специализируется на тонкорунном овцеводстве?
- 1) Австралия
 - 2) Португалия
 - 3) Алжир
 - 4) Венгрия

13. В каком из ответов правильно составлена пара «страна — экспортная сельскохозяйственная культура»?

- 1) Канада — рис 3) Испания — оливки
2) Бразилия — картофель 4) Франция — бананы

14. Установите соответствие между страной и её сельскохозяйственной специализацией.

Страна	С/х специализация
1) Белоруссия	А) Цитрусовые
2) Индия	Б) Хлопчатник
3) Турция	В) Какао
	Г) Картофель

15. Из перечисленных стран выберите три, являющиеся крупнейшими экспортёрами пшеницы.

- 1) Польша 4) Канада
2) США 5) Бразилия
3) Турция 6) Австралия

Ответ запишите в виде последовательности цифр, без пропусков и знаков препинания.

16. Расположите перечисленные страны в порядке увеличения их поголовья крупного рогатого скота.

- А) Аргентина
Б) США
В) Индия
Г) Бразилия

17. В какой из перечисленных стран впервые появилось понятие «зелёная революция»?

- 1) США 3) Китай
2) Мексика 4) Аргентина

18. В каком из ответов правильно перечислены главные культуры, на которые в совокупности приходится более 90 % мирового валового сбора масличных?

- 1) соя, олива, подсолнечник
2) арахис, соя, лён-кудряш
3) масличная пальма, арахис, рапс
4) масличная роза, подсолнечник, олива

19. Какая из перечисленных стран является крупнейшим мировым экспортёром кукурузы?

- 1) Мексика 2) Чили 3) США 4) Турция

20. Большая часть мирового сбора кукурузы приходится на страны

- 1) Северной Америки 3) Южной Америки
2) Африки 4) Азии

21. Какое из перечисленных утверждений является верным?

- 1) Основная масличная культура умеренного пояса — олива.
2) Специализация зернового хозяйства стран Южной Азии — пшеница.
3) Мировым лидером по сбору сои являются США.
4) Большая часть мирового сбора какао приходится на Бразилию

22. Самое большое в мире поголовье свиней имеет

- 1) США 3) Германия
- 2) Китай 4) Австралия

23. Какая из перечисленных стран специализируется на производство цитрусовых?

- 1) Болгария 3) Япония
- 2) Таиланд 4) Марокко

24. Н каком из ответов правильно составлена пара «страна — экспортная сельскохозяйственная культура»?

- 1) Вьетнам — рис
- 2) Польша — кукуруза
- 3) Португалия — пшеница
- 4) Норвегия — картофель

25. Установите соответствие между страной и её сельскохозяйственной специализацией.

Страна	С/х специализация
1) Австралия 2) Бангладеш 3) Испания	А) Цитрусовые Б) Пшеница В) Джут Г) Кофе

26. Крупнейшим экспортером какао в мире является:

- 1) Мексика 3) Египет
- 2) Кот-д'Ивуар 4) ЮАР

27. Крупнейшими районами овцеводства являются

- 1) саванна и полупустынные территории Австралии
- 2) прерии Северной Америки
- 3) пустынные территории Африки
- 4) пампа и горы Латинской Америки

28. Страна, где молочное животноводство является отраслью специализации

- 1) Иран и Турция
- 2) Дания и Швеция
- 3) Греция и Португалия
- 4) Египет и Алжир

29. Крупнейший регион по производству какао-бобов

- 1) Южная Азия
- 2) Латинская Америка
- 3) Северная Африка
- 4) Западная Африка

30. Страна с аграрной структурой хозяйства

- 1) Кувейт
- 2) Республика Корея
- 3) Польша
- 4) Эфиопия

Мировой транспорт. Мировая торговля и сфера услуг (6 урок)

1. Укажите вариант, в котором названы две страны, по территории которых проходят важнейшие для мирового хозяйства каналы:

- 1) Греция, Россия
- 2) Германия, Дания
- 3) Панама, Египет
- 4) Италии, Бельгия

2. В мировых грузоперевозках преобладает транспорт:

- 1) авиации
- 2) трубопроводный
- 3) железнодорожный
- 4) автомобильный
- 5) морской
- 6) речной

3. Какие страны являются лидерами по тоннажу морского торгового флота:

- 1) Норвегия, США, Япония
- 2) Либерия, Норвегия, США
- 3) Либерия, Панама, Япония

4. В каких группах стран более 90% всех внешнеторговых перевозок обеспечивает морской транспорт:

- 1) Германия, Чехия, Франция
- 2) Япония, Великобритания, Австралия
- 3) Венгрия, Болгария, Бразилия
- 4) Швейцария, Швеция, Канада

5. Выберите из списка три страны, в которых международный туризм является отраслью специализации:

- 1) Таиланд 2) Чад 3) Греция 4) Канада 5) Египет 6) Австралия

6. Расположите регионы мира в порядке увеличения количества туристов их посещающих

- А) Германия
- В) Франция
- В) Намибия
- Г) Бразилия

7. Установите соответствие между портом и страной, в пределах которой он расположен.

ПОРТ	СТРАНА
1) Марсель	А) Египет
2) Пусан	В) Франция
3) Александрия	В) США
4) Тампа	Г) Республика Корея

8. Какие из перечисленных форм можно отнести к вывозу капитала:

- а) предоставление государством займа под проценты
- б) предоставление кредита (денег или товара в долг на условиях возврата) с уплатой процентов
- в) долгосрочное вложение средств в развитие конкретных видов хозяйственной

деятельности (инвестиция)

9. Какие виды транспорта получили преимущественное развитие на современном этапе:

- а) железнодорожный
- б) морской
- в) речной
- г) автомобильный
- д) трубопроводный

10. На какой из перечисленных видов транспорта приходится наибольшая доля в мировом пассажирообороте?

- 1. железнодорожный
- 2. автомобильный
- 3. авиационный
- 4. морской

11. Наибольшая суммарная протяжённость железных дорог в

- 1) Индии
- 2) Бразилии
- 3) России
- 4) Австралии

12. Какой из перечисленных морских портов является крупнейшим ни грузообороту в Европе?

- 1) Роттердам
- 2) Марсель
- 3) Гамбург
- 4) Барселона

13. Какой из перечисленных морских каналов связывает Средиземное море и Красное?

- 1) Панамский
- 2) Кильский
- 3) Суэцкий
- 4) Каледонский

14. Какой из перечисленных регионов является мировым лидером по объёмам авиаперевозок?

- 1) Северная Америка
- 2) Европа
- 3) Азия
- 4) Латинская Америка

15. Среди европейских стран наибольшее количество туристов принимает

- 1) Португалия
- 2) Великобритания
- 3) Франция
- 4) Норвегия

16. В какой из перечисленных стран морские курорты наиболее популярны в январе?

- 1) Испания
- 2) Австралия
- 3) Португалия
- 4) Франция

17. Какое из перечисленных утверждений является верным?

- 1) Венгерские морские курорты становятся всё более популярными среди европейских туристов.
- 2) Главную роль в международных перевозках туристов играет автомобильный и авиационный транспорт.
- 3) Наибольшее число иностранных туристов в год принимает Китай.

4) США являются мировым лидером по доле доходов от международного туризма в ВВП страны.

18. Среди перечисленных стран выберите три, входящие в группу стран «дешевого флага».

- 1) Мальта 4) Панама
- 2) Япония 5) Либерия
- 3) Германия 6) Финляндия

Ответ запишите в виде последовательности цифр, без пропусков и знаков препинания.

19. Наибольшим автомобильным парком среди перечисленных стран обладает

- 1) Япония 3) Франция
- 2) Италия 4) Великобритания

20. На какой из перечисленных видов транспорта приходится наибольшая доля в мировом грузообороте?

- 1) железнодорожный 3) авиационный
- 2) автомобильный 4) морской

21. Наибольшая густота железнодорожной сети в

- 1) США 3) Индии
- 2) Бразилии 4) Бельгии

22. Какой из перечисленных морских портов является крупнейшим по грузообороту в Азии?

- 1) Сянган 3) Иокогама
- 2) Сингапур 4) Гаосюн

23. В какой из перечисленных стран морские курорты наиболее популярны в июле?

- 1) Новая Зеландия
- 2) Австралия
- 3) Аргентина
- 4) Италия

24. Среди азиатских стран наибольшее количество туристов принимает

- 1) Китай 3) Индия
- 2) Пакистан 4) Индонезия

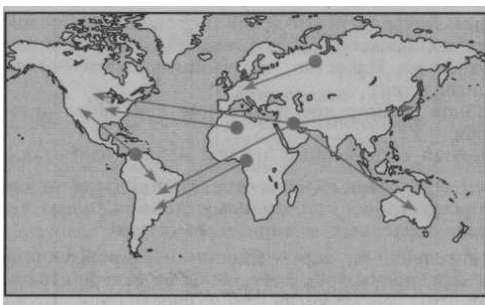
25. Какая из перечисленных стран является крупнейшей по объемам авиаперевозок?

- 1) Великобритания 3) Германия
- 2) Франция 4) Япония

26. Какое из перечисленных утверждений является верным?

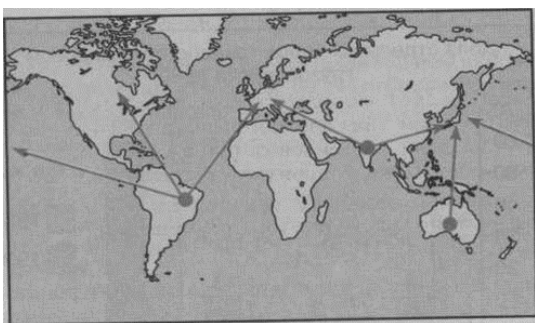
- 1) Францию ежегодно посещает больше туристов, чем любую другую страну мира.
- 2) Главную роль в международных перевозках туристов играет! железнодорожный и морской транспорт.
- 3) Крупнейшим регионом мира по числу принимаемых иностранных туристов является Северная Америка.
- 4) Наиболее разнообразными рекреационными ресурсами обладают страны Северной Европы.

27. На карте мира показаны главные международные грузопотоки:



- 1) каменного угля 3) железной руды
2) нефти 4) бокситов

28. | На карте мира показаны главные международные грузопотоки:



- 1) каменного угля 3) железной руды
2) нефти 4) бокситов

29. Установите соответствие между видом транспорта и регионом, в структуре внутреннего грузооборота которого он преобладает.

Вид транспорта	Регион
1. автомобильный	А. Южная Азия
2. железнодорожный	Б. Западная Европа
3. трубопроводный	В. Ближний и Средний Восток
	Г. Тропическая Африка

30. Установите соответствие между показателем, характеризующий отдельный вид транспорта, и страной, для которой характерен этот показатель.

Показатель транспорта	Страна
1. наибольший тоннаж торгового флота	А. Швейцария
2. наибольшая густота автомобильных дорог	Б. Панама
3. наибольшая протяженность газопроводов	В. Бразилия
	Г. Россия

Международная специализация, интеграция (7 урок)

1. Какое сочетание «страна — международная экономическая специализация» является верным?
 1. Аргентина — природный газ
 2. Индия — пшеница
 3. Венесуэла — нефть
 4. Австралия — автомобили
2. В какую из перечисленных политико-экономических группировок входят страны Северной Америки?
 - 1) НАФТА
 - 2) АСЕАН
 - 3) ОПЕК
 - 4) ЕС
3. Международная группировка ОПЕК объединяет страны-экспортёры
 - 1) медного концентрата
 - 2) нефти
 - 3) пшеницы
 - 4) стали
4. Какое сочетание «страна — международная экономическая специализация» является верным?
 - 1) Бразилия — каменный уголь
 - 2) Швеция — нефть
 - 3) США — хлопок
 - 4) Япония — рис
5. Какая из перечисленных политико-экономических группировок объединяет страны Юго-Восточной Азии?
 - 1) НАФТА
 - 2) АСЕАН
 - 3) ОПЕК
 - 4) АТЭС
6. Международная группировка НАФТА объединяет страны
 1. Африки
 2. Северной Америки
 - 3) Австралии и Океании
 - 4) Южной Америки
7. Какая из перечисленных стран занимает первое место в мире по количеству учёных?
 - А) Великобритания
 - Б) Япония
 - В) США
 - Г) Германия
8. Какая из перечисленных стран лидирует по количеству пользователей интернетом?
 - А) Польша
 - Б) США
 - В) Венесуэла
 - Г) Ангола
9. Для какой из перечисленных стран автомобилестроение является отраслью международной специализации?

Л) Нигерия Б) Монголия В) Япония Г) Гватемала

10. Выберите три страны, являющиеся членами ОПЕК.

Ответ запишите в виде последовательности букв в алфавитном порядке.

Л) Алжир Б) Венесуэла В) Россия Г) США Д) Норвегия Е) ОАЭ

11. Установите соответствие между страной и международной организацией, членом которой она является.

СТРАНА ОРГАНИЗАЦИЯ

- | | |
|--------------|----------|
| 1) Катар | Л) АСЕАН |
| 2) Мексика | Б) ЕС |
| 3) Индонезия | В) ОПЕК |
| 4) Германия | Г) НАФТА |

12. Установите соответствие между страной и экономической группировкой, к которой она принадлежит.

Страна Экономическая группировка

- | | |
|--------------|----------|
| 1) Таиланд | А) НАФТА |
| 2) Мексика | Б) АСЕАН |
| 3) Венесуэла | В) СНГ |
| | Г) ОПЕК |

13. Выберите из перечисленных стран три, входящие в состав группировки АТЭС.

- | | | |
|-----------|-------------|--------------|
| 1) Турция | 3) Япония | 5) США |
| 2) Латвия | 4) Норвегия | 6) Австралия |

14. Установите соответствие между страной и экономической группировкой, к которой она принадлежит.

Страна Экономическая группировка

- | | |
|--------------|----------|
| 1) Латвия | А) СНГ |
| 2) Филиппины | Б) АСЕАН |
| 3) Алжир | В) ЕС |
| | Г) ОПЕК |

15. Международная организация МАГАТЭ занимается вопросами:

- 1) экспорта нефти
- 2) развития черной металлургии
- 3) атомной энергетики
- 4) угольной промышленности