

345 58,4%
Код: Г - 10 - 84

Школьный этап Всероссийской олимпиады по географии.
10-11 Класс Тестовый тур

1. Выберите из предложенного списка страну, являющуюся конституционной монархией.

- А. Франция -
- Б. Бразилия -
- В. Саудовская Аравия -
- Г. Алжир -
- ✓ Д. Япония

2. Выберите из списка страну, не входящую в «десятку» стран-гигантов по площади:

- А. Канада -
- Б. Индия -
- В. Россия -
- ✓ Г. Египет
- Д. Австралия -

3. Что общего у Финляндии, Польши, Швеции и Австрии?

- А. Являются членами НАТО -
- Б. Граничат с Российской Федерацией -
- В. Являются странами ОПЕК -
- ✓ Г. Являются странами ЕС
- Д. Являются нейтральными странами -

4. Что не является основной формой организации производства?

- ✓ А. Аккредитация
- Б. Специализация -
- В. Кооперирование -
- Г. Концентрация -
- Д. Комбинирование -

5. Размещение предприятий по выплавке тяжелых металлов определяет фактор ...

- А. Трудовые ресурсы -
- ✓ Б. Сырье -
- В. Наличие квалифицированных кадров -
- Г. Топливо -
- Д. Дешевая электроэнергия

6. Определите в предложенном списке страну "переселенческого капитализма":

- А. США -
- Б. Бразилия -
- ✓ В. Новая Зеландия -
- Г. Аргентина -

7. Какой стране принадлежит лозунг демографической политики «Нас двое - нам двоих»:

- ✓ А. Индия
- Б. Китай -
- В. США -
- Г. Аргентина -
- Д. Испания -

8. Определите страну с большой численностью и высокой плотностью населения, она является крупнейшим производителем автомобилей, морских судов и промышленных роботов, в ней развито рыболовство и производство риса:

- А. Республика Корея
- ✓ Б. Япония
- В. Индонезия -
- Г. Китай -
- Д. Филиппины -

9. Россия имеет только морскую границу с:

- А. Норвегией -
- Б. Монголией -
- В. Молдавией -
- Г. Украиной -

✓ Д. Японией

10. Какая из перечисленных стран фактически является суверенной, однако формально ее главой считается британская королева:

- А. Индонезия -
- Б. Египет -
- ✓ В. Австралия
- Г. Аргентина -
- Д. Ирландия -

11. В каком из перечисленных регионов мира нет государств с монархической формой правления:

- А. Африка -
- Б. Азия -
- В. Европа -
- ✓ Г. Америка

12. Половина жителей этой европейской страны проживает ниже уровня океана. Для защиты от катастрофических наводнений вдоль морского берега выстроены мощные дамбы и плотины. Устья рек во время морского прилива закрываются шлюзами. По одну сторону дамб – поля и луга, многолюдные города, по другую – море с кораблями, проплывающими выше селений. Назовите страну, море, омывающее ее берега, и её столицу.

Название страны: Италия

Название моря: Средиземное

Название столицы: Рим

13. Укажите, какие из перечисленных стран являются внутриконтинентальными:

- А. Швейцария
- Б. Япония
- В. Белоруссия
- Г. Казахстан
- Д. Монголия
- Е. Греция
- Ж. Дания
- З. Великобритания

14. Какие три из перечисленных метода решения экологических проблем относятся к интенсивным?

Ответ запишите в виде последовательности букв в алфавитном порядке:

- А замена металла на современные композитные материалы в сооружениях и механизмах
- Б разработка новых месторождений полезных ископаемых
- В использование бытовых и производственных отходов в качестве сырья для производства новых изделий
- Г создание на производстве замкнутых циклов использования ресурсов
- Д увеличение глубины угольных шахт, позволяющее разрабатывать ранее недоступные пласты

15. В каком регионе в 90-е годы произошли самые крупные изменения на политической карте:

- А. Северная Америка -
- Б. Африка -
- ✓ В. Зарубежная Европа
- Г. Латинская Америка -
- Д. Зарубежная Азия -

Аналитический тур

Задание №1. На рисунках вы видите 4 сельскохозяйственные культуры, отличающиеся по условиям произрастания, сбора и использованию. Определите эти культуры и заполните таблицу.









Фото	Культура	Районы- лидеры по сбору культуры	Использование культуры
A	Сахарная свекла	Север России	
B	Кукуруза		
C	Пшеница		хлеб
D	Виноград	Италия, Юг России	вино

Задание №2. Школьники Федор и Николай собираются в летний полевой географический лагерь на берег Телецкого озера. Им предстоит изучить рельеф и провести картографирование территории. Какие из перечисленных приборов пригодятся ребятам непосредственно для решения их задач? Внесите названия «полезных» приборов в таблицу, дав каждому из них краткую характеристику.

Курвиметр, психрометр, осадкомер, квадрант, барометр, астролябия, термометр, флюгер, нивелир, эхолот, анемометр, гироскоп, батометр, гигрометр, снегомерная рейка, бур, волнограф, GPS-навигатор, компас, сейсмограф.

№ п/п	Прибор	Измеряемая характеристика	Единица измерения
1	Компас		
2			
3			
4			
5			
6			
7			
8			

		Париж	Франция
Д		Нью-Йорк	США
Е		Нью-Дели	Индия
Ж		Сидней	Австралия
З		Венеция	Италия

Кратко опишите символ/символы городов:

- А. Статуя Христа-Спасителя, 95
- Б. Биг-Бен, Тауэрский мост, London eye, Букингемский дворец. 15
- В. Кремль, Собор Василия Блаженного. 15
- Г. Эльбурская Башня, 95
- Д. Статуя Свободы, 95
- Е. Тадж-Махал, —
- Ж. Музыкальный театр, 95
- З. Байдарки (сани), —

22
15
37

(37)

7

4

115