

458

77,4%

Код: Г - 10 - 78

Школьный этап Всероссийской олимпиады по географии
10-11 Класс Тестовый тур

1. Выберите из предложенного списка страну, являющуюся конституционной монархией.

- А. Франция
- Б. Бразилия
- В. Саудовская Аравия
- Г. Алжир
- Д. Япония

2. Выберите из списка страну, не входящую в «десятку» стран-гигантов по площади:

- А. Канада
- Б. Индия
- В. Россия
- Г. Египет
- Д. Австралия

3. Что общего у Финляндии, Польши, Швеции и Австрии?

- А. Являются членами НАТО
- Б. Граничат с Российской Федерацией
- В. Являются странами ОПЕК
- Г. Являются странами ЕС
- Д. Являются нейтральными странами

4. Что не является основной формой организации производства?

- А. Аккредитация
- Б. Специализация
- В. Кооперирование
- Г. Концентрация
- Д. Комбинирование

5. Размещение предприятий по выплавке тяжелых металлов определяет фактор ...

- А. Трудовые ресурсы
- Б. Сырье
- В. Наличие квалифицированных кадров
- Г. Топливо
- Д. Дешевая электроэнергия

6. Определите в предложенном списке страну "переселенческого капитализма":

- А. США
- Б. Бразилия
- В. Новая Зеландия
- Г. Аргентина

7. Какой стране принадлежит лозунг демографической политики «Нас двое - нам двоих»:

- А. Индия
- Б. Китай
- В. США
- Г. Аргентина
- Д. Испания

8. Определите страну с большой численностью и высокой плотностью населения, она является крупнейшим производителем автомобилей, морских судов и промышленных роботов, в ней развито рыболовство и производство риса:

- А. Республика Корея
- Б. Япония
- В. Индонезия
- Г. Китай
- Д. Филиппины

9. Россия имеет только морскую границу с:

- А. Норвегией
- Б. Монголией
- В. Молдавией
- Г. Украиной
- ✓ Д. Японией

10. Какая из перечисленных стран фактически является суверенной, однако формально ее главой считается британская королева:

- А. Индонезия
- ✓ Б. Египет
- ✓ В. Австралия
- Г. Аргентина
- Д. Ирландия

11. В каком из перечисленных регионов мира нет государств с монархической формой правления:

- А. Африка
- Б. Азия
- ✓ В. Европа
- ✓ Г. Америка

12. Половина жителей этой европейской страны проживает ниже уровня океана. Для защиты от катастрофических наводнений вдоль морского берега выстроены мощные дамбы и плотины. Устья рек во время морского прилива закрываются шлюзами. По одну сторону дамб – поля и луга, многолюдные города, по другую – море с кораблями, проплывающими выше селений. Назовите страну, море, омывающее ее берега, и её столицу

✓ Название страны: Нидерланды Название моря: Северное море
 Название столицы: Амстердам Фризское море.

13. Укажите, какие из перечисленных стран являются внутриконтинентальными:

- ✓ А. Швейцария, Б. Япония, В. Белоруссия, Г. Казахстан, Д. Монголия, Е. Греция, Ж. Дания, З. Великобритания

14. Какие три из перечисленных метода решения экологических проблем относят к интенсивным?

✓ Ответ запишите в виде последовательности букв в алфавитном порядке:

- ✓ А. замена металла на современные композитные материалы в сооружениях и механизмах
- ✓ Б. разработка новых месторождений полезных ископаемых
- ✓ В. использование бытовых и производственных отходов в качестве сырья для производства новых изделий
- ✓ Г. создание на производстве замкнутых циклов использования ресурсов
- Г. увеличение глубины угольных шахт, позволяющее разрабатывать ранее недоступные пласты

15. В каком регионе в 90-е годы произошли самые крупные изменения на политической карте:

- А. Северная Америка
- Б. Африка
- ✓ В. Зарубежная Европа
- Г. Латинская Америка
- Д. Зарубежная Азия

10

25

25

15

15

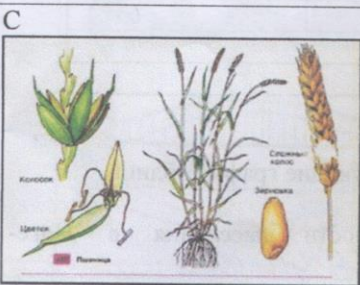
19

Аналитический тур

Задание №1. На рисунках вы видите 4 сельскохозяйственные культуры, отличающиеся по условиям произрастания, сбора и использованию. Определите эти культуры и заполните таблицу



лен
льня



виноград

Фото	Культура	Районы- лидеры по сбору культуры	Использование культуры
A	лен	Ленинград	текстиль
B	льня		текстиль
C	пшеница	Липецкая	продуктовая
D	виноград	Краснодарский край	продуктовая

Задание №2. Школьники Федор и Николай собираются в летний полевой географический лагерь на берег Телецкого озера. Им предстоит изучить рельеф и провести картографирование территории. Какие из перечисленных приборов пригодятся ребятам непосредственно для решения их задач? Внесите названия «полезных» приборов в таблицу, дав каждому из них краткую характеристику

Курвиметр, психрометр, осадкомер, квадрант, барометр, астролябия, термометр, флюгер, нивелир, эхолот, анемометр, гироскоп, батометр, гигрометр, снегомерная рейка, бур, волнограф, GPS-навигатор, буссоль, компас, сейсмограф.

№ п/п	Прибор	Измеряемая характеристика	Единица измерения
1	Турбишетр	кривая линии	метр
2	Долпас	направление	градус
3	GPS-навигатор	источник сигнала	градус
4	Астролябия	угол наклона	градус
5	Флюгер	направление	градус
6	Буссоль		градус
7	Анемометр		
8	Испрометр		

7777
55

Задание №3. О каком субъекте Российской Федерации идет речь в описании?

Эта территория входит в состав Европейского Севера. Основным богатством, которой являются лесные и водные ресурсы. Рельеф территории сформировался под действием ледников. Этот край называют «краем озер и гранита». Отраслью специализации является целлюлозно-бумажная промышленность. Перечислите субъекты Российской Федерации, с которыми граничит эта территория. С какими экологическими проблемами сталкиваются жители региона?

субъект: Республика Карелия
 граничит: Мурманская область
 проблемы: кислотные осадки, загрязнение, мусор → мусорники

Задание №4. Проанализируйте данные таблицы «Демографические показатели некоторых стран мира в 2012 г.»:

Страна	Рождаемость	Смертность	Естественный прирост
Нигер	48	13	35 ✓
Мексика	19	5	14 ✓
ФРГ	8	11	-3 ✓
Мир в целом	19	8	11 ✓




Задания:

А. Определите естественный прирост и запишите ответы в соответствующие графы таблицы.

Б. Объясните причины (не менее 2-х) высокой смертности населения в Нигере:
 Антисанитария, мало развитая медицина.

В. Какие демографические проблемы (не менее 2-х) характерны для ФРГ в связи с низкой рождаемостью:
 демографическая яма, старение населения.

Задание №5. Определите город по силуэту, запишите в таблицу его название и страну, в которой он находится.

	Силуэт	Город	Страна
А		Рио-де-Жанейро	Бразилия
Б		Лондон	Великобритания (Англия)
В		Москва	Россия

		Париж	Франция 2,5
Д		Вашингтон	США 0,5
Е		Дубай	ОАЭ 1
Ж		Сидней	Австралия 1,5
З		Венеция	Италия 1,5

Кратко опишите символ/символы городов:

- А. Эрмитаж Санкт-Петербург 0,5
- Б. Tower Bridge (Тауэр Бридж) - мост, колесо обозрения 1,5
- В. Кремль, собор Василия Блаженного 1,5
- Г. Золотые ворота 0,5
- Д. ~~Золотые ворота~~ Матейки входы 0,5
- Е. ~~Матейки входы~~ Лиги-Малом 1
- Ж. Сиднейские опера 0,5
- З. Венеция Венеция 0,5

17

44

3,5
1,5
1,5
1,5